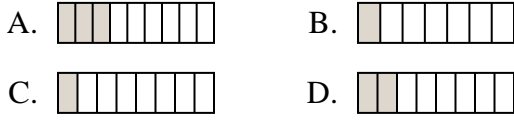




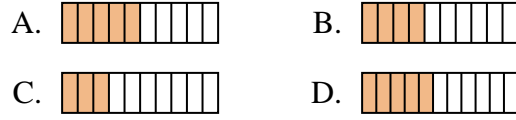
Stelle fest, welche Wahlmöglichkeit die Frage beantwortet.

Antworten

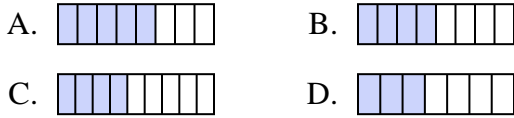
1) Welche der unten stehenden Figuren ist so schattiert, dass sie  $\frac{2}{8}$  darstellt?



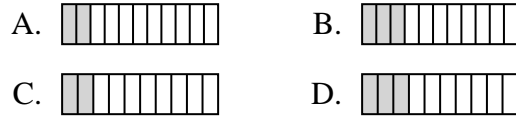
2) Welche der unten stehenden Figuren ist so schattiert, dass sie  $\frac{4}{10}$  darstellt?



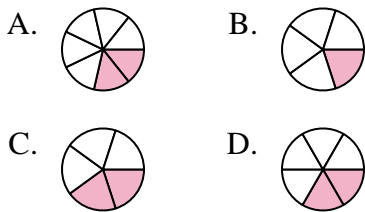
3) Welche der unten stehenden Figuren ist so schattiert, dass sie  $\frac{4}{8}$  darstellt?



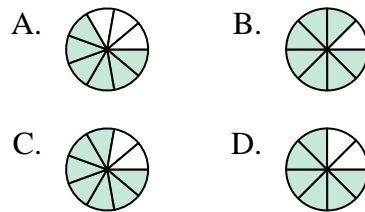
4) Welche der unten stehenden Figuren ist so schattiert, dass sie  $\frac{2}{10}$  darstellt?



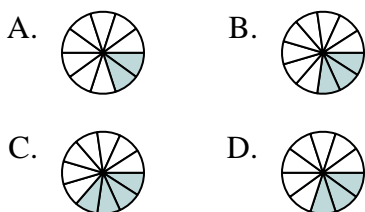
5) Welche der unten stehenden Figuren ist so schattiert, dass sie  $\frac{2}{6}$  darstellt?



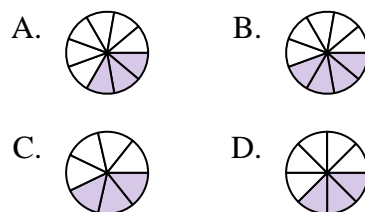
6) Welche der unten stehenden Figuren ist so schattiert, dass sie  $\frac{6}{8}$  darstellt?



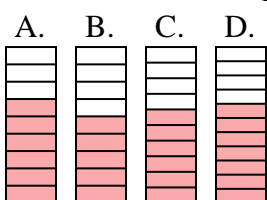
7) Welche der unten stehenden Figuren ist so schattiert, dass sie  $\frac{3}{10}$  darstellt?



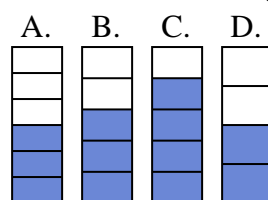
8) Welche der unten stehenden Figuren ist so schattiert, dass sie  $\frac{3}{8}$  darstellt?



9) Welche der unten stehenden Figuren ist so schattiert, dass sie  $\frac{6}{10}$  darstellt?



10) Welche der unten stehenden Figuren ist so schattiert, dass sie  $\frac{3}{5}$  darstellt?



1. \_\_\_\_\_
2. \_\_\_\_\_
3. \_\_\_\_\_
4. \_\_\_\_\_
5. \_\_\_\_\_
6. \_\_\_\_\_
7. \_\_\_\_\_
8. \_\_\_\_\_
9. \_\_\_\_\_
10. \_\_\_\_\_



Stelle fest, welche Wahlmöglichkeit die Frage beantwortet.

**Antworten**


1) Welche der unten stehenden Figuren ist so schattiert, dass sie  $\frac{2}{8}$  darstellt?



2) Welche der unten stehenden Figuren ist so schattiert, dass sie  $\frac{4}{10}$  darstellt?



3) Welche der unten stehenden Figuren ist so schattiert, dass sie  $\frac{4}{8}$  darstellt?



4) Welche der unten stehenden Figuren ist so schattiert, dass sie  $\frac{2}{10}$  darstellt?



5) Welche der unten stehenden Figuren ist so schattiert, dass sie  $\frac{2}{6}$  darstellt?



6) Welche der unten stehenden Figuren ist so schattiert, dass sie  $\frac{6}{8}$  darstellt?



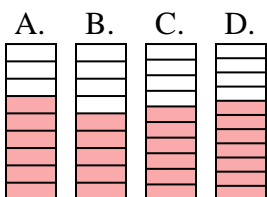
7) Welche der unten stehenden Figuren ist so schattiert, dass sie  $\frac{3}{10}$  darstellt?



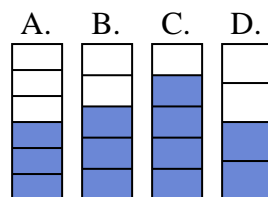
8) Welche der unten stehenden Figuren ist so schattiert, dass sie  $\frac{3}{8}$  darstellt?



9) Welche der unten stehenden Figuren ist so schattiert, dass sie  $\frac{6}{10}$  darstellt?



10) Welche der unten stehenden Figuren ist so schattiert, dass sie  $\frac{3}{5}$  darstellt?

1.   **D**  2.   **B**  3.   **B**  4.   **C**  5.   **D**  6.   **D**  7.   **D**  8.   **D**  9.   **C**  10.   **B**