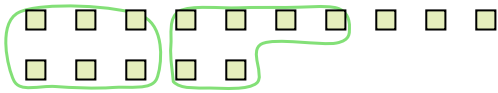





Verwende die Beispiele mit den Figuren im Feld zur Beantwortung der Fragen.

Antworten

Bsp) Es gibt 15 Figuren unten. Wie viele Gruppen mit 6 kannst du daraus machen? Wie viele Figuren wirst du übrig haben?



1) Es gibt 18 Figuren unten. Wie viele Gruppen mit 3 kannst du daraus machen? Wie viele Figuren wirst du übrig haben?



Bsp. 2 3

1. _____

2. _____

3. _____

4. _____

5. _____


6. _____

7. _____

8. _____

9. _____

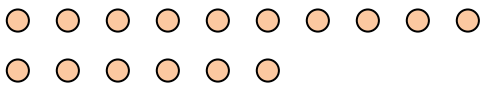
2) Es gibt 27 Figuren unten. Wie viele Gruppen mit 4 kannst du daraus machen? Wie viele Figuren wirst du übrig haben?



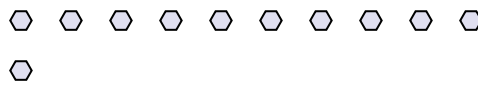
3) Es gibt 11 Figuren unten. Wie viele Gruppen mit 2 kannst du daraus machen? Wie viele Figuren wirst du übrig haben?



4) Es gibt 16 Figuren unten. Wie viele Gruppen mit 4 kannst du daraus machen? Wie viele Figuren wirst du übrig haben?



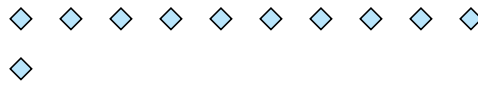
5) Es gibt 11 Figuren unten. Wie viele Gruppen mit 9 kannst du daraus machen? Wie viele Figuren wirst du übrig haben?




6) Es gibt 16 Figuren unten. Wie viele Gruppen mit 6 kannst du daraus machen? Wie viele Figuren wirst du übrig haben?



7) Es gibt 11 Figuren unten. Wie viele Gruppen mit 3 kannst du daraus machen? Wie viele Figuren wirst du übrig haben?



8) Es gibt 30 Figuren unten. Wie viele Gruppen mit 6 kannst du daraus machen? Wie viele Figuren wirst du übrig haben?



9) Es gibt 20 Figuren unten. Wie viele Gruppen mit 4 kannst du daraus machen? Wie viele Figuren wirst du übrig haben?

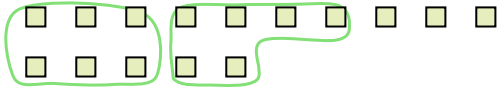





Verwende die Beispiele mit den Figuren im Feld zur Beantwortung der Fragen.

Antworten

Bsp) Es gibt 15 Figuren unten. Wie viele Gruppen mit 6 kannst du daraus machen? Wie viele Figuren wirst du übrig haben?



1) Es gibt 18 Figuren unten. Wie viele Gruppen mit 3 kannst du daraus machen? Wie viele Figuren wirst du übrig haben?



Bsp. 2 3

1. 6 0

2. 6 3

3. 5 1

4. 4 0

5. 1 2


6. 2 4

7. 3 2

8. 5 0

9. 5 0

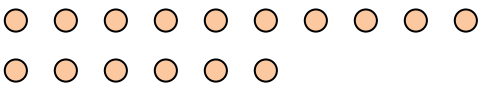
2) Es gibt 27 Figuren unten. Wie viele Gruppen mit 4 kannst du daraus machen? Wie viele Figuren wirst du übrig haben?



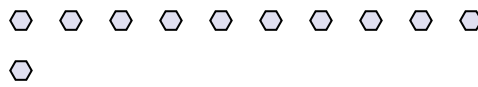
3) Es gibt 11 Figuren unten. Wie viele Gruppen mit 2 kannst du daraus machen? Wie viele Figuren wirst du übrig haben?



4) Es gibt 16 Figuren unten. Wie viele Gruppen mit 4 kannst du daraus machen? Wie viele Figuren wirst du übrig haben?



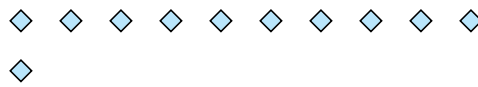
5) Es gibt 11 Figuren unten. Wie viele Gruppen mit 9 kannst du daraus machen? Wie viele Figuren wirst du übrig haben?




6) Es gibt 16 Figuren unten. Wie viele Gruppen mit 6 kannst du daraus machen? Wie viele Figuren wirst du übrig haben?



7) Es gibt 11 Figuren unten. Wie viele Gruppen mit 3 kannst du daraus machen? Wie viele Figuren wirst du übrig haben?



8) Es gibt 30 Figuren unten. Wie viele Gruppen mit 6 kannst du daraus machen? Wie viele Figuren wirst du übrig haben?



9) Es gibt 20 Figuren unten. Wie viele Gruppen mit 4 kannst du daraus machen? Wie viele Figuren wirst du übrig haben?

