

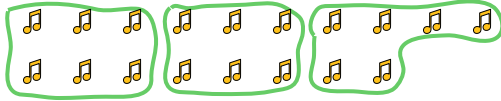




Benutze die vorgegebenen Figuren zur Beantwortung der Fragen.

**Antworten**

Bsp) Wie viele Gruppen von 6 kannst du machen mit den 18 Figuren unten?



1) Wie viele Gruppen von 9 kannst du machen mit den 27 Figuren unten?



Bsp. 3

1. 3

2. 3

3. 4

4. 2

5. 4

6. 2

7. 6

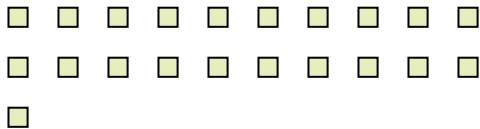
8. 5

9. 2

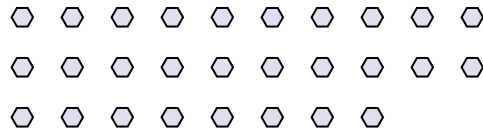
10. 4

11. 13

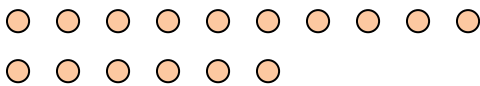
2) Wie viele Gruppen von 7 kannst du machen mit den 21 Figuren unten?



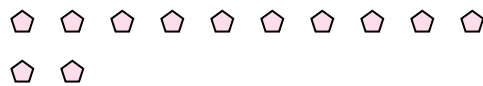
3) Wie viele Gruppen von 7 kannst du machen mit den 28 Figuren unten?



4) Wie viele Gruppen von 8 kannst du machen mit den 16 Figuren unten?



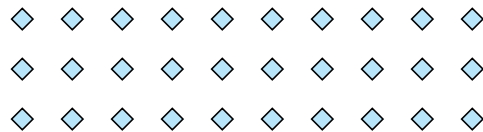
5) Wie viele Gruppen von 3 kannst du machen mit den 12 Figuren unten?



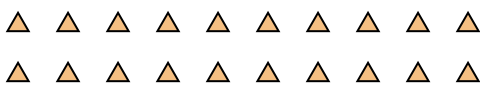
6) Wie viele Gruppen von 6 kannst du machen mit den 12 Figuren unten?



7) Wie viele Gruppen von 5 kannst du machen mit den 30 Figuren unten?




8) Wie viele Gruppen von 4 kannst du machen mit den 20 Figuren unten?



9) Wie viele Gruppen von 4 kannst du machen mit den 8 Figuren unten?



10) Wie viele Gruppen von 8 kannst du machen mit den 32 Figuren unten?



11) Wie viele Gruppen von 2 kannst du machen mit den 26 Figuren unten?

