

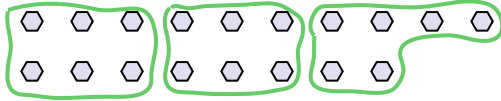




Benutze die vorgegebenen Figuren zur Beantwortung der Fragen.

**Antworten**

Bsp) Wie viele Gruppen von 6 kannst du machen mit den 18 Figuren unten?

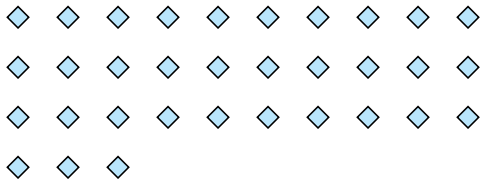


1) Wie viele Gruppen von 3 kannst du machen mit den 27 Figuren unten?

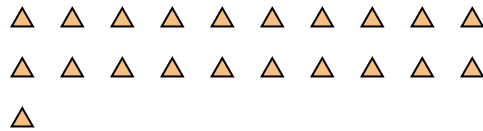


Bsp. 3

2) Wie viele Gruppen von 3 kannst du machen mit den 33 Figuren unten?




3) Wie viele Gruppen von 7 kannst du machen mit den 21 Figuren unten?

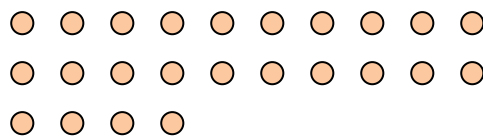


1. 9

4) Wie viele Gruppen von 7 kannst du machen mit den 14 Figuren unten?

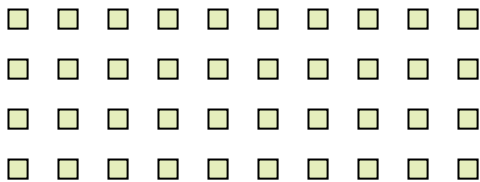


5) Wie viele Gruppen von 8 kannst du machen mit den 24 Figuren unten?




2. 11

6) Wie viele Gruppen von 4 kannst du machen mit den 40 Figuren unten?




7) Wie viele Gruppen von 8 kannst du machen mit den 32 Figuren unten?

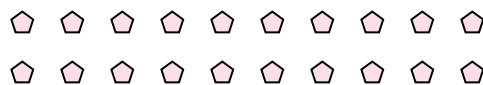


3. 3

8) Wie viele Gruppen von 7 kannst du machen mit den 28 Figuren unten?



9) Wie viele Gruppen von 5 kannst du machen mit den 20 Figuren unten?



4. 2

10) Wie viele Gruppen von 4 kannst du machen mit den 12 Figuren unten?



11) Wie viele Gruppen von 7 kannst du machen mit den 21 Figuren unten?



5. 3

6. 10

7. 4

8. 4

9. 4

10. 3

11. 3

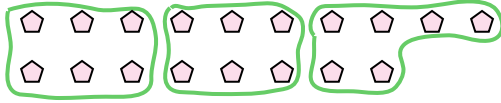




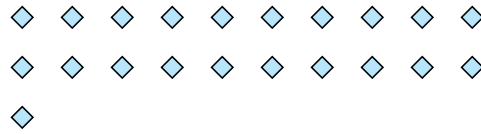
Benutze die vorgegebenen Figuren zur Beantwortung der Fragen.

**Antworten**

Bsp) Wie viele Gruppen von 6 kannst du machen mit den 18 Figuren unten?



1) Wie viele Gruppen von 7 kannst du machen mit den 21 Figuren unten?

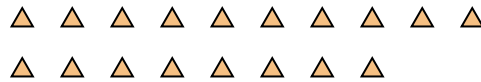


Bsp. 3

2) Wie viele Gruppen von 3 kannst du machen mit den 6 Figuren unten?

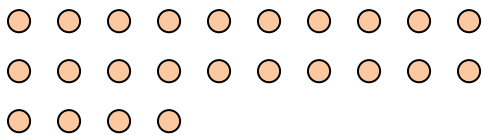


3) Wie viele Gruppen von 6 kannst du machen mit den 18 Figuren unten?

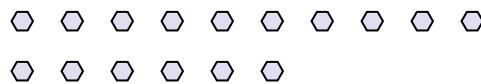


1. 3

4) Wie viele Gruppen von 8 kannst du machen mit den 24 Figuren unten?




5) Wie viele Gruppen von 8 kannst du machen mit den 16 Figuren unten?




2. 2

6) Wie viele Gruppen von 4 kannst du machen mit den 16 Figuren unten?



7) Wie viele Gruppen von 7 kannst du machen mit den 35 Figuren unten?



3. 3

8) Wie viele Gruppen von 3 kannst du machen mit den 15 Figuren unten?



9) Wie viele Gruppen von 2 kannst du machen mit den 18 Figuren unten?



4. 3

10) Wie viele Gruppen von 4 kannst du machen mit den 8 Figuren unten?



11) Wie viele Gruppen von 7 kannst du machen mit den 14 Figuren unten?



5. 2

6. 4

7. 5

8. 5

9. 9

10. 2

11. 2

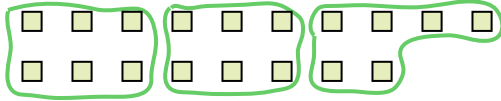





Benutze die vorgegebenen Figuren zur Beantwortung der Fragen.

**Antworten**

Bsp) Wie viele Gruppen von 6 kannst du machen mit den 18 Figuren unten?



1) Wie viele Gruppen von 3 kannst du machen mit den 30 Figuren unten?



Bsp. 3

1. 10

2. 7

3. 20

4. 8

5. 3

6. 6

7. 12


8. 6

9. 9


10. 19

11. 2

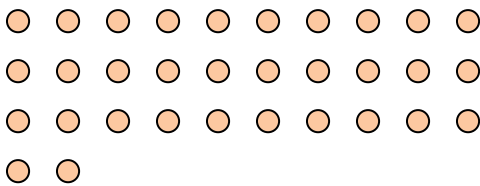
2) Wie viele Gruppen von 4 kannst du machen mit den 28 Figuren unten?



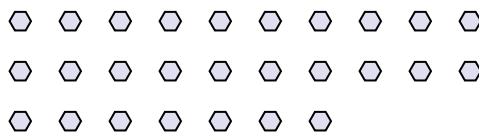
3) Wie viele Gruppen von 2 kannst du machen mit den 40 Figuren unten?



4) Wie viele Gruppen von 4 kannst du machen mit den 32 Figuren unten?




5) Wie viele Gruppen von 9 kannst du machen mit den 27 Figuren unten?




6) Wie viele Gruppen von 6 kannst du machen mit den 36 Figuren unten?



7) Wie viele Gruppen von 3 kannst du machen mit den 36 Figuren unten?



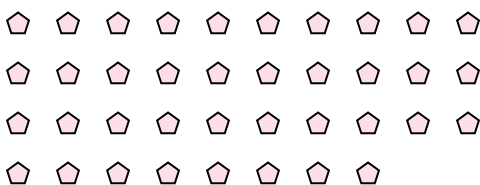
8) Wie viele Gruppen von 6 kannst du machen mit den 36 Figuren unten?



9) Wie viele Gruppen von 4 kannst du machen mit den 36 Figuren unten?



10) Wie viele Gruppen von 2 kannst du machen mit den 38 Figuren unten?



11) Wie viele Gruppen von 7 kannst du machen mit den 14 Figuren unten?

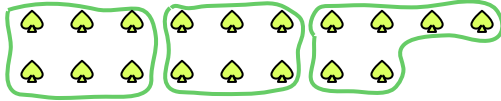




Benutze die vorgegebenen Figuren zur Beantwortung der Fragen.

**Antworten**

Bsp) Wie viele Gruppen von 6 kannst du machen mit den 18 Figuren unten?

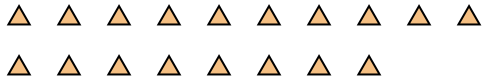


1) Wie viele Gruppen von 3 kannst du machen mit den 9 Figuren unten?

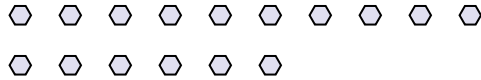


Bsp. 3

2) Wie viele Gruppen von 6 kannst du machen mit den 18 Figuren unten?



3) Wie viele Gruppen von 8 kannst du machen mit den 16 Figuren unten?



1. \_\_\_\_\_

2. \_\_\_\_\_

3. \_\_\_\_\_

4. \_\_\_\_\_

5. \_\_\_\_\_

6. \_\_\_\_\_

7. \_\_\_\_\_

8. \_\_\_\_\_

9. \_\_\_\_\_

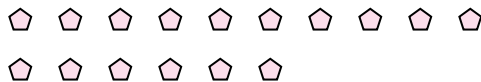
10. \_\_\_\_\_

11. \_\_\_\_\_

4) Wie viele Gruppen von 4 kannst du machen mit den 8 Figuren unten?



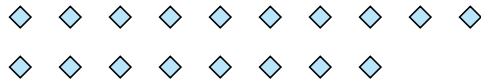
5) Wie viele Gruppen von 8 kannst du machen mit den 16 Figuren unten?




6) Wie viele Gruppen von 2 kannst du machen mit den 24 Figuren unten?



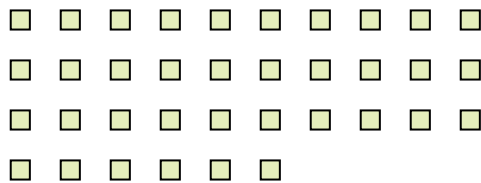
7) Wie viele Gruppen von 2 kannst du machen mit den 18 Figuren unten?



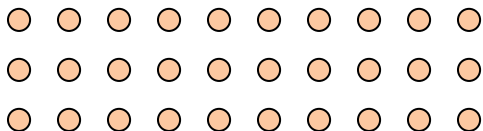
8) Wie viele Gruppen von 9 kannst du machen mit den 27 Figuren unten?



9) Wie viele Gruppen von 9 kannst du machen mit den 36 Figuren unten?



10) Wie viele Gruppen von 6 kannst du machen mit den 30 Figuren unten?



11) Wie viele Gruppen von 3 kannst du machen mit den 39 Figuren unten?





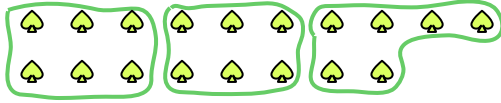




Benutze die vorgegebenen Figuren zur Beantwortung der Fragen.

**Antworten**

Bsp) Wie viele Gruppen von 6 kannst du machen mit den 18 Figuren unten?



1) Wie viele Gruppen von 5 kannst du machen mit den 40 Figuren unten?



Bsp. 3

1. \_\_\_\_\_

2. \_\_\_\_\_

3. \_\_\_\_\_

4. \_\_\_\_\_

5. \_\_\_\_\_

6. \_\_\_\_\_

7. \_\_\_\_\_


8. \_\_\_\_\_

9. \_\_\_\_\_

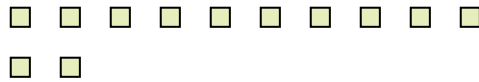
10. \_\_\_\_\_

11. \_\_\_\_\_


2) Wie viele Gruppen von 7 kannst du machen mit den 21 Figuren unten?



3) Wie viele Gruppen von 6 kannst du machen mit den 12 Figuren unten?



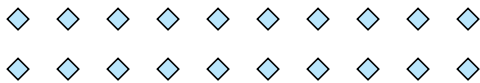
4) Wie viele Gruppen von 3 kannst du machen mit den 24 Figuren unten?



5) Wie viele Gruppen von 2 kannst du machen mit den 4 Figuren unten?




6) Wie viele Gruppen von 5 kannst du machen mit den 20 Figuren unten?



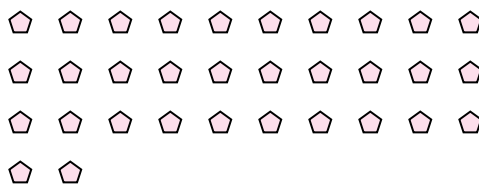
7) Wie viele Gruppen von 9 kannst du machen mit den 18 Figuren unten?



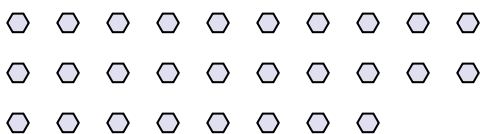
8) Wie viele Gruppen von 9 kannst du machen mit den 36 Figuren unten?



9) Wie viele Gruppen von 2 kannst du machen mit den 32 Figuren unten?



10) Wie viele Gruppen von 2 kannst du machen mit den 28 Figuren unten?



11) Wie viele Gruppen von 8 kannst du machen mit den 24 Figuren unten?










Benutze die vorgegebenen Figuren zur Beantwortung der Fragen.

**Antworten**

Bsp) Wie viele Gruppen von 6 kannst du machen mit den 18 Figuren unten?



1) Wie viele Gruppen von 2 kannst du machen mit den 26 Figuren unten?



Bsp. 3

1. 13

2. 4

3. 8

4. 5

5. 19

6. 5

7. 4

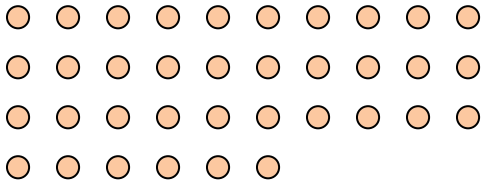
8. 10

9. 5


10. 2

11. 3


2) Wie viele Gruppen von 9 kannst du machen mit den 36 Figuren unten?



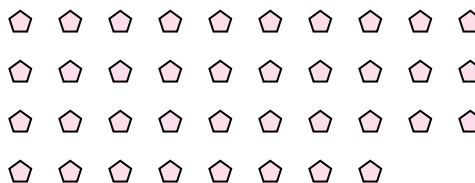
3) Wie viele Gruppen von 3 kannst du machen mit den 24 Figuren unten?



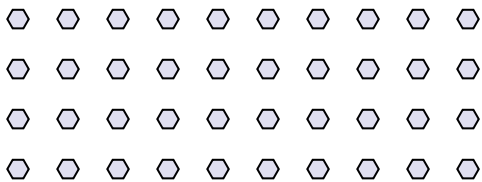
4) Wie viele Gruppen von 7 kannst du machen mit den 35 Figuren unten?




5) Wie viele Gruppen von 2 kannst du machen mit den 38 Figuren unten?




6) Wie viele Gruppen von 8 kannst du machen mit den 40 Figuren unten?



7) Wie viele Gruppen von 9 kannst du machen mit den 36 Figuren unten?



8) Wie viele Gruppen von 4 kannst du machen mit den 40 Figuren unten?




9) Wie viele Gruppen von 7 kannst du machen mit den 35 Figuren unten?



10) Wie viele Gruppen von 5 kannst du machen mit den 10 Figuren unten?



11) Wie viele Gruppen von 9 kannst du machen mit den 27 Figuren unten?





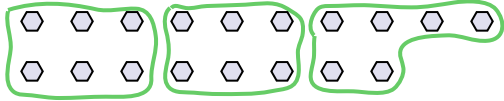




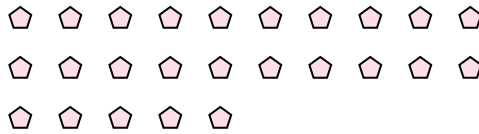
Benutze die vorgegebenen Figuren zur Beantwortung der Fragen.

**Antworten**

Bsp) Wie viele Gruppen von 6 kannst du machen mit den 18 Figuren unten?



1) Wie viele Gruppen von 5 kannst du machen mit den 25 Figuren unten?



Bsp. 3

1. \_\_\_\_\_

2. \_\_\_\_\_

3. \_\_\_\_\_

4. \_\_\_\_\_

5. \_\_\_\_\_

6. \_\_\_\_\_

7. \_\_\_\_\_

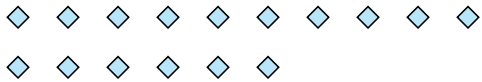
8. \_\_\_\_\_

9. \_\_\_\_\_

10. \_\_\_\_\_

11. \_\_\_\_\_


2) Wie viele Gruppen von 4 kannst du machen mit den 16 Figuren unten?




3) Wie viele Gruppen von 2 kannst du machen mit den 14 Figuren unten?



4) Wie viele Gruppen von 4 kannst du machen mit den 28 Figuren unten?



5) Wie viele Gruppen von 9 kannst du machen mit den 36 Figuren unten?



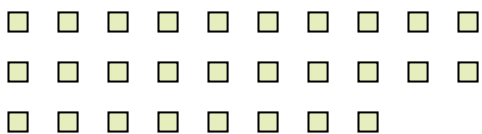
6) Wie viele Gruppen von 9 kannst du machen mit den 27 Figuren unten?




7) Wie viele Gruppen von 6 kannst du machen mit den 30 Figuren unten?



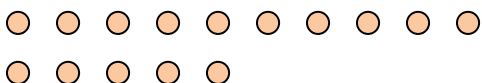
8) Wie viele Gruppen von 2 kannst du machen mit den 28 Figuren unten?




9) Wie viele Gruppen von 9 kannst du machen mit den 27 Figuren unten?



10) Wie viele Gruppen von 5 kannst du machen mit den 15 Figuren unten?



11) Wie viele Gruppen von 4 kannst du machen mit den 36 Figuren unten?

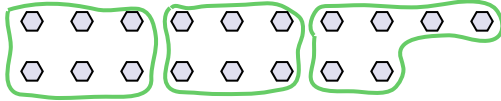




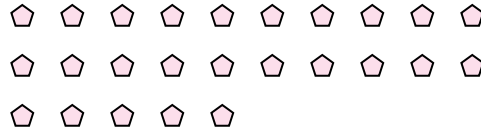
Benutze die vorgegebenen Figuren zur Beantwortung der Fragen.

**Antworten**

Bsp) Wie viele Gruppen von 6 kannst du machen mit den 18 Figuren unten?

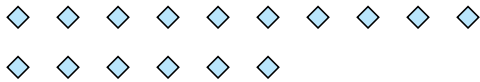


1) Wie viele Gruppen von 5 kannst du machen mit den 25 Figuren unten?



Bsp. 3

2) Wie viele Gruppen von 4 kannst du machen mit den 16 Figuren unten?




3) Wie viele Gruppen von 2 kannst du machen mit den 14 Figuren unten?




1. 5

4) Wie viele Gruppen von 4 kannst du machen mit den 28 Figuren unten?



5) Wie viele Gruppen von 9 kannst du machen mit den 36 Figuren unten?



2. 4

6) Wie viele Gruppen von 9 kannst du machen mit den 27 Figuren unten?

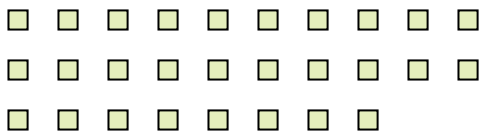


7) Wie viele Gruppen von 6 kannst du machen mit den 30 Figuren unten?



3. 7

8) Wie viele Gruppen von 2 kannst du machen mit den 28 Figuren unten?

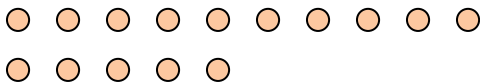


9) Wie viele Gruppen von 9 kannst du machen mit den 27 Figuren unten?




4. 7

10) Wie viele Gruppen von 5 kannst du machen mit den 15 Figuren unten?



11) Wie viele Gruppen von 4 kannst du machen mit den 36 Figuren unten?



5. 4

6. 3

7. 5

8. 14

9. 3

10. 3

11. 9








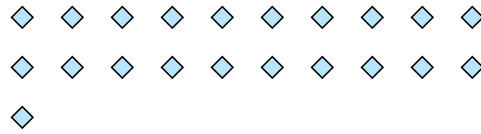
Benutze die vorgegebenen Figuren zur Beantwortung der Fragen.

**Antworten**

Bsp) Wie viele Gruppen von 6 kannst du machen mit den 18 Figuren unten?

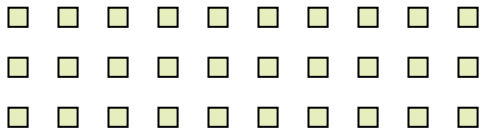


1) Wie viele Gruppen von 7 kannst du machen mit den 21 Figuren unten?



Bsp. 3

2) Wie viele Gruppen von 6 kannst du machen mit den 30 Figuren unten?



3) Wie viele Gruppen von 4 kannst du machen mit den 28 Figuren unten?



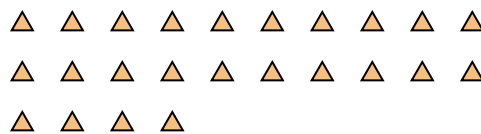
1. 3

2. 5

4) Wie viele Gruppen von 9 kannst du machen mit den 27 Figuren unten?



5) Wie viele Gruppen von 6 kannst du machen mit den 24 Figuren unten?



3. 7


4. 3

5. 4

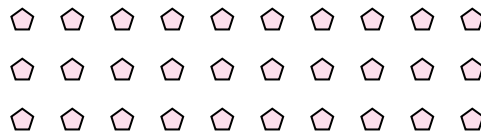
6. 10

7. 6

6) Wie viele Gruppen von 3 kannst du machen mit den 30 Figuren unten?



7) Wie viele Gruppen von 5 kannst du machen mit den 30 Figuren unten?



8. 2

9. 8

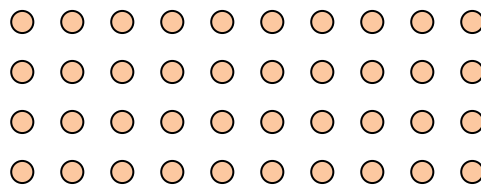
10. 8

11. 6

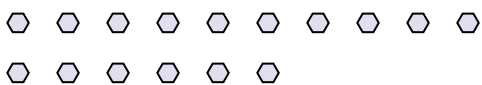
8) Wie viele Gruppen von 7 kannst du machen mit den 14 Figuren unten?




9) Wie viele Gruppen von 5 kannst du machen mit den 40 Figuren unten?



10) Wie viele Gruppen von 2 kannst du machen mit den 16 Figuren unten?



11) Wie viele Gruppen von 5 kannst du machen mit den 30 Figuren unten?

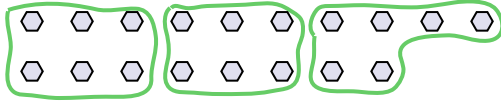




Benutze die vorgegebenen Figuren zur Beantwortung der Fragen.

**Antworten**

Bsp) Wie viele Gruppen von 6 kannst du machen mit den 18 Figuren unten?



1) Wie viele Gruppen von 6 kannst du machen mit den 12 Figuren unten?



Bsp. 3

1. \_\_\_\_\_

2. \_\_\_\_\_

3. \_\_\_\_\_

4. \_\_\_\_\_

5. \_\_\_\_\_

6. \_\_\_\_\_

7. \_\_\_\_\_

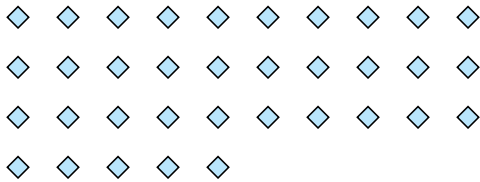
8. \_\_\_\_\_

9. \_\_\_\_\_

10. \_\_\_\_\_

11. \_\_\_\_\_


2) Wie viele Gruppen von 7 kannst du machen mit den 35 Figuren unten?



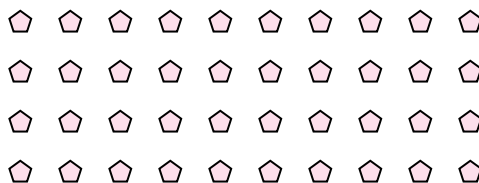
3) Wie viele Gruppen von 4 kannst du machen mit den 8 Figuren unten?




4) Wie viele Gruppen von 8 kannst du machen mit den 24 Figuren unten?



5) Wie viele Gruppen von 4 kannst du machen mit den 40 Figuren unten?




6) Wie viele Gruppen von 6 kannst du machen mit den 36 Figuren unten?



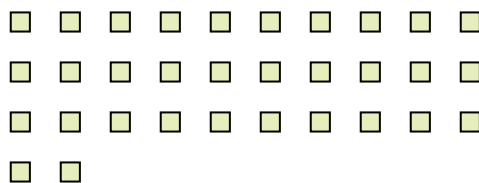
7) Wie viele Gruppen von 5 kannst du machen mit den 10 Figuren unten?



8) Wie viele Gruppen von 9 kannst du machen mit den 27 Figuren unten?



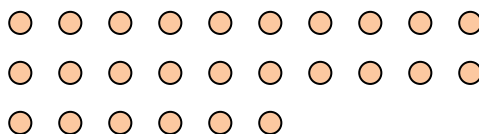
9) Wie viele Gruppen von 8 kannst du machen mit den 32 Figuren unten?



10) Wie viele Gruppen von 6 kannst du machen mit den 18 Figuren unten?



11) Wie viele Gruppen von 2 kannst du machen mit den 26 Figuren unten?

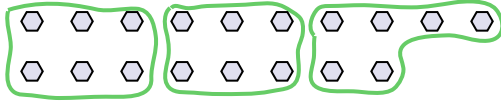




Benutze die vorgegebenen Figuren zur Beantwortung der Fragen.

**Antworten**

Bsp) Wie viele Gruppen von 6 kannst du machen mit den 18 Figuren unten?



1) Wie viele Gruppen von 6 kannst du machen mit den 12 Figuren unten?



Bsp. 3

1. 2

2. 5

3. 2

4. 3

5. 10

6. 6

7. 2

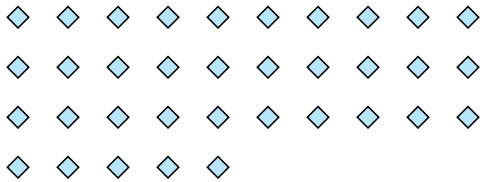
8. 3

9. 4

10. 3

11. 13


2) Wie viele Gruppen von 7 kannst du machen mit den 35 Figuren unten?



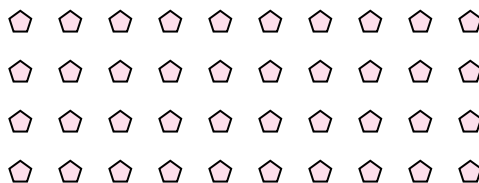
3) Wie viele Gruppen von 4 kannst du machen mit den 8 Figuren unten?




4) Wie viele Gruppen von 8 kannst du machen mit den 24 Figuren unten?



5) Wie viele Gruppen von 4 kannst du machen mit den 40 Figuren unten?




6) Wie viele Gruppen von 6 kannst du machen mit den 36 Figuren unten?



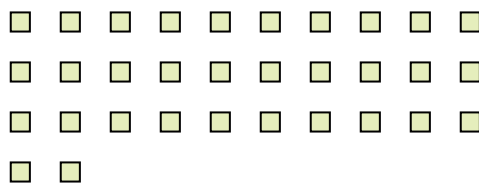
7) Wie viele Gruppen von 5 kannst du machen mit den 10 Figuren unten?



8) Wie viele Gruppen von 9 kannst du machen mit den 27 Figuren unten?



9) Wie viele Gruppen von 8 kannst du machen mit den 32 Figuren unten?



10) Wie viele Gruppen von 6 kannst du machen mit den 18 Figuren unten?



11) Wie viele Gruppen von 2 kannst du machen mit den 26 Figuren unten?

