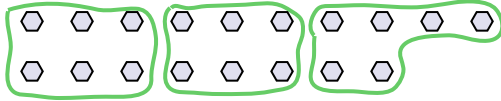




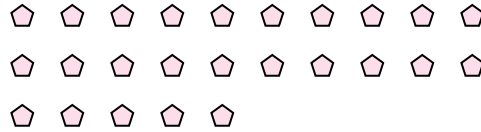
Benutze die vorgegebenen Figuren zur Beantwortung der Fragen.

**Antworten**

Bsp) Wie viele Gruppen von 6 kannst du machen mit den 18 Figuren unten?



1) Wie viele Gruppen von 5 kannst du machen mit den 25 Figuren unten?



Bsp. 3

1. \_\_\_\_\_

2. \_\_\_\_\_

3. \_\_\_\_\_

4. \_\_\_\_\_

5. \_\_\_\_\_

6. \_\_\_\_\_

7. \_\_\_\_\_

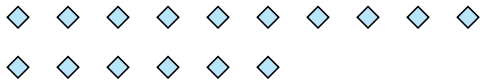
8. \_\_\_\_\_

9. \_\_\_\_\_

10. \_\_\_\_\_

11. \_\_\_\_\_


2) Wie viele Gruppen von 4 kannst du machen mit den 16 Figuren unten?




3) Wie viele Gruppen von 2 kannst du machen mit den 14 Figuren unten?



4) Wie viele Gruppen von 4 kannst du machen mit den 28 Figuren unten?



5) Wie viele Gruppen von 9 kannst du machen mit den 36 Figuren unten?



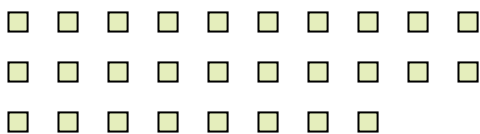
6) Wie viele Gruppen von 9 kannst du machen mit den 27 Figuren unten?



7) Wie viele Gruppen von 6 kannst du machen mit den 30 Figuren unten?



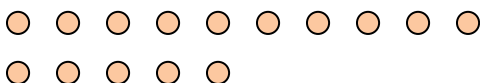
8) Wie viele Gruppen von 2 kannst du machen mit den 28 Figuren unten?




9) Wie viele Gruppen von 9 kannst du machen mit den 27 Figuren unten?



10) Wie viele Gruppen von 5 kannst du machen mit den 15 Figuren unten?



11) Wie viele Gruppen von 4 kannst du machen mit den 36 Figuren unten?

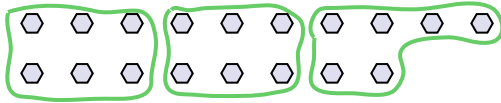




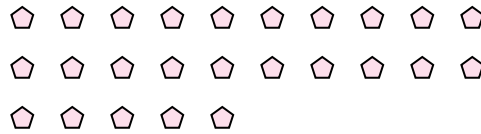
Benutze die vorgegebenen Figuren zur Beantwortung der Fragen.

**Antworten**

Bsp) Wie viele Gruppen von 6 kannst du machen mit den 18 Figuren unten?

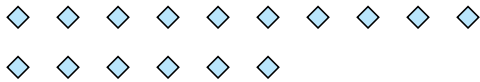


1) Wie viele Gruppen von 5 kannst du machen mit den 25 Figuren unten?



Bsp. 3

2) Wie viele Gruppen von 4 kannst du machen mit den 16 Figuren unten?




3) Wie viele Gruppen von 2 kannst du machen mit den 14 Figuren unten?




1. 5

4) Wie viele Gruppen von 4 kannst du machen mit den 28 Figuren unten?



5) Wie viele Gruppen von 9 kannst du machen mit den 36 Figuren unten?



2. 4

6) Wie viele Gruppen von 9 kannst du machen mit den 27 Figuren unten?

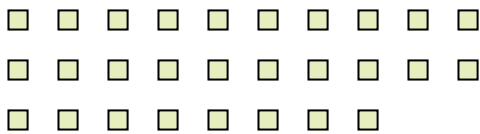


7) Wie viele Gruppen von 6 kannst du machen mit den 30 Figuren unten?




3. 7

8) Wie viele Gruppen von 2 kannst du machen mit den 28 Figuren unten?

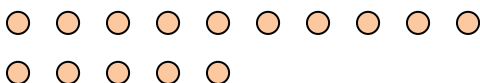


9) Wie viele Gruppen von 9 kannst du machen mit den 27 Figuren unten?




4. 7

10) Wie viele Gruppen von 5 kannst du machen mit den 15 Figuren unten?



11) Wie viele Gruppen von 4 kannst du machen mit den 36 Figuren unten?



5. 4

6. 3

7. 5

8. 14

9. 3

10. 3

11. 9