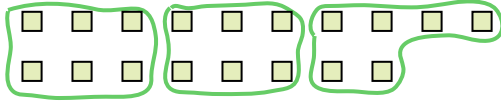





Benutze die vorgegebenen Figuren zur Beantwortung der Fragen.

Antworten

Bsp) Wie viele Gruppen von 6 kannst du machen mit den 18 Figuren unten?



1) Wie viele Gruppen von 3 kannst du machen mit den 30 Figuren unten?



Bsp. 3

1. 10

2. 7

3. 20

4. 8

5. 3

6. 6

7. 12


8. 6

9. 9


10. 19

11. 2

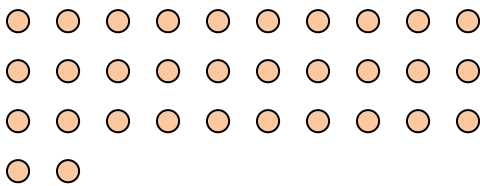
2) Wie viele Gruppen von 4 kannst du machen mit den 28 Figuren unten?



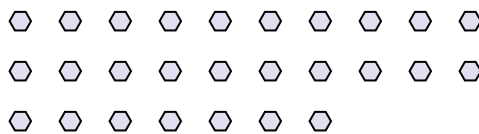
3) Wie viele Gruppen von 2 kannst du machen mit den 40 Figuren unten?



4) Wie viele Gruppen von 4 kannst du machen mit den 32 Figuren unten?




5) Wie viele Gruppen von 9 kannst du machen mit den 27 Figuren unten?




6) Wie viele Gruppen von 6 kannst du machen mit den 36 Figuren unten?



7) Wie viele Gruppen von 3 kannst du machen mit den 36 Figuren unten?



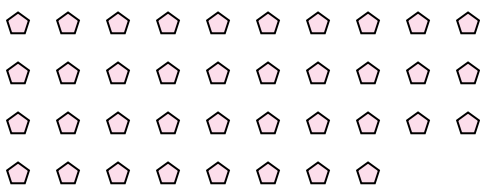
8) Wie viele Gruppen von 6 kannst du machen mit den 36 Figuren unten?



9) Wie viele Gruppen von 4 kannst du machen mit den 36 Figuren unten?



10) Wie viele Gruppen von 2 kannst du machen mit den 38 Figuren unten?



11) Wie viele Gruppen von 7 kannst du machen mit den 14 Figuren unten?

