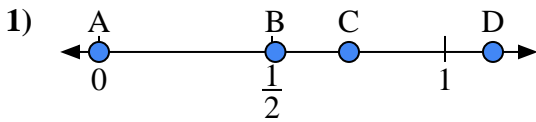
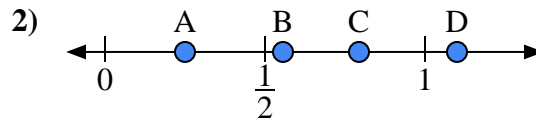




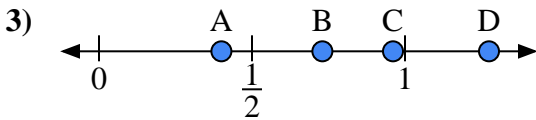
Benutze den Zahlenstrahl um die Lösung zu ermitteln.

Antworten

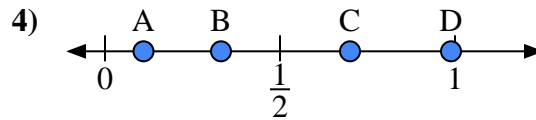
- a) Welcher Buchstabe stellt die richtige Lage von 0,00 dar?
 b) Welcher Buchstabe stellt die richtige Lage von 0,51 dar?



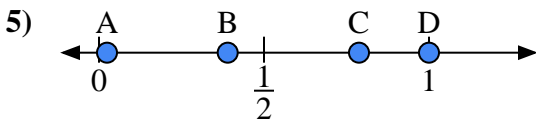
- a) Welcher Buchstabe stellt die richtige Lage von 1,10 dar?
 b) Welcher Buchstabe stellt die richtige Lage von 0,25 dar?



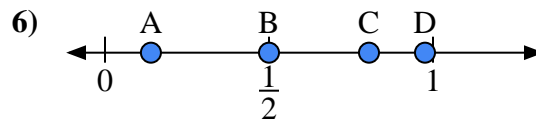
- a) Welcher Buchstabe stellt die richtige Lage von 0,4 dar?
 b) Welcher Buchstabe stellt die richtige Lage von 0,73 dar?



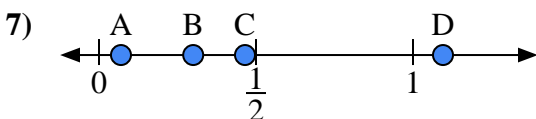
- a) Welcher Buchstabe stellt die richtige Lage von 0,7 dar?
 b) Welcher Buchstabe stellt die richtige Lage von 0,11 dar?



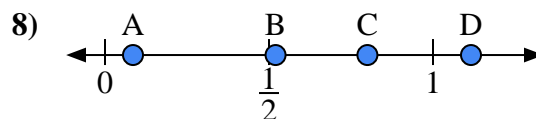
- a) Welcher Buchstabe stellt die richtige Lage von 1,0 dar?
 b) Welcher Buchstabe stellt die richtige Lage von 0,39 dar?



- a) Welcher Buchstabe stellt die richtige Lage von 0,5 dar?
 b) Welcher Buchstabe stellt die richtige Lage von 0,14 dar?



- a) Welcher Buchstabe stellt die richtige Lage von 0,30 dar?
 b) Welcher Buchstabe stellt die richtige Lage von 0,07 dar?

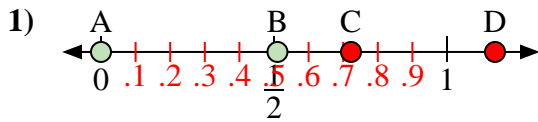


- a) Welcher Buchstabe stellt die richtige Lage von 0,80 dar?
 b) Welcher Buchstabe stellt die richtige Lage von 0,52 dar?

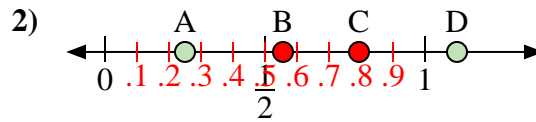
1. _____
 2. _____
 3. _____
 4. _____
 5. _____
 6. _____
 7. _____
 8. _____



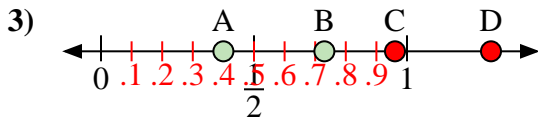
Benutze den Zahlenstrahl um die Lösung zu ermitteln.

Antworten

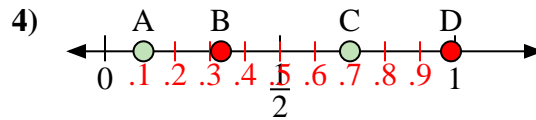
- a) Welcher Buchstabe stellt die richtige Lage von 0,00 dar?
 b) Welcher Buchstabe stellt die richtige Lage von 0,51 dar?



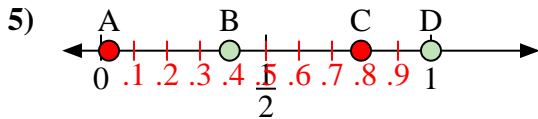
- a) Welcher Buchstabe stellt die richtige Lage von 1,10 dar?
 b) Welcher Buchstabe stellt die richtige Lage von 0,25 dar?



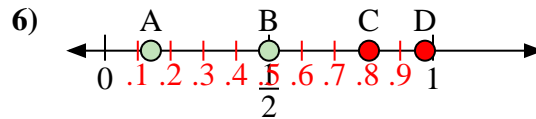
- a) Welcher Buchstabe stellt die richtige Lage von 0,4 dar?
 b) Welcher Buchstabe stellt die richtige Lage von 0,73 dar?



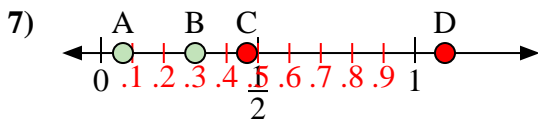
- a) Welcher Buchstabe stellt die richtige Lage von 0,7 dar?
 b) Welcher Buchstabe stellt die richtige Lage von 0,11 dar?



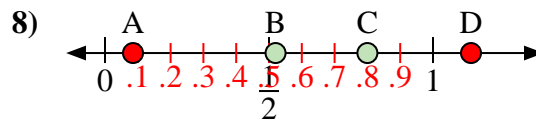
- a) Welcher Buchstabe stellt die richtige Lage von 1,0 dar?
 b) Welcher Buchstabe stellt die richtige Lage von 0,39 dar?



- a) Welcher Buchstabe stellt die richtige Lage von 0,5 dar?
 b) Welcher Buchstabe stellt die richtige Lage von 0,14 dar?



- a) Welcher Buchstabe stellt die richtige Lage von 0,30 dar?
 b) Welcher Buchstabe stellt die richtige Lage von 0,07 dar?



- a) Welcher Buchstabe stellt die richtige Lage von 0,80 dar?
 b) Welcher Buchstabe stellt die richtige Lage von 0,52 dar?

1. A B
 2. D A
 3. A B
 4. C A
 5. D B
 6. B A
 7. B A
 8. C B