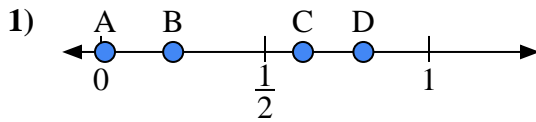
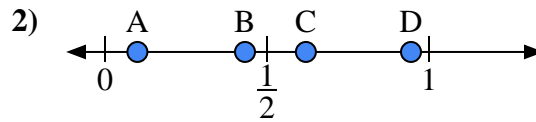




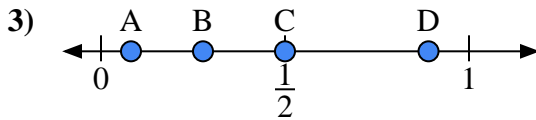
Benutze den Zahlenstrahl um die Lösung zu ermitteln.

**Antworten**

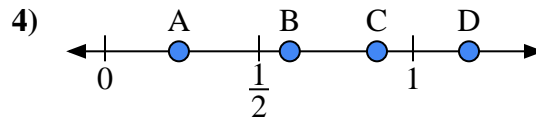
- a) Welcher Buchstabe stellt die richtige Lage von 0,80 dar?  
 b) Welcher Buchstabe stellt die richtige Lage von 0,22 dar?



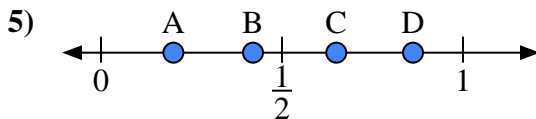
- a) Welcher Buchstabe stellt die richtige Lage von 0,1 dar?  
 b) Welcher Buchstabe stellt die richtige Lage von 0,62 dar?



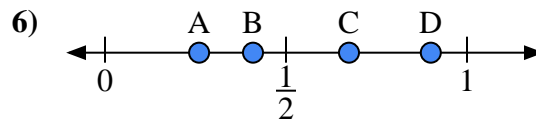
- a) Welcher Buchstabe stellt die richtige Lage von 0,5 dar?  
 b) Welcher Buchstabe stellt die richtige Lage von 0,89 dar?



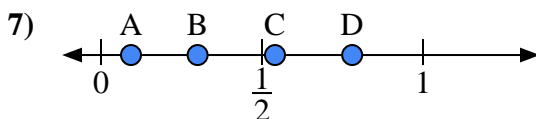
- a) Welcher Buchstabe stellt die richtige Lage von 0,6 dar?  
 b) Welcher Buchstabe stellt die richtige Lage von 0,24 dar?



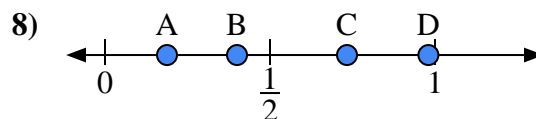
- a) Welcher Buchstabe stellt die richtige Lage von 0,20 dar?  
 b) Welcher Buchstabe stellt die richtige Lage von 0,65 dar?



- a) Welcher Buchstabe stellt die richtige Lage von 0,90 dar?  
 b) Welcher Buchstabe stellt die richtige Lage von 0,26 dar?



- a) Welcher Buchstabe stellt die richtige Lage von 0,3 dar?  
 b) Welcher Buchstabe stellt die richtige Lage von 0,78 dar?

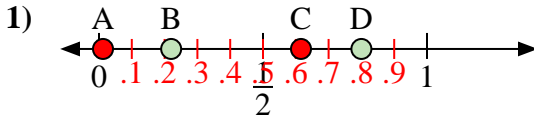


- a) Welcher Buchstabe stellt die richtige Lage von 0,40 dar?  
 b) Welcher Buchstabe stellt die richtige Lage von 0,98 dar?

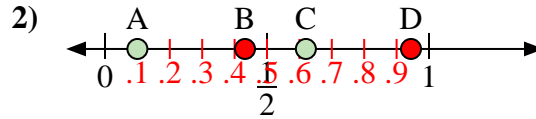
1. \_\_\_\_\_  
 2. \_\_\_\_\_  
 3. \_\_\_\_\_  
 4. \_\_\_\_\_  
 5. \_\_\_\_\_  
 6. \_\_\_\_\_  
 7. \_\_\_\_\_  
 8. \_\_\_\_\_



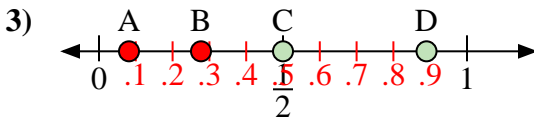
Benutze den Zahlenstrahl um die Lösung zu ermitteln.

**Antworten**

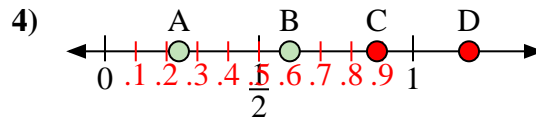
- a) Welcher Buchstabe stellt die richtige Lage von 0,80 dar?  
 b) Welcher Buchstabe stellt die richtige Lage von 0,22 dar?



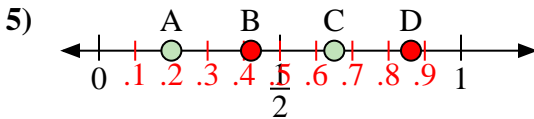
- a) Welcher Buchstabe stellt die richtige Lage von 0,1 dar?  
 b) Welcher Buchstabe stellt die richtige Lage von 0,62 dar?



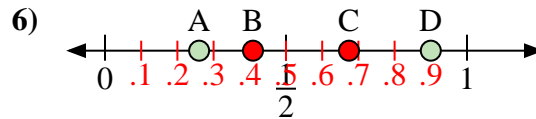
- a) Welcher Buchstabe stellt die richtige Lage von 0,5 dar?  
 b) Welcher Buchstabe stellt die richtige Lage von 0,89 dar?



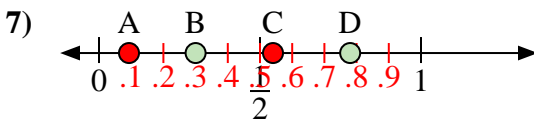
- a) Welcher Buchstabe stellt die richtige Lage von 0,6 dar?  
 b) Welcher Buchstabe stellt die richtige Lage von 0,24 dar?



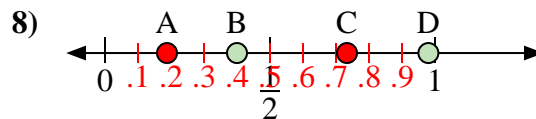
- a) Welcher Buchstabe stellt die richtige Lage von 0,20 dar?  
 b) Welcher Buchstabe stellt die richtige Lage von 0,65 dar?



- a) Welcher Buchstabe stellt die richtige Lage von 0,90 dar?  
 b) Welcher Buchstabe stellt die richtige Lage von 0,26 dar?



- a) Welcher Buchstabe stellt die richtige Lage von 0,3 dar?  
 b) Welcher Buchstabe stellt die richtige Lage von 0,78 dar?



- a) Welcher Buchstabe stellt die richtige Lage von 0,40 dar?  
 b) Welcher Buchstabe stellt die richtige Lage von 0,98 dar?

1. D B  
 2. A C  
 3. C D  
 4. B A  
 5. A C  
 6. D A  
 7. B D  
 8. B D