



**Stelle fest, welcher Buchstabe das Volumen am besten darstellt.**

**Antworten**

**Xícara**

Una taza se refiere a la cantidad de leche que se obtiene de la cafetería.



**Pinta**

Uma pinta é aproximadamente a quantidade que você recebe em um copo grande.  
1 pinta = 2 xícaras



**Quarto**

Um quarto é mais ou menos a quantidade que você consegue em um recipiente grande de leite.  
1 cuarto = 2 pintas




**Galón**

Un galón es la cantidad que viene en un recipiente de plástico grande.  
1 galón = 4 cuartos



1. \_\_\_\_\_
2. \_\_\_\_\_
3. \_\_\_\_\_
4. \_\_\_\_\_
5. \_\_\_\_\_
6. \_\_\_\_\_
7. \_\_\_\_\_
8. \_\_\_\_\_
9. \_\_\_\_\_

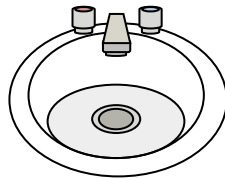
1)



Gas tank in a car

- A. 16 Tassen
- B. 3 quarts
- C. 4 pints
- D. 15 gallonen

2)



Water in bathroom sink

- A. 2 fluid ounces
- B. 2 pints
- C. 2 Tassen
- D. 2 gallonen

3)



Flour in a batch of cookies

- A. 2 quarts
- B. 1.5 Tassen
- C. 5 gallonen
- D. 2 gallonen

4)



Liquid in a tea cup

- A. 1 gallone
- B. 1 quart
- C. 1 Tasse
- D. 1 pint

5)



Flour in a pan of brownies

- A. 8 gallonen
- B. 16 quarts
- C. 3 gallonen
- D. 2 Tassen


6)



2 liter of Soda

- A. 2 Tassen
- B. 1 pint
- C. 5 gallonen
- D. 0.5 gallonen

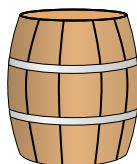
7)



Sand a wheel barrow holds

- A. 1000 g
- B. 8 quarts
- C. 4 Tassen
- D. 45 gallonen


8)



Water a barrel holds

- A. 50 gallonen
- B. 20 Tassen
- C. 3 inches
- D. 10 pints

9)



Liquid in a pitcher

- A. 2 Tassen
- B. 2 quarts
- C. 1 pint
- D. 8 gallonen



Stelle fest, welcher Buchstabe das Volumen am besten darstellt.

**Antworten****Xícara**

Una taza se refiere a la cantidad de leche que se obtiene de la cafetería.

**Pinta**

Uma pinta é aproximadamente a quantidade que você recebe em um copo grande.  
1 pinta = 2 xícaras

**Quarto**


Um quarto é mais ou menos a quantidade que você consegue em um recipiente grande de leite.  
1 cuarto = 2 pintas

**Galón**

Un galón es la cantidad que viene en un recipiente de plástico grande.  
1 galón = 4 cuartos



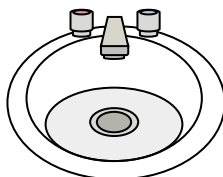
1)



Gas tank in a car

- A. 16 Tassen
- B. 3 quarts
- C. 4 pints
- D. 15 gallonen

2)



Water in bathroom sink

- A. 2 fluid ounces
- B. 2 pints
- C. 2 Tassen
- D. 2 gallonen

3)



Flour in a batch of cookies

- A. 2 quarts
- B. 1.5 Tassen
- C. 5 gallonen
- D. 2 gallonen

4)



Liquid in a tea cup

- A. 1 gallone
- B. 1 quart
- C. 1 Tasse
- D. 1 pint

5)



Flour in a pan of brownies

- A. 8 gallonen
- B. 16 quarts
- C. 3 gallonen
- D. 2 Tassen


6)



2 liter of Soda

- A. 2 Tassen
- B. 1 pint
- C. 5 gallonen
- D. 0.5 gallonen


7)



Sand a wheel barrow holds

- A. 1000 g
- B. 8 quarts
- C. 4 Tassen
- D. 45 gallonen


8)



Water a barrel holds

- A. 50 gallonen
- B. 20 Tassen
- C. 3 inches
- D. 10 pints

9)



Liquid in a pitcher

- A. 2 Tassen
- B. 2 quarts
- C. 1 pint
- D. 8 gallonen

1. **D**2. **D**3. **B**4. **C**5. **D**6. **D**7. **D**8. **A**9. **B**