



Stelle fest, welcher Buchstabe das Volumen am besten darstellt.

Antworten

Xícara

Una taza se refiere a la cantidad de leche que se obtiene de la cafetería.



Pinta

Uma pinta é aproximadamente a quantidade que você recebe em um copo grande.
1 pinta = 2 xícaras



Quarto

Um quarto é mais ou menos a quantidade que você consegue em um recipiente grande de leite.
1 cuarto = 2 pintas



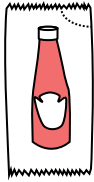
Galón

Un galón es la cantidad que viene en un recipiente de plástico grande.
1 galón = 4 cuartos



1. _____
2. _____
3. _____
4. _____
5. _____
6. _____
7. _____
8. _____
9. _____


1)



Ketchup in a packet

- A. 1.5 pints
- B. 2 quarts
- C. 0.5 gallonen
- D. weniger als 1 Tasse

2)



Ice Chest

- A. 2 quarts
- B. 16 Tassen
- C. 100 quarts
- D. 5 gallonen

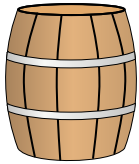
3)



Sand in a pail

- A. 1 Tasse
- B. 1 gallon
- C. 32 gallonen
- D. 7 fluid ounces

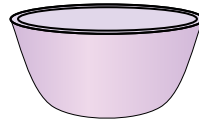
4)



Water a barrel holds

- A. 20 Tassen
- B. 3 inches
- C. 50 gallonen
- D. 10 pints

5)



Cereal Bowl

- A. 4 pints
- B. 0.5 gallonen
- C. 1 pint
- D. 2 gallonen

6)



2 liter of Soda

- A. 5 gallonen
- B. 0.5 gallonen
- C. 2 Tassen
- D. 1 pint

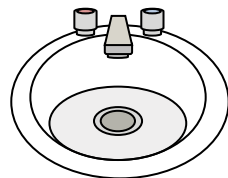
7)



Ink in a pen

- A. 2 pints
- B. 1 gallon
- C. weniger als 1 Tasse
- D. 1 quart

8)



Water in bathroom sink

- A. 2 Tassen
- B. 2 gallonen
- C. 2 pints
- D. 2 fluid ounces

9)



Liquid a spoon holds

- A. 1 quart
- B. 1 Tasse
- C. 1 pint
- D. Less than a cup



Stelle fest, welcher Buchstabe das Volumen am besten darstellt.

Antworten

Xícara

Una taza se refiere a la cantidad de leche que se obtiene de la cafetería.



Pinta

Uma pinta é aproximadamente a quantidade que você recebe em um copo grande.
1 pinta = 2 xícaras



Quarto

Um quarto é mais ou menos a quantidade que você consegue em um recipiente grande de leite.
1 cuarto = 2 pintas



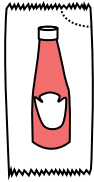
Galón

Un galón es la cantidad que viene en un recipiente de plástico grande.
1 galón = 4 cuartos



1. **D**
2. **C**
3. **B**
4. **C**
5. **C**
6. **B**
7. **C**
8. **B**
9. **D**


1)



Ketchup in a packet

- A. 1.5 pints
- B. 2 quarts
- C. 0.5 gallonen
- D. weniger als 1 Tasse

2)



Ice Chest

- A. 2 quarts
- B. 16 Tassen
- C. 100 quarts
- D. 5 gallonen

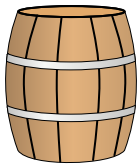
3)



Sand in a pail

- A. 1 Tasse
- B. 1 gallon
- C. 32 gallonen
- D. 7 fluid ounces

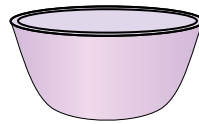
4)



Water a barrel holds

- A. 20 Tassen
- B. 3 inches
- C. 50 gallonen
- D. 10 pints

5)



Cereal Bowl

- A. 4 pints
- B. 0.5 gallonen
- C. 1 pint
- D. 2 gallonen

6)



2 liter of Soda

- A. 5 gallonen
- B. 0.5 gallonen
- C. 2 Tassen
- D. 1 pint

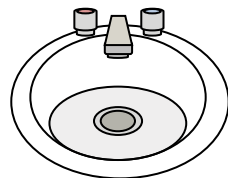
7)



Ink in a pen

- A. 2 pints
- B. 1 gallon
- C. weniger als 1 Tasse
- D. 1 quart

8)



Water in bathroom sink

- A. 2 Tassen
- B. 2 gallonen
- C. 2 pints
- D. 2 fluid ounces

9)



Liquid a spoon holds

- A. 1 quart
- B. 1 Tasse
- C. 1 pint
- D. Less than a cup