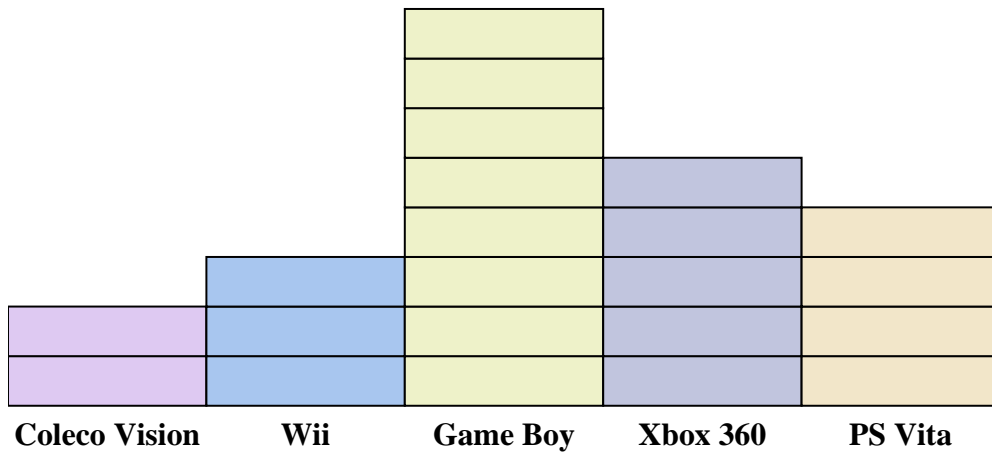
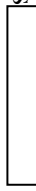




Löse jede Aufgabe.



Jedes  = 2 Menschen im Besitz

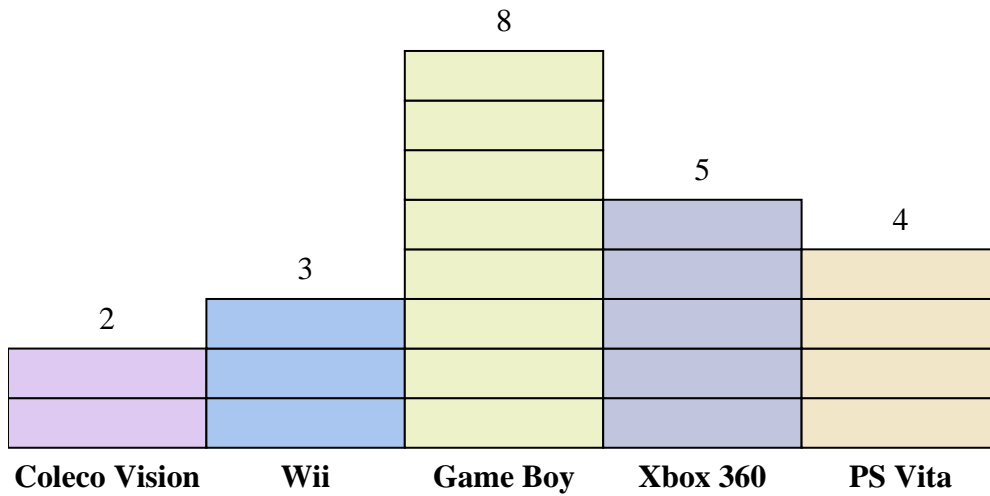
Antworten

1. _____
2. _____
3. _____
4. _____
5. _____
6. _____
7. _____
8. _____
9. _____
10. _____

- 1) Wie viele mehr Personen besaßen einen Xbox 360 als einen PS Vita?
- 2) Welche Konsole besaß die meisten Leute?
- 3) Welche Konsole besaßen die wenigsten Leute?
- 4) Wie viele Konsolen besaßen die Leute insgesamt?
- 5) Besitzen weniger Leute eine Coleco Visionen oder eine Gameboys?
- 6) Besitzen mehr Personen eine Wiis oder eine Gameboys?
- 7) Welche Konsole besaßen genau 8 Personen?
- 8) Wie viele Personen besaßen einen Coleco Vision?
- 9) Wie viele besitzen zusammen PS Vitas und Coleco Visionen?
- 10) Was ist der Unterschied zwischen der Anzahl der Besitzer eines Xbox 360 und der Anzahl der Besitzer eines Game Boy?



Löse jede Aufgabe.

Jedes = 2 Menschen im Besitz**Antworten**

1. 2
2. Game Boy
3. Coleco Vision
4. 44
5. Coleco Vision
6. Game Boy
7. PS Vita
8. 4
9. 12
10. 6

- 1) Wie viele mehr Personen besaßen einen Xbox 360 als einen PS Vita?
- 2) Welche Konsole besaß die meisten Leute?
- 3) Welche Konsole besaßen die wenigsten Leute?
- 4) Wie viele Konsolen besaßen die Leute insgesamt?
- 5) Besaßen weniger Leute eine Coleco Visionen oder eine Gameboys?
- 6) Besaßen mehr Personen eine Wiis oder eine Gameboys?
- 7) Welche Konsole besaßen genau 8 Personen?
- 8) Wie viele Personen besaßen einen Coleco Vision?
- 9) Wie viele besitzen zusammen PS Vitas und Coleco Visionen?
- 10) Was ist der Unterschied zwischen der Anzahl der Besitzer eines Xbox 360 und der Anzahl der Besitzer eines Game Boy?