



Bestimme, ob der gezeigte Winkel 'mehr', 'weniger' oder 'gleich' 90° ist.

**Antworten**

Bsp)



1)



2)



Bsp. mehr

1. \_\_\_\_\_

2. \_\_\_\_\_

3)



4)



5)



3. \_\_\_\_\_

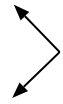
4. \_\_\_\_\_

5. \_\_\_\_\_

6)



7)



8)



6. \_\_\_\_\_

7. \_\_\_\_\_

8. \_\_\_\_\_

9)



10)



11)



9. \_\_\_\_\_

10. \_\_\_\_\_

11. \_\_\_\_\_

12)



13)



14)



12. \_\_\_\_\_

13. \_\_\_\_\_

14. \_\_\_\_\_

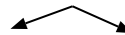
15)



16)



17)



15. \_\_\_\_\_

16. \_\_\_\_\_

17. \_\_\_\_\_

18)



19)



20)



18. \_\_\_\_\_

19. \_\_\_\_\_

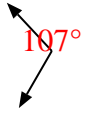
20. \_\_\_\_\_



Bestimme, ob der gezeigte Winkel 'mehr', 'weniger' oder 'gleich' 90° ist.

**Antworten**

Bsp)



1)



2)

Bsp. mehr1. gleich2. mehr3. gleich4. weniger5. weniger6. weniger7. gleich8. weniger9. mehr10. gleich11. gleich12. gleich13. mehr14. gleich15. mehr16. gleich17. mehr18. weniger19. weniger20. weniger

3)



4)



5)



6)



7)



8)



9)



10)



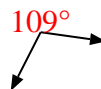
11)



12)



13)



14)



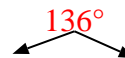
15)



16)



17)



18)



19)



20)

