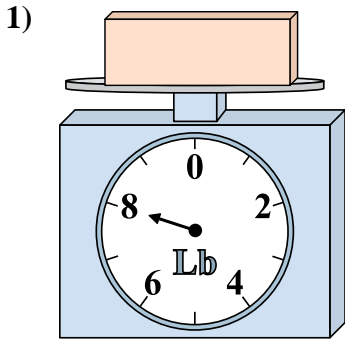


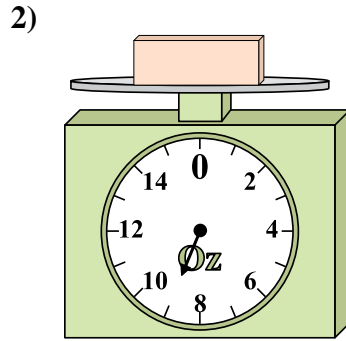


Benutze die Waage um die Fragen zu beantworten.

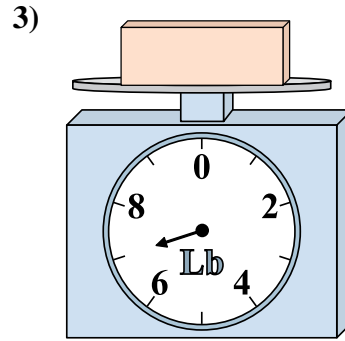
Antworten



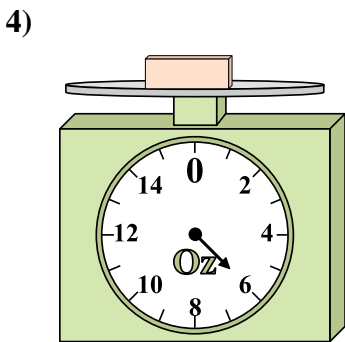
Wenn der gezeigte Block 6 Pfund leichter wäre, wie viel würde er dann wiegen?



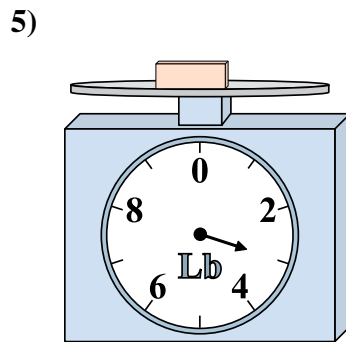
Wenn der gezeigte Block 8 Unzen leichter wäre, wie viel würde er dann wiegen?



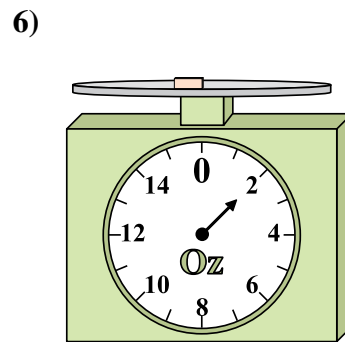
Wenn du 2 Blocks hast, die alle das gleiche Gewicht haben, wie viele Pfund würden die Blocks dann wiegen?



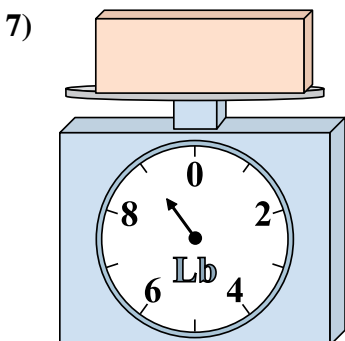
Wenn der gezeigte Block um 2 Unzen schwerer wäre, wie viel würde er dann wiegen?



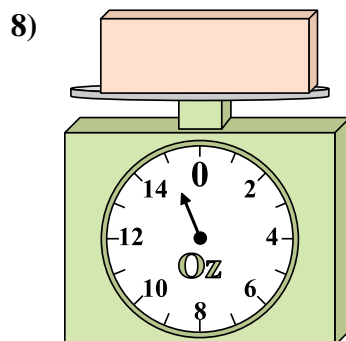
Wenn du 8 Blocks hast, die alle das gleiche Gewicht haben, wie viele Pfund würden die Blocks dann wiegen?



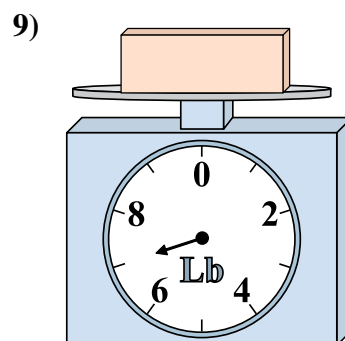
Wenn der gezeigte Block um 2 Unzen schwerer wäre, wie viel würde er dann wiegen?



Was ist das Gewicht (in Pfund) des Blocks?



Was ist das Gewicht (in Unzen) des Blocks?

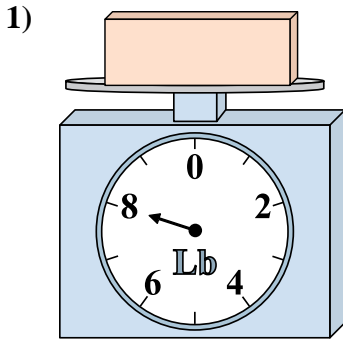


Wenn der gezeigte Block 3 Pfund leichter wäre, wie viel würde er dann wiegen?

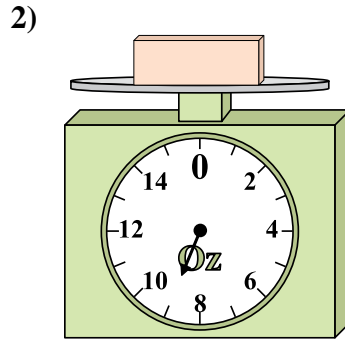
- 1. _____
- 2. _____
- 3. _____
- 4. _____
- 5. _____
- 6. _____
- 7. _____
- 8. _____
- 9. _____



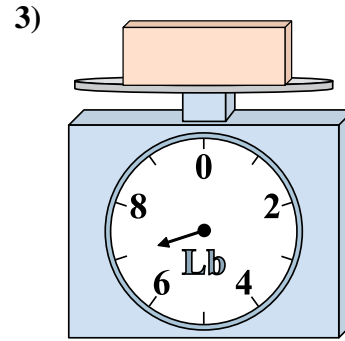
Benutze die Waage um die Fragen zu beantworten.

Antworten

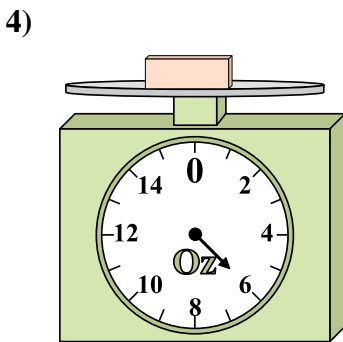
Wenn der gezeigte Block 6 Pfund leichter wäre, wie viel würde er dann wiegen?



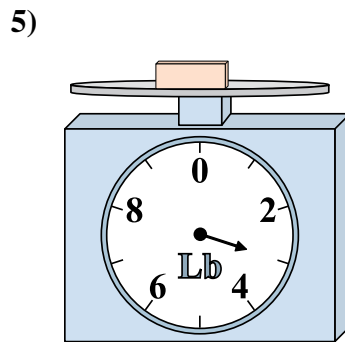
Wenn der gezeigte Block 8 Unzen leichter wäre, wie viel würde er dann wiegen?



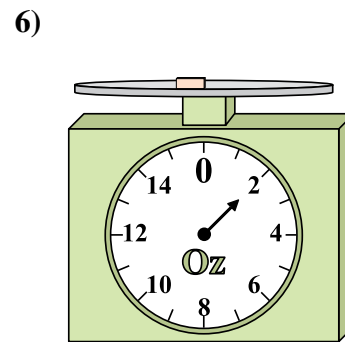
Wenn du 2 Blocks hast, die alle das gleiche Gewicht haben, wie viele Pfund würden die Blocks dann wiegen?



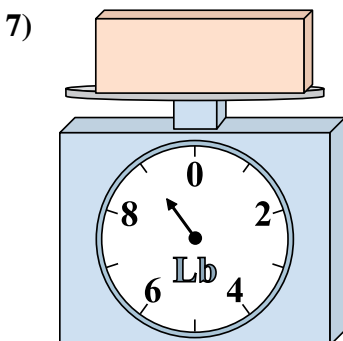
Wenn der gezeigte Block um 2 Unzen schwerer wäre, wie viel würde er dann wiegen?



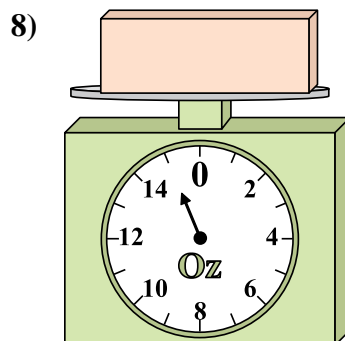
Wenn du 8 Blocks hast, die alle das gleiche Gewicht haben, wie viele Pfund würden die Blocks dann wiegen?



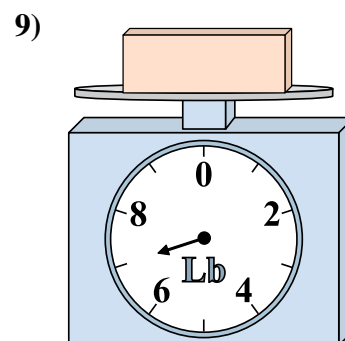
Wenn der gezeigte Block um 2 Unzen schwerer wäre, wie viel würde er dann wiegen?



Was ist das Gewicht (in Pfund) des Blocks?



Was ist das Gewicht (in Unzen) des Blocks?



Wenn der gezeigte Block 3 Pfund leichter wäre, wie viel würde er dann wiegen?

1. 2
2. 1
3. 14
4. 8
5. 24
6. 4
7. 9
8. 15
9. 4