




Benutze die Waage um die Fragen zu beantworten.


Antworten

1)




Wie groß ist das Gewicht (in Pfund) des Blocks?

2)




Wenn du 5 Blöcke hast, die alle gleich viel wiegen, wie viele Unzen wiegen die Blöcke zusammen?

3)




Wenn der gezeigte Block 3 Pfund schwerer wäre, wie viel würde er wiegen?

4)




Wie groß ist das Gewicht (in Unzen) des Blocks?

5)




Wenn du 8 Blöcke hast, die alle gleich viel wiegen, wie viele Pfund wiegen die Blöcke zusammen?

6)




Wenn du 6 Blöcke hast, die alle gleich viel wiegen, wie viele Unzen wiegen die Blöcke zusammen?

7)



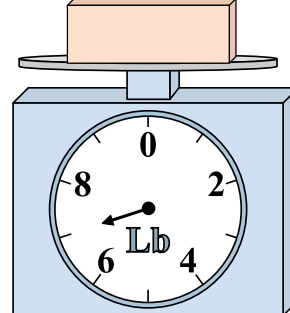
Wenn der gezeigte Block 3 Pfund schwerer wäre, wie viel würde er wiegen?

8)



Wenn der gezeigte Block 7 Unzen leichter wäre, wie viel würde er wiegen?

9)



Wie groß ist das Gewicht (in Pfund) des Blocks?


1. _____
2. _____
3. _____
4. _____
5. _____
6. _____
7. _____
8. _____
9. _____



Benutze die Waage um die Fragen zu beantworten.


Antworten

1)




Wie groß ist das Gewicht (in Pfund) des Blocks?

2)




Wenn du 5 Blöcke hast, die alle gleich viel wiegen, wie viele Unzen wiegen die Blöcke zusammen?

3)




Wenn der gezeigte Block 3 Pfund schwerer wäre, wie viel würde er wiegen?

4)




Wie groß ist das Gewicht (in Unzen) des Blocks?

5)




Wenn du 8 Blöcke hast, die alle gleich viel wiegen, wie viele Pfund wiegen die Blöcke zusammen?

6)




Wenn du 6 Blöcke hast, die alle gleich viel wiegen, wie viele Unzen wiegen die Blöcke zusammen?

7)



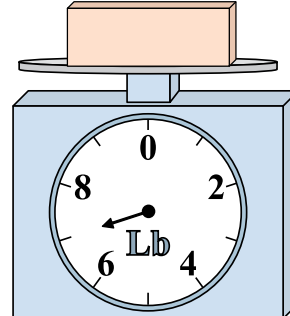
Wenn der gezeigte Block 3 Pfund schwerer wäre, wie viel würde er wiegen?

8)



Wenn der gezeigte Block 7 Unzen leichter wäre, wie viel würde er wiegen?

9)



Wie groß ist das Gewicht (in Pfund) des Blocks?

1. **9**
2. **35**
3. **4**
4. **14**
5. **8**
6. **84**
7. **4**
8. **3**
9. **7**