



Bestimme, welcher Buchstabe am besten das Gewicht des Objekts darstellt.

Antworten

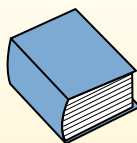
Gramma (g)

Un gramo es aproximadamente el peso de un clip.



Kilogramo (kilogramo)

Un kilogramo es aproximadamente el peso de un libro grueso.




Recuerda:

Kilo significa 1,000. Entonces, un kilogramo son 1,000 gramos. 1 kilogramo también pesa aproximadamente lo mismo que 2 libras.

1. _____
2. _____
3. _____
4. _____
5. _____
6. _____
7. _____
8. _____
9. _____

1)



2 Liter Soda

- A. 50 g
- B. 2 kg
- C. 100 g
- D. 3 g

2)



Großbildfernseher

- A. 20 g
- B. 20 kg
- C. 100 g
- D. 1000 kg

3)



Schaufel

- A. 30 kg
- B. 5 kg
- C. 10 g
- D. 1 g

4)



Monitor

- A. 500 kg
- B. 8 kg
- C. 8 g
- D. 500 g


5)



Klebestift

- A. 500 g
- B. 1 kg
- C. 62 g
- D. 1 g

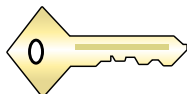
6)



Liege

- A. 150 g
- B. 1 kg
- C. 35 kg
- D. 90 g

7)



Taste

- A. 1 g
- B. 100 kg
- C. 100 g
- D. 1 kg

8)



Aktenschrank

- A. 1 g
- B. 55 kg
- C. 1 kg
- D. 300 g

9)



Besen

- A. 10 kg
- B. 200 kg
- C. 10 g
- D. 500 g



Bestimme, welcher Buchstabe am besten das Gewicht des Objekts darstellt.

Antworten

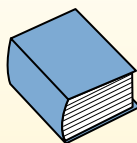
Gramma (g)

Un gramo es aproximadamente el peso de un clip.



Kilogramo (kilogramo)


Un kilogramo es aproximadamente el peso de un libro grueso.



Recuerda:

Kilo significa 1,000. Entonces, un kilogramo son 1,000 gramos. 1 kilogramo también pesa aproximadamente lo mismo que 2 libras.

1)



2 Liter Soda

- A. 50 g
- B. 2 kg
- C. 100 g
- D. 3 g

2)



Großbildfernseher

- A. 20 g
- B. 20 kg
- C. 100 g
- D. 1000 kg

3)



Schaufel

- A. 30 kg
- B. 5 kg
- C. 10 g
- D. 1 g

4)



Monitor

- A. 500 kg
- B. 8 kg
- C. 8 g
- D. 500 g


5)



Klebestift

- A. 500 g
- B. 1 kg
- C. 62 g
- D. 1 g

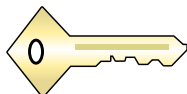
6)



Liege

- A. 150 g
- B. 1 kg
- C. 35 kg
- D. 90 g

7)



Taste

- A. 1 g
- B. 100 kg
- C. 100 g
- D. 1 kg

8)



Aktenschrank

- A. 1 g
- B. 55 kg
- C. 1 kg
- D. 300 g

9)



Besen

- A. 10 kg
- B. 200 kg
- C. 10 g
- D. 500 g

- 1. **B**
- 2. **B**
- 3. **B**
- 4. **B**
- 5. **C**
- 6. **C**
- 7. **C**
- 8. **B**
- 9. **D**



Bestimme, welcher Buchstabe am besten das Gewicht des Objekts darstellt.

Antworten

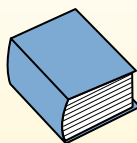
Gramma (g)

Un gramo es aproximadamente el peso de un clip.



Kilogramo (kilogramo)

Un kilogramo es aproximadamente el peso de un libro grueso.




Recuerda:

Kilo significa 1,000. Entonces, un kilogramo son 1,000 gramos. 1 kilogramo también pesa aproximadamente lo mismo que 2 libras.

- 1. _____
- 2. _____
- 3. _____
- 4. _____
- 5. _____
- 6. _____
- 7. _____
- 8. _____
- 9. _____


1)



Auto

- A. 15 g
- B. 2000 kg
- C. 6000 g
- D. 2 kg


2)



Rasenmäher

- A. 500 g
- B. 22 kg
- C. 200 g
- D. 100 kg

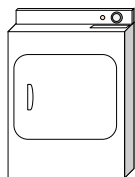
3)



Spinne

- A. 1 g
- B. 500 g
- C. 15 g
- D. 1 kg

4)



Wäschetrockner

- A. 60 g
- B. 3 g
- C. 60 kg
- D. 3 kg

5)



Stift

- A. 500 g
- B. 5000 g
- C. 5 g
- D. 5 kg


6)



Apfel

- A. 5 kg
- B. 200 kg
- C. 200 g
- D. 5 g

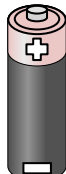
7)



Dose Soda

- A. 1 g
- B. 250 g
- C. 500 kg
- D. 2 kg

8)



Batterie

- A. 1 g
- B. 15 g
- C. 10 kg
- D. 90 kg

9)



Telefon

- A. 500 g
- B. 5 g
- C. 15 kg
- D. 500 kg



Bestimme, welcher Buchstabe am besten das Gewicht des Objekts darstellt.


Antworten

Gramma (g)

Un gramo es aproximadamente el peso de un clip.


**Kilogramo (kilogramo)**

Un kilogramo es aproximadamente el peso de un libro grueso.

**Recuerda:**

Kilo significa 1,000. Entonces, un kilogramo son 1,000 gramos. 1 kilogramo también pesa aproximadamente lo mismo que 2 libras.

1)



Auto

- A. 15 g
- B. 2000 kg
- C. 6000 g
- D. 2 kg

2)



Rasenmäher

- A. 500 g
- B. 22 kg
- C. 200 g
- D. 100 kg

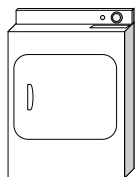
3)



Spinne

- A. 1 g
- B. 500 g
- C. 15 g
- D. 1 kg

4)



Wäschetrockner

- A. 60 g
- B. 3 g
- C. 60 kg
- D. 3 kg

5)



Stift

- A. 500 g
- B. 5000 g
- C. 5 g
- D. 5 kg


6)



Apfel

- A. 5 kg
- B. 200 kg
- C. 200 g
- D. 5 g

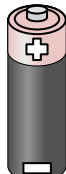
7)



Dose Soda

- A. 1 g
- B. 250 g
- C. 500 kg
- D. 2 kg

8)



Batterie

- A. 1 g
- B. 15 g
- C. 10 kg
- D. 90 kg

9)



Telefon

- A. 500 g
- B. 5 g
- C. 15 kg
- D. 500 kg

1. **B**2. **B**3. **A**4. **C**5. **C**6. **C**7. **B**8. **B**9. **A**



Bestimme, welcher Buchstabe am besten das Gewicht des Objekts darstellt.

Antworten

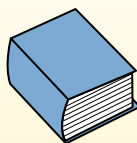
Gramma (g)

Un gramo es aproximadamente el peso de un clip.



Kilogramo (kilogramo)

Un kilogramo es aproximadamente el peso de un libro grueso.




Recuerda:

Kilo significa 1,000. Entonces, un kilogramo son 1,000 gramos. 1 kilogramo también pesa aproximadamente lo mismo que 2 libras.

1. _____
2. _____
3. _____
4. _____
5. _____
6. _____
7. _____
8. _____
9. _____

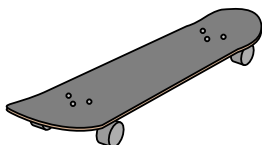
1)



Notizbuch Papier

- A. 1 kg
- B. 3 g
- C. 500 g
- D. 85 g

2)



Skateboard

- A. 20 g
- B. 15 kg
- C. 2 kg
- D. 200 g


3)



Besen

- A. 500 g
- B. 10 kg
- C. 10 g
- D. 200 kg

4)



Birne

- A. 2 kg
- B. 170 kg
- C. 170 g
- D. 2 g

5)



Rasenmäher

- A. 500 g
- B. 100 kg
- C. 200 g
- D. 22 kg

6)



Aktenschrank

- A. 55 kg
- B. 1 g
- C. 300 g
- D. 1 kg

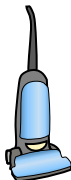
7)



Armbanduhr

- A. 1 g
- B. 90 g
- C. 1 kg
- D. 500 kg


8)



Vakuum

- A. 20 kg
- B. 90 g
- C. 500 kg
- D. 50 g

9)



Apfel

- A. 5 g
- B. 200 kg
- C. 200 g
- D. 5 kg



Bestimme, welcher Buchstabe am besten das Gewicht des Objekts darstellt.

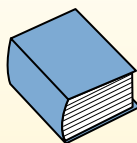
Antworten

Gramma (g)

Un gramo es aproximadamente el peso de un clip.


**Kilogramo (kilogramo)**

Un kilogramo es aproximadamente el peso de un libro grueso.

**Recuerda:**

Kilo significa 1,000. Entonces, un kilogramo son 1,000 gramos. 1 kilogramo también pesa aproximadamente lo mismo que 2 libras.

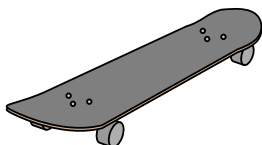
1)



Notizbuch Papier

- A. 1 kg
- B. 3 g
- C. 500 g
- D. 85 g

2)



Skateboard

- A. 20 g
- B. 15 kg
- C. 2 kg
- D. 200 g


3)



Besen

- A. 500 g
- B. 10 kg
- C. 10 g
- D. 200 kg


4)



Birne

- A. 2 kg
- B. 170 kg
- C. 170 g
- D. 2 g

5)



Rasenmäher

- A. 500 g
- B. 100 kg
- C. 200 g
- D. 22 kg

6)



Aktenschrank

- A. 55 kg
- B. 1 g
- C. 300 g
- D. 1 kg

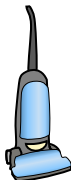
7)



Armbanduhr

- A. 1 g
- B. 90 g
- C. 1 kg
- D. 500 kg


8)



Vakuum

- A. 20 kg
- B. 90 g
- C. 500 kg
- D. 50 g

9)



Apfel

- A. 5 g
- B. 200 kg
- C. 200 g
- D. 5 kg

- 1. **B**
- 2. **C**
- 3. **A**
- 4. **C**
- 5. **D**
- 6. **A**
- 7. **B**
- 8. **A**
- 9. **C**



Bestimme, welcher Buchstabe am besten das Gewicht des Objekts darstellt.

Antworten

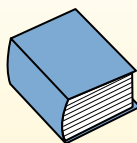
Gramma (g)

Un gramo es aproximadamente el peso de un clip.



Kilogramo (kilogramo)

Un kilogramo es aproximadamente el peso de un libro grueso.

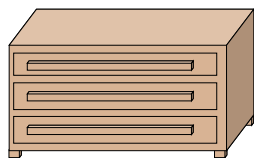


Recuerda:

Kilo significa 1,000. Entonces, un kilogramo son 1,000 gramos. 1 kilogramo también pesa aproximadamente lo mismo que 2 libras.

- 1. _____
- 2. _____
- 3. _____
- 4. _____
- 5. _____
- 6. _____
- 7. _____
- 8. _____
- 9. _____

1)



Kommode

- A. 500 kg
- B. 70 kg
- C. 20 g
- D. 350 g

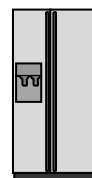
2)



Herd

- A. 70 kg
- B. 15 g
- C. 70 g
- D. 15 kg


3)



Kühlschrank

- A. 10 kg
- B. 40 g
- C. 90 kg
- D. 200 g

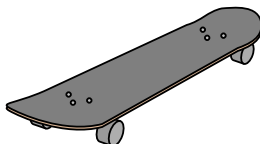
4)



Birne

- A. 170 kg
- B. 2 kg
- C. 170 g
- D. 2 g

5)



Skateboard

- A. 20 g
- B. 200 g
- C. 2 kg
- D. 15 kg

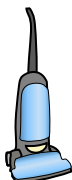
6)



Monitor

- A. 8 kg
- B. 500 g
- C. 500 kg
- D. 8 g


7)



Vakuum

- A. 20 kg
- B. 90 g
- C. 500 kg
- D. 50 g

8)



Liege

- A. 90 g
- B. 150 g
- C. 1 kg
- D. 35 kg

9)



Armbanduhr

- A. 500 kg
- B. 1 kg
- C. 1 g
- D. 90 g



Bestimme, welcher Buchstabe am besten das Gewicht des Objekts darstellt.

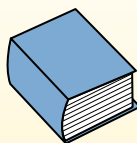
Antworten

Gramma (g)

Un gramo es aproximadamente el peso de un clip.

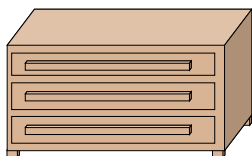
**Kilogramo (kilogramo)**

Un kilogramo es aproximadamente el peso de un libro grueso.

**Recuerda:**

Kilo significa 1,000. Entonces, un kilogramo son 1,000 gramos. 1 kilogramo también pesa aproximadamente lo mismo que 2 libras.

1)



Kommode

- A. 500 kg
- B. 70 kg
- C. 20 g
- D. 350 g

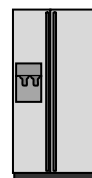
2)



Herd

- A. 70 kg
- B. 15 g
- C. 70 g
- D. 15 kg


3)



Kühlschrank

- A. 10 kg
- B. 40 g
- C. 90 kg
- D. 200 g

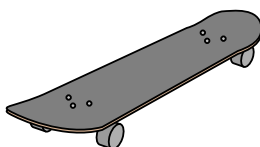
4)



Birne

- A. 170 kg
- B. 2 kg
- C. 170 g
- D. 2 g

5)



Skateboard

- A. 20 g
- B. 200 g
- C. 2 kg
- D. 15 kg

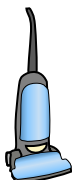
6)



Monitor

- A. 8 kg
- B. 500 g
- C. 500 kg
- D. 8 g


7)



Vakuum

- A. 20 kg
- B. 90 g
- C. 500 kg
- D. 50 g

8)



Liege

- A. 90 g
- B. 150 g
- C. 1 kg
- D. 35 kg

9)



Armbanduhr

- A. 500 kg
- B. 1 kg
- C. 1 g
- D. 90 g

- 1. **B**
- 2. **A**
- 3. **C**
- 4. **C**
- 5. **C**
- 6. **A**
- 7. **A**
- 8. **D**
- 9. **D**



Bestimme, welcher Buchstabe am besten das Gewicht des Objekts darstellt.

Antworten

Gramma (g)

Un gramo es aproximadamente el peso de un clip.



Kilogramo (kilogramo)

Un kilogramo es aproximadamente el peso de un libro grueso.

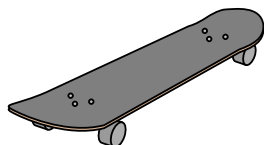


Recuerda:

Kilo significa 1,000. Entonces, un kilogramo son 1,000 gramos. 1 kilogramo también pesa aproximadamente lo mismo que 2 libras.

1. _____
2. _____
3. _____
4. _____
5. _____
6. _____
7. _____
8. _____
9. _____

1)



Skateboard

- A. 20 g
- B. 200 g
- C. 15 kg
- D. 2 kg

2)



Schaufel

- A. 1 g
- B. 5 kg
- C. 10 g
- D. 30 kg


3)



Kerze

- A. 4 g
- B. 10 kg
- C. 500 g
- D. 2 kg

4)



Käfer

- A. 500 g
- B. 1 g
- C. 2 kg
- D. 5000 g

5)



Spinne

- A. 1 g
- B. 15 g
- C. 500 g
- D. 1 kg

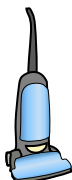
6)



Klebestift

- A. 1 g
- B. 500 g
- C. 1 kg
- D. 62 g

7)



Vakuum

- A. 500 kg
- B. 50 g
- C. 90 g
- D. 20 kg

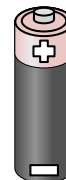
8)



Liege

- A. 90 g
- B. 1 kg
- C. 150 g
- D. 35 kg

9)



Batterie

- A. 15 g
- B. 10 kg
- C. 1 g
- D. 90 kg



Bestimme, welcher Buchstabe am besten das Gewicht des Objekts darstellt.

Antworten

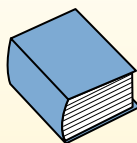
Gramma (g)

Un gramo es aproximadamente el peso de un clip.



Kilogramo (kilogramo)

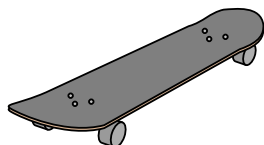
Un kilogramo es aproximadamente el peso de un libro grueso.



Recuerda:

Kilo significa 1,000. Entonces, un kilogramo son 1,000 gramos. 1 kilogramo también pesa aproximadamente lo mismo que 2 libras.

1)



Skateboard

- A. 20 g
- B. 200 g
- C. 15 kg
- D. 2 kg

2)



Schaufel

- A. 1 g
- B. 5 kg
- C. 10 g
- D. 30 kg


3)



Kerze

- A. 4 g
- B. 10 kg
- C. 500 g
- D. 2 kg

4)



Käfer

- A. 500 g
- B. 1 g
- C. 2 kg
- D. 5000 g

5)



Spinne

- A. 1 g
- B. 15 g
- C. 500 g
- D. 1 kg

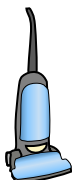
6)



Klebestift

- A. 1 g
- B. 500 g
- C. 1 kg
- D. 62 g


7)



Vakuum

- A. 500 kg
- B. 50 g
- C. 90 g
- D. 20 kg

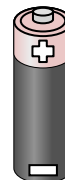
8)



Liege

- A. 90 g
- B. 1 kg
- C. 150 g
- D. 35 kg

9)



Batterie

- A. 15 g
- B. 10 kg
- C. 1 g
- D. 90 kg

- 1. **D**
- 2. **B**
- 3. **A**
- 4. **B**
- 5. **A**
- 6. **D**
- 7. **D**
- 8. **D**
- 9. **A**



Bestimme, welcher Buchstabe am besten das Gewicht des Objekts darstellt.

Antworten

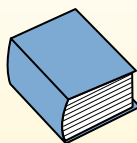
Gramma (g)

Un gramo es aproximadamente el peso de un clip.



Kilogramo (kilogramo)

Un kilogramo es aproximadamente el peso de un libro grueso.




Recuerda:

Kilo significa 1,000. Entonces, un kilogramo son 1,000 gramos. 1 kilogramo también pesa aproximadamente lo mismo que 2 libras.

1. _____
2. _____
3. _____
4. _____
5. _____
6. _____
7. _____
8. _____
9. _____


1)



Notizbuch Papier

- A. 3 g
- B. 85 g
- C. 1 kg
- D. 500 g

2)



Käfer

- A. 2 kg
- B. 5000 g
- C. 500 g
- D. 1 g

3)



Zahnbürste

- A. 15 kg
- B. 30 g
- C. 500 kg
- D. 1 g

4)



Stift

- A. 5 kg
- B. 5 g
- C. 5000 g
- D. 500 g

5)



Auto

- A. 2000 kg
- B. 15 g
- C. 6000 g
- D. 2 kg

6)



Getreidekiste

- A. 5 g
- B. 425 kg
- C. 425 g
- D. 5 kg

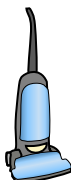
7)



Insekt

- A. 50 g
- B. 50 kg
- C. 1 kg
- D. 1 g

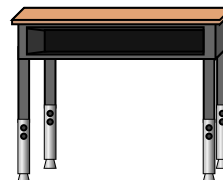
8)



Vakuum

- A. 500 kg
- B. 50 g
- C. 20 kg
- D. 90 g

9)



Schreibtisch

- A. 300 kg
- B. 15 kg
- C. 15 g
- D. 300 g



Bestimme, welcher Buchstabe am besten das Gewicht des Objekts darstellt.

Antworten

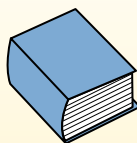
Gramma (g)

Un gramo es aproximadamente el peso de un clip.



Kilogramo (kilogramo)


Un kilogramo es aproximadamente el peso de un libro grueso.



Recuerda:

Kilo significa 1,000. Entonces, un kilogramo son 1,000 gramos. 1 kilogramo también pesa aproximadamente lo mismo que 2 libras.


1)



Notizbuch Papier

- A. 3 g
- B. 85 g
- C. 1 kg
- D. 500 g

2)



Käfer

- A. 2 kg
- B. 5000 g
- C. 500 g
- D. 1 g

3)



Zahnbürste

- A. 15 g
- B. 30 g
- C. 500 kg
- D. 1 g


4)



Stift

- A. 5 kg
- B. 5 g
- C. 5000 g
- D. 500 g

5)



Auto

- A. 2000 kg
- B. 15 g
- C. 6000 g
- D. 2 kg

6)



Getreidekiste

- A. 5 g
- B. 425 kg
- C. 425 g
- D. 5 kg

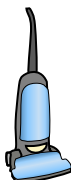
7)



Insekt

- A. 50 g
- B. 50 kg
- C. 1 kg
- D. 1 g

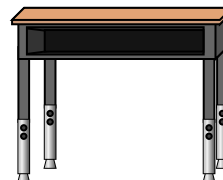
8)



Vakuum

- A. 500 kg
- B. 50 g
- C. 20 kg
- D. 90 g

9)



Schreibtisch

- A. 300 kg
- B. 15 kg
- C. 15 g
- D. 300 g

- 1. **A**
- 2. **D**
- 3. **B**
- 4. **B**
- 5. **A**
- 6. **C**
- 7. **D**
- 8. **C**
- 9. **B**



Bestimme, welcher Buchstabe am besten das Gewicht des Objekts darstellt.

Antworten

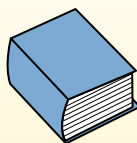
Gramma (g)

Un gramo es aproximadamente el peso de un clip.



Kilogramo (kilogramo)

Un kilogramo es aproximadamente el peso de un libro grueso.



Recuerda:

Kilo significa 1,000. Entonces, un kilogramo son 1,000 gramos. 1 kilogramo también pesa aproximadamente lo mismo que 2 libras.

- 1. _____
- 2. _____
- 3. _____
- 4. _____
- 5. _____
- 6. _____
- 7. _____
- 8. _____
- 9. _____

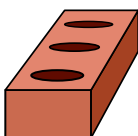
1)



Kerze

- A. 10 kg
- B. 500 g
- C. 4 g
- D. 2 kg


2)



Ziegel

- A. 2 kg
- B. 500 kg
- C. 3 g
- D. 500 g


3)



Feder

- A. 200 g
- B. 200 kg
- C. 1 kg
- D. 1 g

4)



Bügeleisen

- A. 15 g
- B. 100 g
- C. 15 kg
- D. 2 kg

5)



Schaufel

- A. 30 kg
- B. 5 kg
- C. 10 g
- D. 1 g

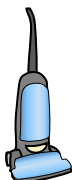
6)



Aktenschrank

- A. 1 g
- B. 1 kg
- C. 55 kg
- D. 300 g

7)



Vakuum

- A. 20 kg
- B. 500 kg
- C. 90 g
- D. 50 g


8)



Flash Drive

- A. 10 g
- B. 90 kg
- C. 10 kg
- D. 1 kg

9)



Erwachsenes Pferd

- A. 30 kg
- B. 400 kg
- C. 400 g
- D. 30 g



Bestimme, welcher Buchstabe am besten das Gewicht des Objekts darstellt.

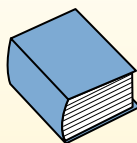
Antworten

Gramma (g)

Un gramo es aproximadamente el peso de un clip.

**Kilogramo (kilogramo)**

Un kilogramo es aproximadamente el peso de un libro grueso.

**Recuerda:**

Kilo significa 1,000. Entonces, un kilogramo son 1,000 gramos. 1 kilogramo también pesa aproximadamente lo mismo que 2 libras.

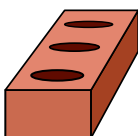
1)



Kerze

- A. 10 kg
- B. 500 g
- C. 4 g
- D. 2 kg


2)



Ziegel

- A. 2 kg
- B. 500 kg
- C. 3 g
- D. 500 g

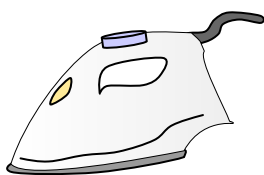
3)



Feder

- A. 200 g
- B. 200 kg
- C. 1 kg
- D. 1 g

4)



Bügeleisen

- A. 15 g
- B. 100 g
- C. 15 kg
- D. 2 kg

5)



Schaufel

- A. 30 kg
- B. 5 kg
- C. 10 g
- D. 1 g

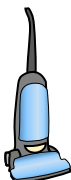
6)



Aktenschrank

- A. 1 g
- B. 1 kg
- C. 55 kg
- D. 300 g

7)



Vakuum

- A. 20 kg
- B. 500 kg
- C. 90 g
- D. 50 g


8)



Flash Drive

- A. 10 g
- B. 90 kg
- C. 10 kg
- D. 1 kg

9)



Erwachsenes Pferd

- A. 30 kg
- B. 400 kg
- C. 400 g
- D. 30 g

- 1. **C**
- 2. **A**
- 3. **D**
- 4. **D**
- 5. **B**
- 6. **C**
- 7. **A**
- 8. **A**
- 9. **B**



Bestimme, welcher Buchstabe am besten das Gewicht des Objekts darstellt.

Antworten


Gramma (g)

Un gramo es aproximadamente el peso de un clip.



Kilogramo (kilogramo)

Un kilogramo es aproximadamente el peso de un libro grueso.



Recuerda:

Kilo significa 1,000. Entonces, un kilogramo son 1,000 gramos. 1 kilogramo también pesa aproximadamente lo mismo que 2 libras.

- 1. _____
- 2. _____
- 3. _____
- 4. _____
- 5. _____
- 6. _____
- 7. _____
- 8. _____
- 9. _____

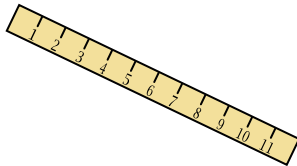
1)



Tennis Ball

- A. 1 g
- B. 15 kg
- C. 1 kg
- D. 50 g

2)



Herrscher

- A. 999 g
- B. 30 kg
- C. 20 g
- D. 1 g

3)



Kerze

- A. 4 g
- B. 10 kg
- C. 500 g
- D. 2 kg

4)



Gewichtssatz

- A. 200 g
- B. 1 kg
- C. 100 kg
- D. 100 g

5)



Popcorn

- A. 1 kg
- B. 100 g
- C. 100 kg
- D. 1 g

6)



Herd

- A. 15 kg
- B. 15 g
- C. 70 g
- D. 70 kg

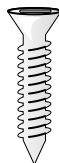
7)



Nagel

- A. 3 g
- B. 500 g
- C. 3 kg
- D. 2 kg

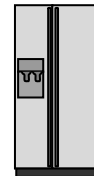
8)



Schrauben

- A. 1 g
- B. 500 kg
- C. 500 g
- D. 1 kg

9)



Kühlschrank

- A. 40 g
- B. 200 g
- C. 10 kg
- D. 90 kg



Bestimme, welcher Buchstabe am besten das Gewicht des Objekts darstellt.

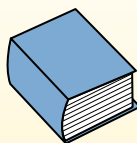
Antworten

Gramma (g)

Un gramo es aproximadamente el peso de un clip.

**Kilogramo (kilogramo)**

Un kilogramo es aproximadamente el peso de un libro grueso.

**Recuerda:**

Kilo significa 1,000. Entonces, un kilogramo son 1,000 gramos. 1 kilogramo también pesa aproximadamente lo mismo que 2 libras.

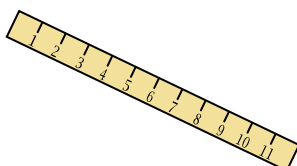
1)



Tennis Ball

- A. 1 g
- B. 15 kg
- C. 1 kg
- D. 50 g

2)



Herrscher

- A. 999 g
- B. 30 kg
- C. 20 g
- D. 1 g

3)



Kerze

- A. 4 g
- B. 10 kg
- C. 500 g
- D. 2 kg

4)



Gewichtssatz

- A. 200 g
- B. 1 kg
- C. 100 kg
- D. 100 g

5)



Popcorn

- A. 1 kg
- B. 100 g
- C. 100 kg
- D. 1 g

6)



Herd

- A. 15 kg
- B. 15 g
- C. 70 g
- D. 70 kg

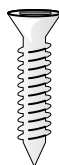
7)



Nagel

- A. 3 g
- B. 500 g
- C. 3 kg
- D. 2 kg

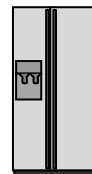
8)



Schrauben

- A. 1 g
- B. 500 kg
- C. 500 g
- D. 1 kg

9)



Kühlschrank

- A. 40 g
- B. 200 g
- C. 10 kg
- D. 90 kg

- 1. **D**
- 2. **C**
- 3. **A**
- 4. **C**
- 5. **D**
- 6. **D**
- 7. **A**
- 8. **A**
- 9. **D**



Bestimme, welcher Buchstabe am besten das Gewicht des Objekts darstellt.

Antworten

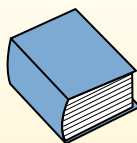
Gramma (g)

Un gramo es aproximadamente el peso de un clip.



Kilogramo (kilogramo)

Un kilogramo es aproximadamente el peso de un libro grueso.

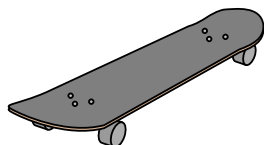


Recuerda:

Kilo significa 1,000. Entonces, un kilogramo son 1,000 gramos. 1 kilogramo también pesa aproximadamente lo mismo que 2 libras.

1. _____
2. _____
3. _____
4. _____
5. _____
6. _____
7. _____
8. _____
9. _____

1)



Skateboard

- A. 15 kg
- B. 2 kg
- C. 20 g
- D. 200 g

2)



Großbildfernseher

- A. 20 kg
- B. 1000 kg
- C. 100 g
- D. 20 g

3)



2 Liter Soda

- A. 100 g
- B. 3 g
- C. 2 kg
- D. 50 g


4)



Stift

- A. 5 kg
- B. 5000 g
- C. 500 g
- D. 5 g

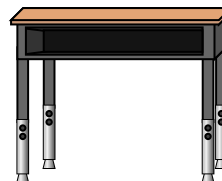
5)



Käfer

- A. 1 g
- B. 500 g
- C. 5000 g
- D. 2 kg

6)



Schreibtisch

- A. 300 g
- B. 15 kg
- C. 300 kg
- D. 15 g

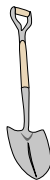
7)



Besen

- A. 200 kg
- B. 10 g
- C. 10 kg
- D. 500 g


8)



Schaufel

- A. 30 kg
- B. 5 kg
- C. 1 g
- D. 10 g

9)



Elefant

- A. 30 kg
- B. 90 g
- C. 5000 g
- D. 5000 kg



Bestimme, welcher Buchstabe am besten das Gewicht des Objekts darstellt.

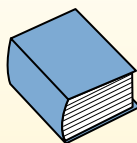
Antworten

Gramma (g)

Un gramo es aproximadamente el peso de un clip.

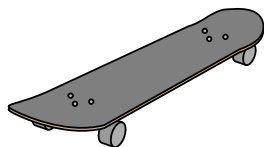
**Kilogramo (kilogramo)**

Un kilogramo es aproximadamente el peso de un libro grueso.

**Recuerda:**

Kilo significa 1,000. Entonces, un kilogramo son 1,000 gramos. 1 kilogramo también pesa aproximadamente lo mismo que 2 libras.

1)



Skateboard

- A. 15 kg
- B. 2 kg
- C. 20 g
- D. 200 g

2)



Großbildfernseher

- A. 20 kg
- B. 1000 kg
- C. 100 g
- D. 20 g

3)



2 Liter Soda

- A. 100 g
- B. 3 g
- C. 2 kg
- D. 50 g


4)



Stift

- A. 5 kg
- B. 5000 g
- C. 500 g
- D. 5 g

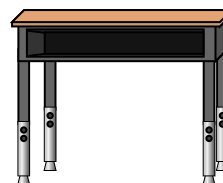
5)



Käfer

- A. 1 g
- B. 500 g
- C. 5000 g
- D. 2 kg

6)



Schreibtisch

- A. 300 g
- B. 15 kg
- C. 300 kg
- D. 15 g

7)



Besen

- A. 200 kg
- B. 10 g
- C. 10 kg
- D. 500 g


8)



Schaufel

- A. 30 kg
- B. 5 kg
- C. 1 g
- D. 10 g

9)



Elefant

- A. 30 kg
- B. 90 g
- C. 5000 g
- D. 5000 kg

- 1. **B**
- 2. **A**
- 3. **C**
- 4. **D**
- 5. **A**
- 6. **B**
- 7. **D**
- 8. **B**
- 9. **D**



Bestimme, welcher Buchstabe am besten das Gewicht des Objekts darstellt.

Antworten

Gramma (g)

Un gramo es aproximadamente el peso de un clip.



Kilogramo (kilogramo)

Un kilogramo es aproximadamente el peso de un libro grueso.




Recuerda:

Kilo significa 1,000. Entonces, un kilogramo son 1,000 gramos. 1 kilogramo también pesa aproximadamente lo mismo que 2 libras.

- 1. _____
- 2. _____
- 3. _____
- 4. _____
- 5. _____
- 6. _____
- 7. _____
- 8. _____
- 9. _____

1)



Apfel

- A. 200 g
- B. 5 g
- C. 5 kg
- D. 200 kg

2)



Flash Drive

- A. 10 kg
- B. 10 g
- C. 1 kg
- D. 90 g

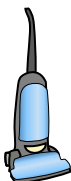
3)



Armbanduhr

- A. 500 kg
- B. 1 g
- C. 90 g
- D. 1 kg

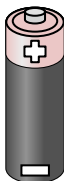
4)



Vakuuum

- A. 500 kg
- B. 90 g
- C. 20 kg
- D. 50 g

5)



Batterie

- A. 10 kg
- B. 90 kg
- C. 15 g
- D. 1 g

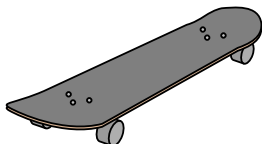
6)



Zahnbürste

- A. 30 g
- B. 500 kg
- C. 1 g
- D. 15 kg

7)



Skateboard

- A. 20 g
- B. 200 g
- C. 15 kg
- D. 2 kg


8)



Tennis Ball

- A. 15 kg
- B. 1 kg
- C. 1 g
- D. 50 g

9)



Birne

- A. 170 kg
- B. 2 kg
- C. 170 g
- D. 2 g



Bestimme, welcher Buchstabe am besten das Gewicht des Objekts darstellt.


Antworten

Gramma (g)

Un gramo es aproximadamente el peso de un clip.


**Kilogramo (kilogramo)**

Un kilogramo es aproximadamente el peso de un libro grueso.

**Recuerda:**

Kilo significa 1,000. Entonces, un kilogramo son 1,000 gramos. 1 kilogramo también pesa aproximadamente lo mismo que 2 libras.

1)



Apfel

- A. 200 g
- B. 5 g
- C. 5 kg
- D. 200 kg

2)



Flash Drive

- A. 10 kg
- B. 10 g
- C. 1 kg
- D. 90 kg

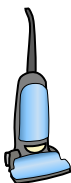
3)



Armbanduhr

- A. 500 kg
- B. 1 g
- C. 90 g
- D. 1 kg


4)



Vakuum

- A. 500 kg
- B. 90 g
- C. 20 kg
- D. 50 g

5)



Batterie

- A. 10 kg
- B. 90 kg
- C. 15 g
- D. 1 g

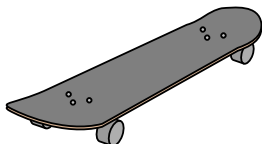
6)



Zahnbürste

- A. 30 g
- B. 500 kg
- C. 1 g
- D. 15 kg

7)



Skateboard

- A. 20 g
- B. 200 g
- C. 15 kg
- D. 2 kg


8)



Tennis Ball

- A. 15 kg
- B. 1 kg
- C. 1 g
- D. 50 g

9)



Birne

- A. 170 kg
- B. 2 kg
- C. 170 g
- D. 2 g

1. **A**2. **B**3. **C**4. **C**5. **C**6. **A**7. **D**8. **D**9. **C**