



Bestimme, welcher Buchstabe am besten das Gewicht des Objekts darstellt.


Antworten

**Gramma (g)**

Un gramo es aproximadamente el peso de un clip.


**Kilogramo (kilogramo)**

Un kilogramo es aproximadamente el peso de un libro grueso.

**Recuerda:**

Kilo significa 1,000. Entonces, un kilogramo son 1,000 gramos. 1 kilogramo también pesa aproximadamente lo mismo que 2 libras.

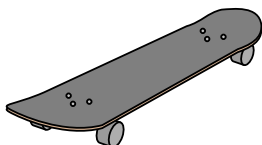
1)



Notizbuch Papier

- A. 1 kg
- B. 3 g
- C. 500 g
- D. 85 g

2)



Skateboard

- A. 20 g
- B. 15 kg
- C. 2 kg
- D. 200 g


3)



Besen

- A. 500 g
- B. 10 kg
- C. 10 g
- D. 200 kg


4)



Birne

- A. 2 kg
- B. 170 kg
- C. 170 g
- D. 2 g

5)



Rasenmäher

- A. 500 g
- B. 100 kg
- C. 200 g
- D. 22 kg

6)



Aktenschrank

- A. 55 kg
- B. 1 g
- C. 300 g
- D. 1 kg

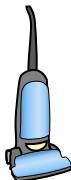
7)



Armbanduhr

- A. 1 g
- B. 90 g
- C. 1 kg
- D. 500 kg

8)



Vakuum

- A. 20 kg
- B. 90 g
- C. 500 kg
- D. 50 g

9)



Apfel

- A. 5 g
- B. 200 kg
- C. 200 g
- D. 5 kg

1. \_\_\_\_\_
2. \_\_\_\_\_
3. \_\_\_\_\_
4. \_\_\_\_\_
5. \_\_\_\_\_
6. \_\_\_\_\_
7. \_\_\_\_\_
8. \_\_\_\_\_
9. \_\_\_\_\_



Bestimme, welcher Buchstabe am besten das Gewicht des Objekts darstellt.

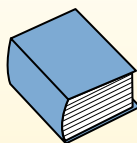
Antworten

**Gramma (g)**

Un gramo es aproximadamente el peso de un clip.


**Kilogramo (kilogramo)**

Un kilogramo es aproximadamente el peso de un libro grueso.

**Recuerda:**

Kilo significa 1,000. Entonces, un kilogramo son 1,000 gramos. 1 kilogramo también pesa aproximadamente lo mismo que 2 libras.

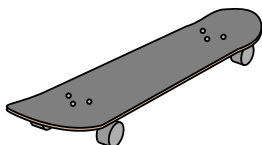
1)



Notizbuch Papier

- A. 1 kg
- B. 3 g
- C. 500 g
- D. 85 g

2)



Skateboard

- A. 20 g
- B. 15 kg
- C. 2 kg
- D. 200 g


3)



Besen

- A. 500 g
- B. 10 kg
- C. 10 g
- D. 200 kg

4)



Birne

- A. 2 kg
- B. 170 kg
- C. 170 g
- D. 2 g

5)



Rasenmäher

- A. 500 g
- B. 100 kg
- C. 200 g
- D. 22 kg

6)



Aktenschrank

- A. 55 kg
- B. 1 g
- C. 300 g
- D. 1 kg

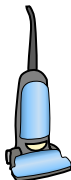
7)



Armbanduhr

- A. 1 g
- B. 90 g
- C. 1 kg
- D. 500 kg


8)



Vakuum

- A. 20 kg
- B. 90 g
- C. 500 kg
- D. 50 g

9)



Apfel

- A. 5 g
- B. 200 kg
- C. 200 g
- D. 5 kg

1. **B**2. **C**3. **A**4. **C**5. **D**6. **A**7. **B**8. **A**9. **C**