



Bestimme, welcher Buchstabe am besten das Gewicht des Objekts darstellt.

Antworten

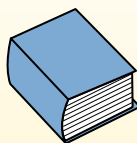
**Gramma (g)**

Un gramo es aproximadamente el peso de un clip.



**Kilogramo (kilogramo)**

Un kilogramo es aproximadamente el peso de un libro grueso.




**Recuerda:**

Kilo significa 1,000. Entonces, un kilogramo son 1,000 gramos. 1 kilogramo también pesa aproximadamente lo mismo que 2 libras.

- 1. \_\_\_\_\_
- 2. \_\_\_\_\_
- 3. \_\_\_\_\_
- 4. \_\_\_\_\_
- 5. \_\_\_\_\_
- 6. \_\_\_\_\_
- 7. \_\_\_\_\_
- 8. \_\_\_\_\_
- 9. \_\_\_\_\_

1)



Apfel

- A. 200 g
- B. 5 g
- C. 5 kg
- D. 200 kg

2)



Flash Drive

- A. 10 kg
- B. 10 g
- C. 1 kg
- D. 90 g

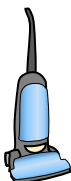
3)



Armbanduhr

- A. 500 kg
- B. 1 g
- C. 90 g
- D. 1 kg


4)



Vakuuum

- A. 500 kg
- B. 90 g
- C. 20 kg
- D. 50 g

5)



Batterie

- A. 10 kg
- B. 90 kg
- C. 15 g
- D. 1 g

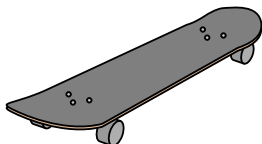
6)



Zahnbürste

- A. 30 g
- B. 500 kg
- C. 1 g
- D. 15 kg

7)



Skateboard

- A. 20 g
- B. 200 g
- C. 15 kg
- D. 2 kg


8)



Tennis Ball

- A. 15 kg
- B. 1 kg
- C. 1 g
- D. 50 g

9)



Birne

- A. 170 kg
- B. 2 kg
- C. 170 g
- D. 2 g



Bestimme, welcher Buchstabe am besten das Gewicht des Objekts darstellt.

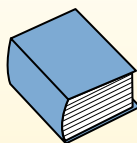
Antworten

**Gramma (g)**

Un gramo es aproximadamente el peso de un clip.


**Kilogramo (kilogramo)**

Un kilogramo es aproximadamente el peso de un libro grueso.

**Recuerda:**

Kilo significa 1,000. Entonces, un kilogramo son 1,000 gramos. 1 kilogramo también pesa aproximadamente lo mismo que 2 libras.

1)



Apfel

- A. 200 g
- B. 5 g
- C. 5 kg
- D. 200 kg

2)



Flash Drive

- A. 10 kg
- B. 10 g
- C. 1 kg
- D. 90 kg

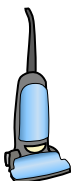
3)



Armbanduhr

- A. 500 kg
- B. 1 g
- C. 90 g
- D. 1 kg


4)



Vakuum

- A. 500 kg
- B. 90 g
- C. 20 kg
- D. 50 g

5)



Batterie

- A. 10 kg
- B. 90 kg
- C. 15 g
- D. 1 g

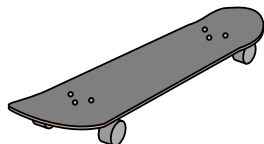
6)



Zahnbürste

- A. 30 g
- B. 500 kg
- C. 1 g
- D. 15 kg

7)



Skateboard

- A. 20 g
- B. 200 g
- C. 15 kg
- D. 2 kg


8)



Tennis Ball

- A. 15 kg
- B. 1 kg
- C. 1 g
- D. 50 g

9)



Birne

- A. 170 kg
- B. 2 kg
- C. 170 g
- D. 2 g

1. **A**2. **B**3. **C**4. **C**5. **C**6. **A**7. **D**8. **D**9. **C**