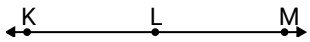




Löse jede Aufgabe.

Antworten

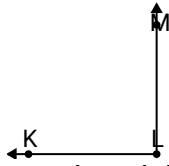
1)



Durch welche
Möglichkeit wird $\angle KLM$
dargestellt?

- A. 180°
- B. 94°
- C. 8°
- D. 134°

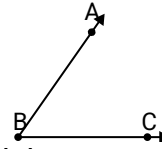
2)



Durch welche
Möglichkeit wird $\angle KLM$
dargestellt?

- A. 130°
- B. 90°
- C. 19°
- D. 57°

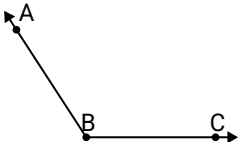
3)



Durch welche
Möglichkeit wird $\angle ABC$
dargestellt?

- A. 19°
- B. 169°
- C. 137°
- D. 55°

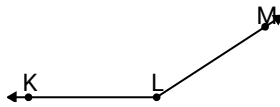
4)



Durch welche
Möglichkeit wird $\angle ABC$
dargestellt?

- A. 96°
- B. 68°
- C. 123°
- D. 3°

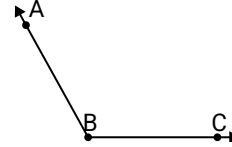
5)



Durch welche
Möglichkeit wird $\angle KLM$
dargestellt?

- A. 147°
- B. 17°
- C. 115°
- D. 63°

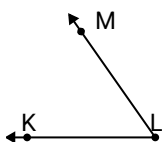
6)



Durch welche
Möglichkeit wird $\angle ABC$
dargestellt?

- A. 40°
- B. 119°
- C. 162°
- D. 84°

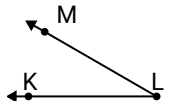
7)



Durch welche
Möglichkeit wird $\angle KLM$
dargestellt?

- A. 152°
- B. 179°
- C. 112°
- D. 55°

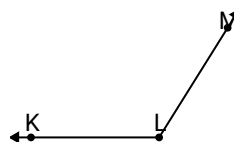
8)



Durch welche
Möglichkeit wird $\angle KLM$
dargestellt?

- A. 175°
- B. 61°
- C. 93°
- D. 30°

9)



Durch welche
Möglichkeit wird $\angle KLM$
dargestellt?

- A. 62°
- B. 6°
- C. 122°
- D. 97°

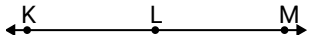
- 1. _____
- 2. _____
- 3. _____
- 4. _____
- 5. _____
- 6. _____
- 7. _____
- 8. _____
- 9. _____



Löse jede Aufgabe.

Antworten

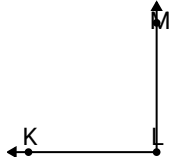
1)



Durch welche
Möglichkeit wird $\angle KLM$
dargestellt?

- A. 180°
- B. 94°
- C. 8°
- D. 134°

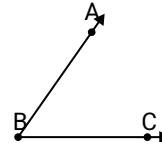
2)



Durch welche
Möglichkeit wird $\angle KLM$
dargestellt?

- A. 130°
- B. 90°
- C. 19°
- D. 57°

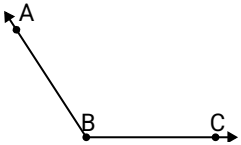
3)



Durch welche
Möglichkeit wird $\angle ABC$
dargestellt?

- A. 19°
- B. 169°
- C. 137°
- D. 55°

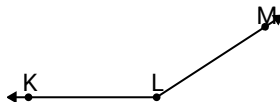
4)



Durch welche
Möglichkeit wird $\angle ABC$
dargestellt?

- A. 96°
- B. 68°
- C. 123°
- D. 3°

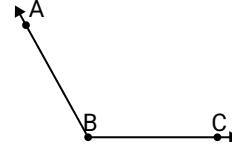
5)



Durch welche
Möglichkeit wird $\angle KLM$
dargestellt?

- A. 147°
- B. 17°
- C. 115°
- D. 63°

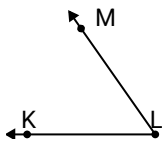
6)



Durch welche
Möglichkeit wird $\angle ABC$
dargestellt?

- A. 40°
- B. 119°
- C. 162°
- D. 84°

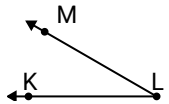
7)



Durch welche
Möglichkeit wird $\angle KLM$
dargestellt?

- A. 152°
- B. 179°
- C. 112°
- D. 55°

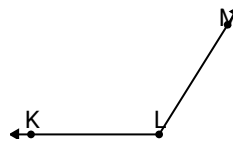
8)



Durch welche
Möglichkeit wird $\angle KLM$
dargestellt?

- A. 175°
- B. 61°
- C. 93°
- D. 30°

9)



Durch welche
Möglichkeit wird $\angle KLM$
dargestellt?

- A. 62°
- B. 6°
- C. 122°
- D. 97°

- | | |
|----|----------|
| 1. | A |
| 2. | B |
| 3. | D |
| 4. | C |
| 5. | A |
| 6. | B |
| 7. | D |
| 8. | D |
| 9. | C |