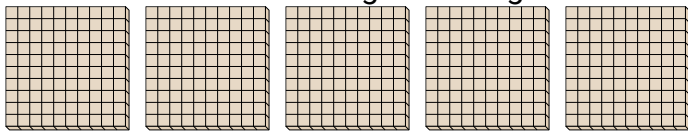


**Schaue dir die Gruppen an um jede Frage zu beantworten.****Antworten**

- 1) a. Wie viele Gruppen zu 100 gibt es?  
b. Wie viele kleine Blöcke gibt es insgesamt?

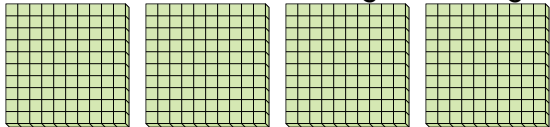


1. \_\_\_\_

2. \_\_\_\_

3. \_\_\_\_

- 2) a. Wie viele Gruppen zu 100 gibt es?  
b. Wie viele kleine Blöcke gibt es insgesamt?

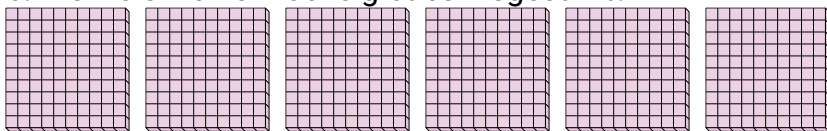


4. \_\_\_\_

5. \_\_\_\_

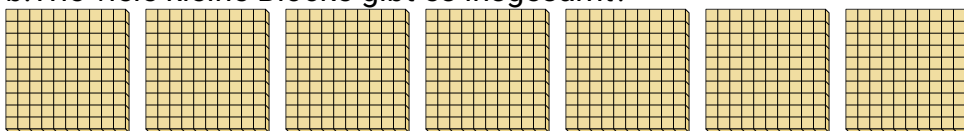
6. \_\_\_\_

- 3) a. Wie viele Gruppen zu 100 gibt es?  
b. Wie viele kleine Blöcke gibt es insgesamt?




7. \_\_\_\_

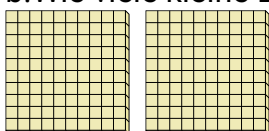
- 4) a. Wie viele Gruppen zu 100 gibt es?  
b. Wie viele kleine Blöcke gibt es insgesamt?



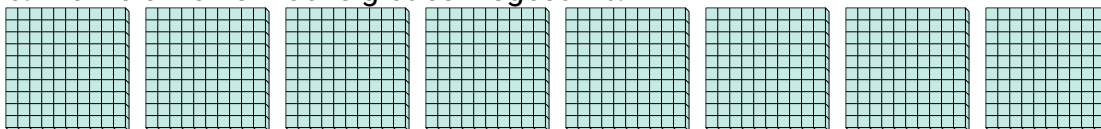
- 5) a. Wie viele Gruppen zu 100 gibt es?  
b. Wie viele kleine Blöcke gibt es insgesamt?



- 6) a. Wie viele Gruppen zu 100 gibt es?  
b. Wie viele kleine Blöcke gibt es insgesamt?



- 7) a. Wie viele Gruppen zu 100 gibt es?  
b. Wie viele kleine Blöcke gibt es insgesamt?

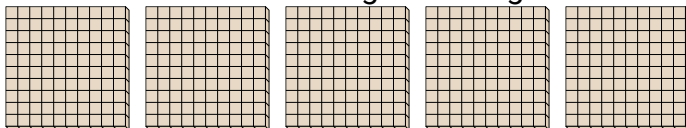




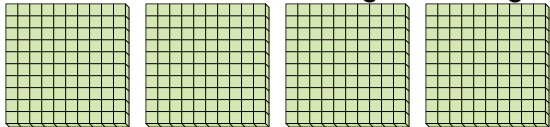
Schaue dir die Gruppen an um jede Frage zu beantworten.

**Antworten**

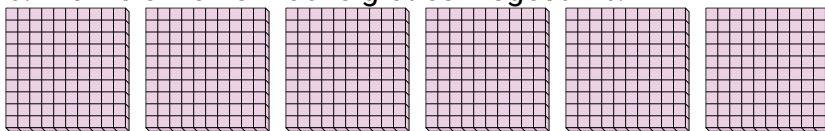
- 1) a. Wie viele Gruppen zu 100 gibt es?  
b. Wie viele kleine Blöcke gibt es insgesamt?

1. **5** **500**

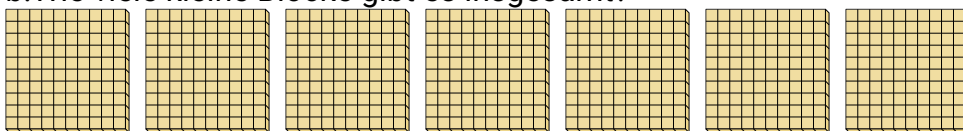
- 2) a. Wie viele Gruppen zu 100 gibt es?  
b. Wie viele kleine Blöcke gibt es insgesamt?

2. **4** **400**3. **6** **600**4. **7** **700**5. **3** **300**6. **2** **200**7. **8** **800**


- 3) a. Wie viele Gruppen zu 100 gibt es?  
b. Wie viele kleine Blöcke gibt es insgesamt?



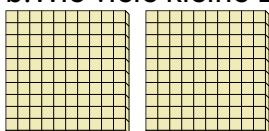
- 4) a. Wie viele Gruppen zu 100 gibt es?  
b. Wie viele kleine Blöcke gibt es insgesamt?



- 5) a. Wie viele Gruppen zu 100 gibt es?  
b. Wie viele kleine Blöcke gibt es insgesamt?



- 6) a. Wie viele Gruppen zu 100 gibt es?  
b. Wie viele kleine Blöcke gibt es insgesamt?



- 7) a. Wie viele Gruppen zu 100 gibt es?  
b. Wie viele kleine Blöcke gibt es insgesamt?

