




Vergleiche die Anzahl der Formen.

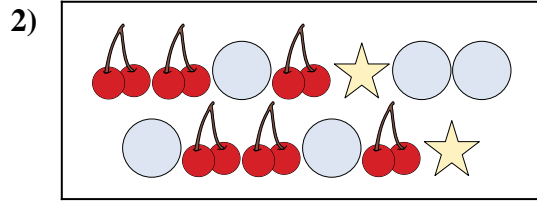
Antworten



Gibt es mehr oder mehr ?

A.

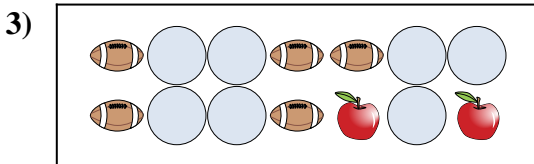
B.



Gibt es mehr oder mehr ?

A.

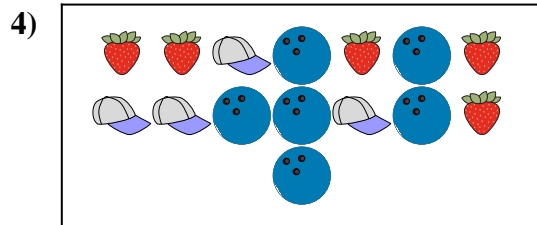
B.



Gibt es mehr oder mehr ?

A.


B.



Gibt es mehr oder mehr ?

A.


B.



Gibt es weniger oder weniger ?

A.

B.



Gibt es weniger oder weniger ?

A.


B.

- 1. \_\_\_\_\_
- 2. \_\_\_\_\_
- 3. \_\_\_\_\_
- 4. \_\_\_\_\_
- 5. \_\_\_\_\_
- 6. \_\_\_\_\_



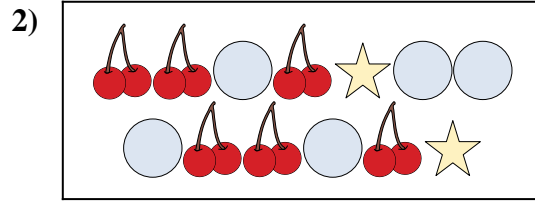
Vergleiche die Anzahl der Formen.

Antworten



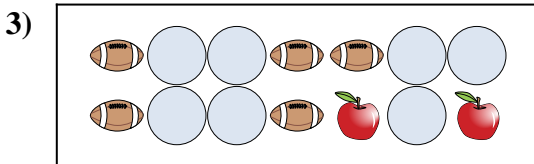
Gibt es mehr oder mehr ?

- A.
- B.



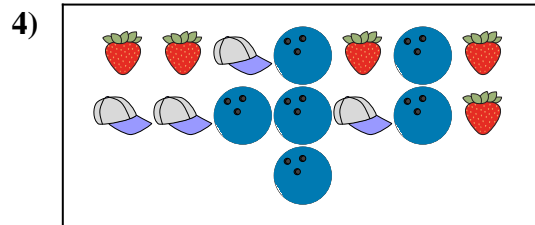
Gibt es mehr oder mehr ?

- A.
- B.




Gibt es mehr oder mehr ?

- A.
- B.




Gibt es mehr oder mehr ?

- A.
- B.



Gibt es weniger oder weniger ?

- A.
- B.



Gibt es weniger oder weniger ?


- A.
- B.

- 1.     **B**
- 2.     **A**
- 3.     **A**
- 4.     **B**
- 5.     **B**
- 6.     **B**



Vergleiche die Anzahl der Formen.

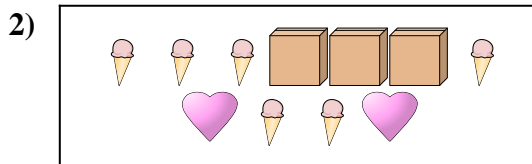
Antworten



Gibt es mehr oder mehr ?

A.


B.



Gibt es mehr oder mehr ?

A.


B.



Gibt es weniger oder weniger ?

A.

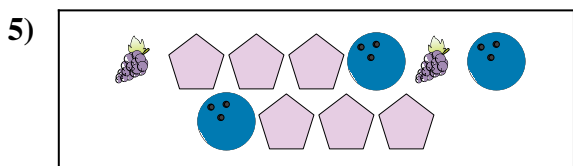
B.



Gibt es weniger oder weniger ?

A.


B.



Gibt es weniger oder weniger ?

A.

B.



Gibt es weniger oder weniger ?

A.


B.

- 1. \_\_\_\_\_
- 2. \_\_\_\_\_
- 3. \_\_\_\_\_
- 4. \_\_\_\_\_
- 5. \_\_\_\_\_
- 6. \_\_\_\_\_




Vergleiche die Anzahl der Formen.

Antworten




Gibt es mehr oder mehr ?

- A.
- B.




Gibt es mehr oder mehr ?

- A.
- B.



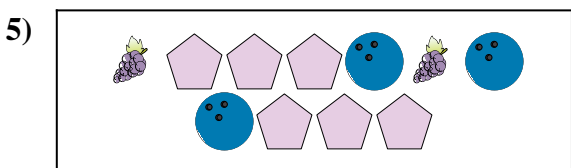
Gibt es weniger oder weniger ?

- A.
- B.




Gibt es weniger oder weniger ?

- A.
- B.



Gibt es weniger oder weniger ?

- A.
- B.



Gibt es weniger oder weniger ?


- A.
- B.

- 1.     **B**
- 2.     **B**
- 3.     **A**
- 4.     **A**
- 5.     **B**
- 6.     **B**




Vergleiche die Anzahl der Formen.

Antworten



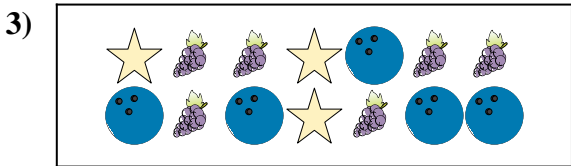
Gibt es mehr oder mehr ?

- A.
- B.




Gibt es weniger oder weniger ?

- A.
- B.




Gibt es weniger oder weniger ?

- A.
- B.



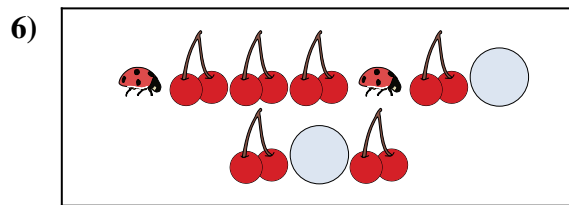
Gibt es weniger oder weniger ?

- A.
- B.



Gibt es mehr oder mehr ?

- A.
- B.



Gibt es weniger oder weniger ?

- A.
- B.

1. \_\_\_\_\_

2. \_\_\_\_\_

3. \_\_\_\_\_

4. \_\_\_\_\_


5. \_\_\_\_\_

6. \_\_\_\_\_




Vergleiche die Anzahl der Formen.

Antworten



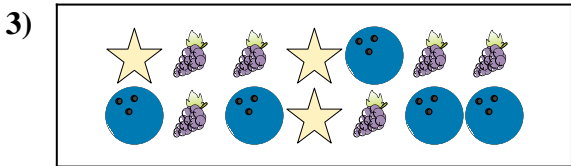
Gibt es mehr oder mehr ?

- A.
- B.




Gibt es weniger oder weniger ?

- A.
- B.




Gibt es weniger oder weniger ?

- A.
- B.



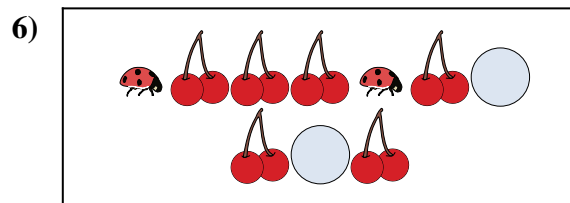
Gibt es weniger oder weniger ?

- A.
- B.



Gibt es mehr oder mehr ?

- A.
- B.



Gibt es weniger oder weniger ?

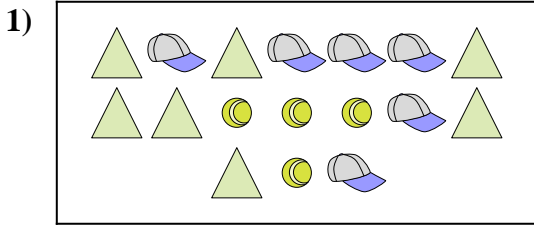
- A.
- B.

- 1. **B**
- 2. **B**
- 3. **B**
- 4. **B**
- 5. **A**
- 6. **B**




Vergleiche die Anzahl der Formen.

Antworten




Gibt es mehr oder mehr ?

- A.
- B.



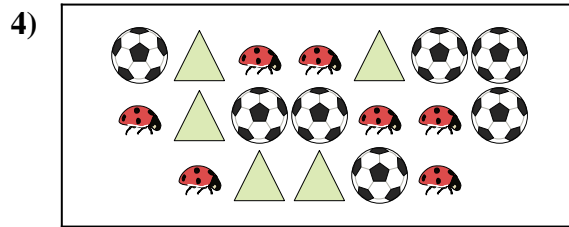
Gibt es weniger oder weniger ?

- A.
- B.



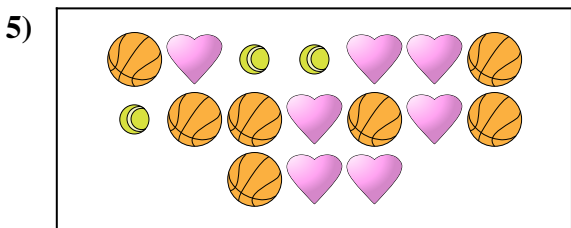
Gibt es weniger oder weniger ?

- A.
- B.




Gibt es weniger oder weniger ?

- A.
- B.



Gibt es weniger oder weniger ?

- A.
- B.



Gibt es weniger oder weniger ?

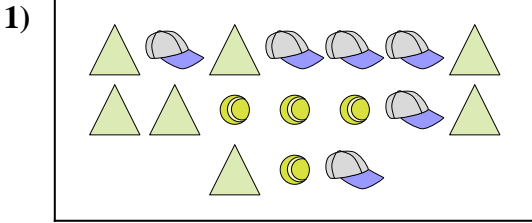
- A.
- B.

- 1. \_\_\_\_\_
- 2. \_\_\_\_\_
- 3. \_\_\_\_\_
- 4. \_\_\_\_\_
- 5. \_\_\_\_\_
- 6. \_\_\_\_\_




Vergleiche die Anzahl der Formen.

Antworten




Gibt es mehr oder mehr ?

- A.
- B.



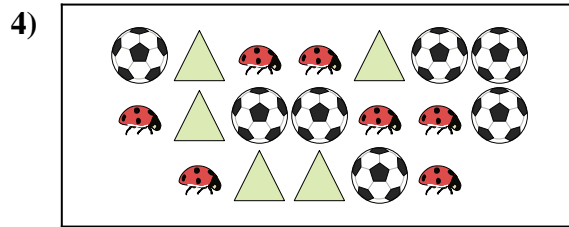
Gibt es weniger oder weniger ?

- A.
- B.



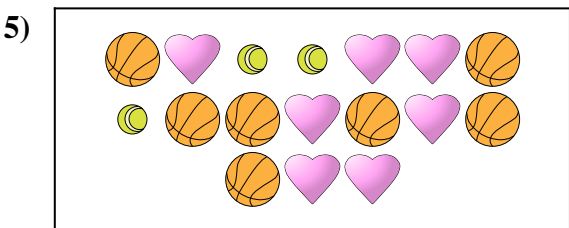
Gibt es weniger oder weniger ?

- A.
- B.




Gibt es weniger oder weniger ?

- A.
- B.



Gibt es weniger oder weniger ?

- A.
- B.



Gibt es weniger oder weniger ?

- A.
- B.


- 1.   A
- 2.   A
- 3.   A
- 4.   A
- 5.   A
- 6.   A







Vergleiche die Anzahl der Formen.


Antworten




Gibt es mehr oder mehr ?




Gibt es mehr oder mehr ?



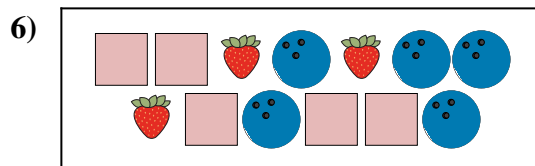
Gibt es weniger oder weniger ?



Gibt es mehr oder mehr ?



Gibt es weniger oder weniger ?



Gibt es mehr oder mehr ?




1. \_\_\_\_\_
2. \_\_\_\_\_
3. \_\_\_\_\_
4. \_\_\_\_\_
5. \_\_\_\_\_
6. \_\_\_\_\_



Vergleiche die Anzahl der Formen.


Antworten



Gibt es mehr oder mehr ?

A.


B.



Gibt es mehr oder mehr ?

A.


B.



Gibt es weniger oder weniger ?

A.


B.



Gibt es mehr oder mehr ?

A.

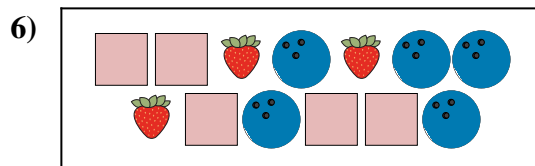
B.



Gibt es weniger oder weniger ?

A.

B.



Gibt es mehr oder mehr ?

A.


B.

- 1. **A**
- 2. **B**
- 3. **B**
- 4. **B**
- 5. **A**
- 6. **B**




Vergleiche die Anzahl der Formen.

Antworten




Gibt es weniger oder weniger ?

- A.
- B.



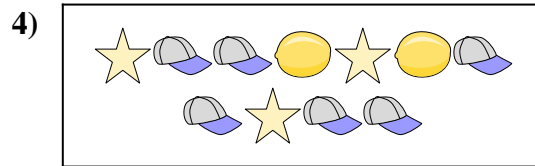
Gibt es mehr oder mehr ?

- A.
- B.




Gibt es mehr oder mehr ?

- A.
- B.




Gibt es mehr oder mehr ?

- A.
- B.



Gibt es weniger oder weniger ?

- A.
- B.



Gibt es weniger oder weniger ?


- A.
- B.

- 1. \_\_\_\_\_
- 2. \_\_\_\_\_
- 3. \_\_\_\_\_
- 4. \_\_\_\_\_
- 5. \_\_\_\_\_
- 6. \_\_\_\_\_



Vergleiche die Anzahl der Formen.

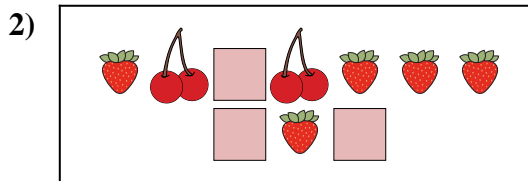
Antworten



Gibt es weniger oder weniger ?

A.


B.



Gibt es mehr oder mehr ?

A.

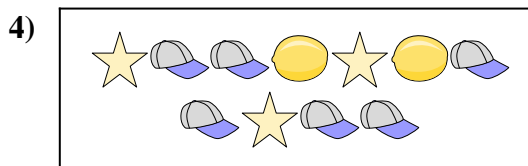
B.



Gibt es mehr oder mehr ?

A.


B.



Gibt es mehr oder mehr ?

A.


B.



Gibt es weniger oder weniger ?

A.

B.



Gibt es weniger oder weniger ?

A.

B.

1. **A**

2. **A**

3. **A**

4. **B**

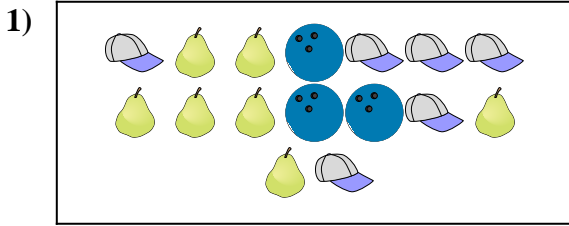
5. **B**

6. **A**




Vergleiche die Anzahl der Formen.

Antworten



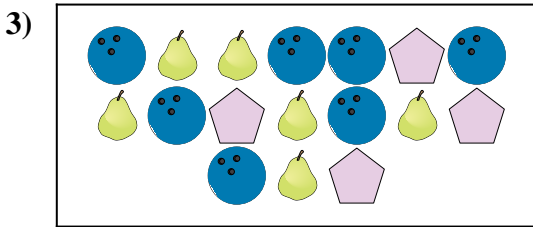
Gibt es weniger oder weniger ?

- A.
- B.



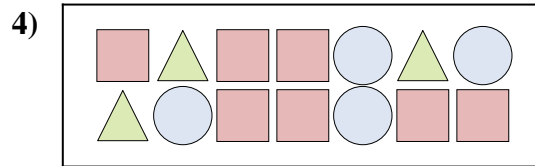
Gibt es weniger oder weniger ?

- A.
- B.




Gibt es mehr oder mehr ?

- A.
- B.




Gibt es mehr oder mehr ?

- A.
- B.



Gibt es mehr oder mehr ?

- A.
- B.



Gibt es weniger oder weniger ?

- A.
- B.

1. \_\_\_\_\_

2. \_\_\_\_\_

3. \_\_\_\_\_

4. \_\_\_\_\_

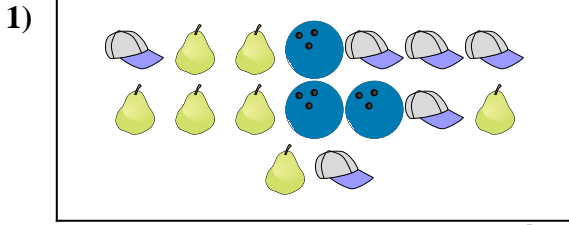
5. \_\_\_\_\_

6. \_\_\_\_\_




Vergleiche die Anzahl der Formen.

Antworten



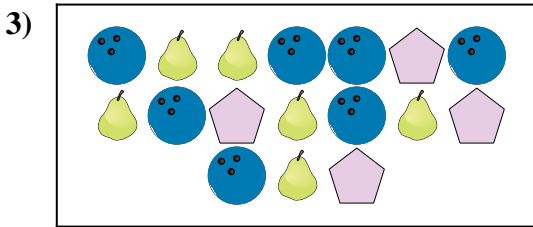
Gibt es weniger oder weniger ?

- A.
- B.



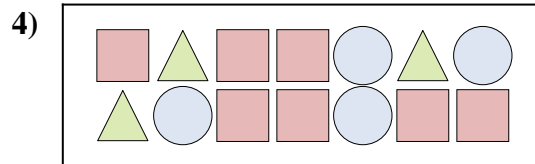
Gibt es weniger oder weniger ?

- A.
- B.




Gibt es mehr oder mehr ?

- A.
- B.




Gibt es mehr oder mehr ?

- A.
- B.



Gibt es mehr oder mehr ?

- A.
- B.



Gibt es weniger oder weniger ?

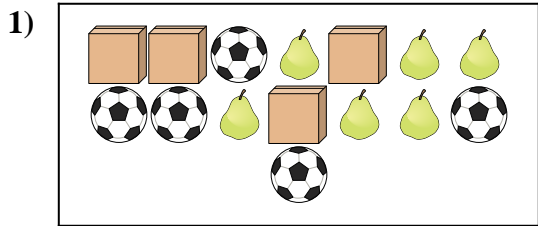
- A.
- B.

- 1.     **B**
- 2.     **A**
- 3.     **A**
- 4.     **A**
- 5.     **A**
- 6.     **A**

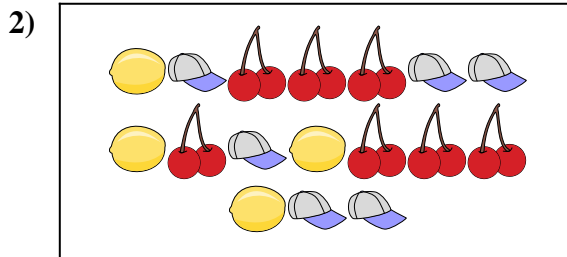


Vergleiche die Anzahl der Formen.

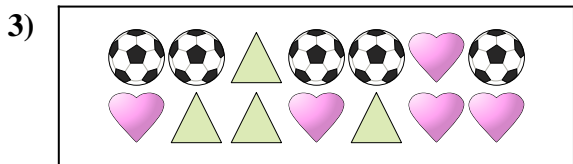
Antworten



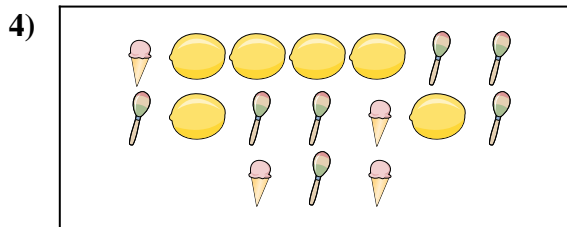
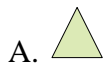
Gibt es mehr oder mehr ?




Gibt es weniger oder weniger ?



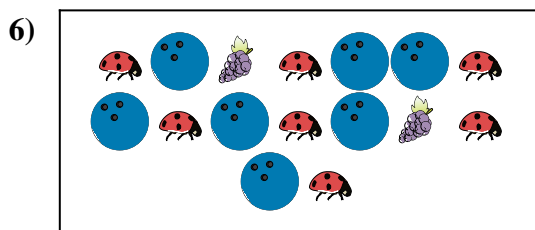
Gibt es weniger oder weniger ?



Gibt es weniger oder weniger ?



Gibt es mehr oder mehr ?



Gibt es mehr oder mehr ?

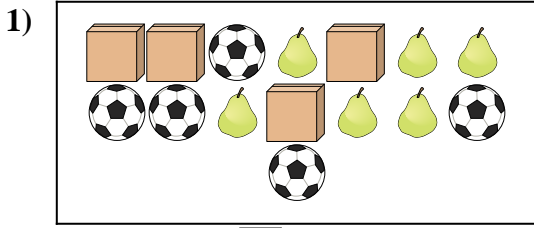


1. \_\_\_\_\_
2. \_\_\_\_\_
3. \_\_\_\_\_
4. \_\_\_\_\_
5. \_\_\_\_\_
6. \_\_\_\_\_

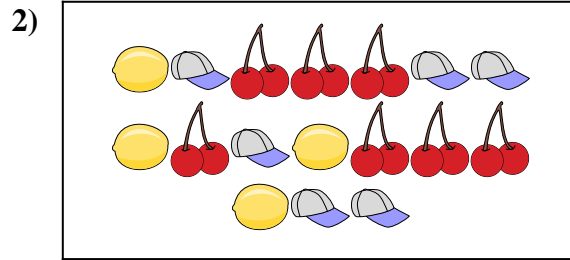


Vergleiche die Anzahl der Formen.

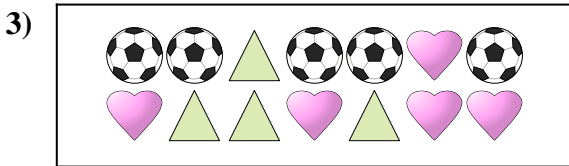
Antworten




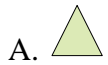
Gibt es mehr oder mehr ?




Gibt es weniger oder weniger ?



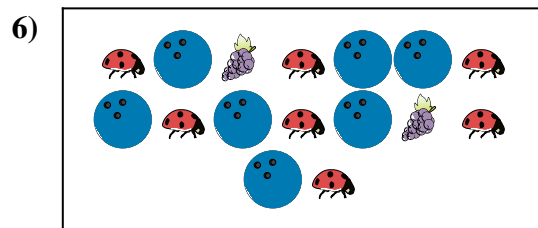
Gibt es weniger oder weniger ?



Gibt es weniger oder weniger ?



Gibt es mehr oder mehr ?



Gibt es mehr oder mehr ?




1. **B**
2. **A**
3. **A**
4. **A**
5. **B**
6. **B**






Vergleiche die Anzahl der Formen.

Antworten



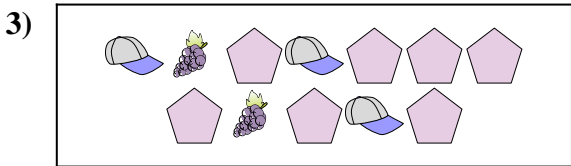
Gibt es mehr oder mehr ?

- A.
- B.



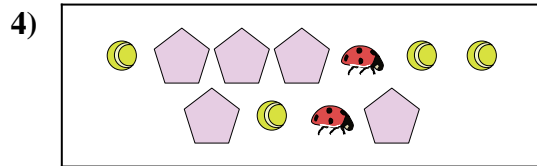
Gibt es weniger oder weniger ?

- A.
- B.



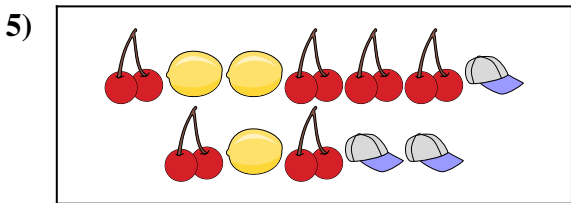
Gibt es weniger oder weniger ?

- A.
- B.



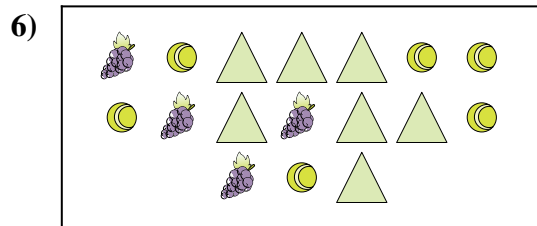
Gibt es mehr oder mehr ?

- A.
- B.



Gibt es weniger oder weniger ?

- A.
- B.



Gibt es mehr oder mehr ?


- A.
- B.

- 1. \_\_\_\_\_
- 2. \_\_\_\_\_
- 3. \_\_\_\_\_
- 4. \_\_\_\_\_
- 5. \_\_\_\_\_
- 6. \_\_\_\_\_




Vergleiche die Anzahl der Formen.

Antworten



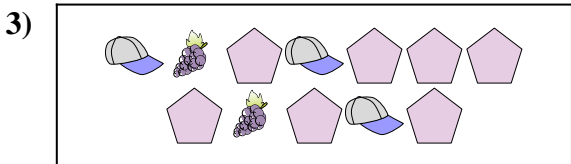
Gibt es mehr oder mehr ?

- A.
- B.



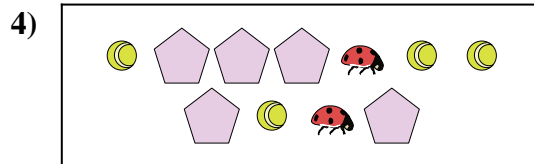
Gibt es weniger oder weniger ?

- A.
- B.



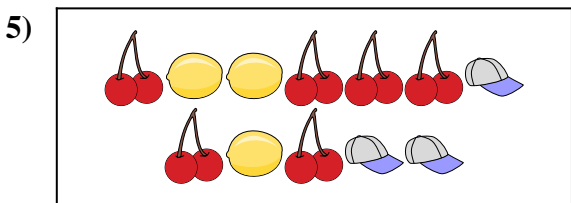
Gibt es weniger oder weniger ?

- A.
- B.



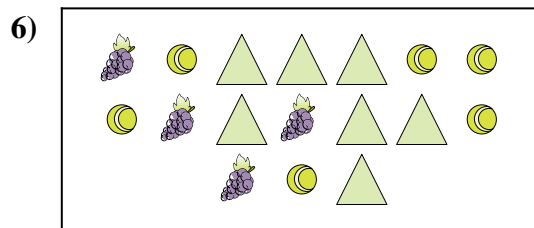
Gibt es mehr oder mehr ?

- A.
- B.



Gibt es weniger oder weniger ?

- A.
- B.



Gibt es mehr oder mehr ?

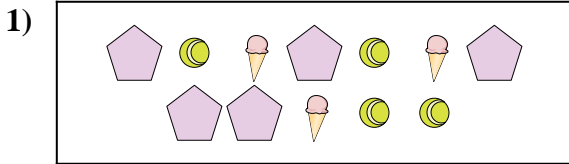
- A.
- B.

- 1.   **A**
- 2.   **A**
- 3.   **B**
- 4.   **B**
- 5.   **B**
- 6.   **B**




Vergleiche die Anzahl der Formen.

Antworten



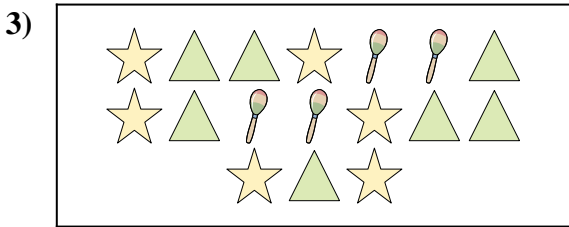
Gibt es weniger oder weniger ?

- A.
- B.




Gibt es mehr oder mehr ?

- A.
- B.




Gibt es weniger oder weniger ?

- A.
- B.



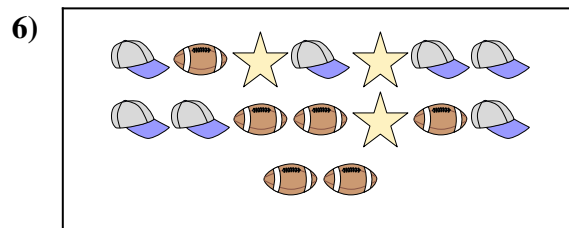
Gibt es weniger oder weniger ?

- A.
- B.



Gibt es weniger oder weniger ?

- A.
- B.



Gibt es weniger oder weniger ?

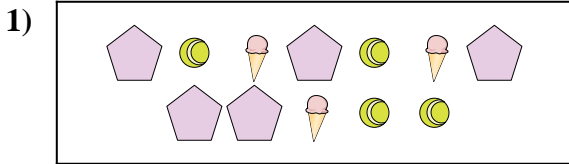
- A.
- B.

- 1. \_\_\_\_\_
- 2. \_\_\_\_\_
- 3. \_\_\_\_\_
- 4. \_\_\_\_\_
- 5. \_\_\_\_\_
- 6. \_\_\_\_\_




Vergleiche die Anzahl der Formen.

Antworten



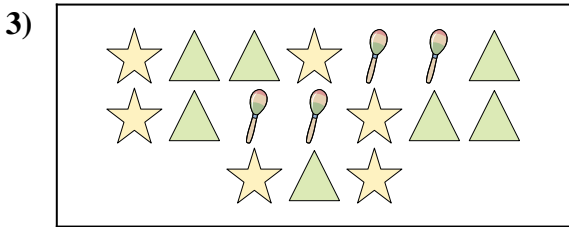
Gibt es weniger oder weniger ?

- A.
- B.




Gibt es mehr oder mehr ?

- A.
- B.




Gibt es weniger oder weniger ?

- A.
- B.



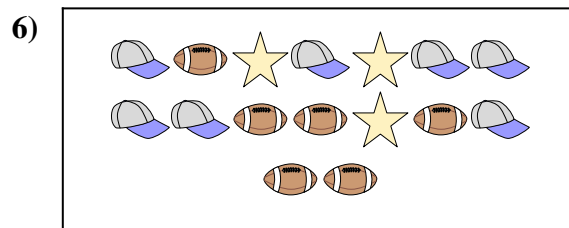
Gibt es weniger oder weniger ?

- A.
- B.



Gibt es weniger oder weniger ?

- A.
- B.



Gibt es weniger oder weniger ?

- A.
- B.

- 1.   **A**
- 2.   **A**
- 3.   **B**
- 4.   **B**
- 5.   **A**
- 6.   **B**