



Bestimme, ob die Anzahl der Formen im Feld gerade oder ungerade ist.

Antworten



1. _____

2. _____

3. _____

4. _____

5. _____


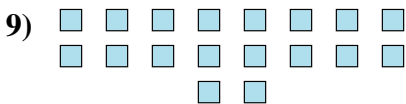
6. _____

7. _____

8. _____

9. _____

10. _____





Bestimme, ob die Anzahl der Formen im Feld gerade oder ungerade ist.



5



12



6



8



5



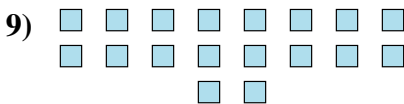
5




5



9



18



17

Antworten

1. ungerade

2. gerade

3. gerade

4. gerade

5. ungerade

6. ungerade

7. ungerade

8. ungerade

9. gerade

10. ungerade