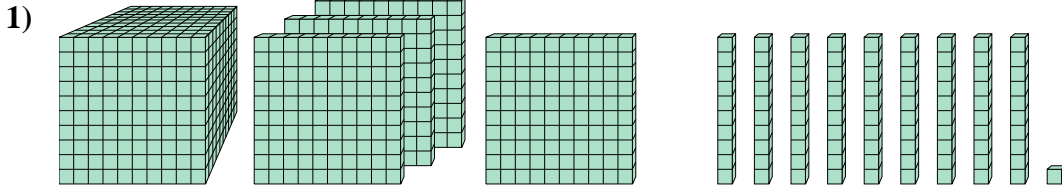




Löse jede Aufgabe.

Antworten

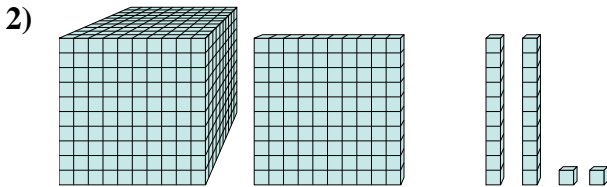


Welche Ziffer ist in der billions-Stelle in der obigen Zahl?

1. _____

2. _____

3. _____

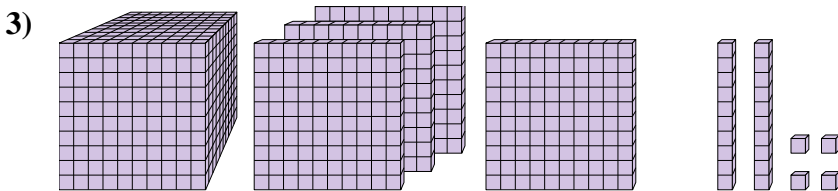


Welche Ziffer ist in der billions-Stelle in der obigen Zahl?

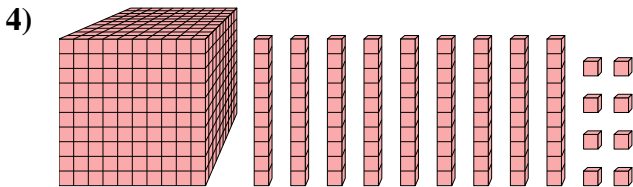
4. _____

5. _____

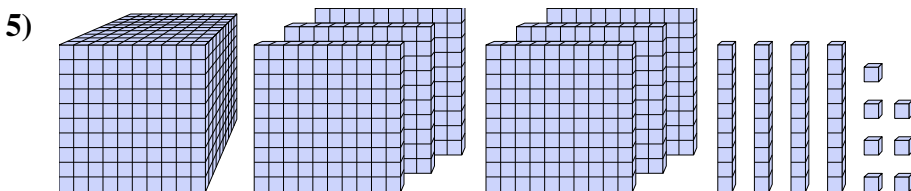
6. _____



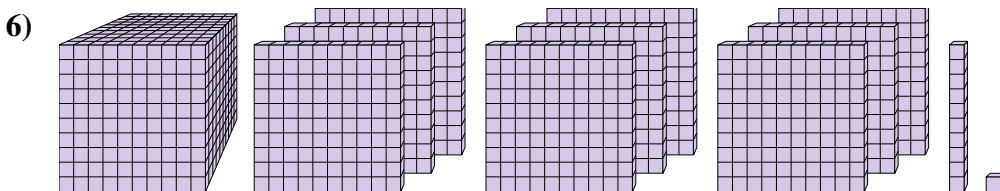
Welche Ziffer ist in der einern-Stelle in der obigen Zahl?



Welche Ziffer ist in der hundertern-Stelle in der obigen Zahl?



Welche Ziffer ist in der billions-Stelle in der obigen Zahl?

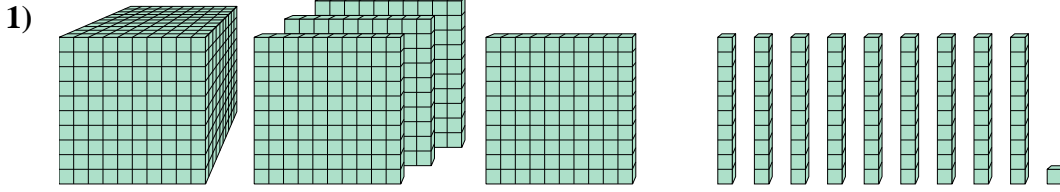


Welche Ziffer ist in der zehnern-Stelle in der obigen Zahl?



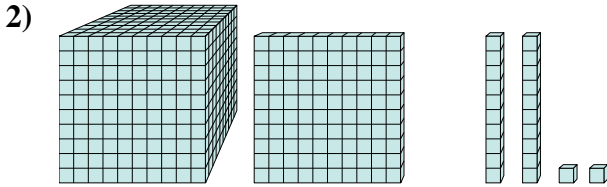
Löse jede Aufgabe.

Antworten



Welche Ziffer ist in der billions-Stelle in der obigen Zahl?

1. 4



Welche Ziffer ist in der billions-Stelle in der obigen Zahl?

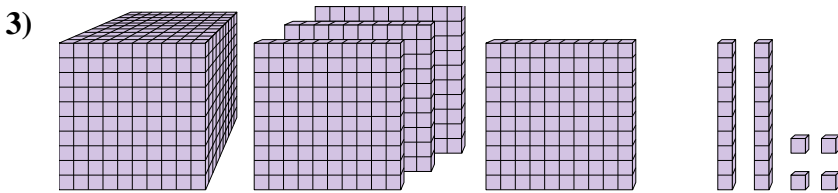
2. 1

3. 4

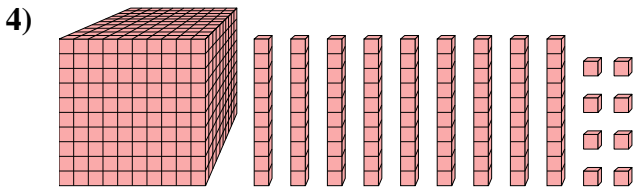
4. 1

5. 6

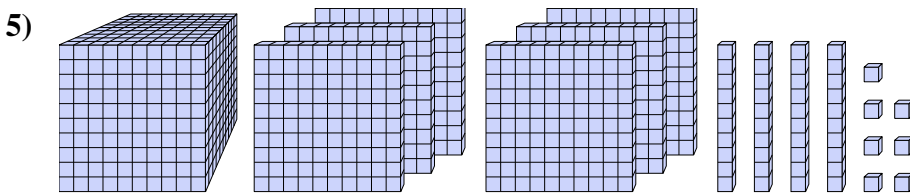
6. 1



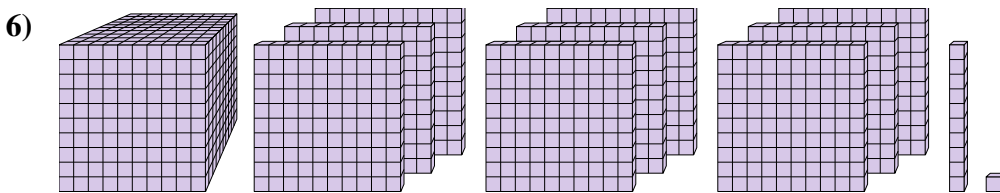
Welche Ziffer ist in der einern-Stelle in der obigen Zahl?



Welche Ziffer ist in der hundertn-Stelle in der obigen Zahl?



Welche Ziffer ist in der billions-Stelle in der obigen Zahl?



Welche Ziffer ist in der zehnern-Stelle in der obigen Zahl?