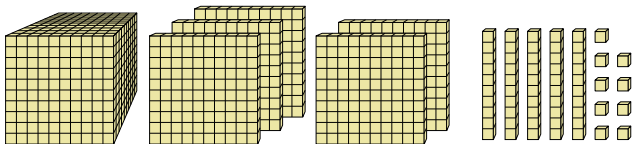


**Löse jede Aufgabe.****Antworten**

1)



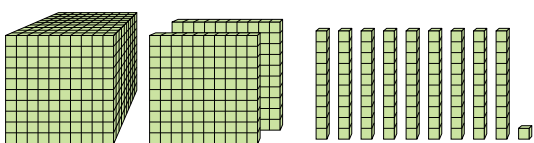
Welche Ziffer steht an der hundertn-Stelle in der Zahl oben?

1. _____

2. _____

3. _____

2)



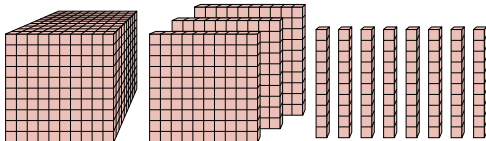
Welche Ziffer steht an der billions-Stelle in der Zahl oben?

4. _____

5. _____

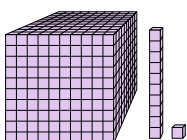
6. _____

3)



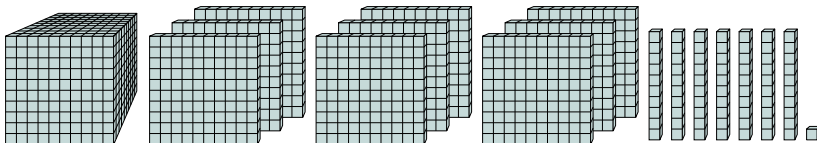
Welche Ziffer steht an der zehnern-Stelle in der Zahl oben?

4)



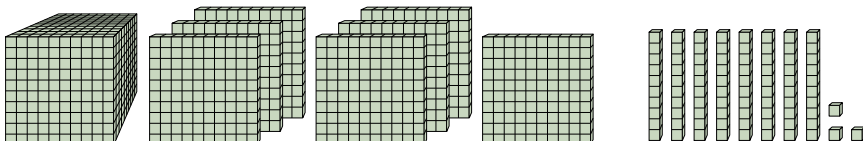
Welche Ziffer steht an der einern-Stelle in der Zahl oben?

5)



Welche Ziffer steht an der einern-Stelle in der Zahl oben?

6)

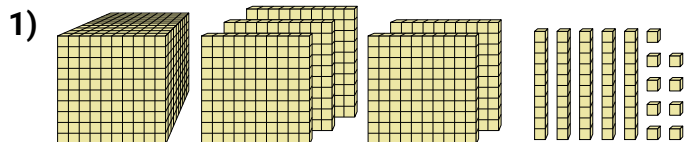


Welche Ziffer steht an der billions-Stelle in der Zahl oben?

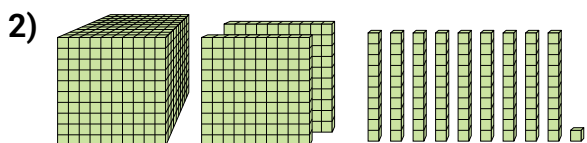


Löse jede Aufgabe.

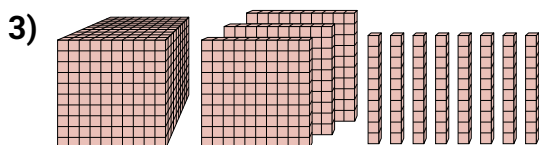
Antworten



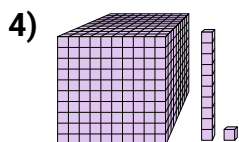
Welche Ziffer steht an der hundertten-Stelle in der Zahl oben?

1. 12. 23. 8

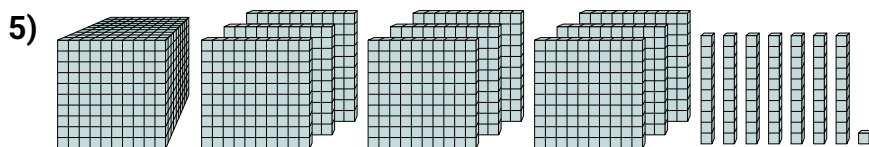
Welche Ziffer steht an der billions-Stelle in der Zahl oben?

4. 15. 16. 7

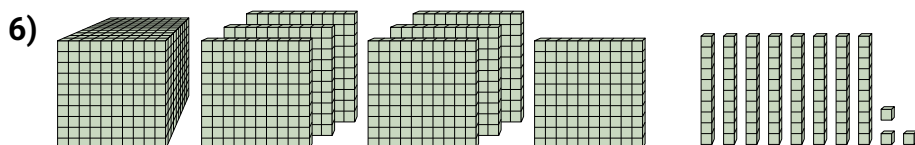
Welche Ziffer steht an der zehnern-Stelle in der Zahl oben?



Welche Ziffer steht an der einern-Stelle in der Zahl oben?



Welche Ziffer steht an der einern-Stelle in der Zahl oben?



Welche Ziffer steht an der billions-Stelle in der Zahl oben?