



Bestimme den Wert jeder Strichlistenreihe.

**Antworten**

1)

1. \_\_\_\_\_

2)

2. \_\_\_\_\_

3)

3. \_\_\_\_\_

4)

4. \_\_\_\_\_

5)

5. \_\_\_\_\_

6)

6. \_\_\_\_\_

7)

7. \_\_\_\_\_

8)

8. \_\_\_\_\_

9)

9. \_\_\_\_\_

10)

10. \_\_\_\_\_

11)

11. \_\_\_\_\_

12)

12. \_\_\_\_\_

13)

13. \_\_\_\_\_

14)

14. \_\_\_\_\_

15)

15. \_\_\_\_\_

16)

16. \_\_\_\_\_

17)

17. \_\_\_\_\_

18)

18. \_\_\_\_\_



Bestimme den Wert jeder Strichlistenreihe.

Antworten

1)

1. 38

2)

2. 24

3)

3. 35

4)

4. 25

5)

5. 7

6)

6. 50

7)

7. 26

8)

8. 39

9)

9. 46

10)

10. 33

11)

11. 18

12)

12. 43

13)

13. 14

14)

14. 41

15)

15. 49

16)

16. 29

17)

17. 19

18)

18. 13



Bestimme den Wert jeder Strichlistenreihe.

**Antworten**

1) IIII IIII IIII II

1. \_\_\_\_\_

2) IIII IIII IIII IIII IIII IIII

2. \_\_\_\_\_

3) IIII IIII IIII IIII IIII IIII IIII IIII IIII

3. \_\_\_\_\_

4) IIII IIII IIII IIII IIII IIII IIII IIII

4. \_\_\_\_\_

5) IIII IIII IIII IIII IIII IIII IIII IIII IIII IIII IIII

5. \_\_\_\_\_

6) IIII IIII IIII I

6. \_\_\_\_\_

7) IIII IIII IIII IIII IIII IIII IIII IIII II

7. \_\_\_\_\_

8) IIII IIII IIII IIII IIII IIII IIII

8. \_\_\_\_\_

9) IIII IIII IIII

9. \_\_\_\_\_

10) IIII IIII IIII IIII IIII IIII IIII IIII

10. \_\_\_\_\_

11) IIII IIII IIII IIII IIII IIII IIII II

11. \_\_\_\_\_

12) IIII II

12. \_\_\_\_\_

13) IIII I

13. \_\_\_\_\_

14) IIII IIII IIII IIII IIII IIII IIII IIII IIII IIII II

14. \_\_\_\_\_

15) IIII IIII IIII IIII IIII

15. \_\_\_\_\_

16) IIII IIII IIII IIII IIII IIII IIII IIII IIII IIII IIII

16. \_\_\_\_\_

17) IIII IIII

17. \_\_\_\_\_

18) IIII IIII IIII IIII IIII IIII

18. \_\_\_\_\_



Bestimme den Wert jeder Strichlistenreihe.

Antworten

1) IIII IIII IIII II

1. 17

2) IIII IIII IIII IIII IIII IIII

2. 28

3) IIII IIII IIII IIII IIII IIII IIII IIII IIII

3. 44

4) IIII IIII IIII IIII IIII IIII IIII IIII

4. 40

5) IIII IIII IIII IIII IIII IIII IIII IIII IIII IIII IIII

5. 49

6) IIII IIII IIII |

6. 16

7) IIII IIII IIII IIII IIII IIII IIII IIII II

7. 37

8) IIII IIII IIII IIII IIII IIII IIII

8. 33

9) IIII IIII IIII

9. 14

10) IIII IIII IIII IIII IIII IIII IIII

10. 35

11) IIII IIII IIII IIII IIII IIII IIII II

11. 32

12) IIII II

12. 7

13) IIII |

13. 6

14) IIII IIII IIII IIII IIII IIII IIII IIII IIII IIII II

14. 47

15) IIII IIII IIII IIII IIII

15. 24

16) IIII IIII IIII IIII IIII IIII IIII IIII IIII IIII IIII

16. 48

17) IIII IIII

17. 8

18) IIII IIII IIII IIII IIII IIII

18. 29



Bestimme den Wert jeder Strichlistenreihe.

**Antworten**

1) IIII IIII IIII IIII |

1. \_\_\_\_\_

2) IIII IIII IIII III

2. \_\_\_\_\_

3) IIII IIII IIII IIII IIII IIII IIII

3. \_\_\_\_\_

4) IIII IIII

4. \_\_\_\_\_

5) IIII IIII IIII IIII IIII

5. \_\_\_\_\_

6) IIII IIII IIII IIII IIII IIII IIII IIII

6. \_\_\_\_\_

7) IIII IIII IIII IIII IIII IIII

7. \_\_\_\_\_

8) IIII IIII IIII IIII IIII IIII IIII IIII IIII |

8. \_\_\_\_\_

9) IIII IIII II

9. \_\_\_\_\_

10) IIII IIII IIII IIII IIII IIII II

10. \_\_\_\_\_

11) IIII IIII IIII IIII

11. \_\_\_\_\_

12) IIII IIII IIII |

12. \_\_\_\_\_

13) IIII |

13. \_\_\_\_\_

14) IIII IIII

14. \_\_\_\_\_

15) IIII IIII IIII IIII IIII IIII

15. \_\_\_\_\_

16) IIII II

16. \_\_\_\_\_

17) IIII IIII |

17. \_\_\_\_\_

18) IIII IIII IIII

18. \_\_\_\_\_



Bestimme den Wert jeder Strichlistenreihe.

**Antworten**

1)	1. <u>21</u>
2)	2. <u>18</u>
3)	3. <u>35</u>
4)	4. <u>10</u>
5)	5. <u>24</u>
6)	6. <u>39</u>
7)	7. <u>29</u>
8)	8. <u>46</u>
9)	9. <u>12</u>
10)	10. <u>32</u>
11)	11. <u>19</u>
12)	12. <u>16</u>
13)	13. <u>6</u>
14)	14. <u>9</u>
15)	15. <u>30</u>
16)	16. <u>7</u>
17)	17. <u>11</u>
18)	18. <u>13</u>



Bestimme den Wert jeder Strichlistenreihe.

**Antworten**

1)

1. \_\_\_\_\_

2)

2. \_\_\_\_\_

3)

3. \_\_\_\_\_

4)

4. \_\_\_\_\_

5)

5. \_\_\_\_\_

6)

6. \_\_\_\_\_

7)

7. \_\_\_\_\_

8)

8. \_\_\_\_\_

9)

9. \_\_\_\_\_

10)

10. \_\_\_\_\_

11)

11. \_\_\_\_\_

12)

12. \_\_\_\_\_

13)

13. \_\_\_\_\_

14)

14. \_\_\_\_\_

15)

15. \_\_\_\_\_

16)

16. \_\_\_\_\_

17)

17. \_\_\_\_\_







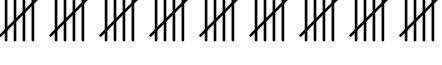

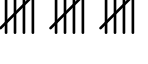
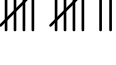

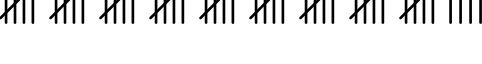
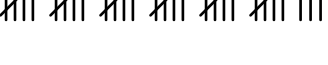

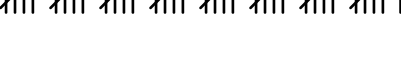



18)

18. \_\_\_\_\_



Bestimme den Wert jeder Strichlistenreihe.

**Antworten**

1) 	1. <u>24</u>
2) 	2. <u>27</u>
3) 	3. <u>22</u>
4) 	4. <u>40</u>
5) 	5. <u>21</u>
6) 	6. <u>13</u>
7) 	7. <u>45</u>
8) 	8. <u>6</u>
9) 	9. <u>16</u>
10) 	10. <u>12</u>
11) 	11. <u>19</u>
12) 	12. <u>49</u>
13) 	13. <u>34</u>
14) 	14. <u>9</u>
15) 	15. <u>41</u>
16) 	16. <u>29</u>
17) 	17. <u>23</u>
18) 	18. <u>28</u>







Bestimme den Wert jeder Strichlistenreihe.

**Antworten**

- 1)
- 2)
- 3)
- 4)
- 5)
- 6)
- 7)
- 8)
- 9)
- 10)
- 11)
- 12)
- 13)
- 14)
- 15)
- 16)
- 17)
- 18)

- 1. 9
- 2. 37
- 3. 36
- 4. 26
- 5. 47
- 6. 20
- 7. 15
- 8. 25
- 9. 43
- 10. 21
- 11. 18
- 12. 44
- 13. 14
- 14. 24
- 15. 38
- 16. 40
- 17. 13
- 18. 50





Bestimme den Wert jeder Strichlistenreihe.

**Antworten**

1)	1. <u>13</u>
2)	2. <u>18</u>
3)	3. <u>44</u>
4)	4. <u>20</u>
5)	5. <u>23</u>
6)	6. <u>47</u>
7)	7. <u>26</u>
8)	8. <u>9</u>
9)	9. <u>48</u>
10)	10. <u>10</u>
11)	11. <u>16</u>
12)	12. <u>38</u>
13)	13. <u>30</u>
14)	14. <u>15</u>
15)	15. <u>39</u>
16)	16. <u>45</u>
17)	17. <u>49</u>
18)	18. <u>22</u>



Bestimme den Wert jeder Strichlistenreihe.

**Antworten**

1) IIII IIII

1. \_\_\_\_\_

2) IIII IIII IIII IIII IIII IIII IIII

2. \_\_\_\_\_

3) IIII IIII IIII IIII IIII IIII IIII IIII IIII IIII

3. \_\_\_\_\_

4) IIII IIII IIII IIII

4. \_\_\_\_\_

5) IIII IIII IIII IIII IIII IIII IIII IIII IIII II

5. \_\_\_\_\_

6) IIII IIII IIII IIII IIII |

6. \_\_\_\_\_

7) IIII IIII IIII IIII IIII IIII IIII IIII IIII

7. \_\_\_\_\_

8) IIII IIII IIII

8. \_\_\_\_\_

9) IIII IIII |

9. \_\_\_\_\_

10) IIII IIII IIII IIII IIII IIII IIII IIII

10. \_\_\_\_\_

11) IIII IIII IIII

11. \_\_\_\_\_

12) IIII IIII

12. \_\_\_\_\_

13) IIII IIII IIII IIII IIII IIII IIII IIII |

13. \_\_\_\_\_

14) IIII IIII IIII IIII IIII IIII IIII IIII IIII IIII

14. \_\_\_\_\_

15) IIII IIII IIII IIII IIII

15. \_\_\_\_\_

16) IIII IIII IIII IIII IIII IIII IIII IIII IIII IIII IIII

16. \_\_\_\_\_

17) IIII IIII IIII

17. \_\_\_\_\_

18) IIII IIII IIII IIII |

18. \_\_\_\_\_



Bestimme den Wert jeder Strichlistenreihe.

Antworten



















1)	1. <u>10</u>
2)	2. <u>33</u>
3)	3. <u>45</u>
4)	4. <u>20</u>
5)	5. <u>42</u>
6)	6. <u>26</u>
7)	7. <u>39</u>
8)	8. <u>15</u>
9)	9. <u>11</u>
10)	10. <u>34</u>
11)	11. <u>13</u>
12)	12. <u>8</u>
13)	13. <u>41</u>
14)	14. <u>44</u>
15)	15. <u>25</u>
16)	16. <u>49</u>
17)	17. <u>12</u>
18)	18. <u>21</u>





Bestimme den Wert jeder Strichlistenreihe.

Antworten

1) 	1. <u>15</u>
2) 	2. <u>48</u>
3) 	3. <u>21</u>
4) 	4. <u>17</u>
5) 	5. <u>8</u>
6) 	6. <u>11</u>
7) 	7. <u>43</u>
8) 	8. <u>33</u>
9) 	9. <u>37</u>
10) 	10. <u>16</u>
11) 	11. <u>46</u>
12) 	12. <u>9</u>
13) 	13. <u>7</u>
14) 	14. <u>41</u>
15) 	15. <u>38</u>
16) 	16. <u>47</u>
17) 	17. <u>27</u>
18) 	18. <u>26</u>





Bestimme den Wert jeder Strichlistenreihe.

**Antworten**

1) IIII IIII IIII IIII

1. \_\_\_\_\_

2) IIII IIII IIII IIII IIII IIII

2. \_\_\_\_\_

3) IIII IIII IIII IIII IIII IIII IIII

3. \_\_\_\_\_

4) IIII IIII IIII IIII IIII IIII IIII IIII

4. \_\_\_\_\_

5) IIII IIII IIII

5. \_\_\_\_\_

6) IIII IIII IIII IIII IIII IIII IIII IIII IIII

6. \_\_\_\_\_

7) IIII IIII IIII IIII

7. \_\_\_\_\_

8) IIII IIII IIII

8. \_\_\_\_\_

9) IIII II

9. \_\_\_\_\_

10) IIII IIII IIII IIII IIII IIII IIII IIII

10. \_\_\_\_\_

11) IIII IIII IIII IIII IIII IIII IIII IIII IIII IIII IIII

11. \_\_\_\_\_

12) IIII IIII IIII IIII IIII IIII IIII IIII IIII IIII

12. \_\_\_\_\_

13) IIII IIII IIII

13. \_\_\_\_\_

14) IIII IIII IIII IIII II

14. \_\_\_\_\_

15) IIII IIII IIII IIII IIII IIII IIII IIII IIII IIII

15. \_\_\_\_\_

16) IIII IIII IIII IIII IIII IIII

16. \_\_\_\_\_

17) IIII IIII IIII IIII IIII IIII II

17. \_\_\_\_\_

18) IIII IIII IIII IIII IIII IIII IIII IIII IIII IIII

18. \_\_\_\_\_



Bestimme den Wert jeder Strichlistenreihe.

**Antworten**

1)

1. 19

2)

2. 31

3)

3. 34

4)

4. 36

5)

5. 16

6)

6. 41

7)

7. 20

8)

8. 13

9)

9. 7

10)

10. 38

11)

11. 50

12)

12. 44

13)

13. 15

14)

14. 17

15)

15. 48

16)

16. 28

17)

17. 27

18)

18. 42



Bestimme den Wert jeder Strichlistenreihe.

**Antworten**

1)

1. \_\_\_\_\_

2)

2. \_\_\_\_\_

3)

3. \_\_\_\_\_

4)

4. \_\_\_\_\_

5)

5. \_\_\_\_\_

6)

6. \_\_\_\_\_

7)

7. \_\_\_\_\_

8)

8. \_\_\_\_\_

9)

9. \_\_\_\_\_

10)

10. \_\_\_\_\_

11)

11. \_\_\_\_\_

12)

12. \_\_\_\_\_

13)

13. \_\_\_\_\_

14)

14. \_\_\_\_\_

15)

15. \_\_\_\_\_

16)

16. \_\_\_\_\_

17)

17. \_\_\_\_\_

18)

18. \_\_\_\_\_



Bestimme den Wert jeder Strichlistenreihe.

**Antworten**

1)

1. 49

2)

2. 7

3)

3. 31

4)

4. 44

5)

5. 23

6)

6. 19

7)

7. 17

8)

8. 35

9)

9. 32

10)

10. 50

11)

11. 40

12)

12. 12

13)

13. 9

14)

14. 13

15)

15. 30

16)

16. 15

17)

17. 47

18)

18. 6