





















Bestimme den Wert jeder Strichlistenreihe.

Antworten

1) 	1. <u>15</u>
2) 	2. <u>48</u>
3) 	3. <u>21</u>
4) 	4. <u>17</u>
5) 	5. <u>8</u>
6) 	6. <u>11</u>
7) 	7. <u>43</u>
8) 	8. <u>33</u>
9) 	9. <u>37</u>
10) 	10. <u>16</u>
11) 	11. <u>46</u>
12) 	12. <u>9</u>
13) 	13. <u>7</u>
14) 	14. <u>41</u>
15) 	15. <u>38</u>
16) 	16. <u>47</u>
17) 	17. <u>27</u>
18) 	18. <u>26</u>