



Benutze den Zahlenstrahl um jede Zahl auf das nächste Hundert zu runden.

**Antworten**

Bsp)

22.128



Bsp. 22.100

1)

7.798



1. \_\_\_\_\_

2)

73.791



2. \_\_\_\_\_

3)

48.807



3. \_\_\_\_\_

4)

1.381



4. \_\_\_\_\_

5)

746



5. \_\_\_\_\_

6)

140



6. \_\_\_\_\_

7)

904



7. \_\_\_\_\_

8)

93.445



8. \_\_\_\_\_

9)

4.176



9. \_\_\_\_\_

10)

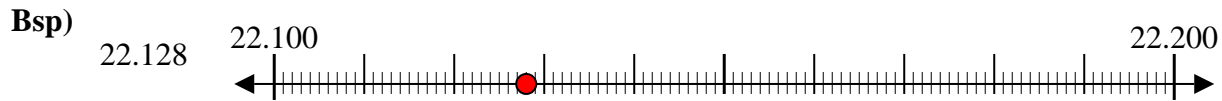
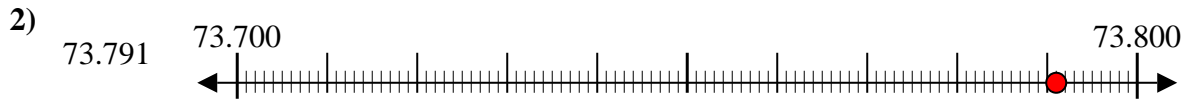
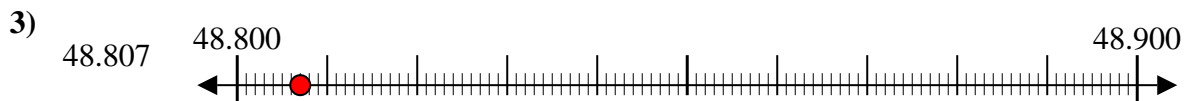
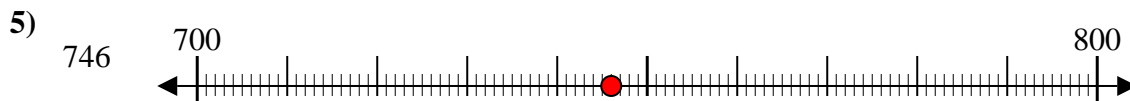
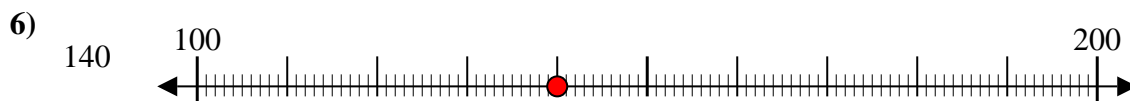
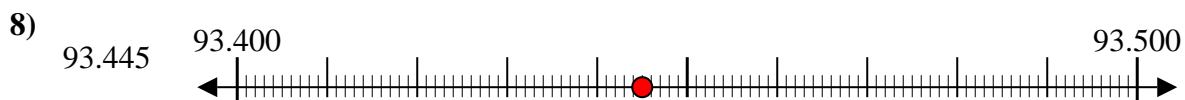
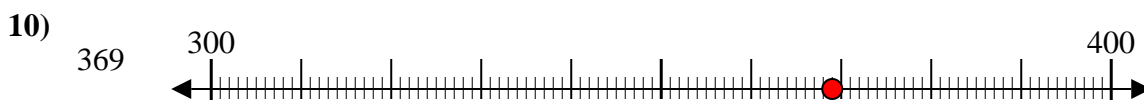
369



10. \_\_\_\_\_



Benutze den Zahlenstrahl um jede Zahl auf das nächste Hundert zu runden.

**Antworten**Bsp. 22.1001. 7.8002. 73.8003. 48.8004. 1.4005. 7006. 1007. 9008. 93.4009. 4.20010. 400