

**Benutze den doppelten Zahlenstrahl und löse jede Aufgabe.****Antworten**

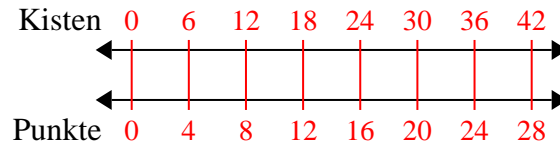
- |  |  |                                  |
|--|--|----------------------------------|
| 1) Bei einer Spendenaktion in einer Schule erhalten Sie für jede verkaufte 6 Schachtel Schokolade 4 Punkte. Wenn Sie 42-Kisten verkaufen würden, wie viele Punkte hätten Sie verdient? | Kisten<br>←————→<br>Punkte<br>←————→   | 1. _____<br>2. _____             |
| 2) Für jede 9 Dosen, die Felix zum Recycling gesammelt hat, hat er 2 Cent verdient. Wie viel Geld hätte er verdient, nachdem er 18 Dosen gesammelt hatte?                              | Büchsen<br>←————→<br>Geld<br>←————→    | 3. _____<br>4. _____<br>5. _____ |
| 3) In einem Geschäft gab es einen Sale, bei dem Sie 2 Tüten Cashewnüsse für 3 \$ erhalten konnten. Wenn Sie 8-Taschen kaufen möchten, wie viel würde das kosten?                       | ewkerne<br>←————→<br>Preis<br>←————→   | 6. _____<br>7. _____             |
| 4) Ein Kino gab 4 Tassen Öl für jede 8 Charge Popcorn, die es herstellte. Wie viel Öl hätten sie verwendet, nachdem sie 40 Popcorn-Chargen hergestellt hatten?                         | Popcorn<br>←————→<br>Öl<br>←————→      | 8. _____                         |
| 5) In einem Videospiel hast du für jeden besiegten 8 Gegner 9 Punkte verdient. Wenn du 56-Feinde besiegt hättest, wie viele Punkte hättest du verdient?                                | Feinde<br>←————→<br>Punkte<br>←————→   |                                  |
| 6) Das Verhältnis von Jungen zu Mädchen im Park betrug 6 zu 2. Wenn es 60 Jungen gab, wie viele Mädchen waren es?  | Jungs<br>←————→<br>Mädchen<br>←————→   |                                  |
| 7) Eine Schachtel Süßigkeiten enthielt 2 Kirschstücke für 6 Zitronenstücke. Wenn die Schachtel 36 Zitronenstücke hätte, wie viele Kirschstücke wären es?                               | Zitrone<br>←————→<br>Kirsche<br>←————→ |                                  |
| 8) Ein Builder könnte 2 Sheetrock für \$9 erhalten. Wenn er 20-Blätter gekauft hätte, wie viel Geld hätte er ausgegeben?   | Blech<br>←————→<br>Preis<br>←————→     |                                  |



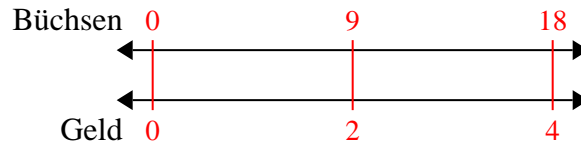
Benutze den doppelten Zahlenstrahl und löse jede Aufgabe.

**Antworten**

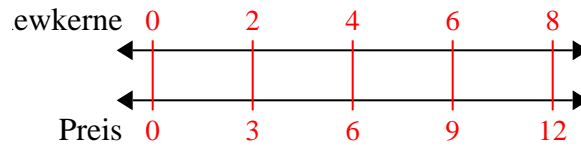
- 1) Bei einer Spendenaktion in einer Schule erhalten Sie für jede verkaufte 6 Schachtel Schokolade 4 Punkte. Wenn Sie 42-Kisten verkaufen würden, wie viele Punkte hätten Sie verdient?

1. **28**

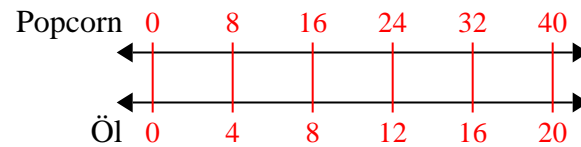
- 2) Für jede 9 Dosen, die Felix zum Recycling gesammelt hat, hat er 2 Cent verdient. Wie viel Geld hätte er verdient, nachdem er 18 Dosen gesammelt hatte?

2. **4**

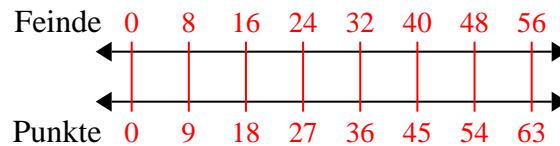
- 3) In einem Geschäft gab es einen Sale, bei dem Sie 2 Tüten Cashewnüsse für 3 \$ erhalten konnten. Wenn Sie 8-Taschen kaufen möchten, wie viel würde das kosten?

3. **12**

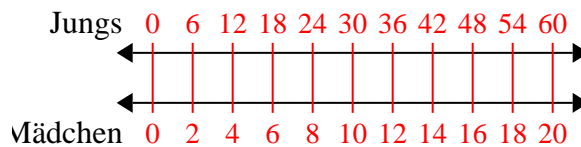
- 4) Ein Kino gab 4 Tassen Öl für jede 8 Charge Popcorn, die es herstellte. Wie viel Öl hätten sie verwendet, nachdem sie 40 Popcorn-Chargen hergestellt hatten?

4. **20**

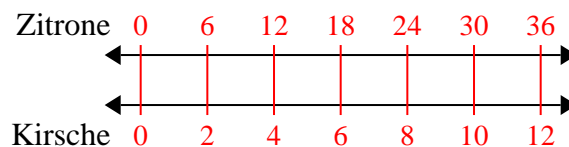
- 5) In einem Videospiel hast du für jeden besiegten 8 Gegner 9 Punkte verdient. Wenn du 56-Feinde besiegt hättest, wie viele Punkte hättest du verdient?

5. **63**

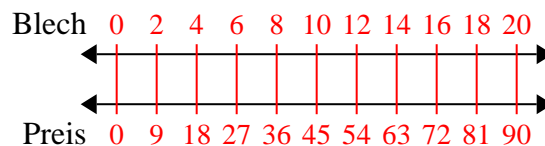
- 6) Das Verhältnis von Jungen zu Mädchen im Park betrug 6 zu 2. Wenn es 60 Jungen gab, wie viele Mädchen waren es?

6. **20**

- 7) Eine Schachtel Süßigkeiten enthielt 2 Kirschstücke für 6 Zitronenstücke. Wenn die Schachtel 36 Zitronenstücke hätte, wie viele Kirschstücke wären es?

7. **12**

- 8) Ein Builder könnte 2 Sheetrock für \$9 erhalten. Wenn er 20-Blätter gekauft hätte, wie viel Geld hätte er ausgegeben?

8. **90**

**Benutze den doppelten Zahlenstrahl und löse jede Aufgabe.****Antworten**

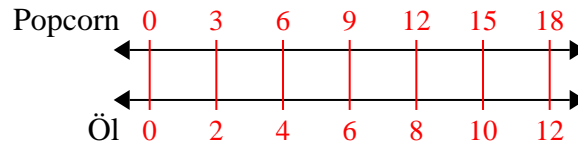
- |    |   |   |                                  |
|----|---|---|----------------------------------|
| 1) | Ein Kino gab 2 Tassen Öl für jede 3 Charge Popcorn, die es herstellte. Wie viel Öl hätten sie verwendet, nachdem sie 18 Popcorn-Chargen hergestellt hatten?                         | Popcorn<br>←————→<br>Öl<br>←————→         | 1. _____<br>2. _____             |
| 2) | Ein Builder könnte 8 Sheetrock für \$4 erhalten. Wenn er 40-Blätter gekauft hätte, wie viel Geld hätte er ausgegeben?   | Blech<br>←————→<br>Preis<br>←————→        | 3. _____<br>4. _____<br>5. _____ |
| 3) | In einem Geschäft gab es einen Sale, bei dem Sie 8 Tüten Cashewnüsse für 4 \$ erhalten konnten. Wenn Sie 64-Taschen kaufen möchten, wie viel würde das kosten?                      | ewkerne<br>←————→<br>Preis<br>←————→      | 6. _____<br>7. _____             |
| 4) | Das Verhältnis von Jungen zu Mädchen im Park betrug 4 zu 8. Wenn es 36 Jungen gab, wie viele Mädchen waren es?  | Jungs<br>←————→<br>Mädchen<br>←————→      | 8. _____                         |
| 5) | Ein Rezept fordert 10 Teelöffel Gewürze für jede 6 Charge Hühnchen. Wenn Sie 12 Hähnchenchargen haben, wie viele Teelöffel Gewürz benötigen Sie dann?                               | Hähnchen<br>←————→<br>Würze<br>←————→     |                                  |
| 6) | Ein schlampiges Joe-Restaurant gab 10 Servietten für jeden bestellten 6 Artikel. Wenn jemand 24-Artikel gekauft hat, wie viele Servietten sollte er bekommen?                       | Artikel<br>←————→<br>Servietten<br>←————→ |                                  |
| 7) | Bei einer Spendenaktion in einer Schule erhalten Sie für jede verkaufte 6 Schachtel Schokolade 8 Punkte. Wenn Sie 12-Kisten verkaufen würden, wie viele Punkte hätten Sie verdient? | Kisten<br>←————→<br>Punkte<br>←————→      |                                  |
| 8) | Eine Schachtel Süßigkeiten enthielt 4 Kirschstücke für 10 Zitronenstücke. Wenn die Schachtel 20 Zitronenstücke hätte, wie viele Kirschstücke wären es?                              | Zitrone<br>←————→<br>Kirsche<br>←————→    |                                  |



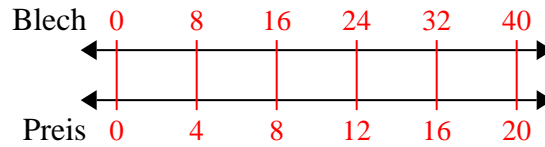
Benutze den doppelten Zahlenstrahl und löse jede Aufgabe.

**Antworten**

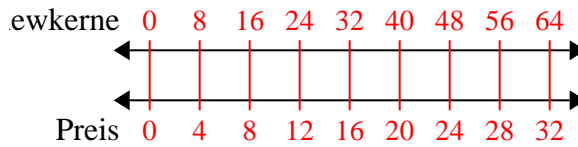
- 1) Ein Kino gab 2 Tassen Öl für jede 3 Charge Popcorn, die es herstellte. Wie viel Öl hätten sie verwendet, nachdem sie 18 Popcorn-Chargen hergestellt hatten?

1. **12**

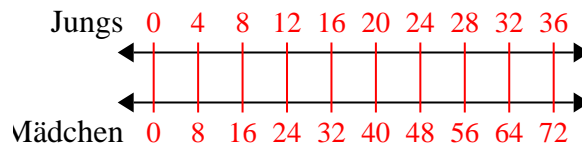
- 2) Ein Builder könnte 8 Sheetrock für \$4 erhalten. Wenn er 40-Blätter gekauft hätte, wie viel Geld hätte er ausgegeben?

3. **32**4. **72**

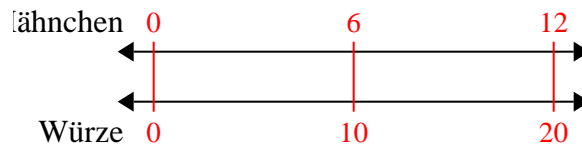
- 3) In einem Geschäft gab es einen Sale, bei dem Sie 8 Tüten Cashewnüsse für 4 \$ erhalten konnten. Wenn Sie 64-Taschen kaufen möchten, wie viel würde das kosten?

5. **20**6. **40**7. **16**

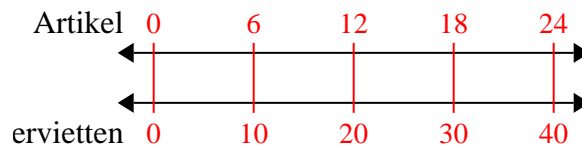
- 4) Das Verhältnis von Jungen zu Mädchen im Park betrug 4 zu 8. Wenn es 36 Jungen gab, wie viele Mädchen waren es?

8. **8**

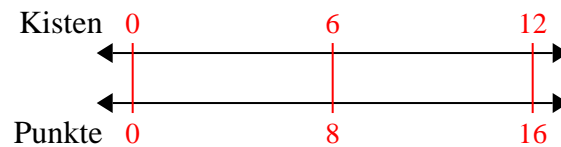
- 5) Ein Rezept fordert 10 Teelöffel Gewürze für jede 6 Charge Hühnchen. Wenn Sie 12 Hähnchenchargen haben, wie viele Teelöffel Gewürz benötigen Sie dann?



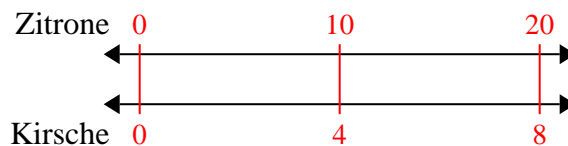
- 6) Ein schlampiges Joe-Restaurant gab 10 Servietten für jeden bestellten 6 Artikel. Wenn jemand 24-Artikel gekauft hat, wie viele Servietten sollte er bekommen?



- 7) Bei einer Spendenaktion in einer Schule erhalten Sie für jede verkaufte 6 Schachtel Schokolade 8 Punkte. Wenn Sie 12-Kisten verkaufen würden, wie viele Punkte hätten Sie verdient?



- 8) Eine Schachtel Süßigkeiten enthielt 4 Kirschstücke für 10 Zitronenstücke. Wenn die Schachtel 20 Zitronenstücke hätte, wie viele Kirschstücke wären es?



**Benutze den doppelten Zahlenstrahl und löse jede Aufgabe.****Antworten**

- |    |   |  |                                  |
|----|---|--|----------------------------------|
| 1) | Ein Builder könnte 6 Sheetrock für \$4 erhalten. Wenn er 42-Blätter gekauft hätte, wie viel Geld hätte er ausgegeben?   | Blech<br>←————→<br>Preis<br>←————→       | 1. _____<br>2. _____             |
| 2) | Ein schlampiges Joe-Restaurant gab 3 Servietten für jeden bestellten 6 Artikel. Wenn jemand 42-Artikel gekauft hat, wie viele Servietten sollte er bekommen?                        | Artikel<br>←————→<br>ervietten<br>←————→ | 3. _____<br>4. _____<br>5. _____ |
| 3) | Auf ihrem MP3-Player hatte sie für jeden 6-Pop-Song Emma auch 3-Country-Song. Wenn sie 18 Popsongs auf ihrem MP3-Player hat, wie viele Country-Songs hat sie dann?                  | Pop<br>←————→<br>Land<br>←————→          | 6. _____<br>7. _____             |
| 4) | Ein Rezept fordert 4 Teelöffel Gewürze für jede 10 Charge Hühnchen. Wenn Sie 80 Hähnchenchargen haben, wie viele Teelöffel Gewürz benötigen Sie dann?                               | hähnchen<br>←————→<br>Würze<br>←————→    | 8. _____                         |
| 5) | Eine Schachtel Süßigkeiten enthielt 3 Kirschstücke für 6 Zitronenstücke. Wenn die Schachtel 18 Zitronenstücke hätte, wie viele Kirschstücke wären es?                               | Zitrone<br>←————→<br>Kirsche<br>←————→   |                                  |
| 6) | In einem Geschäft gab es einen Sale, bei dem Sie 8 Tüten Cashewnüsse für 9 \$ erhalten konnten. Wenn Sie 40-Taschen kaufen möchten, wie viel würde das kosten?                      | ewkerne<br>←————→<br>Preis<br>←————→     |                                  |
| 7) | Das Verhältnis von Jungen zu Mädchen im Park betrug 4 zu 7. Wenn es 24 Jungen gab, wie viele Mädchen waren es?  | Jungs<br>←————→<br>Mädchen<br>←————→     |                                  |
| 8) | Bei einer Spendenaktion in einer Schule erhalten Sie für jede verkaufte 6 Schachtel Schokolade 9 Punkte. Wenn Sie 60-Kisten verkaufen würden, wie viele Punkte hätten Sie verdient? | Kisten<br>←————→<br>Punkte<br>←————→     |                                  |

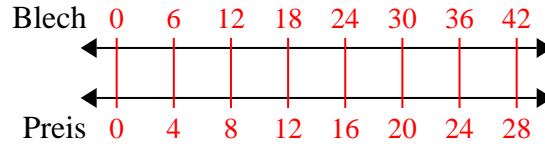


Benutze den doppelten Zahlenstrahl und löse jede Aufgabe.

**Antworten**

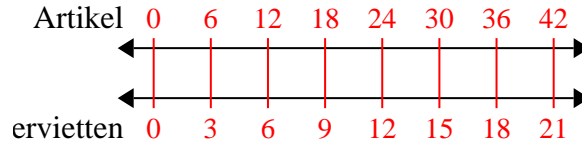
1)

Ein Builder könnte 6 Sheetrock für \$4 erhalten. Wenn er 42-Blätter gekauft hätte, wie viel Geld hätte er ausgegeben?

1. **28**

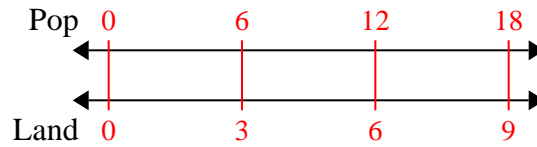
2)

Ein schlampiges Joe-Restaurant gab 3 Servietten für jeden bestellten 6 Artikel. Wenn jemand 42-Artikel gekauft hat, wie viele Servietten sollte er bekommen?

2. **21**

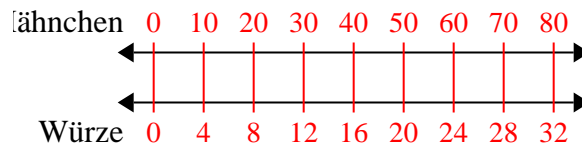
3)

Auf ihrem MP3-Player hatte sie für jeden 6-Pop-Song Emma auch 3-Country-Song. Wenn sie 18 Popsongs auf ihrem MP3-Player hat, wie viele Country-Songs hat sie dann?

3. **9**

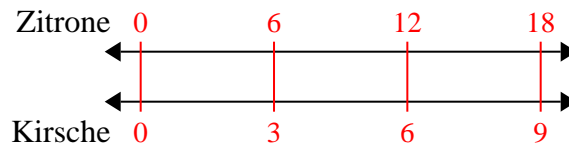
4)

Ein Rezept fordert 4 Teelöffel Gewürze für jede 10 Charge Hühnchen. Wenn Sie 80 Hähnchenchargen haben, wie viele Teelöffel Gewürz benötigen Sie dann?

4. **32**

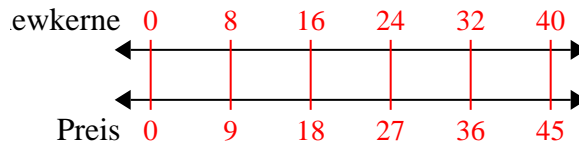
5)

Eine Schachtel Süßigkeiten enthielt 3 Kirschstücke für 6 Zitronenstücke. Wenn die Schachtel 18 Zitronenstücke hätte, wie viele Kirschstücke wären es?

5. **9**

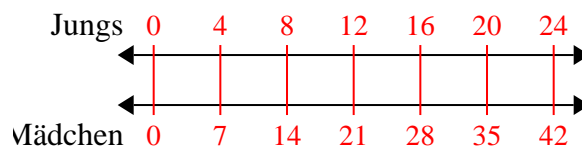
6)

In einem Geschäft gab es einen Sale, bei dem Sie 8 Tüten Cashewnüsse für 9 \$ erhalten konnten. Wenn Sie 40-Taschen kaufen möchten, wie viel würde das kosten?

6. **45**

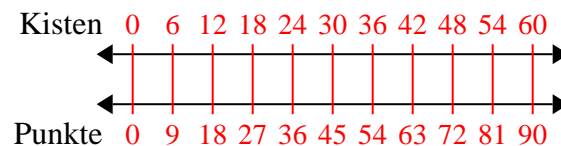
7)

Das Verhältnis von Jungen zu Mädchen im Park betrug 4 zu 7. Wenn es 24 Jungen gab, wie viele Mädchen waren es?

7. **42**

8)

Bei einer Spendenaktion in einer Schule erhalten Sie für jede verkaufte 6 Schachtel Schokolade 9 Punkte. Wenn Sie 60-Kisten verkaufen würden, wie viele Punkte hätten Sie verdient?

8. **90**

**Benutze den doppelten Zahlenstrahl und löse jede Aufgabe.****Antworten**

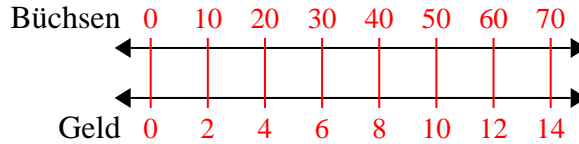
- |    |  |  |                                  |
|----|--|--|----------------------------------|
| 1) | Für jede 10 Dosen, die Moritz zum Recycling gesammelt hat, hat er 2 Cent verdient. Wie viel Geld hätte er verdient, nachdem er 70 Dosen gesammelt hatte?     | Büchsen<br>←————→<br>Geld<br>←————→      | 1. _____<br>2. _____             |
| 2) | Das Verhältnis von Jungen zu Mädchen im Park betrug 6 zu 4. Wenn es 30 Jungen gab, wie viele Mädchen waren es?   | Jungs<br>←————→<br>Mädchen<br>←————→     | 3. _____<br>4. _____<br>5. _____ |
| 3) | In einem Videospiel hast du für jeden besiegt 7 Gegner 2 Punkte verdient. Wenn du 56-Feinde besiegt hättest, wie viele Punkte hättest du verdient?           | Feinde<br>←————→<br>Punkte<br>←————→     | 6. _____<br>7. _____             |
| 4) | Eine Schachtel Süßigkeiten enthielt 8 Kirschstücke für 10 Zitronenstücke. Wenn die Schachtel 20 Zitronenstücke hätte, wie viele Kirschstücke wären es?       | Zitrone<br>←————→<br>Kirsche<br>←————→   | 8. _____                         |
| 5) | Ein Builder könnte 7 Sheetrock für \$5 erhalten. Wenn er 42-Blätter gekauft hätte, wie viel Geld hätte er ausgegeben?  | Blech<br>←————→<br>Preis<br>←————→       |                                  |
| 6) | Ein Rezept fordert 8 Teelöffel Gewürze für jede 3 Charge Hähnchen. Wenn Sie 15 Hähnchenchargen haben, wie viele Teelöffel Gewürz benötigen Sie dann?         | Hähnchen<br>←————→<br>Würze<br>←————→    |                                  |
| 7) | Ein Kino gab 5 Tassen Öl für jede 6 Charge Popcorn, die es herstellte. Wie viel Öl hätten sie verwendet, nachdem sie 12 Popcorn-Chargen hergestellt hatten?  | Popcorn<br>←————→<br>Öl<br>←————→        |                                  |
| 8) | Ein schlampiges Joe-Restaurant gab 5 Servietten für jeden bestellten 7 Artikel. Wenn jemand 70-Artikel gekauft hat, wie viele Servietten sollte er bekommen? | Artikel<br>←————→<br>ervietten<br>←————→ |                                  |



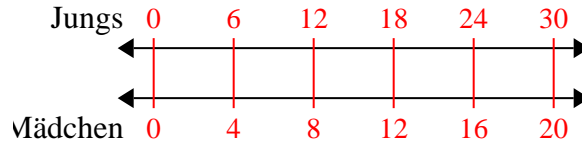
Benutze den doppelten Zahlenstrahl und löse jede Aufgabe.

**Antworten**

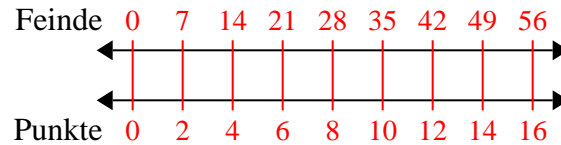
- 1) Für jede 10 Dosen, die Moritz zum Recycling gesammelt hat, hat er 2 Cent verdient. Wie viel Geld hätte er verdient, nachdem er 70 Dosen gesammelt hatte?

1. **14**

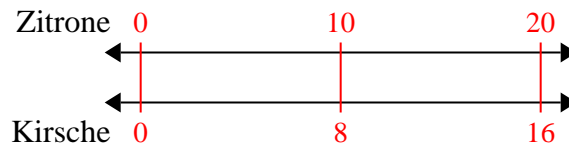
- 2) Das Verhältnis von Jungen zu Mädchen im Park betrug 6 zu 4. Wenn es 30 Jungen gab, wie viele Mädchen waren es?

3. **16**

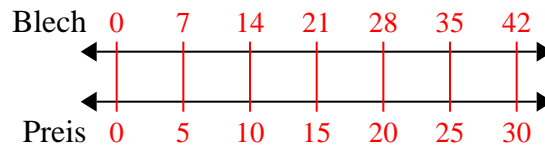
- 3) In einem Videospiel hast du für jeden besiegten 7 Gegner 2 Punkte verdient. Wenn du 56-Feinde besiegt hättest, wie viele Punkte hättest du verdient?

4. **16**

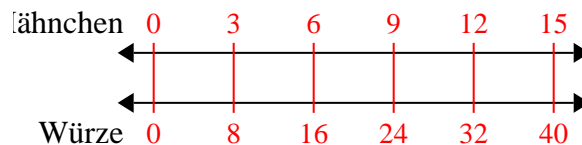
- 4) Eine Schachtel Süßigkeiten enthielt 8 Kirschstücke für 10 Zitronenstücke. Wenn die Schachtel 20 Zitronenstücke hätte, wie viele Kirschstücke wären es?

5. **30**

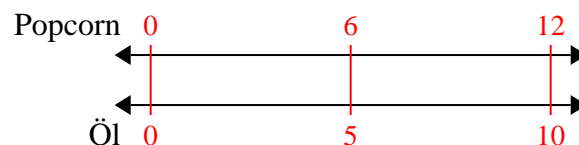
- 5) Ein Builder könnte 7 Sheetrock für \$5 erhalten. Wenn er 42-Blätter gekauft hätte, wie viel Geld hätte er ausgegeben?

6. **40**

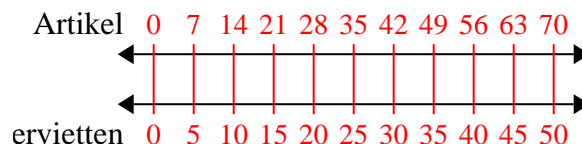
- 6) Ein Rezept fordert 8 Teelöffel Gewürze für jede 3 Charge Hähnchen. Wenn Sie 15 Hähnchenchargen haben, wie viele Teelöffel Gewürz benötigen Sie dann?

7. **10**

- 7) Ein Kino gab 5 Tassen Öl für jede 6 Charge Popcorn, die es herstellte. Wie viel Öl hätten sie verwendet, nachdem sie 12 Popcorn-Chargen hergestellt hatten?

8. **50**

- 8) Ein schlampiges Joe-Restaurant gab 5 Servietten für jeden bestellten 7 Artikel. Wenn jemand 70-Artikel gekauft hat, wie viele Servietten sollte er bekommen?





**Benutze den doppelten Zahlenstrahl und löse jede Aufgabe.****Antworten**

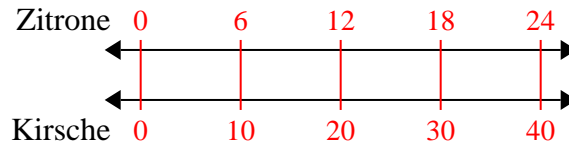
- |  |  |                                  |
|--|--|----------------------------------|
| 1) Eine Schachtel Süßigkeiten enthielt 10 Kirschstücke für 6 Zitronenstücke. Wenn die Schachtel 24 Zitronenstücke hätte, wie viele Kirschstücke wären es?                              | Zitrone<br>←————→<br>Kirsche<br>←————→   | 1. _____<br>2. _____             |
| 2) Bei einer Spendenaktion in einer Schule erhalten Sie für jede verkaufte 3 Schachtel Schokolade 8 Punkte. Wenn Sie 21-Kisten verkaufen würden, wie viele Punkte hätten Sie verdient? | Kisten<br>←————→<br>Punkte<br>←————→     | 3. _____<br>4. _____<br>5. _____ |
| 3) Für jede 5 Dosen, die Felix zum Recycling gesammelt hat, hat er 4 Cent verdient. Wie viel Geld hätte er verdient, nachdem er 30 Dosen gesammelt hatte?                              | Büchsen<br>←————→<br>Geld<br>←————→      | 6. _____<br>7. _____             |
| 4) Ein schlampiges Joe-Restaurant gab 5 Servietten für jeden bestellten 6 Artikel. Wenn jemand 12-Artikel gekauft hat, wie viele Servietten sollte er bekommen?                        | Artikel<br>←————→<br>ervietten<br>←————→ | 8. _____                         |
| 5) Ein Rezept fordert 4 Teelöffel Gewürze für jede 8 Charge Hühnchen. Wenn Sie 48 Hähnchenchargen haben, wie viele Teelöffel Gewürz benötigen Sie dann?                                | lähnchen<br>←————→<br>Würze<br>←————→    |                                  |
| 6) In einem Videospiel hast du für jeden besiegten 3 Gegner 5 Punkte verdient. Wenn du 6-Feinde besiegt hättest, wie viele Punkte hättest du verdient?                                 | Feinde<br>←————→<br>Punkte<br>←————→     |                                  |
| 7) In einem Geschäft gab es einen Sale, bei dem Sie 9 Tüten Cashewnüsse für 6 \$ erhalten konnten. Wenn Sie 18-Taschen kaufen möchten, wie viel würde das kosten?                      | ewkerne<br>←————→<br>Preis<br>←————→     |                                  |
| 8) Das Verhältnis von Jungen zu Mädchen im Park betrug 4 zu 9. Wenn es 28 Jungen gab, wie viele Mädchen waren es?  | Jungs<br>←————→<br>Mädchen<br>←————→     |                                  |



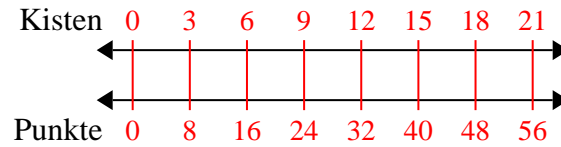
Benutze den doppelten Zahlenstrahl und löse jede Aufgabe.

**Antworten**

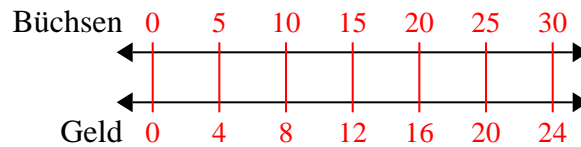
- 1) Eine Schachtel Süßigkeiten enthielt 10 Kirschstücke für 6 Zitronenstücke. Wenn die Schachtel 24 Zitronenstücke hätte, wie viele Kirschstücke wären es?

1. **40**

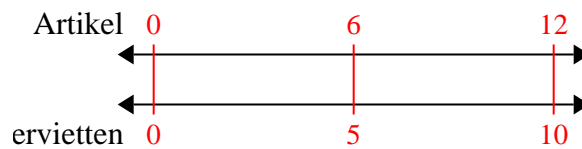
- 2) Bei einer Spendenaktion in einer Schule erhalten Sie für jede verkaufte 3 Schachtel Schokolade 8 Punkte. Wenn Sie 21-Kisten verkaufen würden, wie viele Punkte hätten Sie verdient?

2. **56**

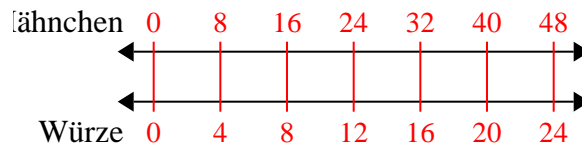
- 3) Für jede 5 Dosen, die Felix zum Recycling gesammelt hat, hat er 4 Cent verdient. Wie viel Geld hätte er verdient, nachdem er 30 Dosen gesammelt hatte?

3. **24**

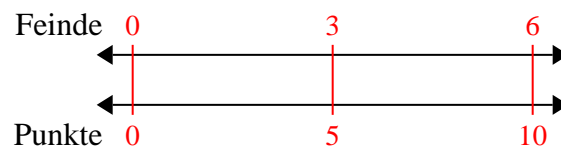
- 4) Ein schlampiges Joe-Restaurant gab 5 Servietten für jeden bestellten 6 Artikel. Wenn jemand 12-Artikel gekauft hat, wie viele Servietten sollte er bekommen?

4. **10**

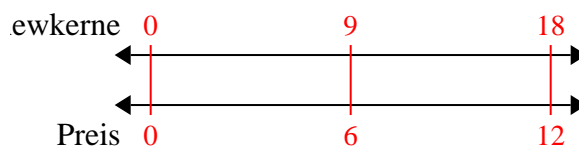
- 5) Ein Rezept fordert 4 Teelöffel Gewürze für jede 8 Charge Hähnchen. Wenn Sie 48 Hähnchenchargen haben, wie viele Teelöffel Gewürz benötigen Sie dann?

5. **24**

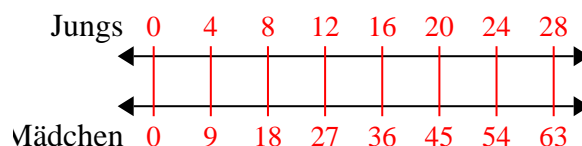
- 6) In einem Videospiel hast du für jeden besiegten 3 Gegner 5 Punkte verdient. Wenn du 6-Feinde besiegt hättest, wie viele Punkte hättest du verdient?

6. **10**

- 7) In einem Geschäft gab es einen Sale, bei dem Sie 9 Tüten Cashewnüsse für 6 \$ erhalten konnten. Wenn Sie 18-Taschen kaufen möchten, wie viel würde das kosten?

7. **12**

- 8) Das Verhältnis von Jungen zu Mädchen im Park betrug 4 zu 9. Wenn es 28 Jungen gab, wie viele Mädchen waren es?

8. **63**

**Benutze den doppelten Zahlenstrahl und löse jede Aufgabe.****Antworten**

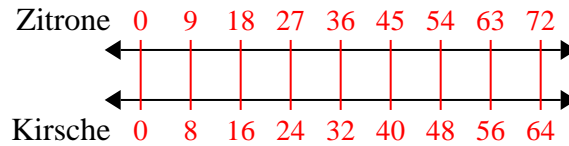
- |    |   |  |                                  |
|----|---|--|----------------------------------|
| 1) | Eine Schachtel Süßigkeiten enthielt 8 Kirschstücke für 9 Zitronenstücke. Wenn die Schachtel 72 Zitronenstücke hätte, wie viele Kirschstücke wären es?                   | Zitrone<br>←————→<br>Kirsche<br>←————→   | 1. _____<br>2. _____             |
| 2) | Ein Builder könnte 9 Sheetrock für \$5 erhalten. Wenn er 90-Blätter gekauft hätte, wie viel Geld hätte er ausgegeben?   | Blech<br>←————→<br>Preis<br>←————→       | 3. _____<br>4. _____<br>5. _____ |
| 3) | Ein Rezept fordert 8 Teelöffel Gewürze für jede 5 Charge Hühnchen. Wenn Sie 10 Hähnchenchargen haben, wie viele Teelöffel Gewürz benötigen Sie dann?                    | Hähnchen<br>←————→<br>Würze<br>←————→    | 6. _____<br>7. _____             |
| 4) | Für jede 7 Dosen, die Felix zum Recycling gesammelt hat, hat er 9 Cent verdient. Wie viel Geld hätte er verdient, nachdem er 14 Dosen gesammelt hatte?                  | Büchsen<br>←————→<br>Geld<br>←————→      | 8. _____                         |
| 5) | In einem Videospiel hast du für jeden besiegten 3 Gegner 6 Punkte verdient. Wenn du 24-Feinde besiegt hättest, wie viele Punkte hättest du verdient?                    | Feinde<br>←————→<br>Punkte<br>←————→     |                                  |
| 6) | Das Verhältnis von Jungen zu Mädchen im Park betrug 9 zu 5. Wenn es 18 Jungen gab, wie viele Mädchen waren es?  | Jungs<br>←————→<br>Mädchen<br>←————→     |                                  |
| 7) | Auf ihrem MP3-Player hatte sie für jeden 7-Pop-Song Katharina auch 8-Country-Song. Wenn sie 49 Popsongs auf ihrem MP3-Player hat, wie viele Country-Songs hat sie dann? | Pop<br>←————→<br>Land<br>←————→          |                                  |
| 8) | Ein schlampiges Joe-Restaurant gab 8 Servietten für jeden bestellten 9 Artikel. Wenn jemand 90-Artikel gekauft hat, wie viele Servietten sollte er bekommen?            | Artikel<br>←————→<br>ervietten<br>←————→ |                                  |



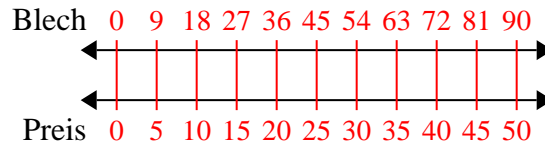
Benutze den doppelten Zahlenstrahl und löse jede Aufgabe.

**Antworten**

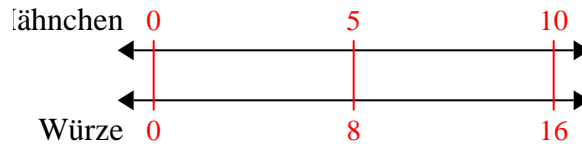
- 1) Eine Schachtel Süßigkeiten enthielt 8 Kirschstücke für 9 Zitronenstücke. Wenn die Schachtel 72 Zitronenstücke hätte, wie viele Kirschstücke wären es?

1. **64**

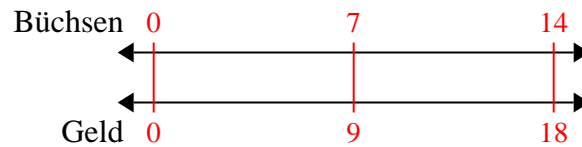
- 2) Ein Builder könnte 9 Sheetrock für \$5 erhalten. Wenn er 90-Blätter gekauft hätte, wie viel Geld hätte er ausgegeben?

2. **50**3. **16**4. **18**

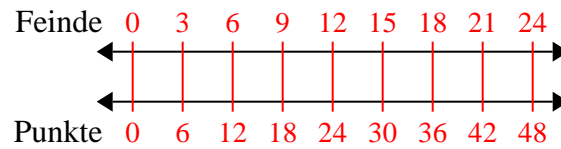
- 3) Ein Rezept fordert 8 Teelöffel Gewürze für jede 5 Charge Hühnchen. Wenn Sie 10 Hähnchenchargen haben, wie viele Teelöffel Gewürz benötigen Sie dann?

5. **48**6. **10**7. **56**

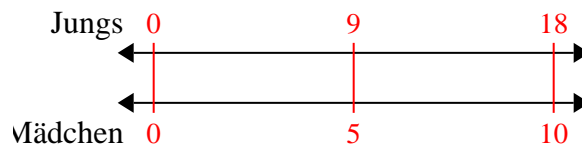
- 4) Für jede 7 Dosen, die Felix zum Recycling gesammelt hat, hat er 9 Cent verdient. Wie viel Geld hätte er verdient, nachdem er 14 Dosen gesammelt hatte?

8. **80**

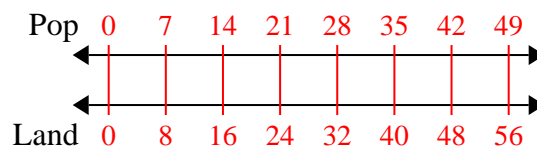
- 5) In einem Videospiel hast du für jeden besiegten 3 Gegner 6 Punkte verdient. Wenn du 24-Feinde besiegt hättest, wie viele Punkte hättest du verdient?



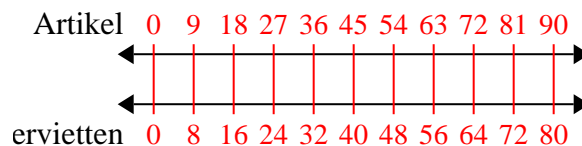
- 6) Das Verhältnis von Jungen zu Mädchen im Park betrug 9 zu 5. Wenn es 18 Jungen gab, wie viele Mädchen waren es?



- 7) Auf ihrem MP3-Player hatte sie für jeden 7-Pop-Song Katharina auch 8-Country-Song. Wenn sie 49 Popsongs auf ihrem MP3-Player hat, wie viele Country-Songs hat sie dann?



- 8) Ein schlampiges Joe-Restaurant gab 8 Servietten für jeden bestellten 9 Artikel. Wenn jemand 90-Artikel gekauft hat, wie viele Servietten sollte er bekommen?





**Benutze den doppelten Zahlenstrahl und löse jede Aufgabe.**

**Antworten**

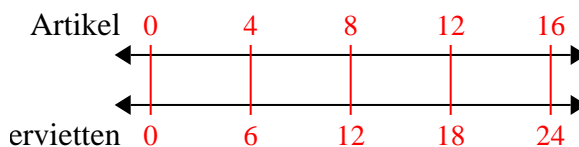
<p>1) Ein schlampiges Joe-Restaurant gab 6 Servietten für jeden bestellten 4 Artikel. Wenn jemand 16-Artikel gekauft hat, wie viele Servietten sollte er bekommen?</p>	<p>Artikel ←————→ ←————→ ervietten</p>	<p>1. _____ 2. _____</p>
<p>2) Für jede 9 Dosen, die Max zum Recycling gesammelt hat, hat er 4 Cent verdient. Wie viel Geld hätte er verdient, nachdem er 72 Dosen gesammelt hatte?</p>	<p>Büchsen ←————→ ←————→ Geld</p>	<p>3. _____ 4. _____</p>
<p>3) Bei einer Spendenaktion in einer Schule erhalten Sie für jede verkaufte 6 Schachtel Schokolade 10 Punkte. Wenn Sie 12-Kisten verkaufen würden, wie viele Punkte hätten Sie verdient?</p>	<p>Kisten ←————→ ←————→ Punkte</p>	<p>5. _____ 6. _____ 7. _____</p>
<p>4) In einem Geschäft gab es einen Sale, bei dem Sie 7 Tüten Cashewnüsse für 8 \$ erhalten konnten. Wenn Sie 56-Taschen kaufen möchten, wie viel würde das kosten?</p>	<p>ewkerne ←————→ ←————→ Preis</p>	<p>8. _____</p>
<p>5) Ein Rezept fordert 4 Teelöffel Gewürze für jede 3 Charge Hühnchen. Wenn Sie 6 Hähnchenchargen haben, wie viele Teelöffel Gewürz benötigen Sie dann?</p>	<p>lähnchen ←————→ ←————→ Würze</p>	
<p>6) In einem Videospiel hast du für jeden besiegten 5 Gegner 4 Punkte verdient. Wenn du 50-Feinde besiegt hättest, wie viele Punkte hättest du verdient?</p>	<p>Feinde ←————→ ←————→ Punkte</p>	
<p>7) Ein Kino gab 7 Tassen Öl für jede 10 Charge Popcorn, die es herstellte. Wie viel Öl hätten sie verwendet, nachdem sie 70 Popcorn-Chargen hergestellt hatten?</p>	<p>Popcorn ←————→ ←————→ Öl</p>	
<p>8) Ein Builder könnte 3 Sheetrock für \$2 erhalten. Wenn er 27-Blätter gekauft hätte, wie viel Geld hätte er ausgegeben?</p>	<p>Blech ←————→ ←————→ Preis</p>	



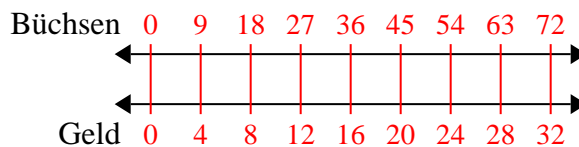
Benutze den doppelten Zahlenstrahl und löse jede Aufgabe.

**Antworten**

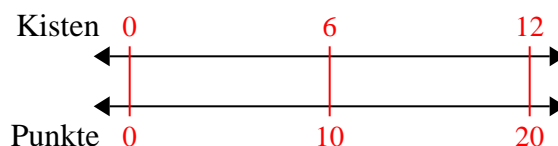
- 1) Ein schlampiges Joe-Restaurant gab 6 Servietten für jeden bestellten 4 Artikel. Wenn jemand 16-Artikel gekauft hat, wie viele Servietten sollte er bekommen?

1. **24**

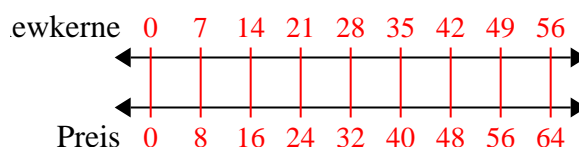
- 2) Für jede 9 Dosen, die Max zum Recycling gesammelt hat, hat er 4 Cent verdient. Wie viel Geld hätte er verdient, nachdem er 72 Dosen gesammelt hatte?

3. **20**

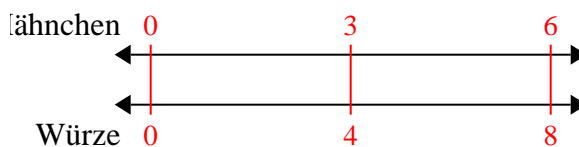
- 3) Bei einer Spendenaktion in einer Schule erhalten Sie für jede verkaufte 6 Schachtel Schokolade 10 Punkte. Wenn Sie 12-Kisten verkaufen würden, wie viele Punkte hätten Sie verdient?

6. **40**

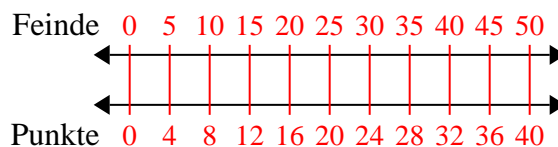
- 4) In einem Geschäft gab es einen Sale, bei dem Sie 7 Tüten Cashewnüsse für 8 \$ erhalten konnten. Wenn Sie 56-Taschen kaufen möchten, wie viel würde das kosten?

8. **18**

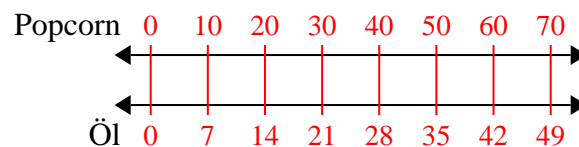
- 5) Ein Rezept fordert 4 Teelöffel Gewürze für jede 3 Charge Hühnchen. Wenn Sie 6 Hähnchenchargen haben, wie viele Teelöffel Gewürz benötigen Sie dann?



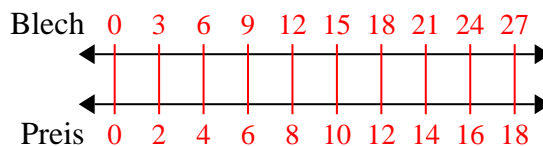
- 6) In einem Videospiel hast du für jeden besiegten 5 Gegner 4 Punkte verdient. Wenn du 50-Feinde besiegt hättest, wie viele Punkte hättest du verdient?



- 7) Ein Kino gab 7 Tassen Öl für jede 10 Charge Popcorn, die es herstellte. Wie viel Öl hätten sie verwendet, nachdem sie 70 Popcorn-Chargen hergestellt hatten?



- 8) Ein Builder könnte 3 Sheetrock für \$2 erhalten. Wenn er 27-Blätter gekauft hätte, wie viel Geld hätte er ausgegeben?



**Benutze den doppelten Zahlenstrahl und löse jede Aufgabe.****Antworten**

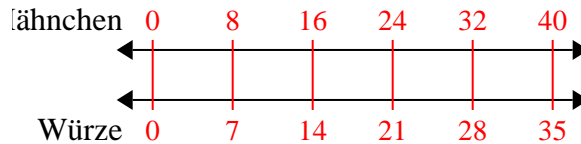
- |    |   |   |                                  |
|----|---|---|----------------------------------|
| 1) | Ein Rezept fordert 7 Teelöffel Gewürze für jede 8 Charge Hähnchen. Wenn Sie 40 Hähnchenchargen haben, wie viele Teelöffel Gewürz benötigen Sie dann?                  | Hähnchen<br>←————→<br>Würze<br>←————→     | 1. _____<br>2. _____             |
| 2) | In einem Videospiel hast du für jeden besiegten 6 Gegner 8 Punkte verdient. Wenn du 24-Feinde besiegt hättest, wie viele Punkte hättest du verdient?                  | Feinde<br>←————→<br>Punkte<br>←————→      | 3. _____<br>4. _____<br>5. _____ |
| 3) | In einem Geschäft gab es einen Sale, bei dem Sie 8 Tüten Cashewnüsse für 3 \$ erhalten konnten. Wenn Sie 56-Taschen kaufen möchten, wie viel würde das kosten?        | Tüten<br>←————→<br>Preis<br>←————→        | 6. _____<br>7. _____             |
| 4) | Ein schlampiges Joe-Restaurant gab 3 Servietten für jeden bestellten 10 Artikel. Wenn jemand 50-Artikel gekauft hat, wie viele Servietten sollte er bekommen?         | Artikel<br>←————→<br>Servietten<br>←————→ | 8. _____                         |
| 5) | Für jede 4 Dosen, die Justin zum Recycling gesammelt hat, hat er 5 Cent verdient. Wie viel Geld hätte er verdient, nachdem er 16 Dosen gesammelt hatte?               | Dosen<br>←————→<br>Geld<br>←————→         |                                  |
| 6) | Ein Builder könnte 9 Sheetrock für \$8 erhalten. Wenn er 81-Blätter gekauft hätte, wie viel Geld hätte er ausgegeben?   | Blech<br>←————→<br>Preis<br>←————→        |                                  |
| 7) | Eine Schachtel Süßigkeiten enthielt 8 Kirschstücke für 9 Zitronenstücke. Wenn die Schachtel 90 Zitronenstücke hätte, wie viele Kirschstücke wären es?                 | Zitrone<br>←————→<br>Kirsche<br>←————→    |                                  |
| 8) | Auf ihrem MP3-Player hatte sie für jeden 10-Pop-Song Annika auch 2-Country-Song. Wenn sie 80 Popsongs auf ihrem MP3-Player hat, wie viele Country-Songs hat sie dann? | Pop<br>←————→<br>Land<br>←————→           |                                  |



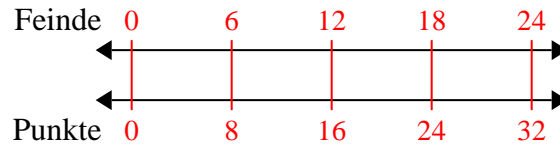
Benutze den doppelten Zahlenstrahl und löse jede Aufgabe.

**Antworten**

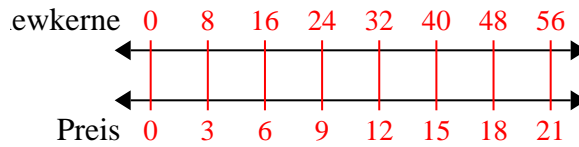
- 1) Ein Rezept fordert 7 Teelöffel Gewürze für jede 8 Charge Hühnchen. Wenn Sie 40 Hühnchenchargen haben, wie viele Teelöffel Gewürz benötigen Sie dann?

1. **35**

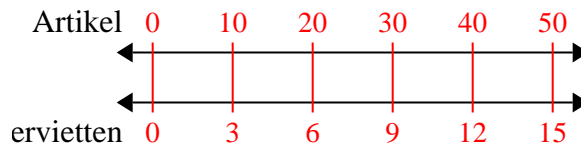
- 2) In einem Videospiel hast du für jeden besiegten 6 Gegner 8 Punkte verdient. Wenn du 24-Feinde besiegt hättest, wie viele Punkte hättest du verdient?

3. **21**

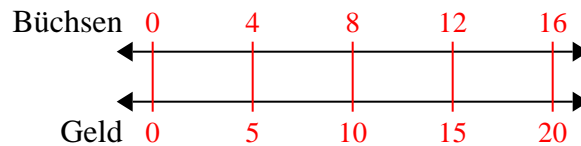
- 3) In einem Geschäft gab es einen Sale, bei dem Sie 8 Tüten Cashewnüsse für 3 \$ erhalten konnten. Wenn Sie 56-Taschen kaufen möchten, wie viel würde das kosten?

6. **72**

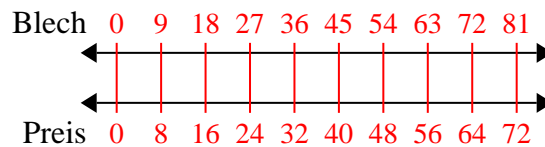
- 4) Ein schlampiges Joe-Restaurant gab 3 Servietten für jeden bestellten 10 Artikel. Wenn jemand 50-Artikel gekauft hat, wie viele Servietten sollte er bekommen?

8. **16**

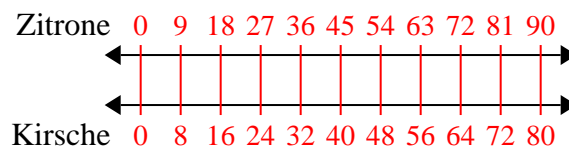
- 5) Für jede 4 Dosen, die Justin zum Recycling gesammelt hat, hat er 5 Cent verdient. Wie viel Geld hätte er verdient, nachdem er 16 Dosen gesammelt hatte?



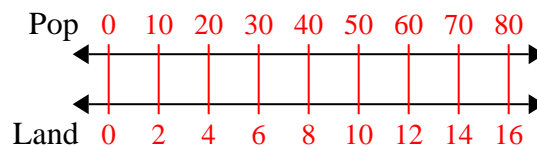
- 6) Ein Builder könnte 9 Sheetrock für \$8 erhalten. Wenn er 81-Blätter gekauft hätte, wie viel Geld hätte er ausgegeben?



- 7) Eine Schachtel Süßigkeiten enthielt 8 Kirschstücke für 9 Zitronenstücke. Wenn die Schachtel 90 Zitronenstücke hätte, wie viele Kirschstücke wären es?



- 8) Auf ihrem MP3-Player hatte sie für jeden 10-Pop-Song Annika auch 2-Country-Song. Wenn sie 80 Popsongs auf ihrem MP3-Player hat, wie viele Country-Songs hat sie dann?





**Benutze den doppelten Zahlenstrahl und löse jede Aufgabe.****Antworten**

- |    |   |  |                                  |
|----|---|--|----------------------------------|
| 1) | Ein Builder könnte 2 Sheetrock für \$5 erhalten. Wenn er 14-Blätter gekauft hätte, wie viel Geld hätte er ausgegeben?   | Blech<br>←————→<br>Preis<br>←————→       | 1. _____<br>2. _____             |
| 2) | Ein Kino gab 9 Tassen Öl für jede 4 Charge Popcorn, die es herstellte. Wie viel Öl hätten sie verwendet, nachdem sie 36 Popcorn-Chargen hergestellt hatten?             | Popcorn<br>←————→<br>Öl<br>←————→        | 3. _____<br>4. _____<br>5. _____ |
| 3) | Auf ihrem MP3-Player hatte sie für jeden 2-Pop-Song Katharina auch 3-Country-Song. Wenn sie 14 Popsongs auf ihrem MP3-Player hat, wie viele Country-Songs hat sie dann? | Pop<br>←————→<br>Land<br>←————→          | 6. _____<br>7. _____             |
| 4) | Ein schlampiges Joe-Restaurant gab 3 Servietten für jeden bestellten 7 Artikel. Wenn jemand 63-Artikel gekauft hat, wie viele Servietten sollte er bekommen?            | Artikel<br>←————→<br>ervietten<br>←————→ | 8. _____                         |
| 5) | In einem Videospiel hast du für jeden besiegten 2 Gegner 3 Punkte verdient. Wenn du 8-Feinde besiegt hättest, wie viele Punkte hättest du verdient?                     | Feinde<br>←————→<br>Punkte<br>←————→     |                                  |
| 6) | Eine Schachtel Süßigkeiten enthielt 9 Kirschstücke für 6 Zitronenstücke. Wenn die Schachtel 60 Zitronenstücke hätte, wie viele Kirschstücke wären es?                   | Zitrone<br>←————→<br>Kirsche<br>←————→   |                                  |
| 7) | Ein Rezept fordert 9 Teelöffel Gewürze für jede 5 Charge Hühnchen. Wenn Sie 45 Hähnchenchargen haben, wie viele Teelöffel Gewürz benötigen Sie dann?                    | hähnchen<br>←————→<br>Würze<br>←————→    |                                  |
| 8) | Für jede 2 Dosen, die Finn zum Recycling gesammelt hat, hat er 5 Cent verdient. Wie viel Geld hätte er verdient, nachdem er 20 Dosen gesammelt hatte?                   | Büchsen<br>←————→<br>Geld<br>←————→      |                                  |

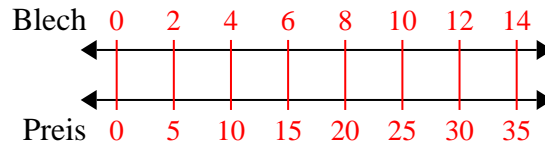


Benutze den doppelten Zahlenstrahl und löse jede Aufgabe.

**Antworten**

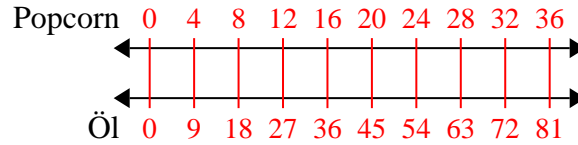
1)

Ein Builder könnte 2 Sheetrock für \$5 erhalten. Wenn er 14-Blätter gekauft hätte, wie viel Geld hätte er ausgegeben?

1. **35**

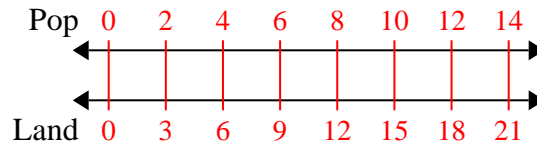
2)

Ein Kino gab 9 Tassen Öl für jede 4 Charge Popcorn, die es herstellte. Wie viel Öl hätten sie verwendet, nachdem sie 36 Popcorn-Chargen hergestellt hatten?

3. **21**

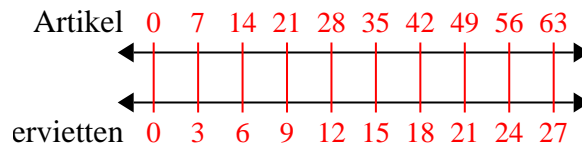
3)

Auf ihrem MP3-Player hatte sie für jeden 2-Pop-Song Katharina auch 3-Country-Song. Wenn sie 14 Popsongs auf ihrem MP3-Player hat, wie viele Country-Songs hat sie dann?

4. **27**

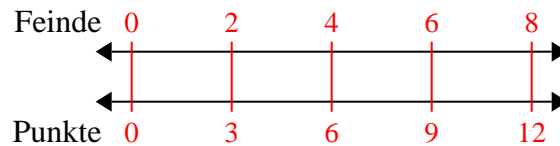
4)

Ein schlampiges Joe-Restaurant gab 3 Servietten für jeden bestellten 7 Artikel. Wenn jemand 63-Artikel gekauft hat, wie viele Servietten sollte er bekommen?

7. **81**

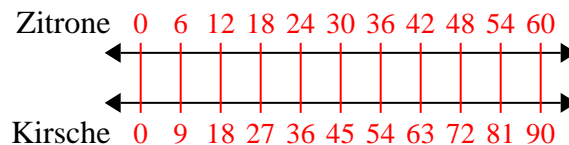
5)

In einem Videospiel hast du für jeden besiegten 2 Gegner 3 Punkte verdient. Wenn du 8-Feinde besiegt hättest, wie viele Punkte hättest du verdient?

8. **50**

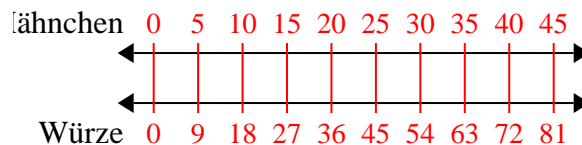
6)

Eine Schachtel Süßigkeiten enthielt 9 Kirschstücke für 6 Zitronenstücke. Wenn die Schachtel 60 Zitronenstücke hätte, wie viele Kirschstücke wären es?



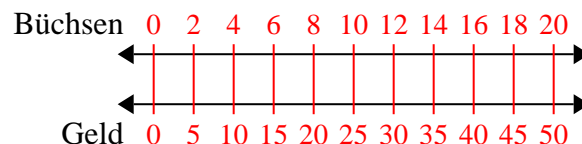
7)

Ein Rezept fordert 9 Teelöffel Gewürze für jede 5 Charge Hähnchen. Wenn Sie 45 Hähnchenchargen haben, wie viele Teelöffel Gewürz benötigen Sie dann?



8)

Für jede 2 Dosen, die Finn zum Recycling gesammelt hat, hat er 5 Cent verdient. Wie viel Geld hätte er verdient, nachdem er 20 Dosen gesammelt hatte?



**Benutze den doppelten Zahlenstrahl und löse jede Aufgabe.****Antworten**

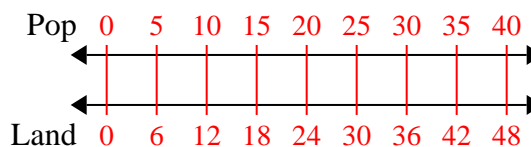
- |    |   |  |                                  |
|----|---|--|----------------------------------|
| 1) | Auf ihrem MP3-Player hatte sie für jeden 5-Pop-Song Marie auch 6-Country-Song. Wenn sie 40 Popsongs auf ihrem MP3-Player hat, wie viele Country-Songs hat sie dann? | Pop<br>←————→<br>Land<br>←————→          | 1. _____<br>2. _____             |
| 2) | Für jede 2 Dosen, die Florian zum Recycling gesammelt hat, hat er 7 Cent verdient. Wie viel Geld hätte er verdient, nachdem er 10 Dosen gesammelt hatte?            | Büchsen<br>←————→<br>Geld<br>←————→      | 3. _____<br>4. _____<br>5. _____ |
| 3) | Ein Kino gab 3 Tassen Öl für jede 7 Charge Popcorn, die es herstellte. Wie viel Öl hätten sie verwendet, nachdem sie 14 Popcorn-Chargen hergestellt hatten?         | Popcorn<br>←————→<br>Öl<br>←————→        | 6. _____<br>7. _____             |
| 4) | Das Verhältnis von Jungen zu Mädchen im Park betrug 6 zu 7. Wenn es 24 Jungen gab, wie viele Mädchen waren es?  | Jungs<br>←————→<br>Mädchen<br>←————→     | 8. _____                         |
| 5) | Ein Rezept fordert 10 Teelöffel Gewürze für jede 5 Charge Hühnchen. Wenn Sie 50 Hähnchenchargen haben, wie viele Teelöffel Gewürz benötigen Sie dann?               | Hähnchen<br>←————→<br>Würze<br>←————→    |                                  |
| 6) | Ein Builder könnte 4 Sheetrock für \$2 erhalten. Wenn er 12-Blätter gekauft hätte, wie viel Geld hätte er ausgegeben?   | Blech<br>←————→<br>Preis<br>←————→       |                                  |
| 7) | Eine Schachtel Süßigkeiten enthielt 7 Kirschstücke für 8 Zitronenstücke. Wenn die Schachtel 72 Zitronenstücke hätte, wie viele Kirschstücke wären es?               | Zitrone<br>←————→<br>Kirsche<br>←————→   |                                  |
| 8) | In einem Geschäft gab es einen Sale, bei dem Sie 9 Tüten Cashewnüsse für 10 \$ erhalten konnten. Wenn Sie 27-Taschen kaufen möchten, wie viel würde das kosten?     | Cashewkerne<br>←————→<br>Preis<br>←————→ |                                  |



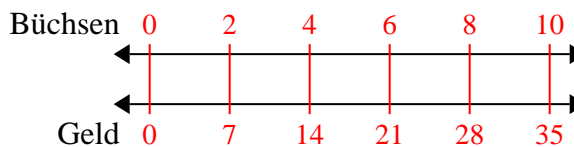
Benutze den doppelten Zahlenstrahl und löse jede Aufgabe.

**Antworten**

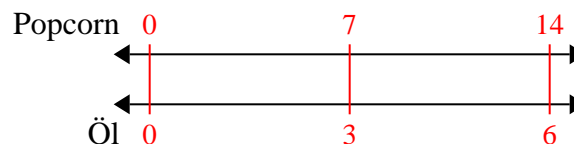
- 1) Auf ihrem MP3-Player hatte sie für jeden 5-Pop-Song Marie auch 6-Country-Song. Wenn sie 40 Popsongs auf ihrem MP3-Player hat, wie viele Country-Songs hat sie dann?

1. **48**

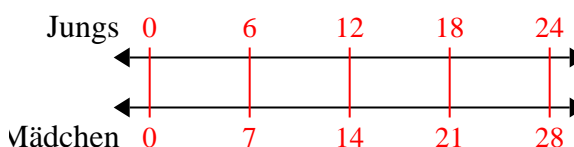
- 2) Für jede 2 Dosen, die Florian zum Recycling gesammelt hat, hat er 7 Cent verdient. Wie viel Geld hätte er verdient, nachdem er 10 Dosen gesammelt hatte?

2. **35**

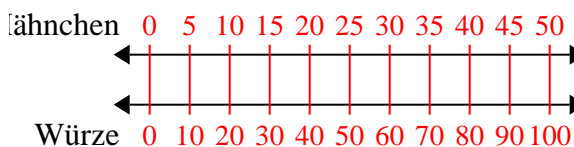
- 3) Ein Kino gab 3 Tassen Öl für jede 7 Charge Popcorn, die es herstellte. Wie viel Öl hätten sie verwendet, nachdem sie 14 Popcorn-Chargen hergestellt hatten?

3. **6**4. **28**5. **100**6. **6**7. **63**

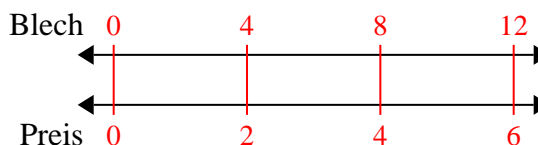
- 4) Das Verhältnis von Jungen zu Mädchen im Park betrug 6 zu 7. Wenn es 24 Jungen gab, wie viele Mädchen waren es?

8. **30**

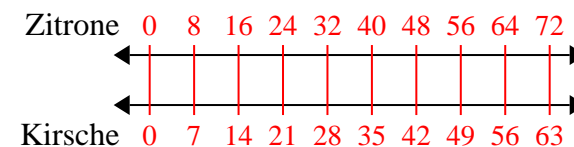
- 5) Ein Rezept fordert 10 Teelöffel Gewürze für jede 5 Charge Hühnchen. Wenn Sie 50 Hähnchenchargen haben, wie viele Teelöffel Gewürz benötigen Sie dann?



- 6) Ein Builder könnte 4 Sheetrock für \$2 erhalten. Wenn er 12-Blätter gekauft hätte, wie viel Geld hätte er ausgegeben?



- 7) Eine Schachtel Süßigkeiten enthielt 7 Kirschstücke für 8 Zitronenstücke. Wenn die Schachtel 72 Zitronenstücke hätte, wie viele Kirschstücke wären es?



- 8) In einem Geschäft gab es einen Sale, bei dem Sie 9 Tüten Cashewnüsse für 10 \$ erhalten konnten. Wenn Sie 27-Taschen kaufen möchten, wie viel würde das kosten?

