

**Benutze den doppelten Zahlenstrahl und löse jede Aufgabe.****Antworten**

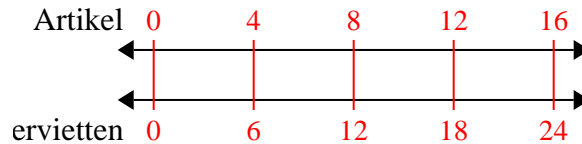
- | | | | |
|----|--|--|----------------------------------|
| 1) | Ein schlampiges Joe-Restaurant gab 6 Servietten für jeden bestellten 4 Artikel. Wenn jemand 16-Artikel gekauft hat, wie viele Servietten sollte er bekommen? | Artikel
←————→
ervietten
←————→ | 1. _____
2. _____ |
| 2) | Für jede 9 Dosen, die Max zum Recycling gesammelt hat, hat er 4 Cent verdient. Wie viel Geld hätte er verdient, nachdem er 72 Dosen gesammelt hatte? | Büchsen
←————→
Geld
←————→ | 3. _____
4. _____
5. _____ |
| 3) | Bei einer Spendenaktion in einer Schule erhalten Sie für jede verkaufte 6 Schachtel Schokolade 10 Punkte. Wenn Sie 12-Kisten verkaufen würden, wie viele Punkte hätten Sie verdient? | Kisten
←————→
Punkte
←————→ | 6. _____
7. _____ |
| 4) | In einem Geschäft gab es einen Sale, bei dem Sie 7 Tüten Cashewnüsse für 8 \$ erhalten konnten. Wenn Sie 56-Taschen kaufen möchten, wie viel würde das kosten? | ewkerne
←————→
Preis
←————→ | 8. _____ |
| 5) | Ein Rezept fordert 4 Teelöffel Gewürze für jede 3 Charge Hühnchen. Wenn Sie 6 Hähnchenchargen haben, wie viele Teelöffel Gewürz benötigen Sie dann? | lähnchen
←————→
Würze
←————→ | |
| 6) | In einem Videospiel hast du für jeden besiegten 5 Gegner 4 Punkte verdient. Wenn du 50-Feinde besiegt hättest, wie viele Punkte hättest du verdient? | Feinde
←————→
Punkte
←————→ | |
| 7) | Ein Kino gab 7 Tassen Öl für jede 10 Charge Popcorn, die es herstellte. Wie viel Öl hätten sie verwendet, nachdem sie 70 Popcorn-Chargen hergestellt hatten? | Popcorn
←————→
Öl
←————→ | |
| 8) | Ein Builder könnte 3 Sheetrock für \$2 erhalten. Wenn er 27-Blätter gekauft hätte, wie viel Geld hätte er ausgegeben? | Blech
←————→
Preis
←————→ | |



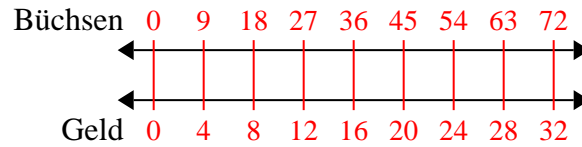
Benutze den doppelten Zahlenstrahl und löse jede Aufgabe.

Antworten

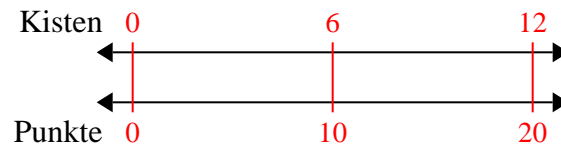
- 1) Ein schlampiges Joe-Restaurant gab 6 Servietten für jeden bestellten 4 Artikel. Wenn jemand 16-Artikel gekauft hat, wie viele Servietten sollte er bekommen?

1. **24**

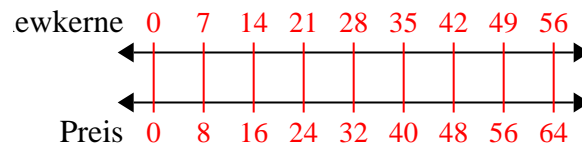
- 2) Für jede 9 Dosen, die Max zum Recycling gesammelt hat, hat er 4 Cent verdient. Wie viel Geld hätte er verdient, nachdem er 72 Dosen gesammelt hatte?

3. **20**

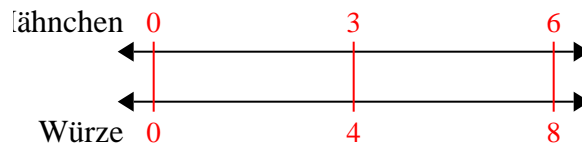
- 3) Bei einer Spendenaktion in einer Schule erhalten Sie für jede verkaufte 6 Schachtel Schokolade 10 Punkte. Wenn Sie 12-Kisten verkaufen würden, wie viele Punkte hätten Sie verdient?

4. **64**

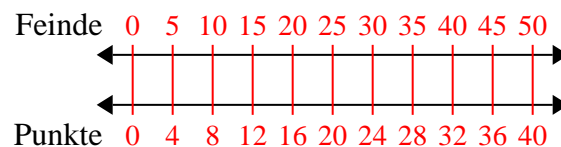
- 4) In einem Geschäft gab es einen Sale, bei dem Sie 7 Tüten Cashewnüsse für 8 \$ erhalten konnten. Wenn Sie 56-Taschen kaufen möchten, wie viel würde das kosten?

5. **8**

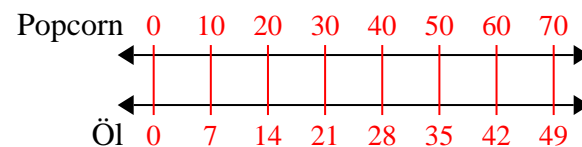
- 5) Ein Rezept fordert 4 Teelöffel Gewürze für jede 3 Charge Hühnchen. Wenn Sie 6 Hähnchenchargen haben, wie viele Teelöffel Gewürz benötigen Sie dann?

6. **40**

- 6) In einem Videospiel hast du für jeden besiegten 5 Gegner 4 Punkte verdient. Wenn du 50-Feinde besiegt hättest, wie viele Punkte hättest du verdient?

7. **49**

- 7) Ein Kino gab 7 Tassen Öl für jede 10 Charge Popcorn, die es herstellte. Wie viel Öl hätten sie verwendet, nachdem sie 70 Popcorn-Chargen hergestellt hatten?

8. **18**

- 8) Ein Builder könnte 3 Sheetrock für \$2 erhalten. Wenn er 27-Blätter gekauft hätte, wie viel Geld hätte er ausgegeben?

