

**Benutze den doppelten Zahlenstrahl und löse jede Aufgabe.****Antworten**

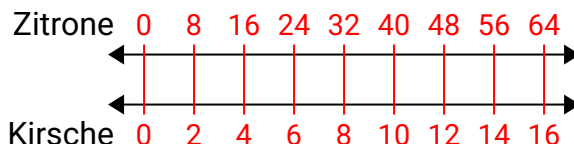
- | | | | |
|----|--|---|----------------------------------|
| 1) | Eine Schachtel Süßigkeiten enthielt 2 Kirschstücke für 8 Zitronenstücke. Wenn die Schachtel 64 Zitronenstücke hätte, wie viele Kirschstücke wären es? | Zitrone
←————→
Kirsche
←————→ | 1. _____
2. _____ |
| 2) | Bei einer Spendenaktion in einer Schule erhalten Sie für jede verkaufte 8 Schachtel Schokolade 10 Punkte. Wenn Sie 40-Kisten verkaufen würden, wie viele Punkte hätten Sie verdient? | Kisten
←————→
Punkte
←————→ | 3. _____
4. _____
5. _____ |
| 3) | Das Verhältnis von Jungen zu Mädchen im Park betrug 2 zu 10. Wenn es 20 Jungen gab, wie viele Mädchen waren es? | Jungs
←————→
Mädchen
←————→ | 6. _____
7. _____ |
| 4) | Ein Rezept fordert 6 Teelöffel Gewürze für jede 5 Charge Hühnchen. Wenn Sie 35 Hühnchenchargen haben, wie viele Teelöffel Gewürz benötigen Sie dann? | Hühnchen
←————→
Würze
←————→ | 8. _____ |
| 5) | Ein Kino gab 3 Tassen Öl für jede 2 Charge Popcorn, die es herstellte. Wie viel Öl hätten sie verwendet, nachdem sie 18 Popcorn-Chargen hergestellt hatten? | Popcorn
←————→
Öl
←————→ | |
| 6) | Ein Builder könnte 7 Sheetrock für \$9 erhalten. Wenn er 28-Blätter gekauft hätte, wie viel Geld hätte er ausgegeben? | Blech
←————→
Preis
←————→ | |
| 7) | Für jede 7 Dosen, die Julian zum Recycling gesammelt hat, hat er 9 Cent verdient. Wie viel Geld hätte er verdient, nachdem er 63 Dosen gesammelt hatte? | Dosen
←————→
Geld
←————→ | |
| 8) | Ein schlampiges Joe-Restaurant gab 8 Servietten für jeden bestellten 2 Artikel. Wenn jemand 10-Artikel gekauft hat, wie viele Servietten sollte er bekommen? | Artikel
←————→
Servietten
←————→ | |



Benutze den doppelten Zahlenstrahl und löse jede Aufgabe.

Antworten

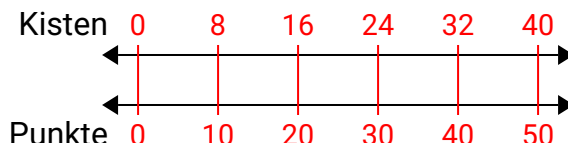
- 1) Eine Schachtel Süßigkeiten enthielt 2 Kirschstücke für 8 Zitronenstücke. Wenn die Schachtel 64 Zitronenstücke hätte, wie viele Kirschstücke wären es?



1. **16**

2. **50**

- 2) Bei einer Spendenaktion in einer Schule erhalten Sie für jede verkaufte 8 Schachtel Schokolade 10 Punkte. Wenn Sie 40-Kisten verkaufen würden, wie viele Punkte hätten Sie verdient?

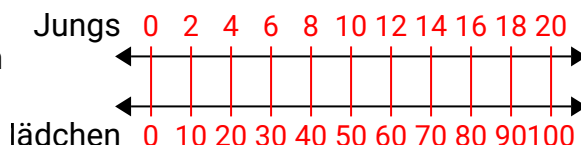


3. **100**

4. **42**

5. **27**

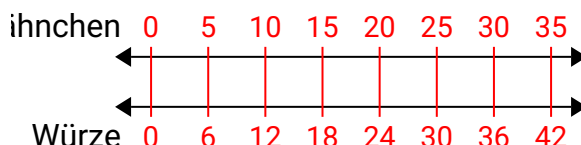
- 3) Das Verhältnis von Jungen zu Mädchen im Park betrug 2 zu 10. Wenn es 20 Jungen gab, wie viele Mädchen waren es?



6. **36**

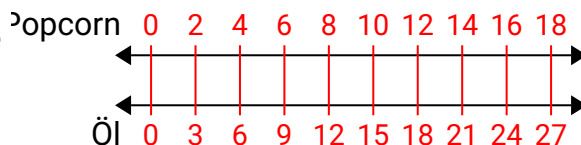
7. **81**

- 4) Ein Rezept fordert 6 Teelöffel Gewürze für jede 5 Charge Hühnchen. Wenn Sie 35 Hühnchenchargen haben, wie viele Teelöffel Gewürz benötigen Sie dann?

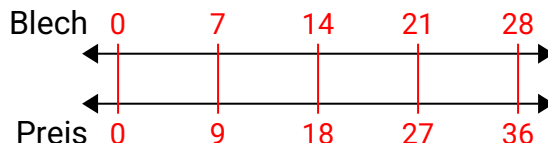


8. **40**

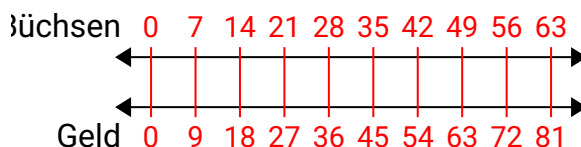
- 5) Ein Kino gab 3 Tassen Öl für jede 2 Charge Popcorn, die es herstellte. Wie viel Öl hätten sie verwendet, nachdem sie 18 Popcorn-Chargen hergestellt hatten?



- 6) Ein Builder könnte 7 Sheetrock für \$9 erhalten. Wenn er 28-Blätter gekauft hätte, wie viel Geld hätte er ausgegeben?



- 7) Für jede 7 Dosen, die Julian zum Recycling gesammelt hat, hat er 9 Cent verdient. Wie viel Geld hätte er verdient, nachdem er 63 Dosen gesammelt hatte?



- 8) Ein schlampiges Joe-Restaurant gab 8 Servietten für jeden bestellten 2 Artikel. Wenn jemand 10-Artikel gekauft hat, wie viele Servietten sollte er bekommen?

