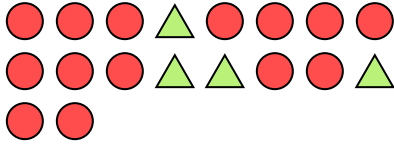





Löse jede Aufgabe.

Antworten

Bsp) Was ist das Verhältnis von Dreiecke zu Kreise?



1) Was ist das Verhältnis von moons zu Fünfecke?



Bsp. **4:14**

1. _____

2. _____

3. _____

4. _____

5. _____

6. _____

7. _____

8. _____

9. _____

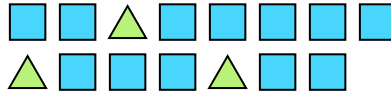
10. _____

11. _____

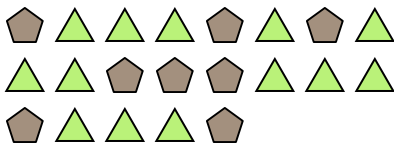
2) Was ist das Verhältnis von Kreise zu Sterne?



3) Was ist das Verhältnis von Rechtecke zu Dreiecke?



4) Was ist das Verhältnis von Dreiecke zu Fünfecke?




5) Was ist das Verhältnis von Dreiecke zu hearts?



6) Was ist das Verhältnis von moons zu Kreise?




7) Was ist das Verhältnis von Kreise zu moons?




8) Was ist das Verhältnis von moons zu Sterne?



9) Was ist das Verhältnis von Sterne zu Fünfecke?



10) Was ist das Verhältnis von Kreise zu moons?



11) Was ist das Verhältnis von Fünfecke zu moons?

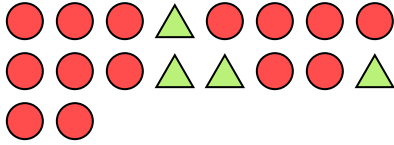





Löse jede Aufgabe.

Antworten

Bsp) Was ist das Verhältnis von Dreiecke zu Kreise?



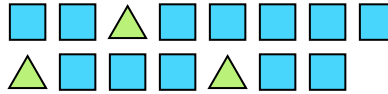
1) Was ist das Verhältnis von moons zu Fünfecke?

Bsp. 4:14

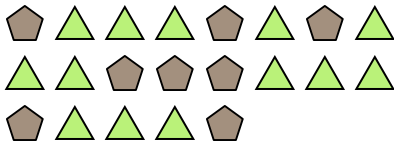
2) Was ist das Verhältnis von Kreise zu Sterne?



3) Was ist das Verhältnis von Rechtecke zu Dreiecke?

1. 15:8

4) Was ist das Verhältnis von Dreiecke zu Fünfecke?




5) Was ist das Verhältnis von Dreiecke zu hearts?

2. 9:7

6) Was ist das Verhältnis von moons zu Kreise?




7) Was ist das Verhältnis von Kreise zu moons?

3. 12:3


8) Was ist das Verhältnis von moons zu Sterne?



9) Was ist das Verhältnis von Sterne zu Fünfecke?

4. 13:8

10) Was ist das Verhältnis von Kreise zu moons?



11) Was ist das Verhältnis von Fünfecke zu moons?

5. 4:106. 5:47. 11:128. 7:59. 6:1310. 8:1511. 2:3