
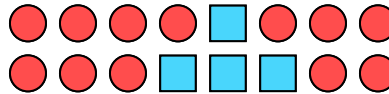
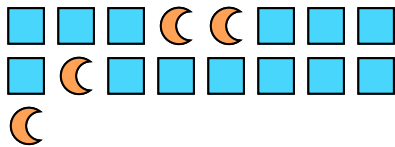
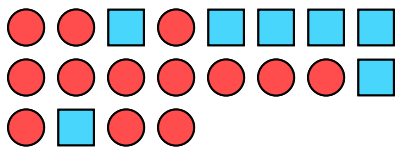


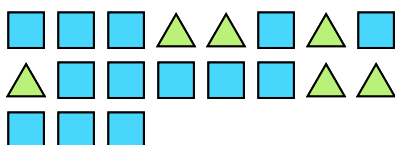





Löse jede Aufgabe.

Bsp) Wie lautet das Verhältnis von Rechtecke zu hearts?**1)** Wie lautet das Verhältnis von Rechtecke zu Kreise?**2)** Wie lautet das Verhältnis von Rechtecke zu moons?**3)** Wie lautet das Verhältnis von Sterne zu hearts?**4)** Wie lautet das Verhältnis von Rechtecke zu Kreise?**5)** Wie lautet das Verhältnis von Sterne zu Dreiecke?**6)** Wie lautet das Verhältnis von Kreise zu Rechtecke?**7)** Wie lautet das Verhältnis von Sterne zu Rechtecke?**8)** Wie lautet das Verhältnis von Kreise zu Sterne?**9)** Wie lautet das Verhältnis von moons zu Kreise?**10)** Wie lautet das Verhältnis von Rechtecke zu Dreiecke?**11)** Wie lautet das Verhältnis von hearts zu Kreise?**Antworten**Bsp. **5:9**1. **4:12**2. **13:4**3. **5:11**4. **7:13**5. **9:12**6. **5:3**7. **15:11**8. **12:9**9. **11:2**10. **13:6**11. **6:11**