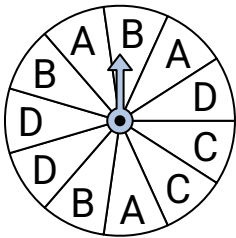
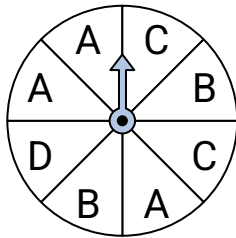


**Löse jede Aufgabe.****Antworten**

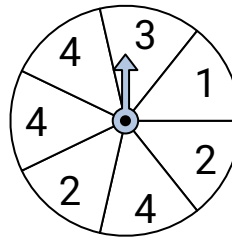
- 1) Auf welchen Buchstaben landet der Kreisel am seltensten?



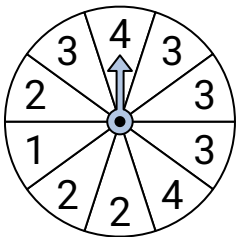
- 2) Auf welchen Buchstaben landet der Kreisel am häufigsten?



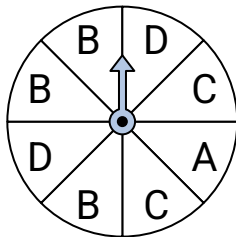
- 3) Auf welche zwei Zahlen landet der Kreisel gleich wahrscheinlich?



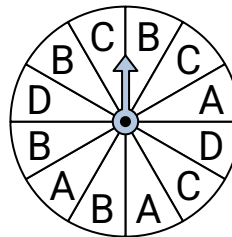
- 4) Auf welche Zahl landet der Kreisel am häufigsten?



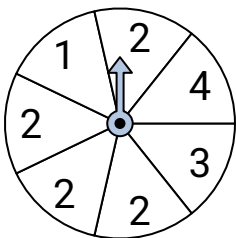
- 5) Auf welchen Buchstaben landet der Kreisel am häufigsten?



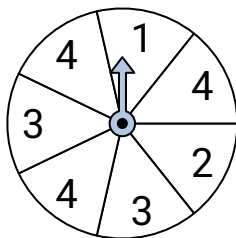
- 6) Auf welchen Buchstaben landet der Kreisel am seltensten?



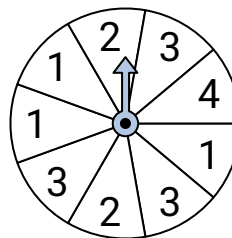
- 7) Auf welche Zahl landet der Kreisel am häufigsten?



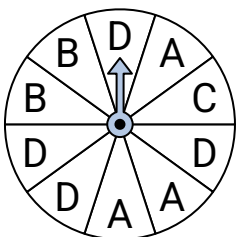
- 8) Auf welche zwei Zahlen landet der Kreisel gleich wahrscheinlich?



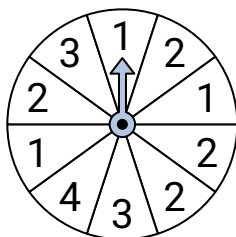
- 9) Auf welche zwei Zahlen landet der Kreisel gleich wahrscheinlich?



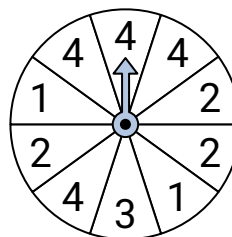
- 10) Auf welchen Buchstaben landet der Kreisel am häufigsten?



- 11) Auf welche Zahl landet der Kreisel am seltensten?



- 12) Auf welche Zahl landet der Kreisel am häufigsten?

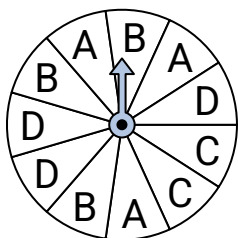


1. \_\_\_\_\_  
2. \_\_\_\_\_  
3. \_\_\_\_\_  
4. \_\_\_\_\_  
5. \_\_\_\_\_  
6. \_\_\_\_\_  
7. \_\_\_\_\_  
8. \_\_\_\_\_  
9. \_\_\_\_\_  
10. \_\_\_\_\_  
11. \_\_\_\_\_  
12. \_\_\_\_\_

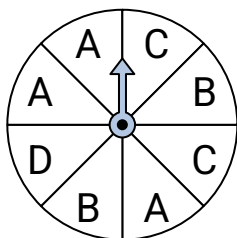


Löse jede Aufgabe.

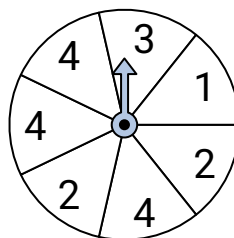
- 1) Auf welchen Buchstaben landet der Kreisel am seltensten?



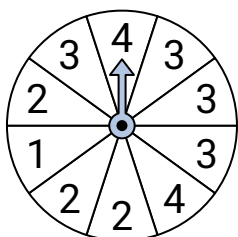
- 2) Auf welchen Buchstaben landet der Kreisel am häufigsten?



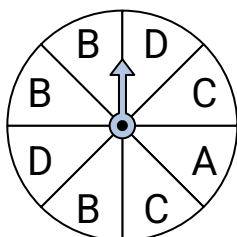
- 3) Auf welche zwei Zahlen landet der Kreisel gleich wahrscheinlich?



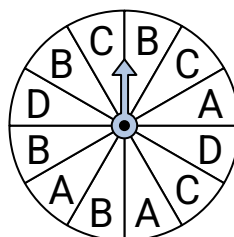
- 4) Auf welche Zahl landet der Kreisel am häufigsten?



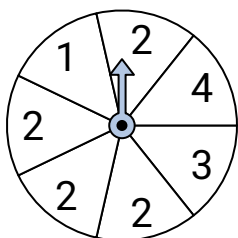
- 5) Auf welchen Buchstaben landet der Kreisel am häufigsten?



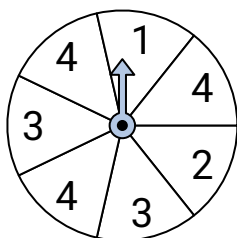
- 6) Auf welchen Buchstaben landet der Kreisel am seltensten?



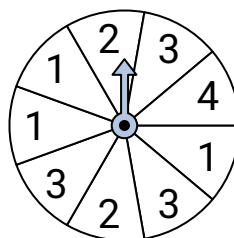
- 7) Auf welche Zahl landet der Kreisel am häufigsten?



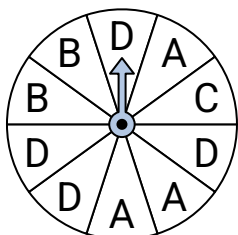
- 8) Auf welche zwei Zahlen landet der Kreisel gleich wahrscheinlich?



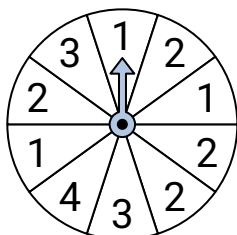
- 9) Auf welche zwei Zahlen landet der Kreisel gleich wahrscheinlich?



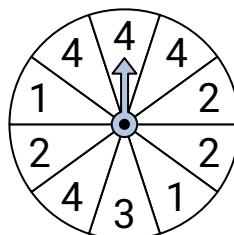
- 10) Auf welchen Buchstaben landet der Kreisel am häufigsten?



- 11) Auf welche Zahl landet der Kreisel am seltensten?



- 12) Auf welche Zahl landet der Kreisel am häufigsten?

**Antworten**

1. **C**  
2. **A**  
3. **1 & 3**  
4. **3**  
5. **B**  
6. **D**  
7. **2**  
8. **1 & 2**  
9. **1 & 3**  
10. **D**  
11. **4**  
12. **4**