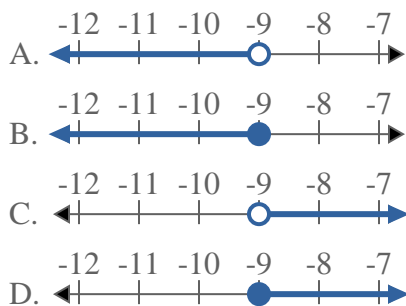




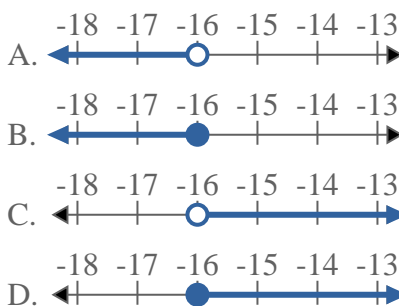
Löse jede Aufgabe.

Antworten

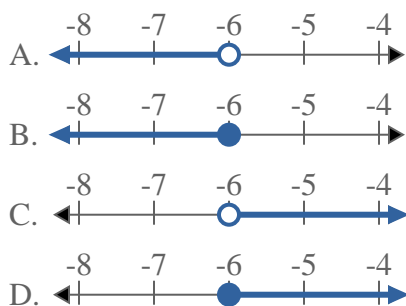
1) Bestimme, welche Möglichkeit $X < -9$ anzeigt.



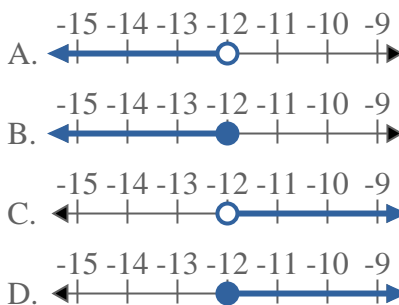
2) Bestimme, welche Möglichkeit $X \leq -16$ anzeigt.



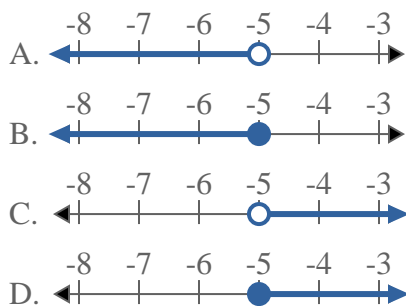
3) Bestimme, welche Möglichkeit $X \geq -6$ anzeigt.



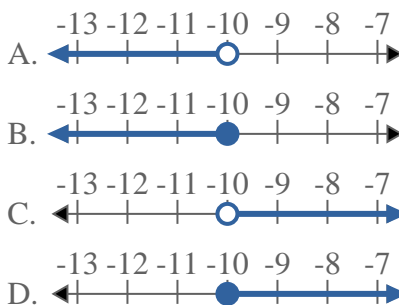
4) Bestimme, welche Möglichkeit $X > -12$ anzeigt.



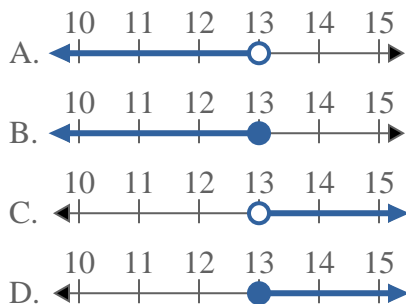
5) Bestimme, welche Möglichkeit $X \leq -5$ anzeigt.



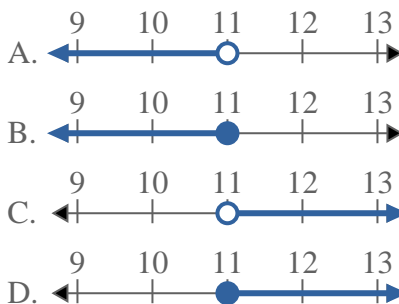
6) Bestimme, welche Möglichkeit $X < -10$ anzeigt.



7) Bestimme, welche Möglichkeit $X > 13$ anzeigt.



8) Bestimme, welche Möglichkeit $X < 11$ anzeigt.



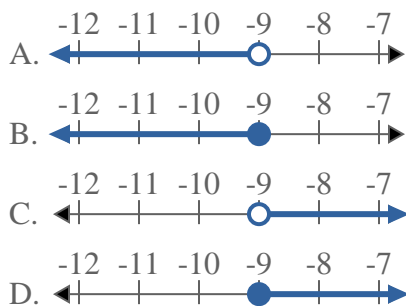
- 1. _____
- 2. _____
- 3. _____
- 4. _____
- 5. _____
- 6. _____
- 7. _____
- 8. _____



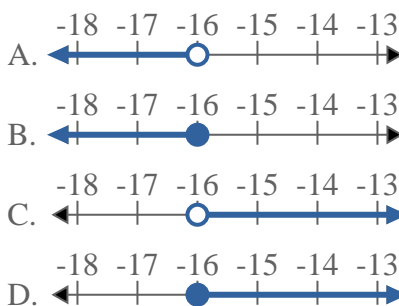
Löse jede Aufgabe.

Antworten

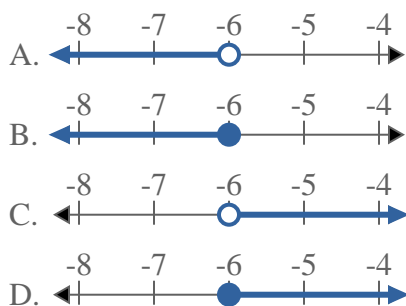
1) Bestimme, welche Möglichkeit $X < -9$ anzeigt.



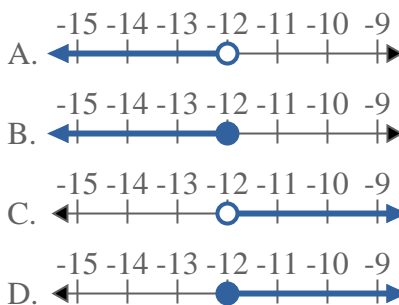
2) Bestimme, welche Möglichkeit $X \leq -16$ anzeigt.



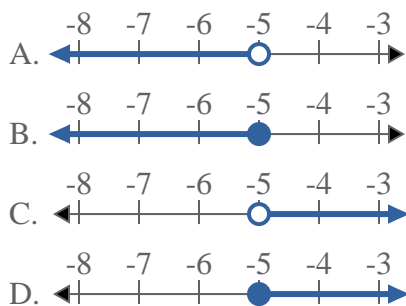
3) Bestimme, welche Möglichkeit $X \geq -6$ anzeigt.



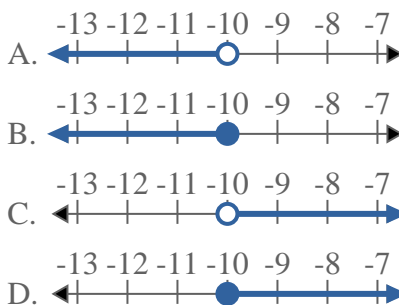
4) Bestimme, welche Möglichkeit $X > -12$ anzeigt.



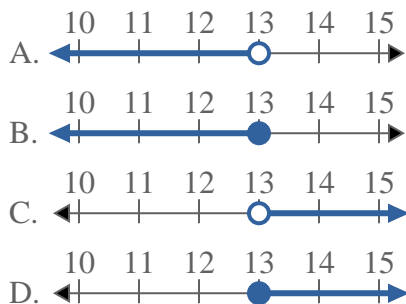
5) Bestimme, welche Möglichkeit $X \leq -5$ anzeigt.



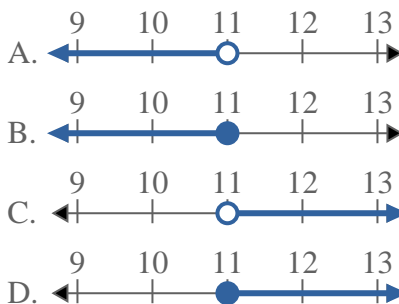
6) Bestimme, welche Möglichkeit $X < -10$ anzeigt.



7) Bestimme, welche Möglichkeit $X > 13$ anzeigt.



8) Bestimme, welche Möglichkeit $X < 11$ anzeigt.



- 1. **A**
- 2. **B**
- 3. **D**
- 4. **C**
- 5. **B**
- 6. **A**
- 7. **C**
- 8. **A**