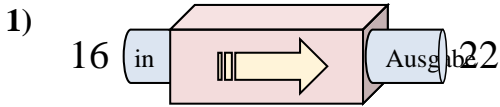


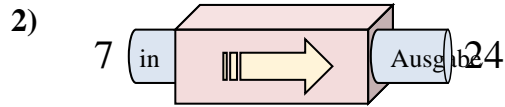


Stelle fest, welche Regel die Funktionsmaschine anwendet.

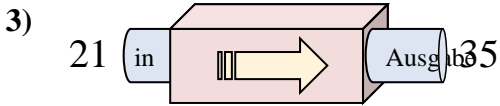
Antworten



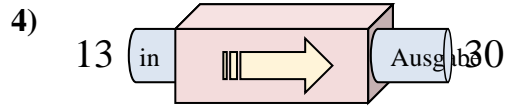
- A. 11 hinzufügen
- B. 7 hinzufügen
- C. 6 hinzufügen
- D. 5 hinzufügen



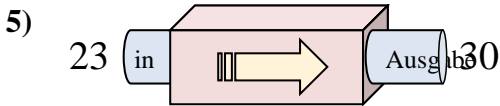
- A. 17 hinzufügen
- B. 18 hinzufügen
- C. Subtrahieren von 14
- D. Subtrahieren von 18



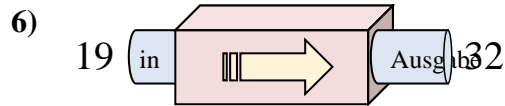
- A. Subtrahieren von 11
- B. 18 hinzufügen
- C. 14 hinzufügen
- D. Subtrahieren von 15



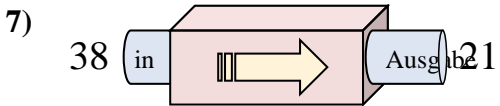
- A. 18 hinzufügen
- B. 21 hinzufügen
- C. 17 hinzufügen
- D. Subtrahieren von 19



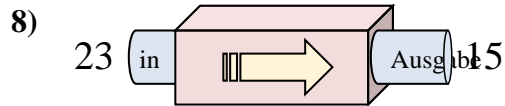
- A. Subtrahieren von 11
- B. 7 hinzufügen
- C. Subtrahieren von 3
- D. 4 hinzufügen



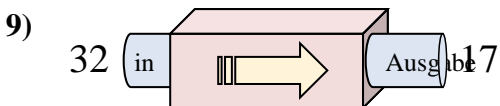
- A. Subtrahieren von 13
- B. 13 hinzufügen
- C. 17 hinzufügen
- D. Subtrahieren von 8



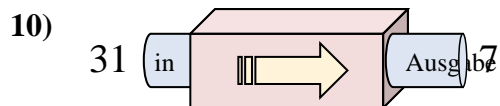
- A. Subtrahieren von 18
- B. Subtrahieren von 17
- C. 13 hinzufügen
- D. Subtrahieren von 14



- A. Subtrahieren von 9
- B. Subtrahieren von 11
- C. Subtrahieren von 8
- D. 9 hinzufügen



- A. Subtrahieren von 11
- B. Subtrahieren von 15
- C. 10 hinzufügen
- D. Subtrahieren von 20



- A. Subtrahieren von 19
- B. Subtrahieren von 25
- C. Subtrahieren von 24
- D. 22 hinzufügen

1. _____

2. _____

3. _____

4. _____

5. _____

6. _____

7. _____

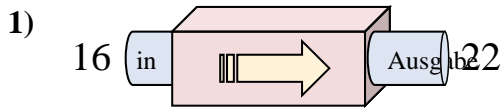
8. _____

9. _____

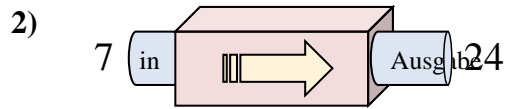
10. _____



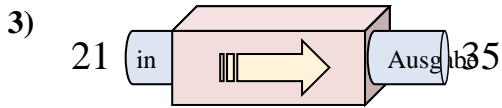
Stelle fest, welche Regel die Funktionsmaschine anwendet.

Antworten

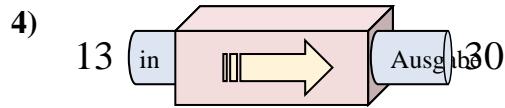
- A. 11 hinzufügen
- B. 7 hinzufügen
- C. 6 hinzufügen
- D. 5 hinzufügen



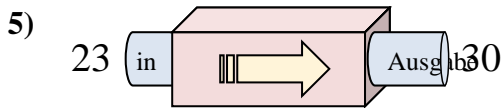
- A. 17 hinzufügen
- B. 18 hinzufügen
- C. Subtrahieren von 14
- D. Subtrahieren von 18



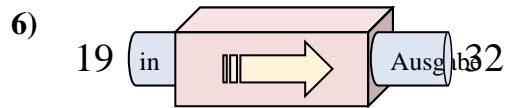
- A. Subtrahieren von 11
- B. 18 hinzufügen
- C. 14 hinzufügen
- D. Subtrahieren von 15



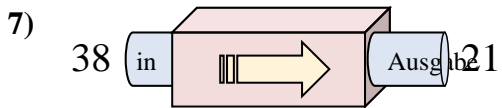
- A. 18 hinzufügen
- B. 21 hinzufügen
- C. 17 hinzufügen
- D. Subtrahieren von 19



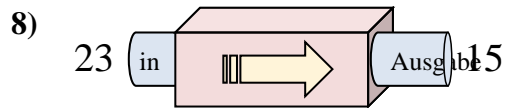
- A. Subtrahieren von 11
- B. 7 hinzufügen
- C. Subtrahieren von 3
- D. 4 hinzufügen



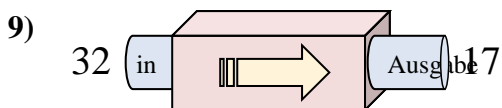
- A. Subtrahieren von 13
- B. 13 hinzufügen
- C. 17 hinzufügen
- D. Subtrahieren von 8



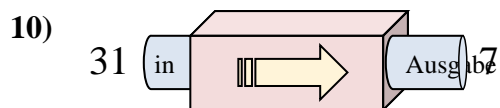
- A. Subtrahieren von 18
- B. Subtrahieren von 17
- C. 13 hinzufügen
- D. Subtrahieren von 14



- A. Subtrahieren von 9
- B. Subtrahieren von 11
- C. Subtrahieren von 8
- D. 9 hinzufügen



- A. Subtrahieren von 11
- B. Subtrahieren von 15
- C. 10 hinzufügen
- D. Subtrahieren von 20



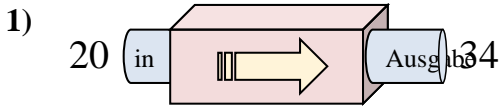
- A. Subtrahieren von 19
- B. Subtrahieren von 25
- C. Subtrahieren von 24
- D. 22 hinzufügen

1. **C**2. **A**3. **C**4. **C**5. **B**6. **B**7. **B**8. **C**9. **B**10. **C**

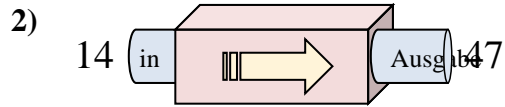


Stelle fest, welche Regel die Funktionsmaschine anwendet.

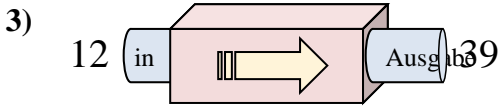
Antworten



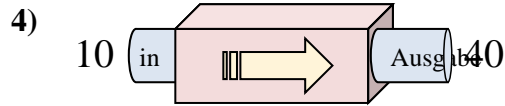
- A. Subtrahieren von 13
- B. 14 hinzufügen
- C. 12 hinzufügen
- D. 9 hinzufügen



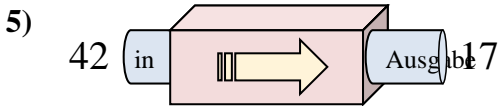
- A. 32 hinzufügen
- B. 33 hinzufügen
- C. Subtrahieren von 35
- D. 37 hinzufügen



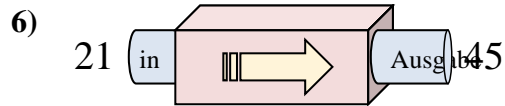
- A. 31 hinzufügen
- B. 27 hinzufügen
- C. 26 hinzufügen
- D. Subtrahieren von 24



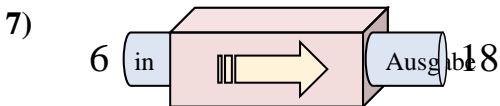
- A. Subtrahieren von 28
- B. Subtrahieren von 31
- C. 26 hinzufügen
- D. 30 hinzufügen



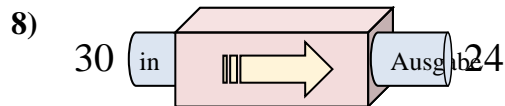
- A. Subtrahieren von 29
- B. 24 hinzufügen
- C. Subtrahieren von 25
- D. 22 hinzufügen



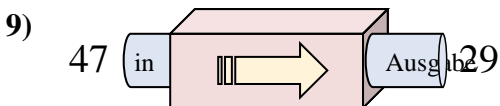
- A. 24 hinzufügen
- B. 27 hinzufügen
- C. Subtrahieren von 29
- D. 25 hinzufügen



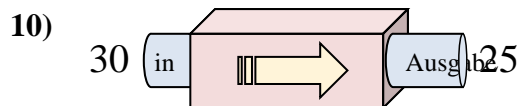
- A. 9 hinzufügen
- B. 12 hinzufügen
- C. Subtrahieren von 9
- D. 14 hinzufügen



- A. Subtrahieren von 6
- B. 5 hinzufügen
- C. Subtrahieren von 11
- D. Subtrahieren von 10



- A. 22 hinzufügen
- B. Subtrahieren von 18
- C. Subtrahieren von 21
- D. Subtrahieren von 19

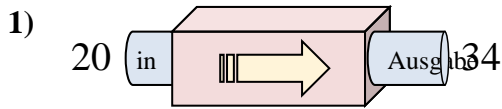


- A. 8 hinzufügen
- B. 10 hinzufügen
- C. Subtrahieren von 7
- D. Subtrahieren von 5

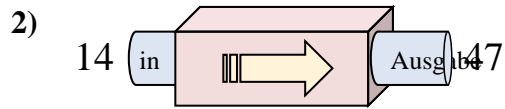
- 1. _____
- 2. _____
- 3. _____
- 4. _____
- 5. _____
- 6. _____
- 7. _____
- 8. _____
- 9. _____
- 10. _____



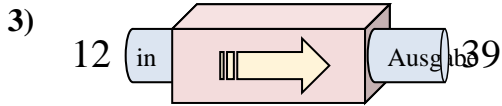
Stelle fest, welche Regel die Funktionsmaschine anwendet.

Antworten

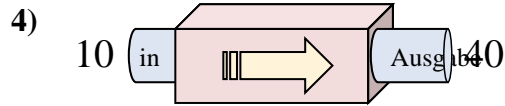
- A. Subtrahieren von 13
- B. 14 hinzufügen
- C. 12 hinzufügen
- D. 9 hinzufügen



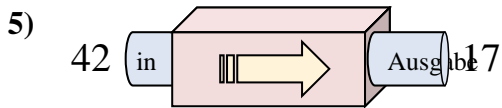
- A. 32 hinzufügen
- B. 33 hinzufügen
- C. Subtrahieren von 35
- D. 37 hinzufügen



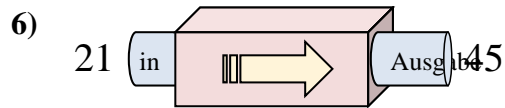
- A. 31 hinzufügen
- B. 27 hinzufügen
- C. 26 hinzufügen
- D. Subtrahieren von 24



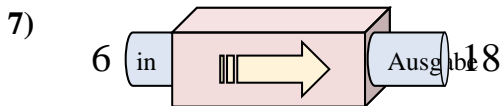
- A. Subtrahieren von 28
- B. Subtrahieren von 31
- C. 26 hinzufügen
- D. 30 hinzufügen



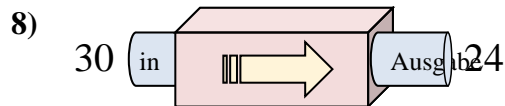
- A. Subtrahieren von 29
- B. 24 hinzufügen
- C. Subtrahieren von 25
- D. 22 hinzufügen



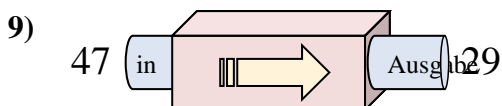
- A. 24 hinzufügen
- B. 27 hinzufügen
- C. Subtrahieren von 29
- D. 25 hinzufügen



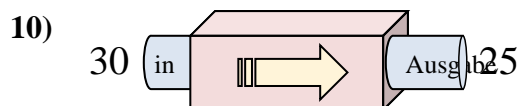
- A. 9 hinzufügen
- B. 12 hinzufügen
- C. Subtrahieren von 9
- D. 14 hinzufügen



- A. Subtrahieren von 6
- B. 5 hinzufügen
- C. Subtrahieren von 11
- D. Subtrahieren von 10



- A. 22 hinzufügen
- B. Subtrahieren von 18
- C. Subtrahieren von 21
- D. Subtrahieren von 19



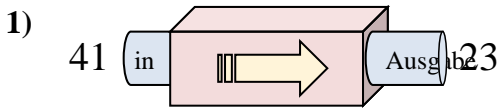
- A. 8 hinzufügen
- B. 10 hinzufügen
- C. Subtrahieren von 7
- D. Subtrahieren von 5

1. **B**2. **B**3. **B**4. **D**5. **C**6. **A**7. **B**8. **A**9. **B**10. **D**

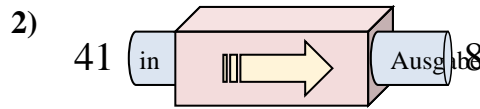


Stelle fest, welche Regel die Funktionsmaschine anwendet.

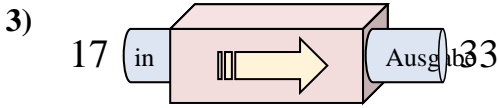
Antworten



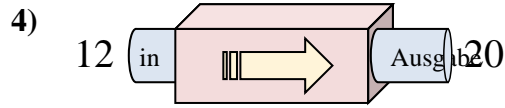
- A. Subtrahieren von 18
- B. 21 hinzufügen
- C. 16 hinzufügen
- D. Subtrahieren von 16



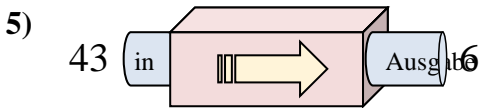
- A. Subtrahieren von 33
- B. Subtrahieren von 29
- C. 31 hinzufügen
- D. Subtrahieren von 31



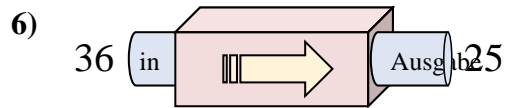
- A. 16 hinzufügen
- B. Subtrahieren von 18
- C. 20 hinzufügen
- D. 18 hinzufügen



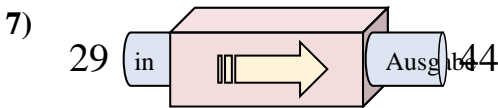
- A. 11 hinzufügen
- B. Subtrahieren von 7
- C. 7 hinzufügen
- D. 8 hinzufügen



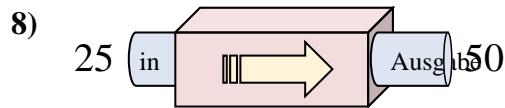
- A. Subtrahieren von 37
- B. Subtrahieren von 38
- C. Subtrahieren von 34
- D. 42 hinzufügen



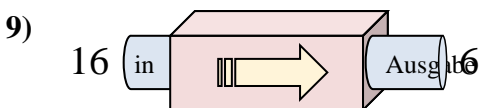
- A. Subtrahieren von 14
- B. Subtrahieren von 15
- C. 8 hinzufügen
- D. Subtrahieren von 11



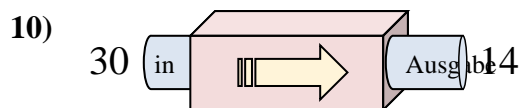
- A. Subtrahieren von 12
- B. 16 hinzufügen
- C. 17 hinzufügen
- D. 15 hinzufügen



- A. 30 hinzufügen
- B. Subtrahieren von 30
- C. 25 hinzufügen
- D. 26 hinzufügen



- A. Subtrahieren von 6
- B. Subtrahieren von 10
- C. Subtrahieren von 15
- D. Subtrahieren von 13

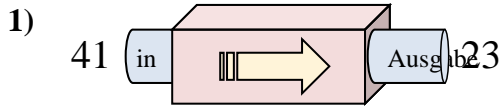


- A. Subtrahieren von 19
- B. Subtrahieren von 12
- C. Subtrahieren von 16
- D. 12 hinzufügen

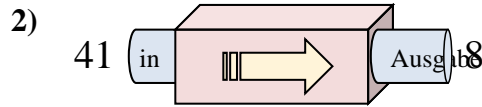
1. _____
2. _____
3. _____
4. _____
5. _____
6. _____
7. _____
8. _____
9. _____
10. _____



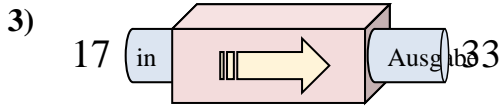
Stelle fest, welche Regel die Funktionsmaschine anwendet.

Antworten

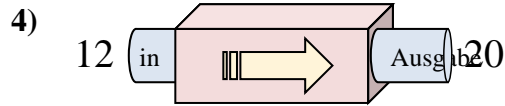
- A. Subtrahieren von 18
- B. 21 hinzufügen
- C. 16 hinzufügen
- D. Subtrahieren von 16



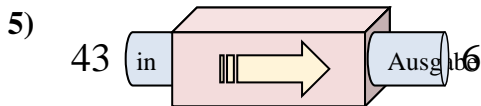
- A. Subtrahieren von 33
- B. Subtrahieren von 29
- C. 31 hinzufügen
- D. Subtrahieren von 31



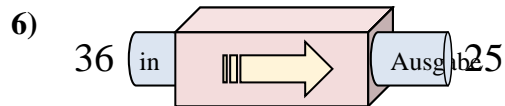
- A. 16 hinzufügen
- B. Subtrahieren von 18
- C. 20 hinzufügen
- D. 18 hinzufügen



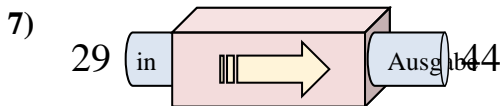
- A. 11 hinzufügen
- B. Subtrahieren von 7
- C. 7 hinzufügen
- D. 8 hinzufügen



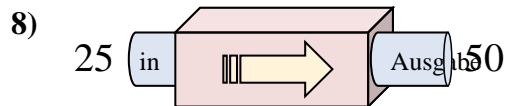
- A. Subtrahieren von 37
- B. Subtrahieren von 38
- C. Subtrahieren von 34
- D. 42 hinzufügen



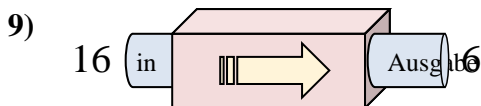
- A. Subtrahieren von 14
- B. Subtrahieren von 15
- C. 8 hinzufügen
- D. Subtrahieren von 11



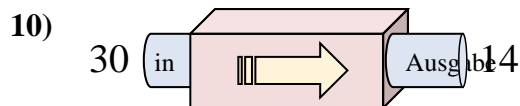
- A. Subtrahieren von 12
- B. 16 hinzufügen
- C. 17 hinzufügen
- D. 15 hinzufügen



- A. 30 hinzufügen
- B. Subtrahieren von 30
- C. 25 hinzufügen
- D. 26 hinzufügen



- A. Subtrahieren von 6
- B. Subtrahieren von 10
- C. Subtrahieren von 15
- D. Subtrahieren von 13



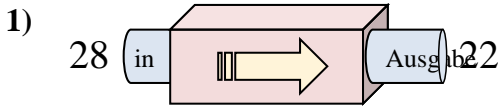
- A. Subtrahieren von 19
- B. Subtrahieren von 12
- C. Subtrahieren von 16
- D. 12 hinzufügen

1. **A**2. **A**3. **A**4. **D**5. **A**6. **D**7. **D**8. **C**9. **B**10. **C**

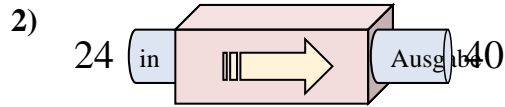


Stelle fest, welche Regel die Funktionsmaschine anwendet.

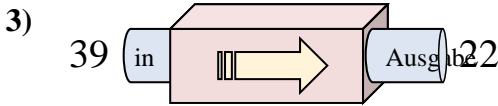
Antworten



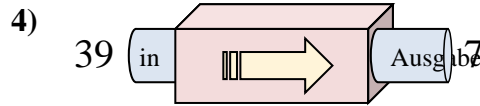
- A. Subtrahieren von 5
- B. Subtrahieren von 11
- C. Subtrahieren von 6
- D. 5 hinzufügen



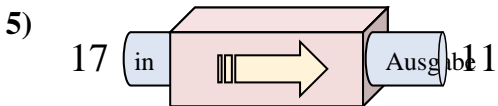
- A. 20 hinzufügen
- B. 17 hinzufügen
- C. Subtrahieren von 19
- D. 16 hinzufügen



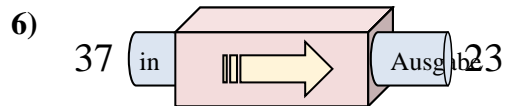
- A. 17 hinzufügen
- B. Subtrahieren von 17
- C. Subtrahieren von 20
- D. Subtrahieren von 19



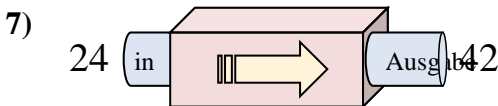
- A. Subtrahieren von 30
- B. Subtrahieren von 35
- C. Subtrahieren von 32
- D. Subtrahieren von 34



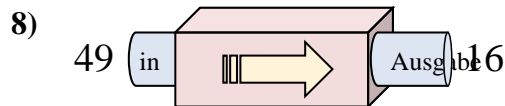
- A. 9 hinzufügen
- B. Subtrahieren von 8
- C. Subtrahieren von 6
- D. Subtrahieren von 2



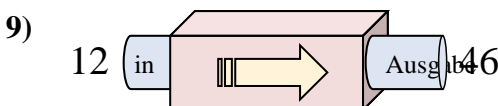
- A. Subtrahieren von 12
- B. 10 hinzufügen
- C. Subtrahieren von 14
- D. Subtrahieren von 15



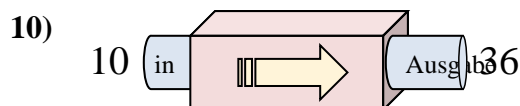
- A. 18 hinzufügen
- B. 15 hinzufügen
- C. 22 hinzufügen
- D. 14 hinzufügen



- A. Subtrahieren von 33
- B. Subtrahieren von 32
- C. 32 hinzufügen
- D. 30 hinzufügen



- A. 37 hinzufügen
- B. 32 hinzufügen
- C. 34 hinzufügen
- D. 38 hinzufügen

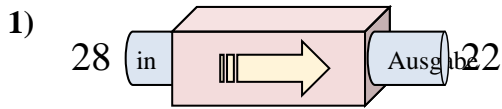


- A. 29 hinzufügen
- B. 26 hinzufügen
- C. Subtrahieren von 29
- D. 30 hinzufügen

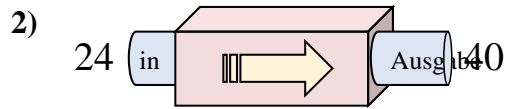
1. _____
2. _____
3. _____
4. _____
5. _____
6. _____
7. _____
8. _____
9. _____
10. _____



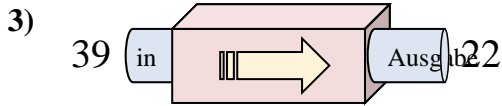
Stelle fest, welche Regel die Funktionsmaschine anwendet.

Antworten

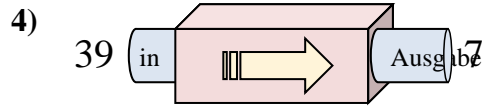
- A. Subtrahieren von 5
- B. Subtrahieren von 11
- C. Subtrahieren von 6
- D. 5 hinzufügen



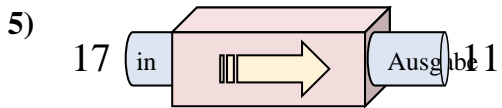
- A. 20 hinzufügen
- B. 17 hinzufügen
- C. Subtrahieren von 19
- D. 16 hinzufügen



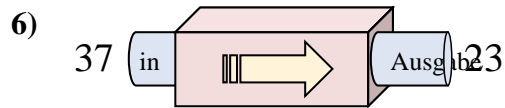
- A. 17 hinzufügen
- B. Subtrahieren von 17
- C. Subtrahieren von 20
- D. Subtrahieren von 19



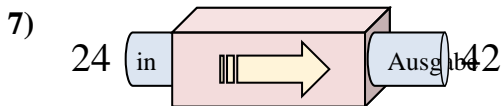
- A. Subtrahieren von 30
- B. Subtrahieren von 35
- C. Subtrahieren von 32
- D. Subtrahieren von 34



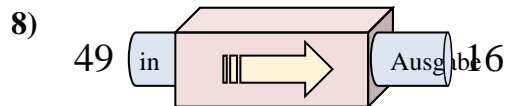
- A. 9 hinzufügen
- B. Subtrahieren von 8
- C. Subtrahieren von 6
- D. Subtrahieren von 2



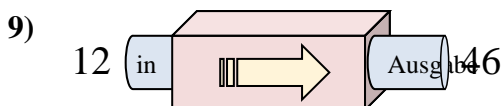
- A. Subtrahieren von 12
- B. 10 hinzufügen
- C. Subtrahieren von 14
- D. Subtrahieren von 15



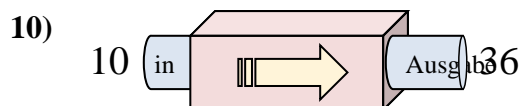
- A. 18 hinzufügen
- B. 15 hinzufügen
- C. 22 hinzufügen
- D. 14 hinzufügen



- A. Subtrahieren von 33
- B. Subtrahieren von 32
- C. 32 hinzufügen
- D. 30 hinzufügen



- A. 37 hinzufügen
- B. 32 hinzufügen
- C. 34 hinzufügen
- D. 38 hinzufügen



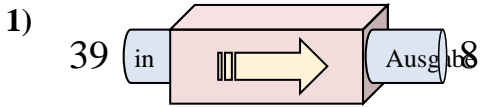
- A. 29 hinzufügen
- B. 26 hinzufügen
- C. Subtrahieren von 29
- D. 30 hinzufügen

1. **C**2. **D**3. **B**4. **C**5. **C**6. **C**7. **A**8. **A**9. **C**10. **B**

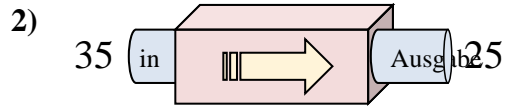


Stelle fest, welche Regel die Funktionsmaschine anwendet.

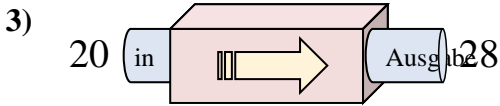
Antworten



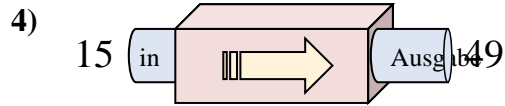
- A. Subtrahieren von 34
- B. 28 hinzufügen
- C. 26 hinzufügen
- D. Subtrahieren von 31



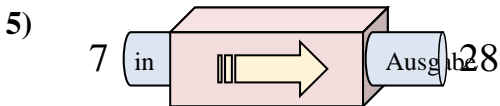
- A. Subtrahieren von 6
- B. Subtrahieren von 14
- C. Subtrahieren von 10
- D. 9 hinzufügen



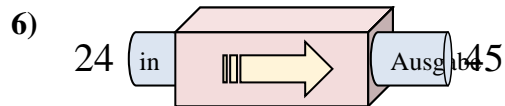
- A. 3 hinzufügen
- B. 4 hinzufügen
- C. 9 hinzufügen
- D. 8 hinzufügen



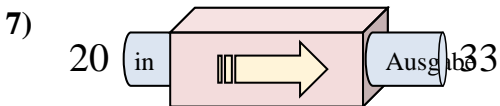
- A. Subtrahieren von 36
- B. 29 hinzufügen
- C. 34 hinzufügen
- D. 31 hinzufügen



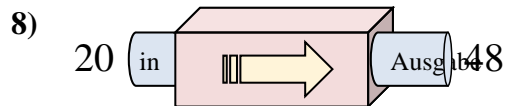
- A. Subtrahieren von 20
- B. 23 hinzufügen
- C. 20 hinzufügen
- D. 21 hinzufügen



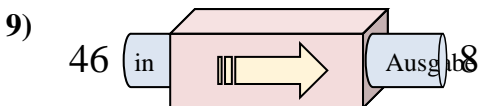
- A. 17 hinzufügen
- B. Subtrahieren von 22
- C. 18 hinzufügen
- D. 21 hinzufügen



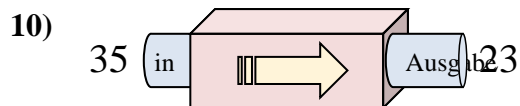
- A. 9 hinzufügen
- B. 15 hinzufügen
- C. 17 hinzufügen
- D. 13 hinzufügen



- A. 28 hinzufügen
- B. Subtrahieren von 27
- C. 25 hinzufügen
- D. 29 hinzufügen



- A. Subtrahieren von 42
- B. Subtrahieren von 40
- C. 34 hinzufügen
- D. Subtrahieren von 38

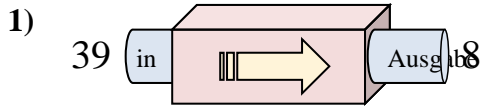


- A. Subtrahieren von 10
- B. Subtrahieren von 12
- C. 17 hinzufügen
- D. 8 hinzufügen

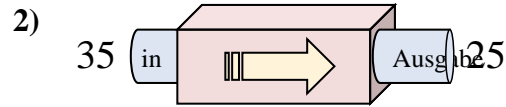
- 1. _____
- 2. _____
- 3. _____
- 4. _____
- 5. _____
- 6. _____
- 7. _____
- 8. _____
- 9. _____
- 10. _____



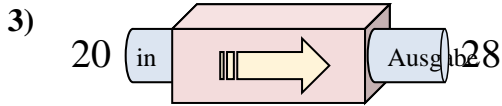
Stelle fest, welche Regel die Funktionsmaschine anwendet.

Antworten

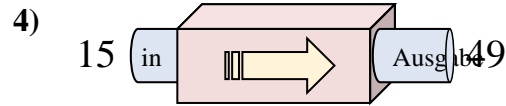
- A. Subtrahieren von 34
- B. 28 hinzufügen
- C. 26 hinzufügen
- D. Subtrahieren von 31



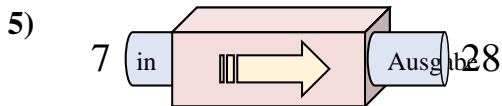
- A. Subtrahieren von 6
- B. Subtrahieren von 14
- C. Subtrahieren von 10
- D. 9 hinzufügen



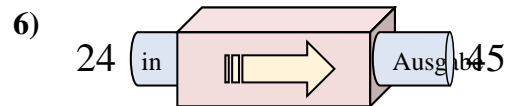
- A. 3 hinzufügen
- B. 4 hinzufügen
- C. 9 hinzufügen
- D. 8 hinzufügen



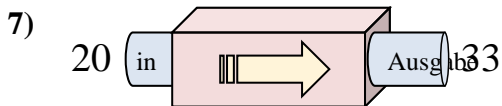
- A. Subtrahieren von 36
- B. 29 hinzufügen
- C. 34 hinzufügen
- D. 31 hinzufügen



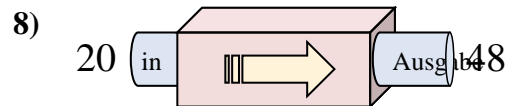
- A. Subtrahieren von 20
- B. 23 hinzufügen
- C. 20 hinzufügen
- D. 21 hinzufügen



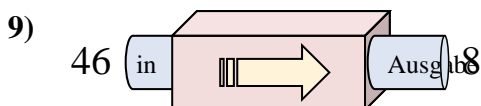
- A. 17 hinzufügen
- B. Subtrahieren von 22
- C. 18 hinzufügen
- D. 21 hinzufügen



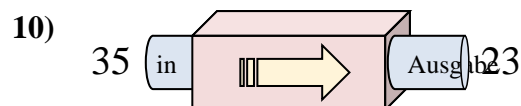
- A. 9 hinzufügen
- B. 15 hinzufügen
- C. 17 hinzufügen
- D. 13 hinzufügen



- A. 28 hinzufügen
- B. Subtrahieren von 27
- C. 25 hinzufügen
- D. 29 hinzufügen



- A. Subtrahieren von 42
- B. Subtrahieren von 40
- C. 34 hinzufügen
- D. Subtrahieren von 38



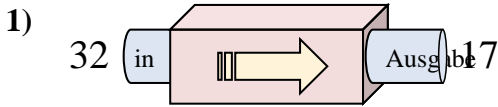
- A. Subtrahieren von 10
- B. Subtrahieren von 12
- C. 17 hinzufügen
- D. 8 hinzufügen

1. **D**2. **C**3. **D**4. **C**5. **D**6. **D**7. **D**8. **A**9. **D**10. **B**

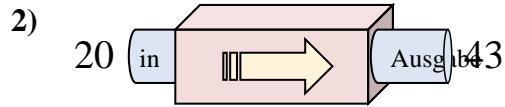


Stelle fest, welche Regel die Funktionsmaschine anwendet.

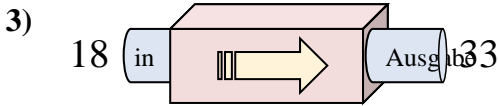
Antworten



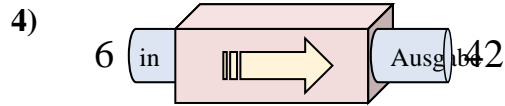
- A. Subtrahieren von 20
- B. Subtrahieren von 14
- C. 12 hinzufügen
- D. Subtrahieren von 15



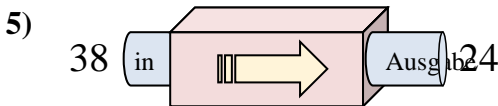
- A. 24 hinzufügen
- B. 21 hinzufügen
- C. 20 hinzufügen
- D. 23 hinzufügen



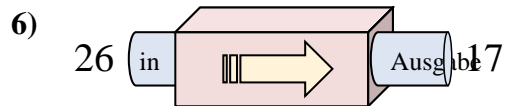
- A. 15 hinzufügen
- B. Subtrahieren von 19
- C. 17 hinzufügen
- D. 10 hinzufügen



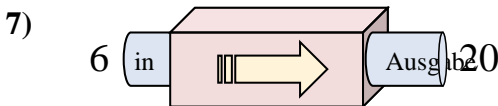
- A. 31 hinzufügen
- B. Subtrahieren von 31
- C. 36 hinzufügen
- D. Subtrahieren von 40



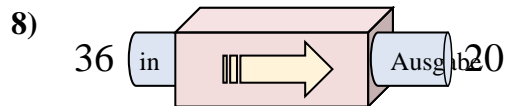
- A. Subtrahieren von 12
- B. Subtrahieren von 14
- C. Subtrahieren von 13
- D. 11 hinzufügen



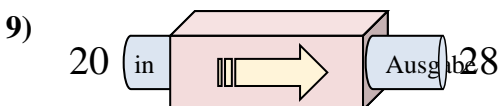
- A. 6 hinzufügen
- B. Subtrahieren von 8
- C. Subtrahieren von 9
- D. Subtrahieren von 4



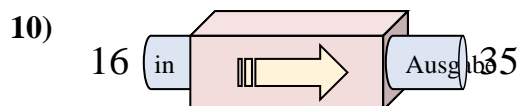
- A. Subtrahieren von 13
- B. Subtrahieren von 14
- C. 18 hinzufügen
- D. 14 hinzufügen



- A. Subtrahieren von 16
- B. Subtrahieren von 11
- C. 16 hinzufügen
- D. Subtrahieren von 13



- A. 5 hinzufügen
- B. 8 hinzufügen
- C. Subtrahieren von 11
- D. 7 hinzufügen



- A. 24 hinzufügen
- B. 19 hinzufügen
- C. Subtrahieren von 16
- D. Subtrahieren von 24

1. _____

2. _____

3. _____

4. _____

5. _____

6. _____

7. _____

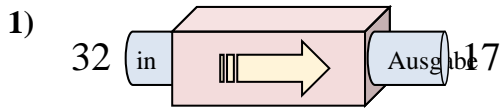
8. _____

9. _____

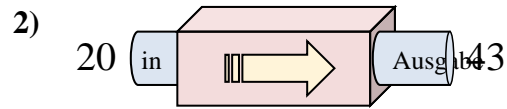
10. _____



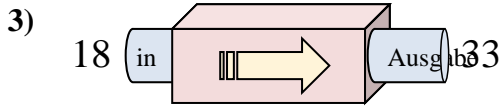
Stelle fest, welche Regel die Funktionsmaschine anwendet.

Antworten

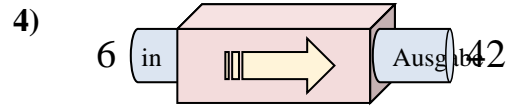
- A. Subtrahieren von 20
- B. Subtrahieren von 14
- C. 12 hinzufügen
- D. Subtrahieren von 15



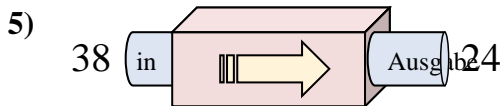
- A. 24 hinzufügen
- B. 21 hinzufügen
- C. 20 hinzufügen
- D. 23 hinzufügen



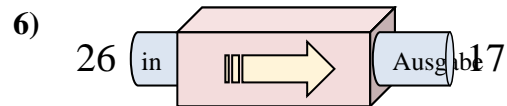
- A. 15 hinzufügen
- B. Subtrahieren von 19
- C. 17 hinzufügen
- D. 10 hinzufügen



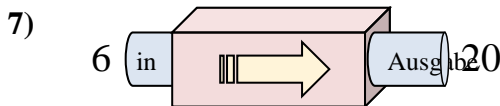
- A. 31 hinzufügen
- B. Subtrahieren von 31
- C. 36 hinzufügen
- D. Subtrahieren von 40



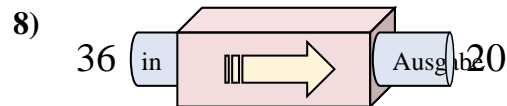
- A. Subtrahieren von 12
- B. Subtrahieren von 14
- C. Subtrahieren von 13
- D. 11 hinzufügen



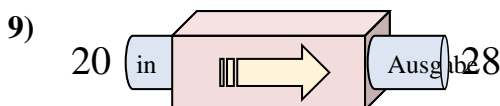
- A. 6 hinzufügen
- B. Subtrahieren von 8
- C. Subtrahieren von 9
- D. Subtrahieren von 4



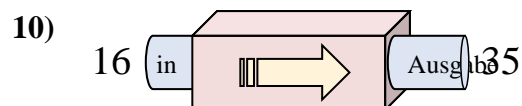
- A. Subtrahieren von 13
- B. Subtrahieren von 14
- C. 18 hinzufügen
- D. 14 hinzufügen



- A. Subtrahieren von 16
- B. Subtrahieren von 11
- C. 16 hinzufügen
- D. Subtrahieren von 13



- A. 5 hinzufügen
- B. 8 hinzufügen
- C. Subtrahieren von 11
- D. 7 hinzufügen

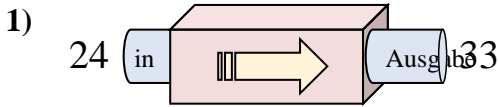


- A. 24 hinzufügen
- B. 19 hinzufügen
- C. Subtrahieren von 16
- D. Subtrahieren von 24

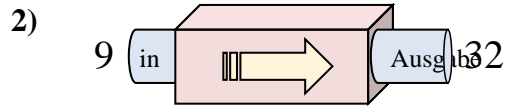
1. **D**2. **D**3. **A**4. **C**5. **B**6. **C**7. **D**8. **A**9. **B**10. **B**



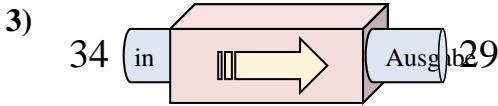
Stelle fest, welche Regel die Funktionsmaschine anwendet.

Antworten

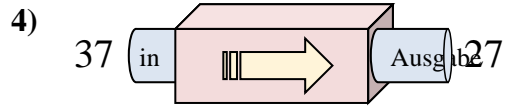
- A. 12 hinzufügen
- B. Subtrahieren von 8
- C. 13 hinzufügen
- D. 9 hinzufügen



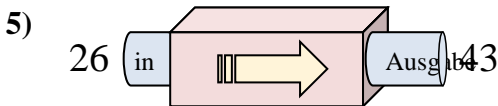
- A. 25 hinzufügen
- B. 23 hinzufügen
- C. 26 hinzufügen
- D. Subtrahieren von 19



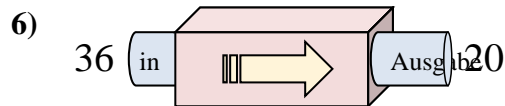
- A. 7 hinzufügen
- B. Subtrahieren von 5
- C. Subtrahieren von 6
- D. 3 hinzufügen



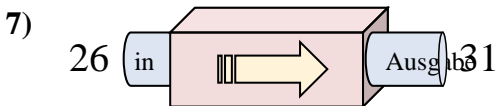
- A. 13 hinzufügen
- B. Subtrahieren von 10
- C. Subtrahieren von 15
- D. Subtrahieren von 13



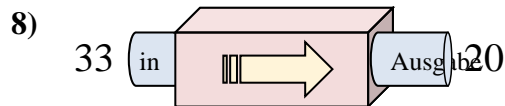
- A. 14 hinzufügen
- B. Subtrahieren von 22
- C. 15 hinzufügen
- D. 17 hinzufügen



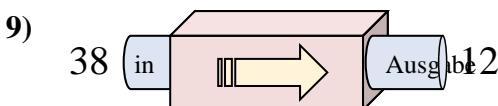
- A. Subtrahieren von 16
- B. 19 hinzufügen
- C. 21 hinzufügen
- D. Subtrahieren von 17



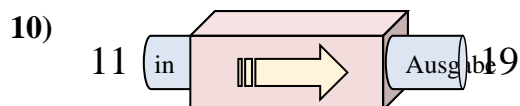
- A. 5 hinzufügen
- B. Subtrahieren von 7
- C. 7 hinzufügen
- D. Subtrahieren von 4



- A. Subtrahieren von 16
- B. 16 hinzufügen
- C. Subtrahieren von 8
- D. Subtrahieren von 13



- A. Subtrahieren von 29
- B. Subtrahieren von 30
- C. Subtrahieren von 26
- D. 21 hinzufügen

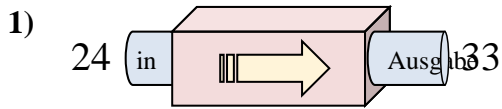


- A. 8 hinzufügen
- B. 9 hinzufügen
- C. Subtrahieren von 13
- D. 5 hinzufügen

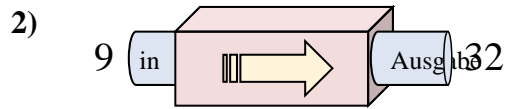
1. _____
2. _____
3. _____
4. _____
5. _____
6. _____
7. _____
8. _____
9. _____
10. _____



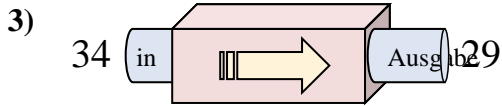
Stelle fest, welche Regel die Funktionsmaschine anwendet.

Antworten

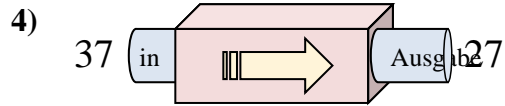
- A. 12 hinzufügen
- B. Subtrahieren von 8
- C. 13 hinzufügen
- D. 9 hinzufügen



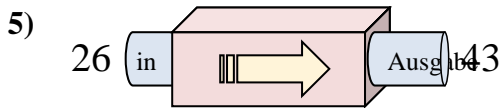
- A. 25 hinzufügen
- B. 23 hinzufügen
- C. 26 hinzufügen
- D. Subtrahieren von 19



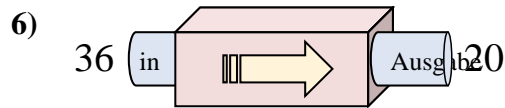
- A. 7 hinzufügen
- B. Subtrahieren von 5
- C. Subtrahieren von 6
- D. 3 hinzufügen



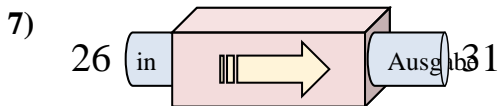
- A. 13 hinzufügen
- B. Subtrahieren von 10
- C. Subtrahieren von 15
- D. Subtrahieren von 13



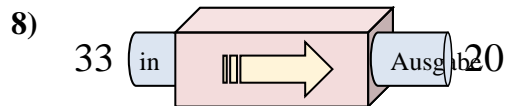
- A. 14 hinzufügen
- B. Subtrahieren von 22
- C. 15 hinzufügen
- D. 17 hinzufügen



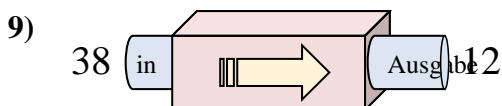
- A. Subtrahieren von 16
- B. 19 hinzufügen
- C. 21 hinzufügen
- D. Subtrahieren von 17



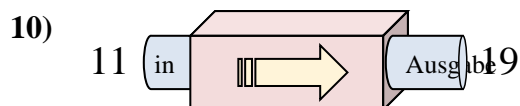
- A. 5 hinzufügen
- B. Subtrahieren von 7
- C. 7 hinzufügen
- D. Subtrahieren von 4



- A. Subtrahieren von 16
- B. 16 hinzufügen
- C. Subtrahieren von 8
- D. Subtrahieren von 13



- A. Subtrahieren von 29
- B. Subtrahieren von 30
- C. Subtrahieren von 26
- D. 21 hinzufügen



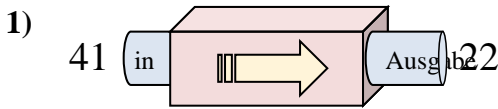
- A. 8 hinzufügen
- B. 9 hinzufügen
- C. Subtrahieren von 13
- D. 5 hinzufügen

1. **D**2. **B**3. **B**4. **B**5. **D**6. **A**7. **A**8. **D**9. **C**10. **A**

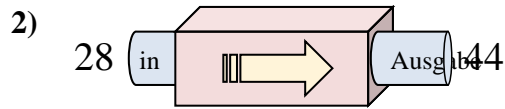


Stelle fest, welche Regel die Funktionsmaschine anwendet.

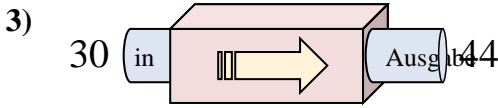
Antworten



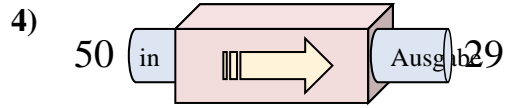
- A. Subtrahieren von 19
- B. 16 hinzufügen
- C. Subtrahieren von 24
- D. 24 hinzufügen



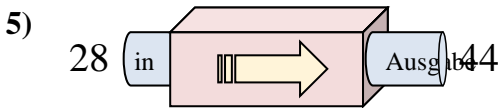
- A. 16 hinzufügen
- B. 18 hinzufügen
- C. Subtrahieren von 16
- D. 21 hinzufügen



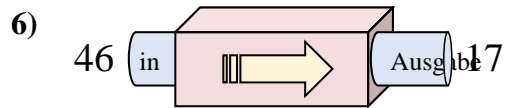
- A. 12 hinzufügen
- B. 17 hinzufügen
- C. Subtrahieren von 18
- D. 14 hinzufügen



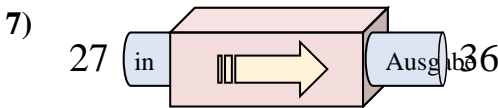
- A. 23 hinzufügen
- B. Subtrahieren von 21
- C. 24 hinzufügen
- D. Subtrahieren von 23



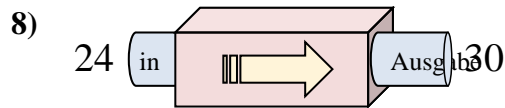
- A. 12 hinzufügen
- B. 19 hinzufügen
- C. 16 hinzufügen
- D. 21 hinzufügen



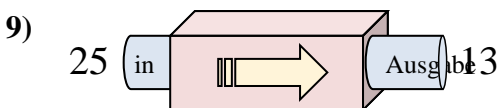
- A. Subtrahieren von 25
- B. Subtrahieren von 29
- C. 31 hinzufügen
- D. 34 hinzufügen



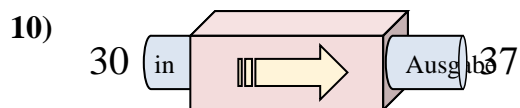
- A. 7 hinzufügen
- B. 6 hinzufügen
- C. 9 hinzufügen
- D. Subtrahieren von 13



- A. Subtrahieren von 7
- B. 2 hinzufügen
- C. 6 hinzufügen
- D. 10 hinzufügen



- A. 12 hinzufügen
- B. Subtrahieren von 8
- C. 11 hinzufügen
- D. Subtrahieren von 12

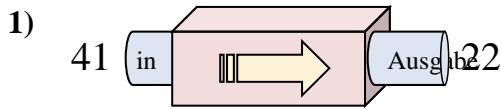


- A. 7 hinzufügen
- B. 9 hinzufügen
- C. 3 hinzufügen
- D. Subtrahieren von 3

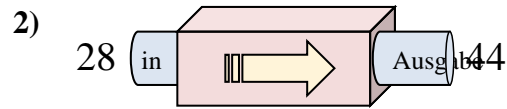
1. _____
2. _____
3. _____
4. _____
5. _____
6. _____
7. _____
8. _____
9. _____
10. _____



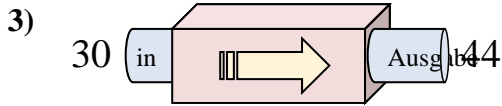
Stelle fest, welche Regel die Funktionsmaschine anwendet.

Antworten

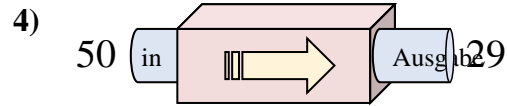
- A. Subtrahieren von 19
- B. 16 hinzufügen
- C. Subtrahieren von 24
- D. 24 hinzufügen



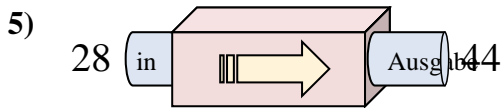
- A. 16 hinzufügen
- B. 18 hinzufügen
- C. Subtrahieren von 16
- D. 21 hinzufügen



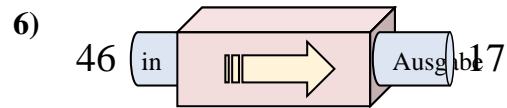
- A. 12 hinzufügen
- B. 17 hinzufügen
- C. Subtrahieren von 18
- D. 14 hinzufügen



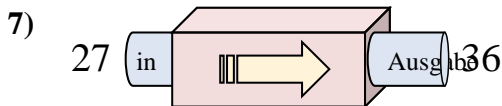
- A. 23 hinzufügen
- B. Subtrahieren von 21
- C. 24 hinzufügen
- D. Subtrahieren von 23



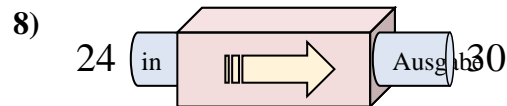
- A. 12 hinzufügen
- B. 19 hinzufügen
- C. 16 hinzufügen
- D. 21 hinzufügen



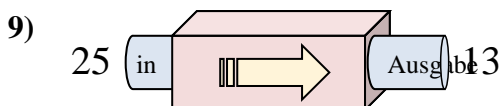
- A. Subtrahieren von 25
- B. Subtrahieren von 29
- C. 31 hinzufügen
- D. 34 hinzufügen



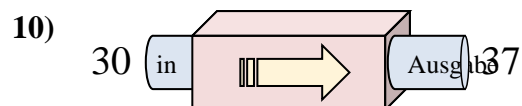
- A. 7 hinzufügen
- B. 6 hinzufügen
- C. 9 hinzufügen
- D. Subtrahieren von 13



- A. Subtrahieren von 7
- B. 2 hinzufügen
- C. 6 hinzufügen
- D. 10 hinzufügen



- A. 12 hinzufügen
- B. Subtrahieren von 8
- C. 11 hinzufügen
- D. Subtrahieren von 12



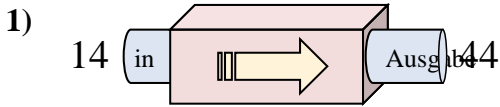
- A. 7 hinzufügen
- B. 9 hinzufügen
- C. 3 hinzufügen
- D. Subtrahieren von 3

1. **A**2. **A**3. **D**4. **B**5. **C**6. **B**7. **C**8. **C**9. **D**10. **A**

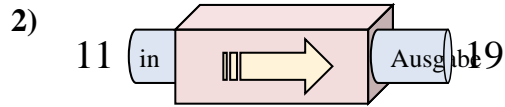


Stelle fest, welche Regel die Funktionsmaschine anwendet.

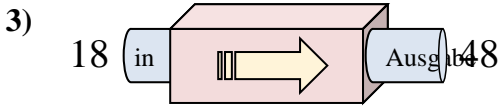
Antworten



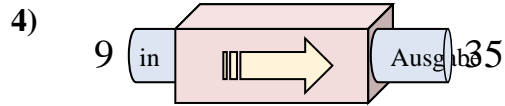
- A. 27 hinzufügen
- B. 30 hinzufügen
- C. 25 hinzufügen
- D. Subtrahieren von 32



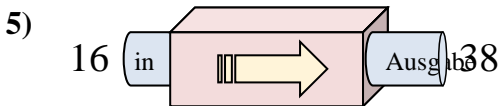
- A. 8 hinzufügen
- B. 6 hinzufügen
- C. Subtrahieren von 3
- D. 4 hinzufügen



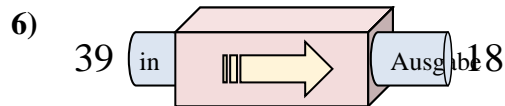
- A. Subtrahieren von 25
- B. 30 hinzufügen
- C. 29 hinzufügen
- D. 34 hinzufügen



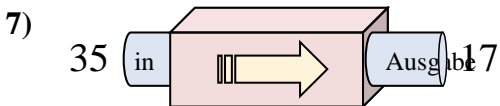
- A. 28 hinzufügen
- B. 26 hinzufügen
- C. Subtrahieren von 30
- D. Subtrahieren von 22



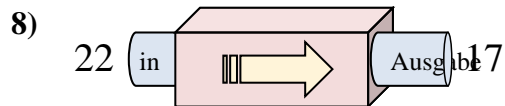
- A. 22 hinzufügen
- B. 27 hinzufügen
- C. 24 hinzufügen
- D. Subtrahieren von 17



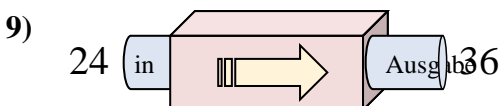
- A. Subtrahieren von 20
- B. Subtrahieren von 23
- C. Subtrahieren von 16
- D. Subtrahieren von 21



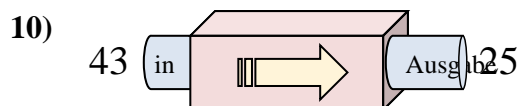
- A. Subtrahieren von 17
- B. 21 hinzufügen
- C. Subtrahieren von 14
- D. Subtrahieren von 18



- A. Subtrahieren von 10
- B. 2 hinzufügen
- C. Subtrahieren von 6
- D. Subtrahieren von 5



- A. Subtrahieren von 17
- B. Subtrahieren von 12
- C. 12 hinzufügen
- D. 9 hinzufügen

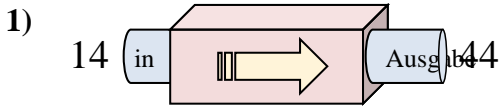


- A. 15 hinzufügen
- B. Subtrahieren von 16
- C. 13 hinzufügen
- D. Subtrahieren von 18

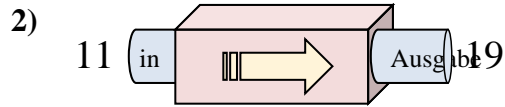
1. _____
2. _____
3. _____
4. _____
5. _____
6. _____
7. _____
8. _____
9. _____
10. _____



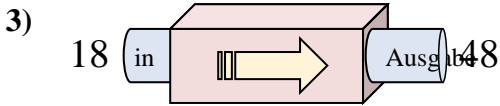
Stelle fest, welche Regel die Funktionsmaschine anwendet.

Antworten

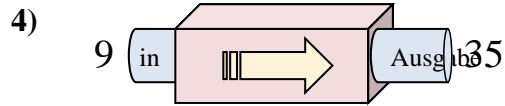
- A. 27 hinzufügen
- B. 30 hinzufügen
- C. 25 hinzufügen
- D. Subtrahieren von 32



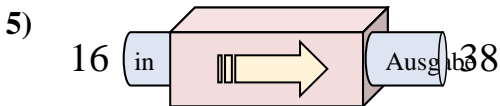
- A. 8 hinzufügen
- B. 6 hinzufügen
- C. Subtrahieren von 3
- D. 4 hinzufügen



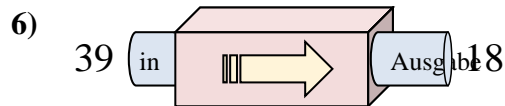
- A. Subtrahieren von 25
- B. 30 hinzufügen
- C. 29 hinzufügen
- D. 34 hinzufügen



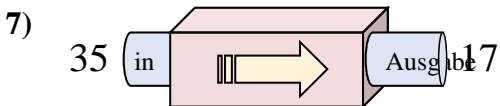
- A. 28 hinzufügen
- B. 26 hinzufügen
- C. Subtrahieren von 30
- D. Subtrahieren von 22



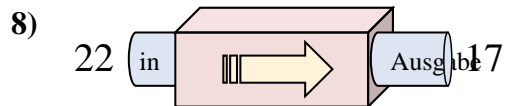
- A. 22 hinzufügen
- B. 27 hinzufügen
- C. 24 hinzufügen
- D. Subtrahieren von 17



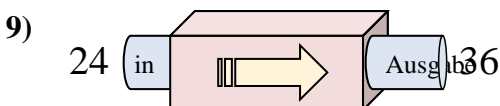
- A. Subtrahieren von 20
- B. Subtrahieren von 23
- C. Subtrahieren von 16
- D. Subtrahieren von 21



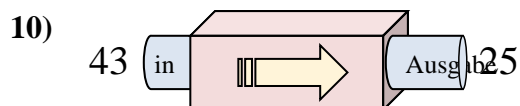
- A. Subtrahieren von 17
- B. 21 hinzufügen
- C. Subtrahieren von 14
- D. Subtrahieren von 18



- A. Subtrahieren von 10
- B. 2 hinzufügen
- C. Subtrahieren von 6
- D. Subtrahieren von 5



- A. Subtrahieren von 17
- B. Subtrahieren von 12
- C. 12 hinzufügen
- D. 9 hinzufügen



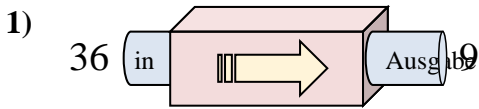
- A. 15 hinzufügen
- B. Subtrahieren von 16
- C. 13 hinzufügen
- D. Subtrahieren von 18

1. **B**2. **A**3. **B**4. **B**5. **A**6. **D**7. **D**8. **D**9. **C**10. **D**

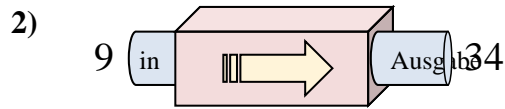


Stelle fest, welche Regel die Funktionsmaschine anwendet.

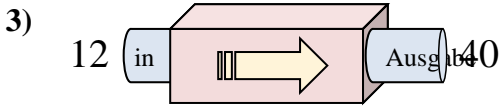
Antworten



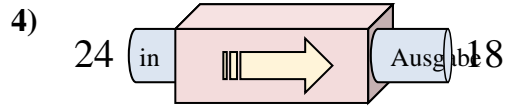
- A. 30 hinzufügen
- B. Subtrahieren von 32
- C. Subtrahieren von 31
- D. Subtrahieren von 27



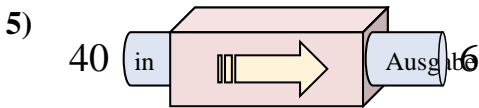
- A. 23 hinzufügen
- B. Subtrahieren von 29
- C. Subtrahieren von 21
- D. 25 hinzufügen



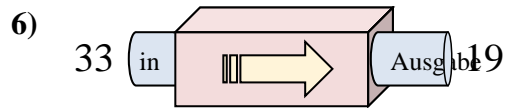
- A. Subtrahieren von 30
- B. 33 hinzufügen
- C. 29 hinzufügen
- D. 28 hinzufügen



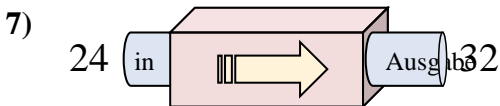
- A. 4 hinzufügen
- B. Subtrahieren von 2
- C. Subtrahieren von 6
- D. Subtrahieren von 5



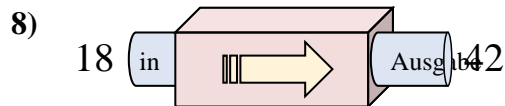
- A. 29 hinzufügen
- B. Subtrahieren von 39
- C. Subtrahieren von 34
- D. 30 hinzufügen



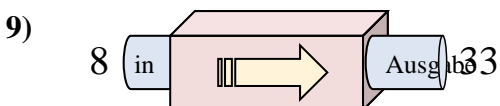
- A. 16 hinzufügen
- B. Subtrahieren von 17
- C. Subtrahieren von 14
- D. Subtrahieren von 9



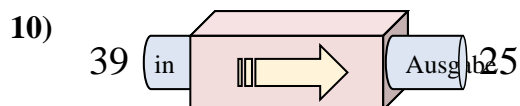
- A. 11 hinzufügen
- B. 8 hinzufügen
- C. Subtrahieren von 12
- D. 12 hinzufügen



- A. 24 hinzufügen
- B. 23 hinzufügen
- C. Subtrahieren von 23
- D. 21 hinzufügen



- A. 25 hinzufügen
- B. Subtrahieren von 24
- C. Subtrahieren von 26
- D. 27 hinzufügen

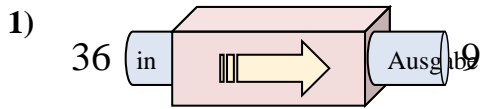


- A. 9 hinzufügen
- B. 14 hinzufügen
- C. Subtrahieren von 10
- D. Subtrahieren von 14

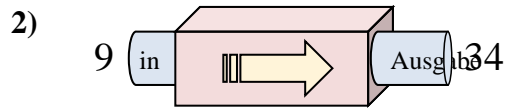
1. _____
2. _____
3. _____
4. _____
5. _____
6. _____
7. _____
8. _____
9. _____
10. _____



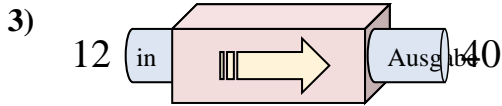
Stelle fest, welche Regel die Funktionsmaschine anwendet.

Antworten

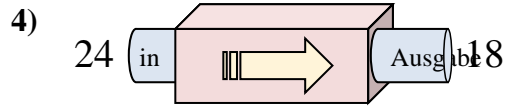
- A. 30 hinzufügen
- B. Subtrahieren von 32
- C. Subtrahieren von 31
- D. Subtrahieren von 27



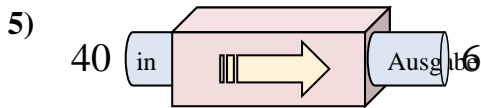
- A. 23 hinzufügen
- B. Subtrahieren von 29
- C. Subtrahieren von 21
- D. 25 hinzufügen



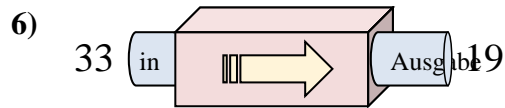
- A. Subtrahieren von 30
- B. 33 hinzufügen
- C. 29 hinzufügen
- D. 28 hinzufügen



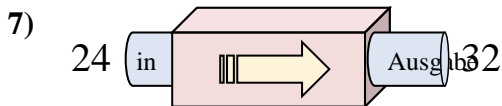
- A. 4 hinzufügen
- B. Subtrahieren von 2
- C. Subtrahieren von 6
- D. Subtrahieren von 5



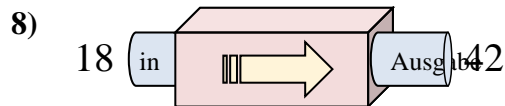
- A. 29 hinzufügen
- B. Subtrahieren von 39
- C. Subtrahieren von 34
- D. 30 hinzufügen



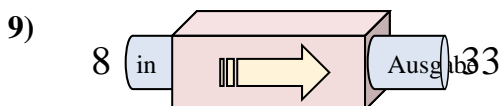
- A. 16 hinzufügen
- B. Subtrahieren von 17
- C. Subtrahieren von 14
- D. Subtrahieren von 9



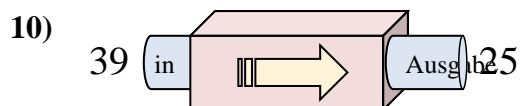
- A. 11 hinzufügen
- B. 8 hinzufügen
- C. Subtrahieren von 12
- D. 12 hinzufügen



- A. 24 hinzufügen
- B. 23 hinzufügen
- C. Subtrahieren von 23
- D. 21 hinzufügen



- A. 25 hinzufügen
- B. Subtrahieren von 24
- C. Subtrahieren von 26
- D. 27 hinzufügen



- A. 9 hinzufügen
- B. 14 hinzufügen
- C. Subtrahieren von 10
- D. Subtrahieren von 14

1. **D**2. **D**3. **D**4. **C**5. **C**6. **C**7. **B**8. **A**9. **A**10. **D**