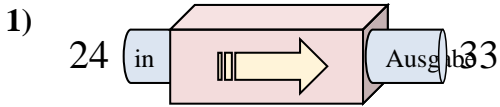
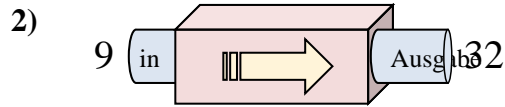




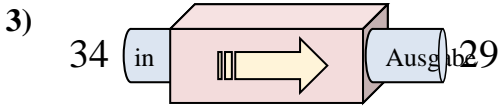
Stelle fest, welche Regel die Funktionsmaschine anwendet.

Antworten

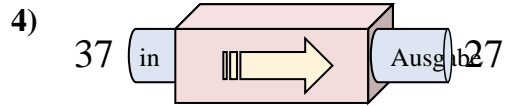
- A. 12 hinzufügen
- B. Subtrahieren von 8
- C. 13 hinzufügen
- D. 9 hinzufügen



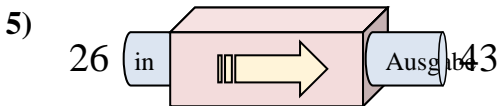
- A. 25 hinzufügen
- B. 23 hinzufügen
- C. 26 hinzufügen
- D. Subtrahieren von 19



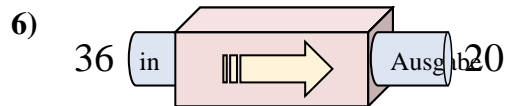
- A. 7 hinzufügen
- B. Subtrahieren von 5
- C. Subtrahieren von 6
- D. 3 hinzufügen



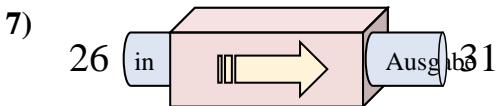
- A. 13 hinzufügen
- B. Subtrahieren von 10
- C. Subtrahieren von 15
- D. Subtrahieren von 13



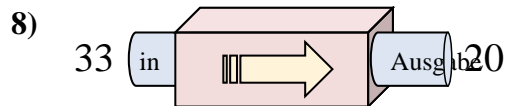
- A. 14 hinzufügen
- B. Subtrahieren von 22
- C. 15 hinzufügen
- D. 17 hinzufügen



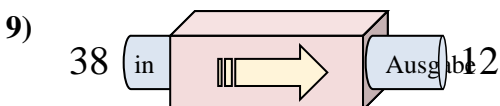
- A. Subtrahieren von 16
- B. 19 hinzufügen
- C. 21 hinzufügen
- D. Subtrahieren von 17



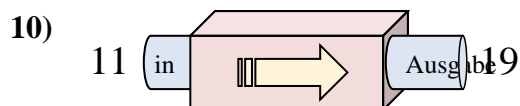
- A. 5 hinzufügen
- B. Subtrahieren von 7
- C. 7 hinzufügen
- D. Subtrahieren von 4



- A. Subtrahieren von 16
- B. 16 hinzufügen
- C. Subtrahieren von 8
- D. Subtrahieren von 13



- A. Subtrahieren von 29
- B. Subtrahieren von 30
- C. Subtrahieren von 26
- D. 21 hinzufügen

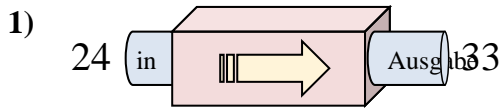


- A. 8 hinzufügen
- B. 9 hinzufügen
- C. Subtrahieren von 13
- D. 5 hinzufügen

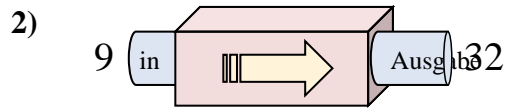
1. _____
2. _____
3. _____
4. _____
5. _____
6. _____
7. _____
8. _____
9. _____
10. _____



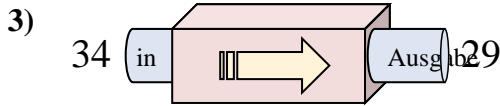
Stelle fest, welche Regel die Funktionsmaschine anwendet.

Antworten

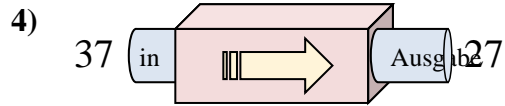
- A. 12 hinzufügen
- B. Subtrahieren von 8
- C. 13 hinzufügen
- D. 9 hinzufügen



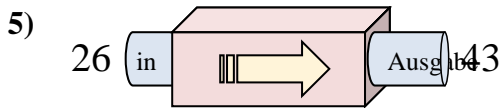
- A. 25 hinzufügen
- B. 23 hinzufügen
- C. 26 hinzufügen
- D. Subtrahieren von 19



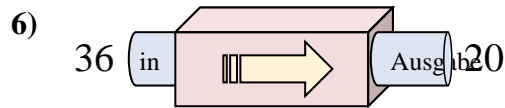
- A. 7 hinzufügen
- B. Subtrahieren von 5
- C. Subtrahieren von 6
- D. 3 hinzufügen



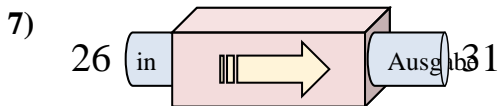
- A. 13 hinzufügen
- B. Subtrahieren von 10
- C. Subtrahieren von 15
- D. Subtrahieren von 13



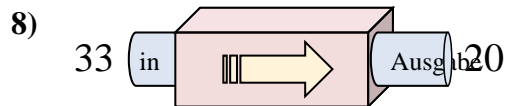
- A. 14 hinzufügen
- B. Subtrahieren von 22
- C. 15 hinzufügen
- D. 17 hinzufügen



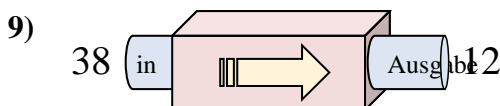
- A. Subtrahieren von 16
- B. 19 hinzufügen
- C. 21 hinzufügen
- D. Subtrahieren von 17



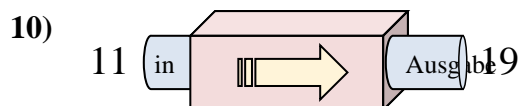
- A. 5 hinzufügen
- B. Subtrahieren von 7
- C. 7 hinzufügen
- D. Subtrahieren von 4



- A. Subtrahieren von 16
- B. 16 hinzufügen
- C. Subtrahieren von 8
- D. Subtrahieren von 13



- A. Subtrahieren von 29
- B. Subtrahieren von 30
- C. Subtrahieren von 26
- D. 21 hinzufügen



- A. 8 hinzufügen
- B. 9 hinzufügen
- C. Subtrahieren von 13
- D. 5 hinzufügen

1. **D**2. **B**3. **B**4. **B**5. **D**6. **A**7. **A**8. **D**9. **C**10. **A**