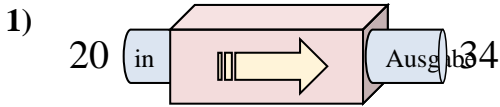
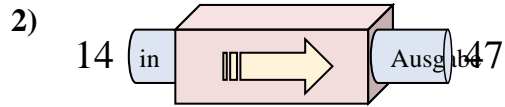




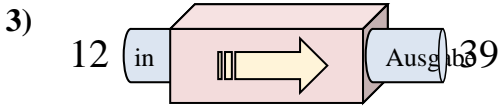
Stelle fest, welche Regel die Funktionsmaschine anwendet.

Antworten

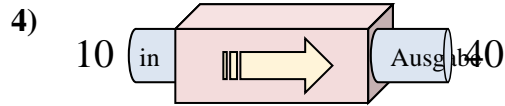
- A. Subtrahieren von 13
- B. 14 hinzufügen
- C. 12 hinzufügen
- D. 9 hinzufügen



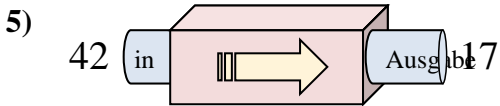
- A. 32 hinzufügen
- B. 33 hinzufügen
- C. Subtrahieren von 35
- D. 37 hinzufügen



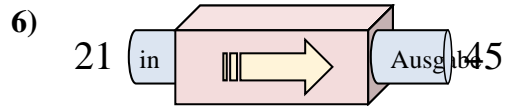
- A. 31 hinzufügen
- B. 27 hinzufügen
- C. 26 hinzufügen
- D. Subtrahieren von 24



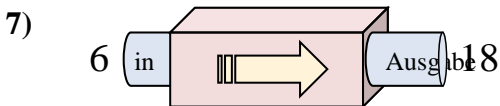
- A. Subtrahieren von 28
- B. Subtrahieren von 31
- C. 26 hinzufügen
- D. 30 hinzufügen



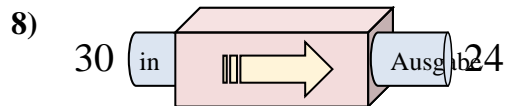
- A. Subtrahieren von 29
- B. 24 hinzufügen
- C. Subtrahieren von 25
- D. 22 hinzufügen



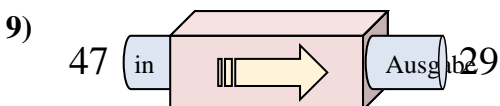
- A. 24 hinzufügen
- B. 27 hinzufügen
- C. Subtrahieren von 29
- D. 25 hinzufügen



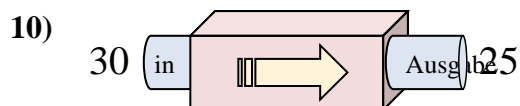
- A. 9 hinzufügen
- B. 12 hinzufügen
- C. Subtrahieren von 9
- D. 14 hinzufügen



- A. Subtrahieren von 6
- B. 5 hinzufügen
- C. Subtrahieren von 11
- D. Subtrahieren von 10



- A. 22 hinzufügen
- B. Subtrahieren von 18
- C. Subtrahieren von 21
- D. Subtrahieren von 19

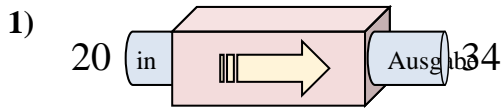


- A. 8 hinzufügen
- B. 10 hinzufügen
- C. Subtrahieren von 7
- D. Subtrahieren von 5

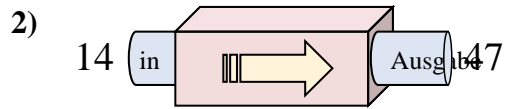
1. _____
2. _____
3. _____
4. _____
5. _____
6. _____
7. _____
8. _____
9. _____
10. _____



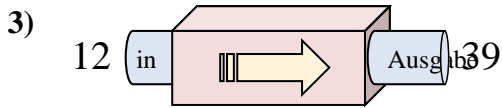
Stelle fest, welche Regel die Funktionsmaschine anwendet.

Antworten

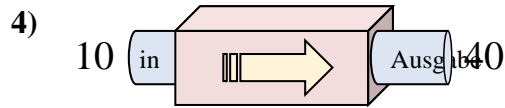
- A. Subtrahieren von 13
- B. 14 hinzufügen
- C. 12 hinzufügen
- D. 9 hinzufügen



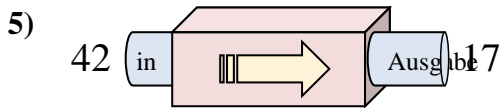
- A. 32 hinzufügen
- B. 33 hinzufügen
- C. Subtrahieren von 35
- D. 37 hinzufügen



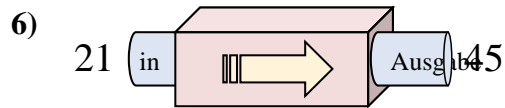
- A. 31 hinzufügen
- B. 27 hinzufügen
- C. 26 hinzufügen
- D. Subtrahieren von 24



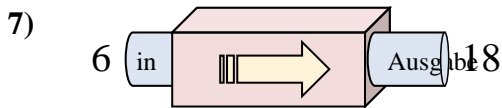
- A. Subtrahieren von 28
- B. Subtrahieren von 31
- C. 26 hinzufügen
- D. 30 hinzufügen



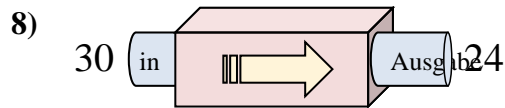
- A. Subtrahieren von 29
- B. 24 hinzufügen
- C. Subtrahieren von 25
- D. 22 hinzufügen



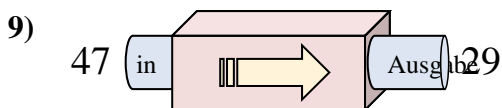
- A. 24 hinzufügen
- B. 27 hinzufügen
- C. Subtrahieren von 29
- D. 25 hinzufügen



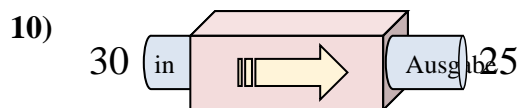
- A. 9 hinzufügen
- B. 12 hinzufügen
- C. Subtrahieren von 9
- D. 14 hinzufügen



- A. Subtrahieren von 6
- B. 5 hinzufügen
- C. Subtrahieren von 11
- D. Subtrahieren von 10



- A. 22 hinzufügen
- B. Subtrahieren von 18
- C. Subtrahieren von 21
- D. Subtrahieren von 19



- A. 8 hinzufügen
- B. 10 hinzufügen
- C. Subtrahieren von 7
- D. Subtrahieren von 5

1. **B**2. **B**3. **B**4. **D**5. **C**6. **A**7. **B**8. **A**9. **B**10. **D**