



Benutze den Zahlenstrahl um den absoluten Wert zu finden.

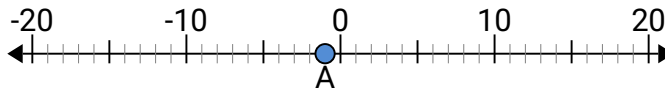
**Antworten**

- 1) A. Was ist der Wert von „A“?  
B. Wie weit ist „A“ von 0 entfernt (Betrag)?



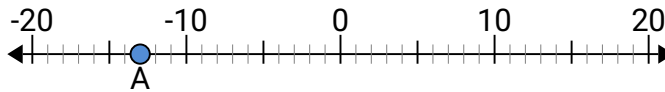
1. \_\_\_\_\_

- 2) A. Was ist der Wert von „A“?  
B. Wie weit ist „A“ von 0 entfernt (Betrag)?



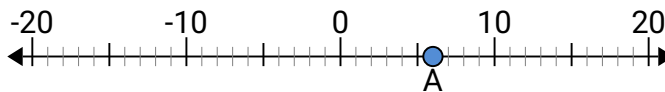
2. \_\_\_\_\_

- 3) A. Was ist der Wert von „A“?  
B. Wie weit ist „A“ von 0 entfernt (Betrag)?



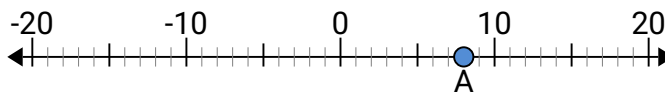
3. \_\_\_\_\_

- 4) A. Was ist der Wert von „A“?  
B. Wie weit ist „A“ von 0 entfernt (Betrag)?



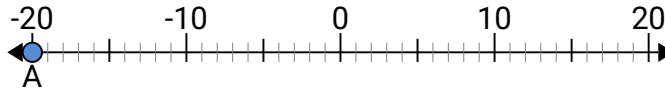
4. \_\_\_\_\_

- 5) A. Was ist der Wert von „A“?  
B. Wie weit ist „A“ von 0 entfernt (Betrag)?



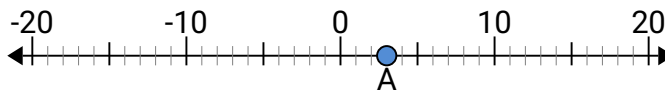
5. \_\_\_\_\_

- 6) A. Was ist der Wert von „A“?  
B. Wie weit ist „A“ von 0 entfernt (Betrag)?



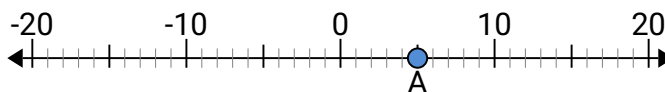
6. \_\_\_\_\_

- 7) A. Was ist der Wert von „A“?  
B. Wie weit ist „A“ von 0 entfernt (Betrag)?



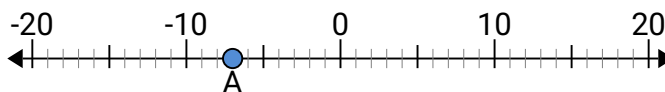
7. \_\_\_\_\_

- 8) A. Was ist der Wert von „A“?  
B. Wie weit ist „A“ von 0 entfernt (Betrag)?



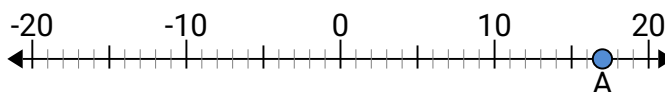
8. \_\_\_\_\_

- 9) A. Was ist der Wert von „A“?  
B. Wie weit ist „A“ von 0 entfernt (Betrag)?



9. \_\_\_\_\_

- 10) A. Was ist der Wert von „A“?  
B. Wie weit ist „A“ von 0 entfernt (Betrag)?

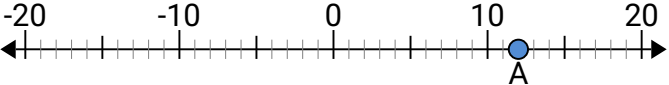
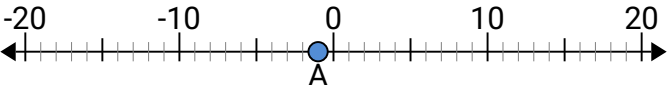
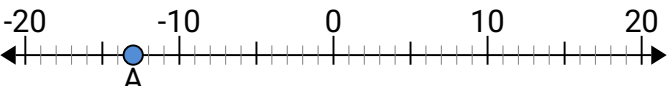

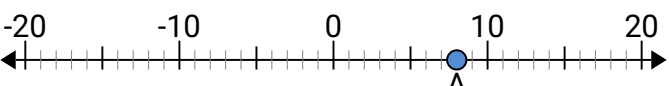
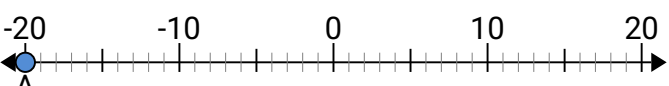
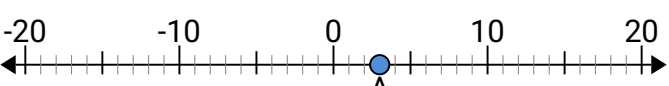
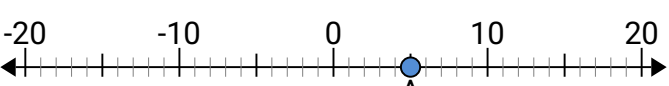

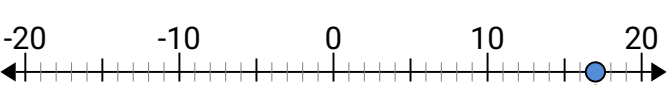


10. \_\_\_\_\_



Benutze den Zahlenstrahl um den absoluten Wert zu finden.

**Antworten**

1) A. Was ist der Wert von „A“? B. Wie weit ist „A“ von 0 entfernt (Betrag)?		1. <u>12</u> <u>12</u>
2) A. Was ist der Wert von „A“? B. Wie weit ist „A“ von 0 entfernt (Betrag)?		2. <u>-1</u> <u>1</u>
3) A. Was ist der Wert von „A“? B. Wie weit ist „A“ von 0 entfernt (Betrag)?		3. <u>-13</u> <u>13</u>
4) A. Was ist der Wert von „A“? B. Wie weit ist „A“ von 0 entfernt (Betrag)?		4. <u>6</u> <u>6</u>
5) A. Was ist der Wert von „A“? B. Wie weit ist „A“ von 0 entfernt (Betrag)?		5. <u>8</u> <u>8</u>
6) A. Was ist der Wert von „A“? B. Wie weit ist „A“ von 0 entfernt (Betrag)?		6. <u>-20</u> <u>20</u>
7) A. Was ist der Wert von „A“? B. Wie weit ist „A“ von 0 entfernt (Betrag)?		7. <u>3</u> <u>3</u>
8) A. Was ist der Wert von „A“? B. Wie weit ist „A“ von 0 entfernt (Betrag)?		8. <u>5</u> <u>5</u>
9) A. Was ist der Wert von „A“? B. Wie weit ist „A“ von 0 entfernt (Betrag)?		9. <u>-7</u> <u>7</u>
10) A. Was ist der Wert von „A“? B. Wie weit ist „A“ von 0 entfernt (Betrag)?		10. <u>17</u> <u>17</u>