




Löse jede Aufgabe.


Antworten

1) Welcher Buchstabe zeigt die korrekte Lage von -27




1. _____

2) Welcher Buchstabe zeigt die korrekte Lage von -16




2. _____

3) Welcher Buchstabe zeigt die korrekte Lage von -18




3. _____

4) Welcher Buchstabe zeigt die korrekte Lage von -15




4. _____

5) Welcher Buchstabe zeigt die korrekte Lage von -91



5. _____

6) Welcher Buchstabe zeigt die korrekte Lage von -75




6. _____

7) Welcher Buchstabe zeigt die korrekte Lage von -81



7. _____

8) Welcher Buchstabe zeigt die korrekte Lage von -10




8. _____

9) Welcher Buchstabe zeigt die korrekte Lage von -59



9. _____

10) Welcher Buchstabe zeigt die korrekte Lage von -87




10. _____



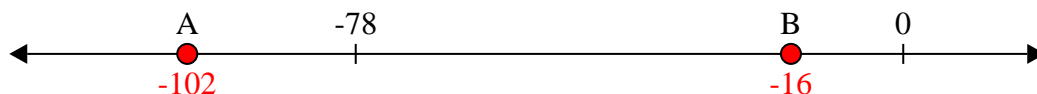
Löse jede Aufgabe.

Antworten


- 1) Welcher Buchstabe zeigt die korrekte Lage von -27

1. **B**


- 2) Welcher Buchstabe zeigt die korrekte Lage von -16

2. **B**


- 3) Welcher Buchstabe zeigt die korrekte Lage von -18

3. **B** 4. **B** 5. **A** 6. **A**

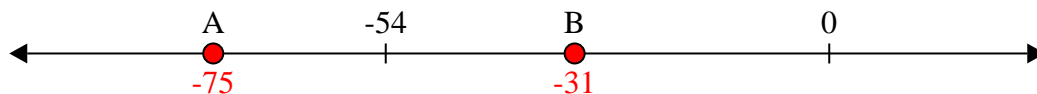
- 4) Welcher Buchstabe zeigt die korrekte Lage von -15

7. **A** 8. **B**


- 5) Welcher Buchstabe zeigt die korrekte Lage von -91

9. **B** 10. **A**


- 6) Welcher Buchstabe zeigt die korrekte Lage von -75



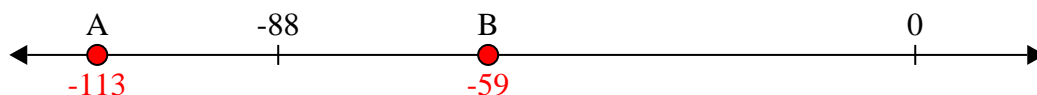
- 7) Welcher Buchstabe zeigt die korrekte Lage von -81




- 8) Welcher Buchstabe zeigt die korrekte Lage von -10



- 9) Welcher Buchstabe zeigt die korrekte Lage von -59




- 10) Welcher Buchstabe zeigt die korrekte Lage von -87




**Löse jede Aufgabe.****Antworten**

1) Welcher Buchstabe zeigt die korrekte Lage von -28



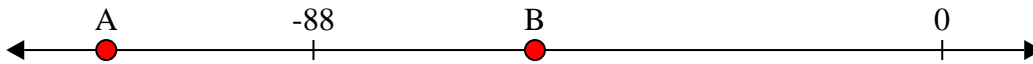
1. _____

2) Welcher Buchstabe zeigt die korrekte Lage von -26



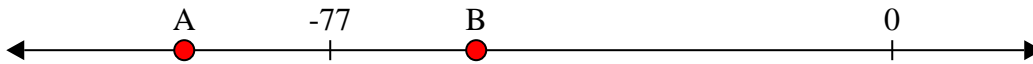
2. _____

3) Welcher Buchstabe zeigt die korrekte Lage von -117



3. _____

4) Welcher Buchstabe zeigt die korrekte Lage von -97



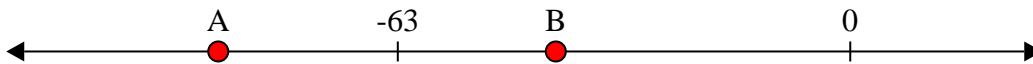
4. _____

5) Welcher Buchstabe zeigt die korrekte Lage von -113




5. _____

6) Welcher Buchstabe zeigt die korrekte Lage von -88




6. _____

7) Welcher Buchstabe zeigt die korrekte Lage von -22




7. _____

8) Welcher Buchstabe zeigt die korrekte Lage von -25




8. _____

9) Welcher Buchstabe zeigt die korrekte Lage von -82



9. _____

10) Welcher Buchstabe zeigt die korrekte Lage von -120



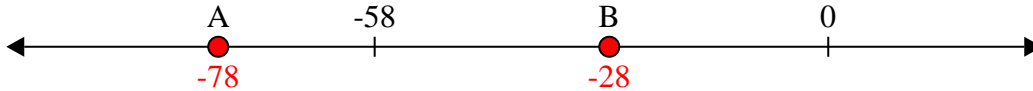
10. _____



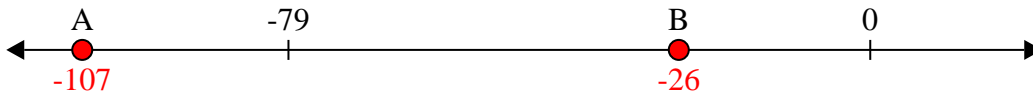
Löse jede Aufgabe.

Antworten

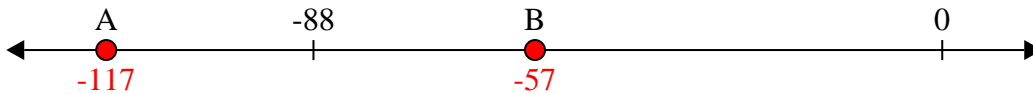
1) Welcher Buchstabe zeigt die korrekte Lage von -28

1. **B**

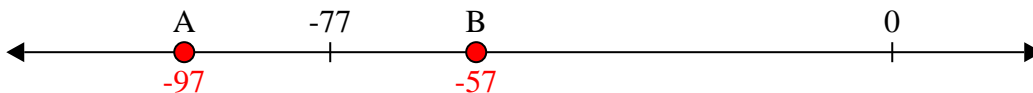
2) Welcher Buchstabe zeigt die korrekte Lage von -26

2. **B**

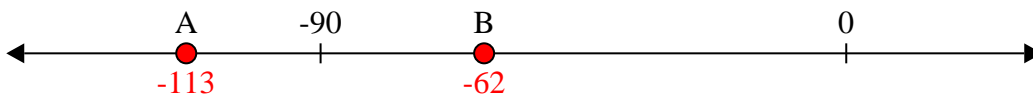
3) Welcher Buchstabe zeigt die korrekte Lage von -117

3. **A**

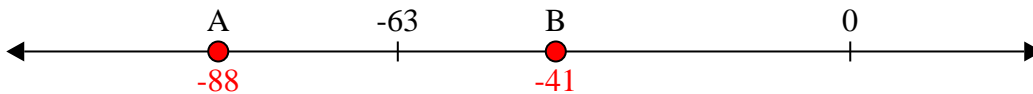
4) Welcher Buchstabe zeigt die korrekte Lage von -97

4. **A**


5) Welcher Buchstabe zeigt die korrekte Lage von -113

5. **A**


6) Welcher Buchstabe zeigt die korrekte Lage von -88

6. **A**


7) Welcher Buchstabe zeigt die korrekte Lage von -22

7. **B**


8) Welcher Buchstabe zeigt die korrekte Lage von -25

8. **B**

9) Welcher Buchstabe zeigt die korrekte Lage von -82

9. **A**

10) Welcher Buchstabe zeigt die korrekte Lage von -120


10. **A**



Löse jede Aufgabe.


Antworten

- 1) Welcher Buchstabe zeigt die korrekte Lage von -37



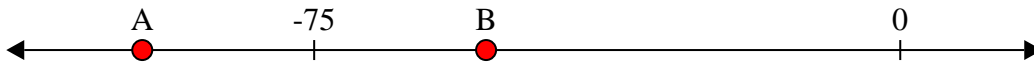
1. _____

- 2) Welcher Buchstabe zeigt die korrekte Lage von -113




2. _____

- 3) Welcher Buchstabe zeigt die korrekte Lage von -97




3. _____

- 4) Welcher Buchstabe zeigt die korrekte Lage von -80




4. _____

- 5) Welcher Buchstabe zeigt die korrekte Lage von -40




5. _____

- 6) Welcher Buchstabe zeigt die korrekte Lage von -101




6. _____

- 7) Welcher Buchstabe zeigt die korrekte Lage von -22




7. _____

- 8) Welcher Buchstabe zeigt die korrekte Lage von -105




8. _____

- 9) Welcher Buchstabe zeigt die korrekte Lage von -115



9. _____

- 10) Welcher Buchstabe zeigt die korrekte Lage von -97



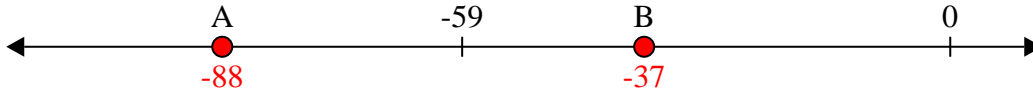
10. _____



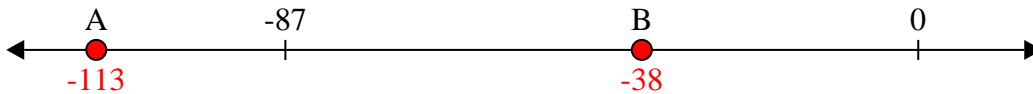
Löse jede Aufgabe.

Antworten

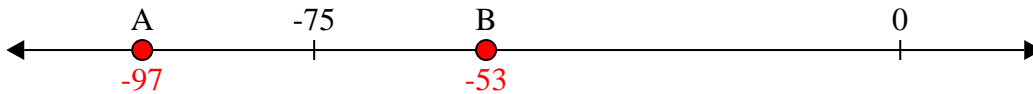
- 1) Welcher Buchstabe zeigt die korrekte Lage von -37

1. **B**

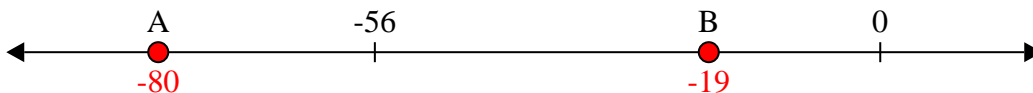
- 2) Welcher Buchstabe zeigt die korrekte Lage von -113

2. **A**


- 3) Welcher Buchstabe zeigt die korrekte Lage von -97

3. **A**


- 4) Welcher Buchstabe zeigt die korrekte Lage von -80

4. **A**


- 5) Welcher Buchstabe zeigt die korrekte Lage von -40

5. **B**


- 6) Welcher Buchstabe zeigt die korrekte Lage von -101

6. **A**


- 7) Welcher Buchstabe zeigt die korrekte Lage von -22

7. **B**


- 8) Welcher Buchstabe zeigt die korrekte Lage von -105

8. **A**

- 9) Welcher Buchstabe zeigt die korrekte Lage von -115

9. **A**

- 10) Welcher Buchstabe zeigt die korrekte Lage von -97


10. **A**



Löse jede Aufgabe.

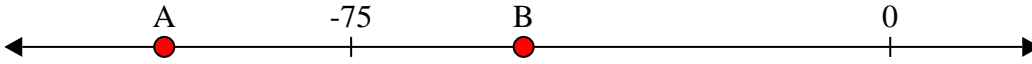
Antworten

1) Welcher Buchstabe zeigt die korrekte Lage von -24




1. _____

2) Welcher Buchstabe zeigt die korrekte Lage von -101



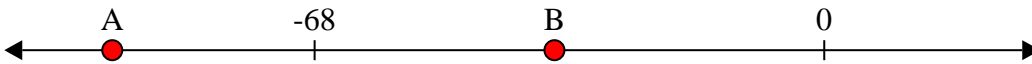
2. _____

3) Welcher Buchstabe zeigt die korrekte Lage von -83




3. _____

4) Welcher Buchstabe zeigt die korrekte Lage von -95




4. _____

5) Welcher Buchstabe zeigt die korrekte Lage von -86



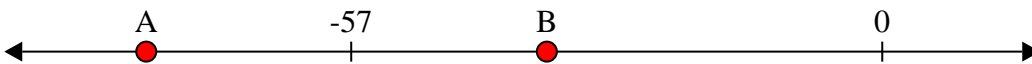
5. _____

6) Welcher Buchstabe zeigt die korrekte Lage von -112




6. _____

7) Welcher Buchstabe zeigt die korrekte Lage von -79




7. _____

8) Welcher Buchstabe zeigt die korrekte Lage von -10



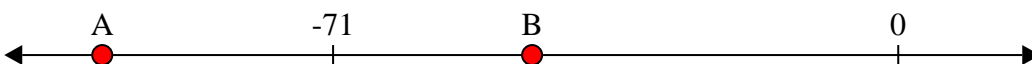
8. _____

9) Welcher Buchstabe zeigt die korrekte Lage von -27



9. _____

10) Welcher Buchstabe zeigt die korrekte Lage von -100




10. _____



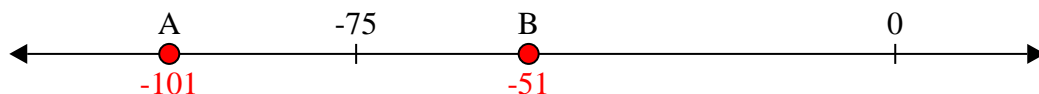
Löse jede Aufgabe.

Antworten


- 1) Welcher Buchstabe zeigt die korrekte Lage von -24

1. **B**

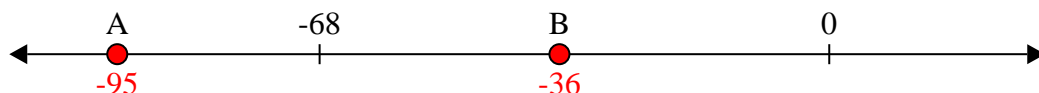
- 2) Welcher Buchstabe zeigt die korrekte Lage von -101

2. **A**


- 3) Welcher Buchstabe zeigt die korrekte Lage von -83

3. **A**


- 4) Welcher Buchstabe zeigt die korrekte Lage von -95

4. **A**

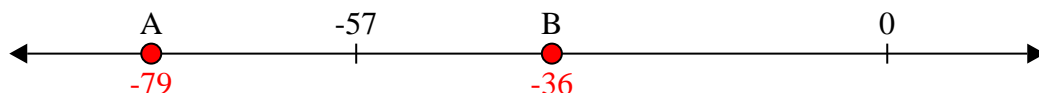
- 5) Welcher Buchstabe zeigt die korrekte Lage von -86

5. **A**


- 6) Welcher Buchstabe zeigt die korrekte Lage von -112

6. **A**


- 7) Welcher Buchstabe zeigt die korrekte Lage von -79

7. **A**

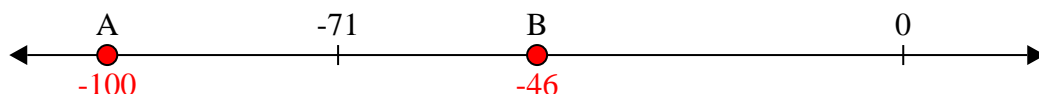
- 8) Welcher Buchstabe zeigt die korrekte Lage von -10

8. **B**

- 9) Welcher Buchstabe zeigt die korrekte Lage von -27

9. **B**

- 10) Welcher Buchstabe zeigt die korrekte Lage von -100


10. **A**



Löse jede Aufgabe.

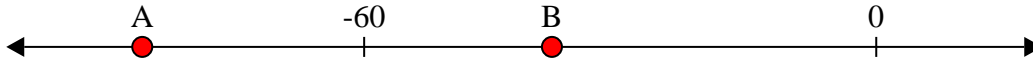
Antworten

1) Welcher Buchstabe zeigt die korrekte Lage von -11




1. _____

2) Welcher Buchstabe zeigt die korrekte Lage von -38




2. _____

3) Welcher Buchstabe zeigt die korrekte Lage von -78




3. _____

4) Welcher Buchstabe zeigt die korrekte Lage von -28



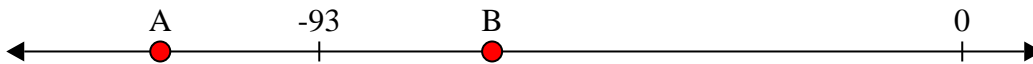
4. _____

5) Welcher Buchstabe zeigt die korrekte Lage von -109




5. _____

6) Welcher Buchstabe zeigt die korrekte Lage von -68




6. _____

7) Welcher Buchstabe zeigt die korrekte Lage von -10



7. _____

8) Welcher Buchstabe zeigt die korrekte Lage von -20




8. _____

9) Welcher Buchstabe zeigt die korrekte Lage von -82



9. _____

10) Welcher Buchstabe zeigt die korrekte Lage von -79



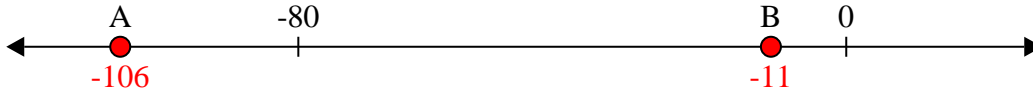
10. _____



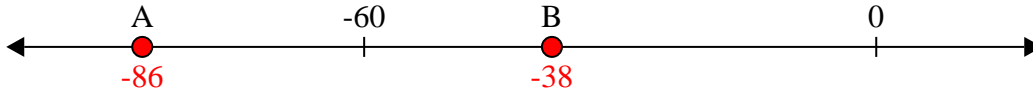
Löse jede Aufgabe.

Antworten

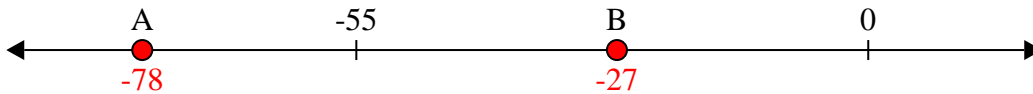
- 1) Welcher Buchstabe zeigt die korrekte Lage von -11

1. **B**

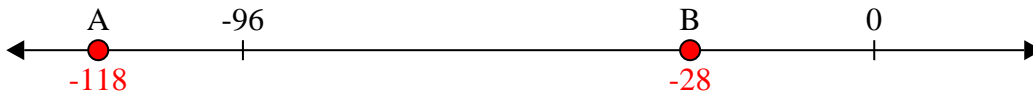
- 2) Welcher Buchstabe zeigt die korrekte Lage von -38

2. **B**

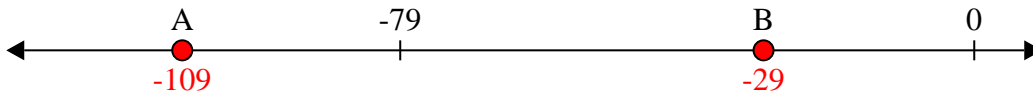
- 3) Welcher Buchstabe zeigt die korrekte Lage von -78

3. **A**

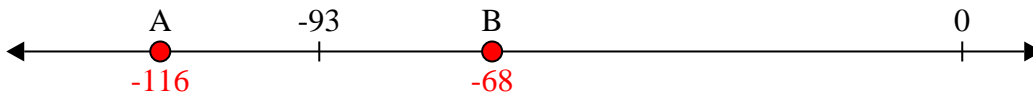
- 4) Welcher Buchstabe zeigt die korrekte Lage von -28

4. **B**


- 5) Welcher Buchstabe zeigt die korrekte Lage von -109

5. **A**


- 6) Welcher Buchstabe zeigt die korrekte Lage von -68

6. **B**

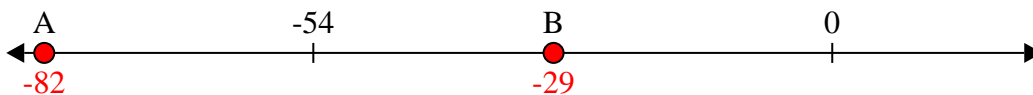
- 7) Welcher Buchstabe zeigt die korrekte Lage von -10

7. **B**

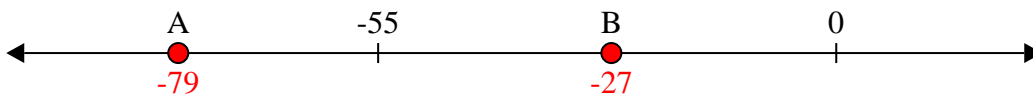
- 8) Welcher Buchstabe zeigt die korrekte Lage von -20

8. **B**

- 9) Welcher Buchstabe zeigt die korrekte Lage von -82

9. **A**

- 10) Welcher Buchstabe zeigt die korrekte Lage von -79


10. **A**



Löse jede Aufgabe.


Antworten

1) Welcher Buchstabe zeigt die korrekte Lage von -98




1. _____

2) Welcher Buchstabe zeigt die korrekte Lage von -39




2. _____

3) Welcher Buchstabe zeigt die korrekte Lage von -20



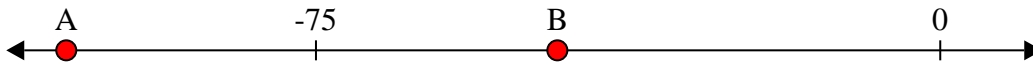
3. _____

4) Welcher Buchstabe zeigt die korrekte Lage von -11



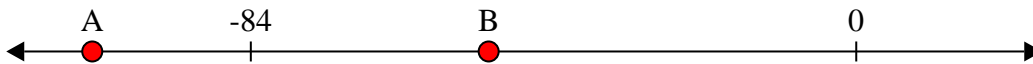
4. _____

5) Welcher Buchstabe zeigt die korrekte Lage von -105




5. _____

6) Welcher Buchstabe zeigt die korrekte Lage von -106




6. _____

7) Welcher Buchstabe zeigt die korrekte Lage von -12




7. _____

8) Welcher Buchstabe zeigt die korrekte Lage von -111




8. _____

9) Welcher Buchstabe zeigt die korrekte Lage von -12



9. _____

10) Welcher Buchstabe zeigt die korrekte Lage von -28



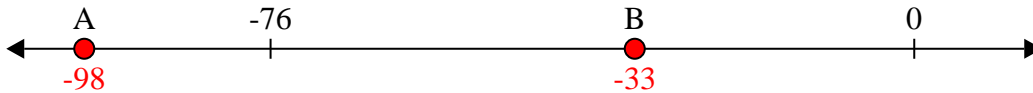
10. _____



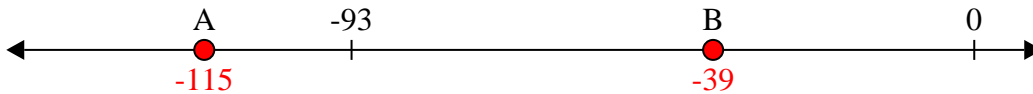
Löse jede Aufgabe.

Antworten

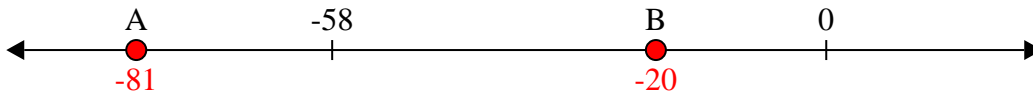
- 1) Welcher Buchstabe zeigt die korrekte Lage von -98

1. **A**

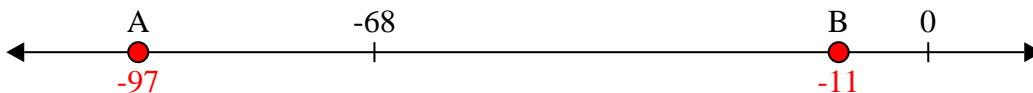
- 2) Welcher Buchstabe zeigt die korrekte Lage von -39

2. **B**

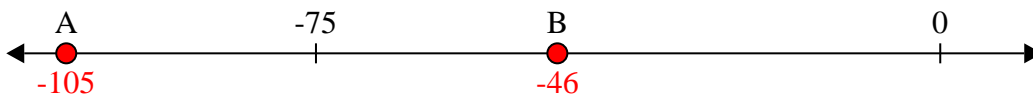
- 3) Welcher Buchstabe zeigt die korrekte Lage von -20

3. **B**

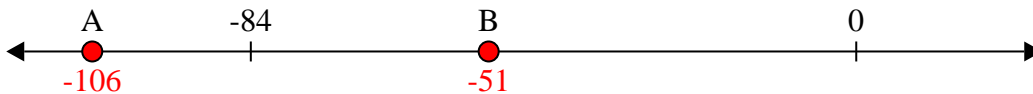
- 4) Welcher Buchstabe zeigt die korrekte Lage von -11

4. **B**


- 5) Welcher Buchstabe zeigt die korrekte Lage von -105

5. **A**


- 6) Welcher Buchstabe zeigt die korrekte Lage von -106

6. **A**


- 7) Welcher Buchstabe zeigt die korrekte Lage von -12

7. **B**


- 8) Welcher Buchstabe zeigt die korrekte Lage von -111

8. **A**

- 9) Welcher Buchstabe zeigt die korrekte Lage von -12

9. **B**

- 10) Welcher Buchstabe zeigt die korrekte Lage von -28


10. **B**



Löse jede Aufgabe.


Antworten

- 1) Welcher Buchstabe zeigt die korrekte Lage von -128




1. _____

- 2) Welcher Buchstabe zeigt die korrekte Lage von -114



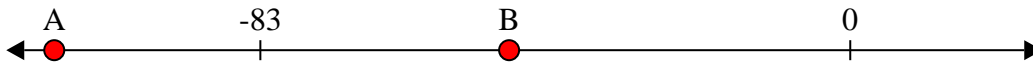
2. _____

- 3) Welcher Buchstabe zeigt die korrekte Lage von -76




3. _____

- 4) Welcher Buchstabe zeigt die korrekte Lage von -48




4. _____

- 5) Welcher Buchstabe zeigt die korrekte Lage von -47




5. _____

- 6) Welcher Buchstabe zeigt die korrekte Lage von -115



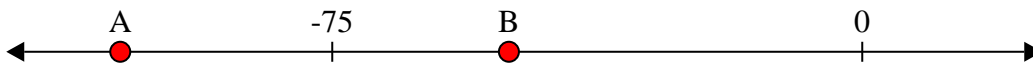
6. _____

- 7) Welcher Buchstabe zeigt die korrekte Lage von -115




7. _____

- 8) Welcher Buchstabe zeigt die korrekte Lage von -105




8. _____

- 9) Welcher Buchstabe zeigt die korrekte Lage von -10



9. _____

- 10) Welcher Buchstabe zeigt die korrekte Lage von -82



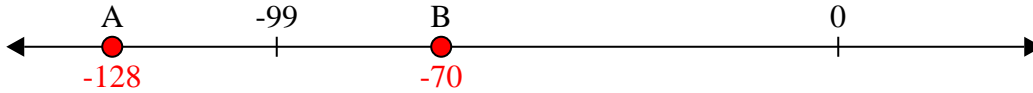
10. _____



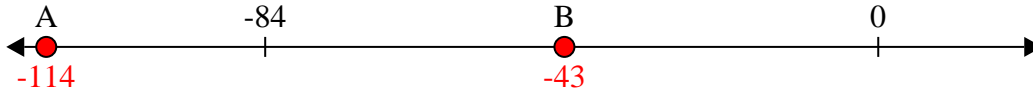
Löse jede Aufgabe.

Antworten

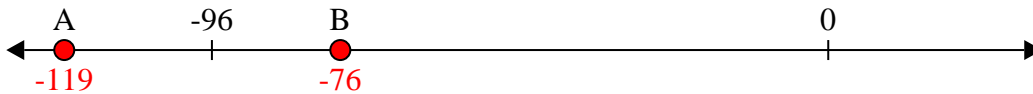
1) Welcher Buchstabe zeigt die korrekte Lage von -128

1. **A**

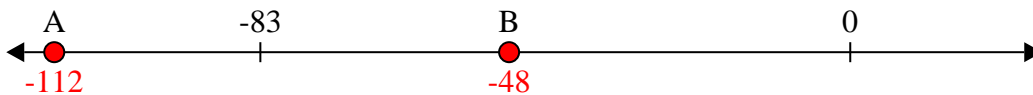
2) Welcher Buchstabe zeigt die korrekte Lage von -114

2. **A**

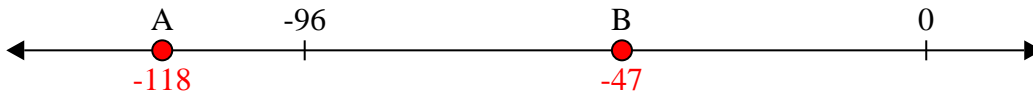
3) Welcher Buchstabe zeigt die korrekte Lage von -76

3. **B**


4) Welcher Buchstabe zeigt die korrekte Lage von -48

4. **B**


5) Welcher Buchstabe zeigt die korrekte Lage von -47

5. **B**

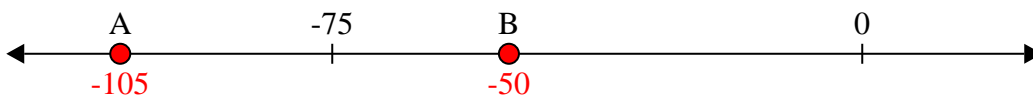
6) Welcher Buchstabe zeigt die korrekte Lage von -115

6. **A**

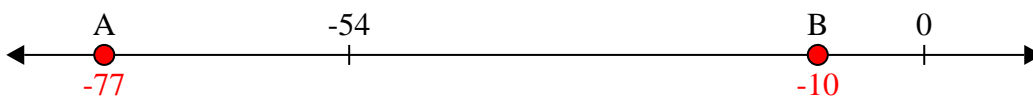
7) Welcher Buchstabe zeigt die korrekte Lage von -115

7. **A**

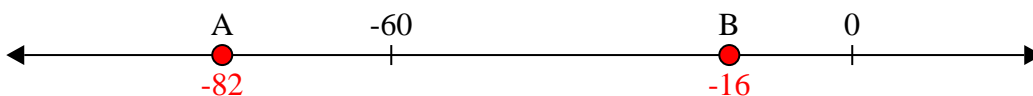
8) Welcher Buchstabe zeigt die korrekte Lage von -105

8. **A**

9) Welcher Buchstabe zeigt die korrekte Lage von -10

9. **B**

10) Welcher Buchstabe zeigt die korrekte Lage von -82

10. **A**



Löse jede Aufgabe.


Antworten

- 1) Welcher Buchstabe zeigt die korrekte Lage von -32




1. _____

- 2) Welcher Buchstabe zeigt die korrekte Lage von -114




2. _____

- 3) Welcher Buchstabe zeigt die korrekte Lage von -117




3. _____

- 4) Welcher Buchstabe zeigt die korrekte Lage von -111




4. _____

- 5) Welcher Buchstabe zeigt die korrekte Lage von -33



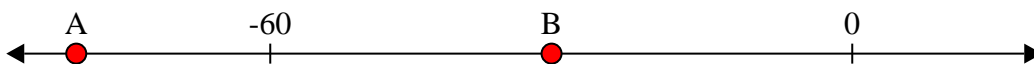
5. _____

- 6) Welcher Buchstabe zeigt die korrekte Lage von -29




6. _____

- 7) Welcher Buchstabe zeigt die korrekte Lage von -80



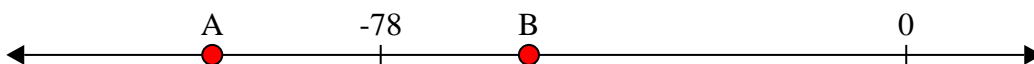
7. _____

- 8) Welcher Buchstabe zeigt die korrekte Lage von -86




8. _____

- 9) Welcher Buchstabe zeigt die korrekte Lage von -56



9. _____

- 10) Welcher Buchstabe zeigt die korrekte Lage von -24



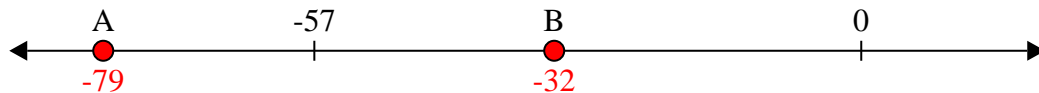
10. _____



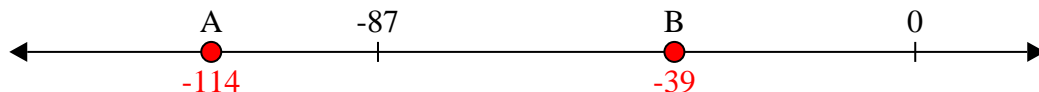
Löse jede Aufgabe.

Antworten

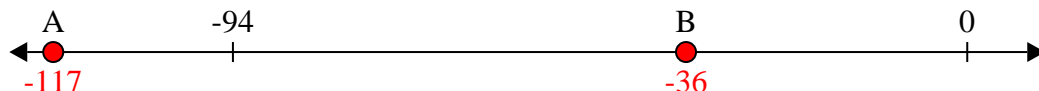
- 1) Welcher Buchstabe zeigt die korrekte Lage von -32

1. **B**

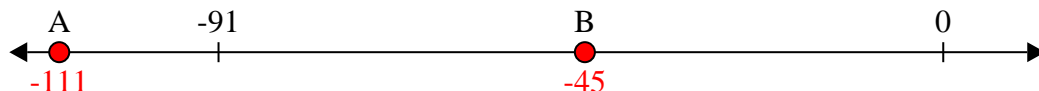
- 2) Welcher Buchstabe zeigt die korrekte Lage von -114

2. **A**


- 3) Welcher Buchstabe zeigt die korrekte Lage von -117

3. **A**


- 4) Welcher Buchstabe zeigt die korrekte Lage von -111

4. **A**

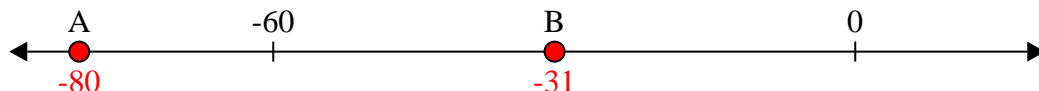
- 5) Welcher Buchstabe zeigt die korrekte Lage von -33

5. **B**


- 6) Welcher Buchstabe zeigt die korrekte Lage von -29

6. **B**

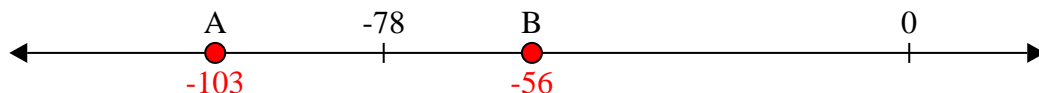
- 7) Welcher Buchstabe zeigt die korrekte Lage von -80

7. **A**


- 8) Welcher Buchstabe zeigt die korrekte Lage von -86

8. **A**

- 9) Welcher Buchstabe zeigt die korrekte Lage von -56

9. **B**

- 10) Welcher Buchstabe zeigt die korrekte Lage von -24


10. **B**



Löse jede Aufgabe.


Antworten

1) Welcher Buchstabe zeigt die korrekte Lage von -29




1. _____

2) Welcher Buchstabe zeigt die korrekte Lage von -120




2. _____

3) Welcher Buchstabe zeigt die korrekte Lage von -118




3. _____

4) Welcher Buchstabe zeigt die korrekte Lage von -14




4. _____

5) Welcher Buchstabe zeigt die korrekte Lage von -109




5. _____

6) Welcher Buchstabe zeigt die korrekte Lage von -28




6. _____

7) Welcher Buchstabe zeigt die korrekte Lage von -21




7. _____

8) Welcher Buchstabe zeigt die korrekte Lage von -14




8. _____

9) Welcher Buchstabe zeigt die korrekte Lage von -13



9. _____

10) Welcher Buchstabe zeigt die korrekte Lage von -114



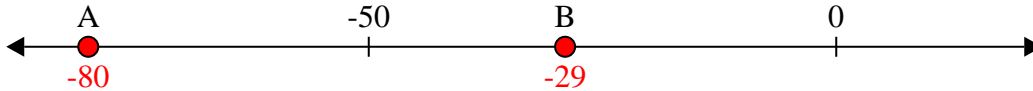
10. _____



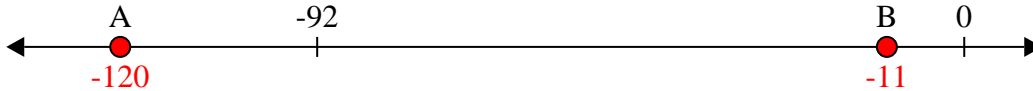
Löse jede Aufgabe.

Antworten

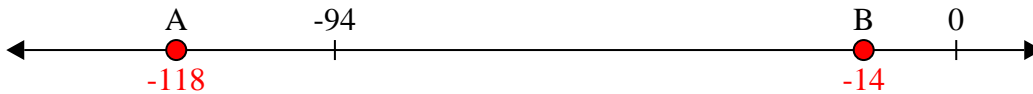
- 1) Welcher Buchstabe zeigt die korrekte Lage von -29

1. **B**

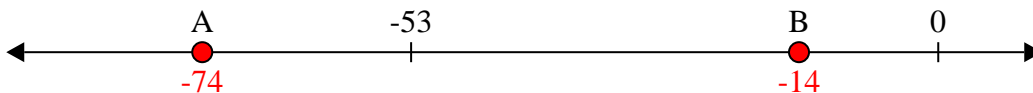
- 2) Welcher Buchstabe zeigt die korrekte Lage von -120

2. **A**


- 3) Welcher Buchstabe zeigt die korrekte Lage von -118

3. **A**


- 4) Welcher Buchstabe zeigt die korrekte Lage von -14

4. **B**


- 5) Welcher Buchstabe zeigt die korrekte Lage von -109

5. **A**


- 6) Welcher Buchstabe zeigt die korrekte Lage von -28

6. **B**


- 7) Welcher Buchstabe zeigt die korrekte Lage von -21

7. **B**


- 8) Welcher Buchstabe zeigt die korrekte Lage von -14

8. **B**

- 9) Welcher Buchstabe zeigt die korrekte Lage von -13

9. **B**

- 10) Welcher Buchstabe zeigt die korrekte Lage von -114


10. **A**



Löse jede Aufgabe.


Antworten

- 1) Welcher Buchstabe zeigt die korrekte Lage von -101




1. _____

- 2) Welcher Buchstabe zeigt die korrekte Lage von -42




2. _____

- 3) Welcher Buchstabe zeigt die korrekte Lage von -76




3. _____

- 4) Welcher Buchstabe zeigt die korrekte Lage von -110




4. _____

- 5) Welcher Buchstabe zeigt die korrekte Lage von -106




5. _____

- 6) Welcher Buchstabe zeigt die korrekte Lage von -114




6. _____

- 7) Welcher Buchstabe zeigt die korrekte Lage von -21




7. _____

- 8) Welcher Buchstabe zeigt die korrekte Lage von -20




8. _____

- 9) Welcher Buchstabe zeigt die korrekte Lage von -79



9. _____

- 10) Welcher Buchstabe zeigt die korrekte Lage von -97



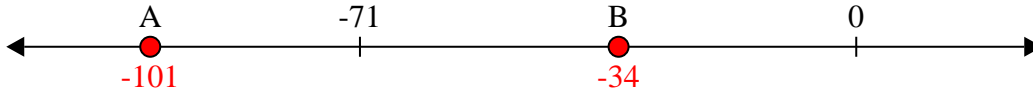
10. _____



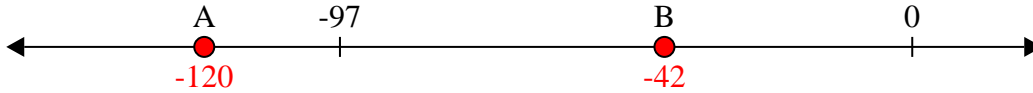
Löse jede Aufgabe.

Antworten

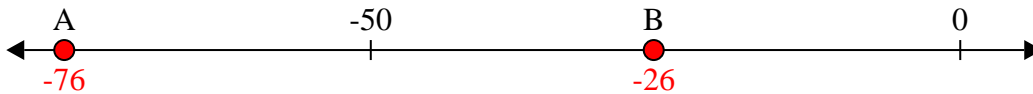
1) Welcher Buchstabe zeigt die korrekte Lage von -101

1. **A**

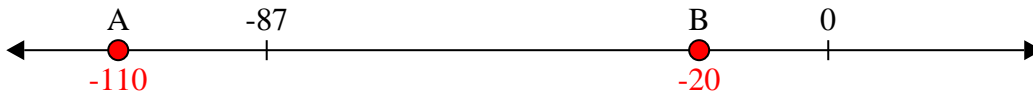
2) Welcher Buchstabe zeigt die korrekte Lage von -42

2. **B**

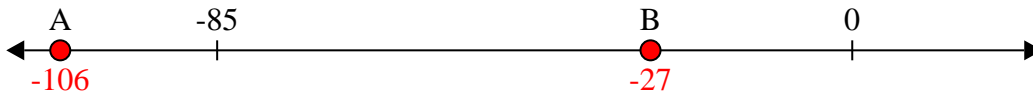
3) Welcher Buchstabe zeigt die korrekte Lage von -76

3. **A**


4) Welcher Buchstabe zeigt die korrekte Lage von -110

4. **A**


5) Welcher Buchstabe zeigt die korrekte Lage von -106

5. **A**


6) Welcher Buchstabe zeigt die korrekte Lage von -114

6. **A**


7) Welcher Buchstabe zeigt die korrekte Lage von -21

7. **B**

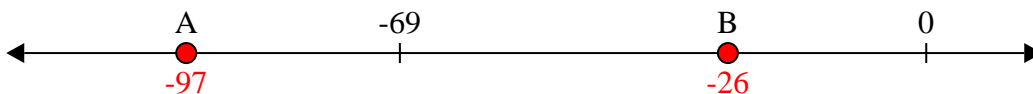
8) Welcher Buchstabe zeigt die korrekte Lage von -20

8. **B**

9) Welcher Buchstabe zeigt die korrekte Lage von -79

9. **A**

10) Welcher Buchstabe zeigt die korrekte Lage von -97

10. **A**