




Löse jede Aufgabe.


Antworten

- 1) Welcher Buchstabe zeigt die korrekte Lage von -29




1. _____

- 2) Welcher Buchstabe zeigt die korrekte Lage von -120




2. _____

- 3) Welcher Buchstabe zeigt die korrekte Lage von -118




3. _____

- 4) Welcher Buchstabe zeigt die korrekte Lage von -14




4. _____

- 5) Welcher Buchstabe zeigt die korrekte Lage von -109




5. _____

- 6) Welcher Buchstabe zeigt die korrekte Lage von -28




6. _____

- 7) Welcher Buchstabe zeigt die korrekte Lage von -21




7. _____

- 8) Welcher Buchstabe zeigt die korrekte Lage von -14




8. _____

- 9) Welcher Buchstabe zeigt die korrekte Lage von -13



9. _____

- 10) Welcher Buchstabe zeigt die korrekte Lage von -114



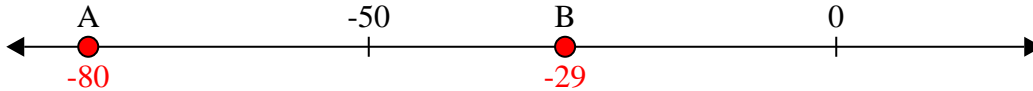
10. _____



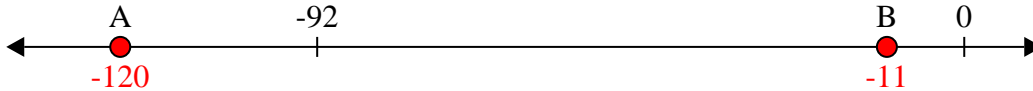
Löse jede Aufgabe.

Antworten

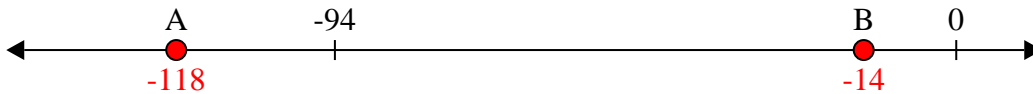
- 1) Welcher Buchstabe zeigt die korrekte Lage von -29

1. **B**

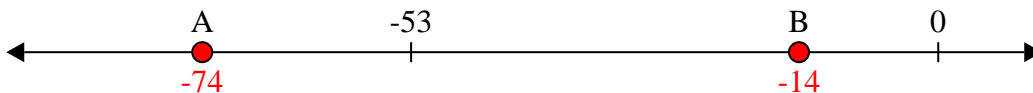
- 2) Welcher Buchstabe zeigt die korrekte Lage von -120

2. **A**


- 3) Welcher Buchstabe zeigt die korrekte Lage von -118

3. **A**


- 4) Welcher Buchstabe zeigt die korrekte Lage von -14

4. **B**


- 5) Welcher Buchstabe zeigt die korrekte Lage von -109

5. **A**


- 6) Welcher Buchstabe zeigt die korrekte Lage von -28

6. **B**


- 7) Welcher Buchstabe zeigt die korrekte Lage von -21

7. **B**


- 8) Welcher Buchstabe zeigt die korrekte Lage von -14

8. **B**

- 9) Welcher Buchstabe zeigt die korrekte Lage von -13

9. **B**

- 10) Welcher Buchstabe zeigt die korrekte Lage von -114

10. **A**