




Löse jede Aufgabe.


**Antworten**

- 1) Welcher Buchstabe zeigt die korrekte Lage von -37



1. \_\_\_\_\_

- 2) Welcher Buchstabe zeigt die korrekte Lage von -113




2. \_\_\_\_\_

- 3) Welcher Buchstabe zeigt die korrekte Lage von -97




3. \_\_\_\_\_

- 4) Welcher Buchstabe zeigt die korrekte Lage von -80




4. \_\_\_\_\_

- 5) Welcher Buchstabe zeigt die korrekte Lage von -40




5. \_\_\_\_\_

- 6) Welcher Buchstabe zeigt die korrekte Lage von -101




6. \_\_\_\_\_

- 7) Welcher Buchstabe zeigt die korrekte Lage von -22




7. \_\_\_\_\_

- 8) Welcher Buchstabe zeigt die korrekte Lage von -105




8. \_\_\_\_\_

- 9) Welcher Buchstabe zeigt die korrekte Lage von -115



9. \_\_\_\_\_

- 10) Welcher Buchstabe zeigt die korrekte Lage von -97



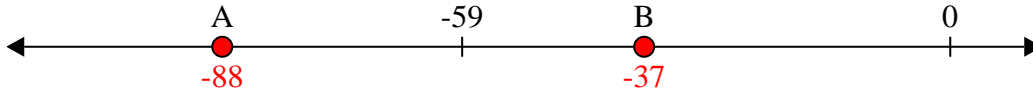
10. \_\_\_\_\_



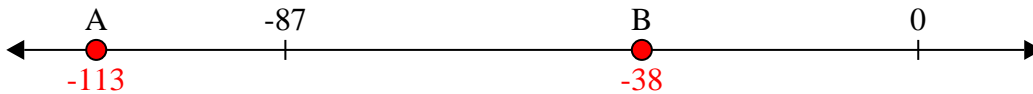
Löse jede Aufgabe.

**Antworten**

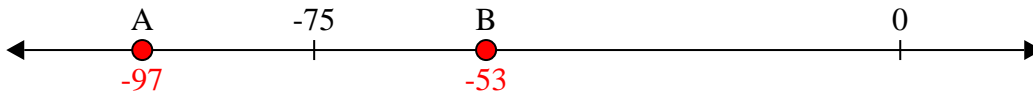
- 1) Welcher Buchstabe zeigt die korrekte Lage von -37

1.     **B**    

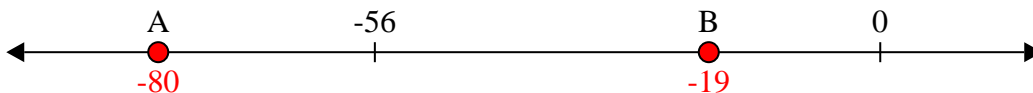
- 2) Welcher Buchstabe zeigt die korrekte Lage von -113

2.     **A**    


- 3) Welcher Buchstabe zeigt die korrekte Lage von -97

3.     **A**    


- 4) Welcher Buchstabe zeigt die korrekte Lage von -80

4.     **A**    


- 5) Welcher Buchstabe zeigt die korrekte Lage von -40

5.     **B**    


- 6) Welcher Buchstabe zeigt die korrekte Lage von -101

6.     **A**    


- 7) Welcher Buchstabe zeigt die korrekte Lage von -22

7.     **B**    


- 8) Welcher Buchstabe zeigt die korrekte Lage von -105

8.     **A**    

- 9) Welcher Buchstabe zeigt die korrekte Lage von -115

9.     **A**    

- 10) Welcher Buchstabe zeigt die korrekte Lage von -97

10.     **A**