




Löse jede Aufgabe.


**Antworten**

- 1) Welcher Buchstabe zeigt die korrekte Lage von -101




1. \_\_\_\_\_

- 2) Welcher Buchstabe zeigt die korrekte Lage von -42




2. \_\_\_\_\_

- 3) Welcher Buchstabe zeigt die korrekte Lage von -76




3. \_\_\_\_\_

- 4) Welcher Buchstabe zeigt die korrekte Lage von -110




4. \_\_\_\_\_

- 5) Welcher Buchstabe zeigt die korrekte Lage von -106




5. \_\_\_\_\_

- 6) Welcher Buchstabe zeigt die korrekte Lage von -114




6. \_\_\_\_\_

- 7) Welcher Buchstabe zeigt die korrekte Lage von -21




7. \_\_\_\_\_

- 8) Welcher Buchstabe zeigt die korrekte Lage von -20




8. \_\_\_\_\_

- 9) Welcher Buchstabe zeigt die korrekte Lage von -79



9. \_\_\_\_\_

- 10) Welcher Buchstabe zeigt die korrekte Lage von -97




10. \_\_\_\_\_



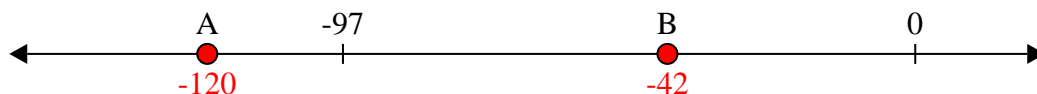
Löse jede Aufgabe.

**Antworten**


1) Welcher Buchstabe zeigt die korrekte Lage von -101

1.   **A**  


2) Welcher Buchstabe zeigt die korrekte Lage von -42

2.   **B**  


3) Welcher Buchstabe zeigt die korrekte Lage von -76

3.   **A**  


4) Welcher Buchstabe zeigt die korrekte Lage von -110

4.   **A**  


5) Welcher Buchstabe zeigt die korrekte Lage von -106

5.   **A**  


6) Welcher Buchstabe zeigt die korrekte Lage von -114

6.   **A**  

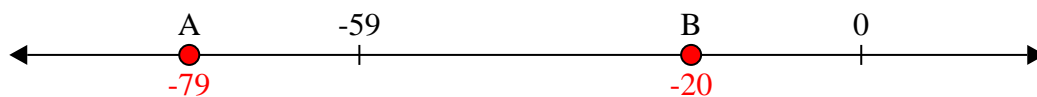
7) Welcher Buchstabe zeigt die korrekte Lage von -21

7.   **B**  

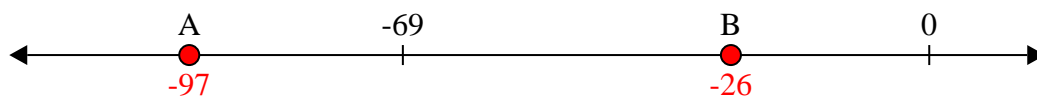
8) Welcher Buchstabe zeigt die korrekte Lage von -20

8.   **B**  

9) Welcher Buchstabe zeigt die korrekte Lage von -79

9.   **A**  

10) Welcher Buchstabe zeigt die korrekte Lage von -97

10.   **A**