




Zählen Sie die Anzahl der Viertel (25¢), Dimes (10¢), Nickels (5¢) und Pennies (1¢).


**Antworten**

Bsp)



Bsp. 3 1 3 2

1)



1. \_\_\_\_\_

2)



2. \_\_\_\_\_

3)



3. \_\_\_\_\_

4)



4. \_\_\_\_\_

5)



5. \_\_\_\_\_

6)



6. \_\_\_\_\_

7)



7. \_\_\_\_\_

8)



8. \_\_\_\_\_

9)



9. \_\_\_\_\_

10)



10. \_\_\_\_\_




Zählen Sie die Anzahl der Viertel (25¢), Dimes (10¢), Nickels (5¢) und Pennies (1¢).

Bsp)



Bsp. 3 1 3 2

1)



1. 2 2 2 3

2)



2. 2 3 2 2

3)



3. 1 4 2 2

4)



4. 1 3 1 4

5)



5. 1 3 3 2

6)



6. 1 4 2 2

7)



7. 3 3 2 1

8)



8. 3 3 2 1

9)



9. 2 3 2 2

10)



10. 2 2 3 2

**Antworten**

Bsp. 3 1 3 2

1. 2 2 2 3

2. 2 3 2 2

3. 1 4 2 2

4. 1 3 1 4

5. 1 3 3 2

6. 1 4 2 2

7. 3 3 2 1

8. 3 3 2 1

9. 2 3 2 2

10. 2 2 3 2