



Benutze die Einheiten zum Messen der Länge jeden Streifens.

Antworten




1. _____



2. _____



3. _____



4. _____




5. _____



6. _____




7. _____



8. _____



9. _____



10. _____



Benutze die Einheiten zum Messen der Länge jeden Streifens.

Antworten




1. 8



2. 2



3. 3



4. 10



5. 7



6. 9



7. 4



8. 5



9. 1



10. 6