
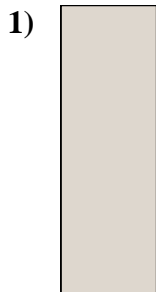


Messe die Länge und Höhe jedes Blocks in Inch und Zentimeter.



Antworte

n

Bsp. 4 0 1/2 10,2 1,3

1. _____

2. _____

3. _____

4. _____



Messe die Länge und Höhe jedes Blocks in Inch und Zentimeter.

Bsp)



Antworte

n

Bsp. 4 0 1/2 10,2 1,3


1. 0 1/2 1 1/2 1,3 3,8

2. 1 1/2 0 1/2 3,8 1,3

3. 5 1/2 0 1/2 14 1,3

4. 3 1 1/2 7,6 3,8

1)



2)



3)



4)

