




Messe die Länge und Höhe jedes Blocks in Inch und Zentimeter.

Bsp)



1)



2)



3)



4)



Antworte

n

Bsp. 3 1 7,6 2,5

1. _____

2. _____


3. _____

4. _____



Messe die Länge und Höhe jedes Blocks in Inch und Zentimeter.

Bsp)



Antworte

n

Bsp. 3 1 7,6 2,5

1. 5 0 1/2 12,7 1,3

2. 1 1/2 0 1/2 3,8 1,3

3. 0 1/2 1 1,3 2,5

4. 4 1/2 0 1/2 11,4 1,3


1)



2)



3)



4)

