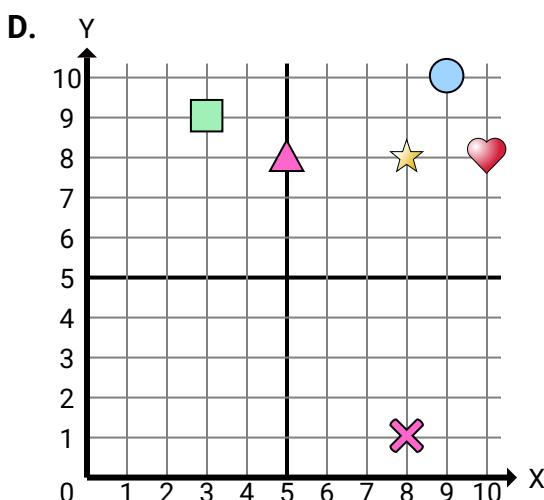
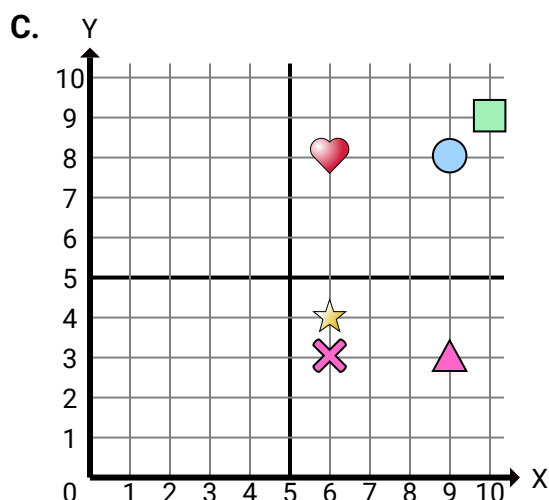
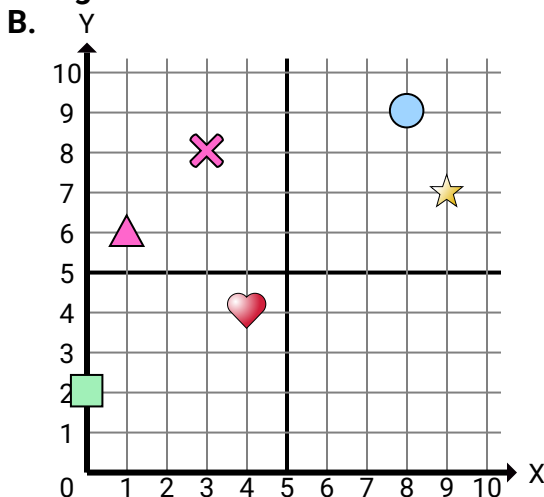
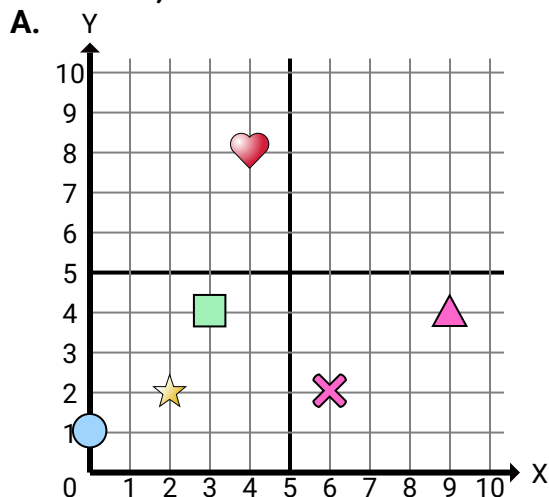


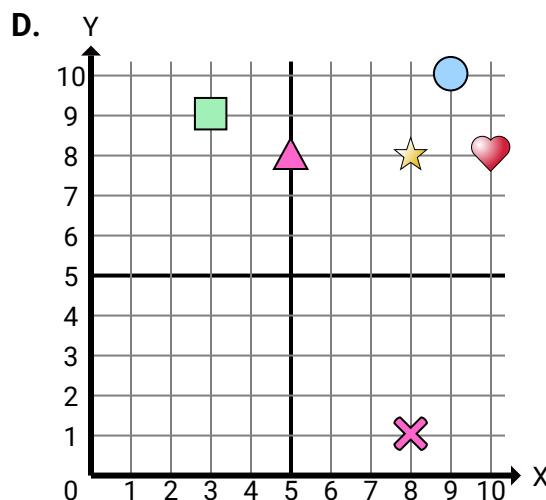
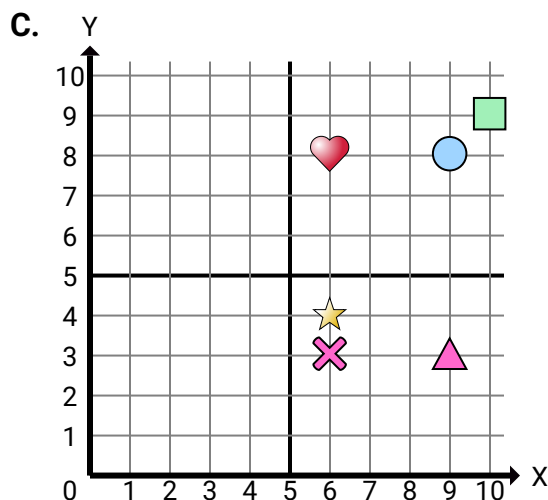
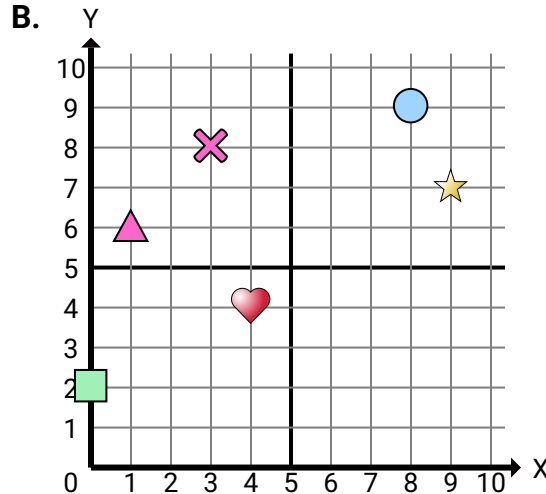
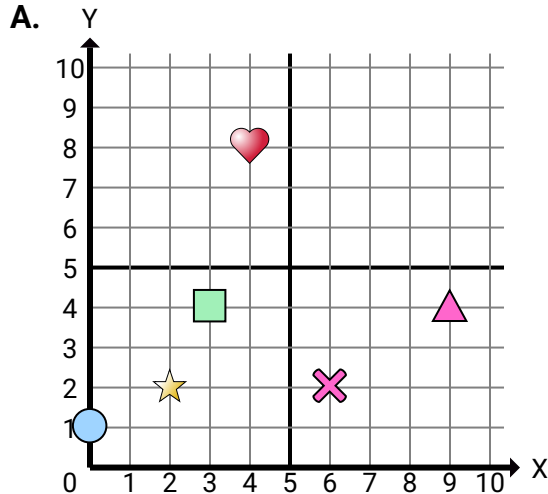
**Stelle fest, welches Koordinatenkreuz jede Frage beantwortet.****Antworten**

1. \_\_\_\_\_
2. \_\_\_\_\_
3. \_\_\_\_\_
4. \_\_\_\_\_
5. \_\_\_\_\_
6. \_\_\_\_\_
7. \_\_\_\_\_
8. \_\_\_\_\_
9. \_\_\_\_\_
10. \_\_\_\_\_
11. \_\_\_\_\_
12. \_\_\_\_\_
13. \_\_\_\_\_
14. \_\_\_\_\_
15. \_\_\_\_\_

- 1) Welche Koordinatenebene hat eine Form bei (0 , 2)?
- 2) Welche Koordinatenebene hat eine Form bei (6 , 2)?
- 3) Welche Koordinatenebene hat eine Form bei (2 , 2)?
- 4) Welche Koordinatenebene hat eine Form bei (5 , 8)?
- 5) Welche Koordinatenebene hat eine Form bei (9 , 8)?
- 6) Welche Koordinatenebene hat eine Form bei (3 , 8)?
- 7) Welche Koordinatenebene hat eine Form bei (6 , 4)?
- 8) Welche Koordinatenebene hat eine Form bei (8 , 8)?
- 9) Welche Koordinatenebene hat eine Form bei (0 , 1)?
- 10) Welche Koordinatenebene hat eine Form bei (9 , 10)?
- 11) Welche Koordinatenebene hat eine Form bei (1 , 6)?
- 12) Welche Koordinatenebene hat eine Form bei (10 , 9)?
- 13) Welche Koordinatenebene hat eine Form bei (9 , 7)?
- 14) Welche Koordinatenebene hat eine Form bei (8 , 9)?
- 15) Welche Koordinatenebene hat eine Form bei (3 , 9)?



Stelle fest, welches Koordinatenkreuz jede Frage beantwortet.

**Antworten**

1. **B**
2. **A**
3. **A**
4. **D**
5. **C**
6. **B**
7. **C**
8. **D**
9. **A**
10. **D**
11. **B**
12. **C**
13. **B**
14. **B**
15. **D**

- 1) Welche Koordinatenebene hat eine Form bei (0 , 2)?
- 2) Welche Koordinatenebene hat eine Form bei (6 , 2)?
- 3) Welche Koordinatenebene hat eine Form bei (2 , 2)?
- 4) Welche Koordinatenebene hat eine Form bei (5 , 8)?
- 5) Welche Koordinatenebene hat eine Form bei (9 , 8)?
- 6) Welche Koordinatenebene hat eine Form bei (3 , 8)?
- 7) Welche Koordinatenebene hat eine Form bei (6 , 4)?
- 8) Welche Koordinatenebene hat eine Form bei (8 , 8)?
- 9) Welche Koordinatenebene hat eine Form bei (0 , 1)?
- 10) Welche Koordinatenebene hat eine Form bei (9 , 10)?
- 11) Welche Koordinatenebene hat eine Form bei (1 , 6)?
- 12) Welche Koordinatenebene hat eine Form bei (10 , 9)?
- 13) Welche Koordinatenebene hat eine Form bei (9 , 7)?
- 14) Welche Koordinatenebene hat eine Form bei (8 , 9)?
- 15) Welche Koordinatenebene hat eine Form bei (3 , 9)?