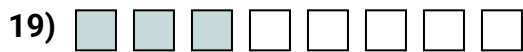


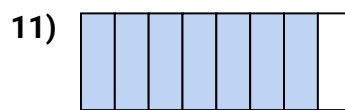


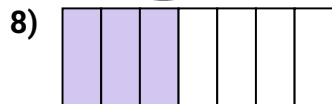
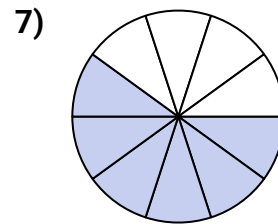
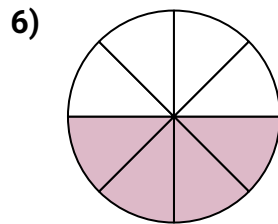
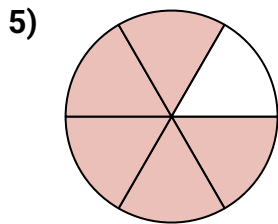

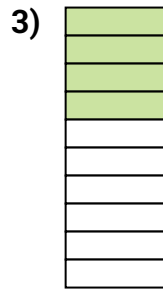





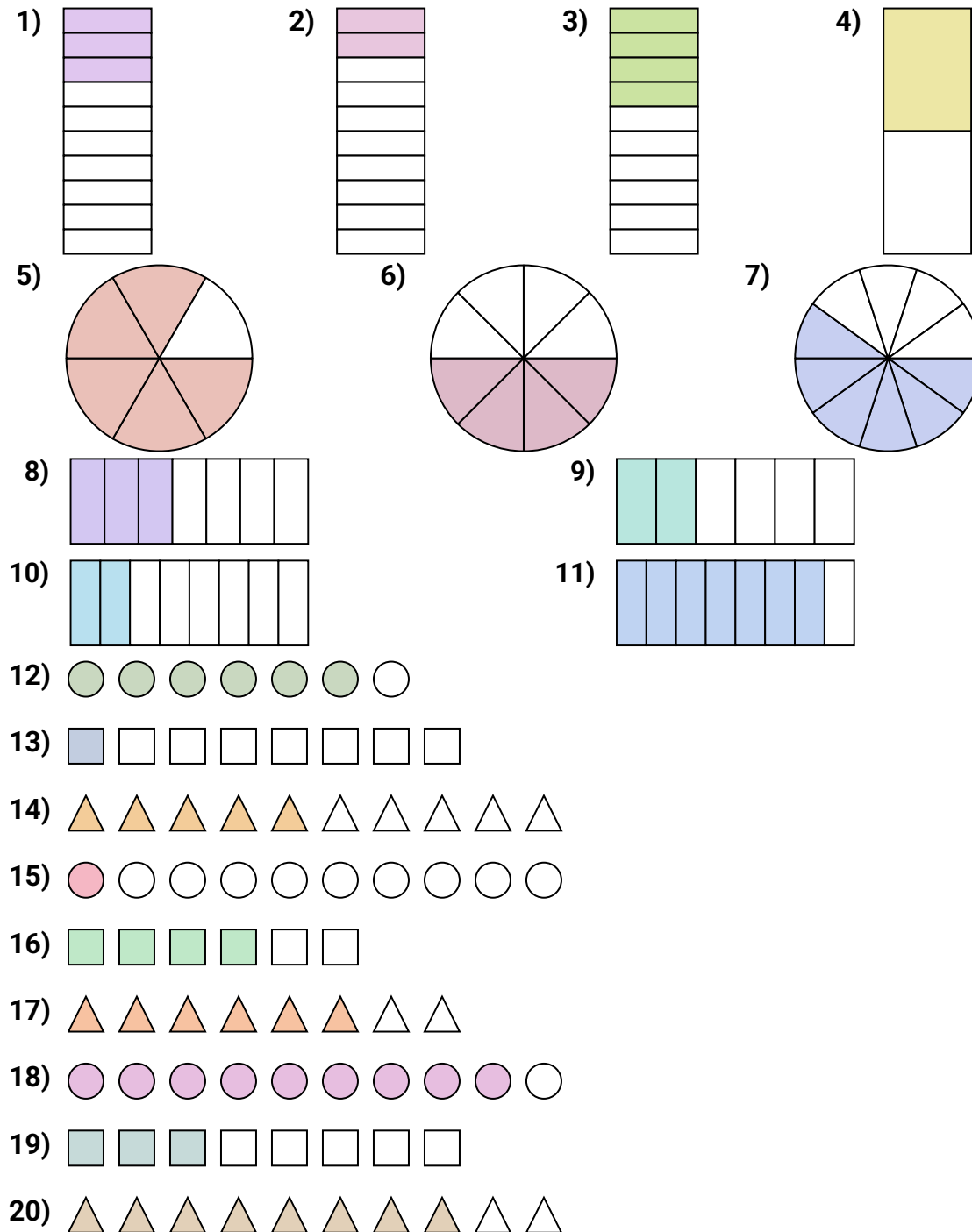
Stelle fest, ob die schraffierte Fläche 'mehr', 'weniger' oder 'gleich' zur Hälfte ist.

Antworten

1. _____
2. _____
3. _____
4. _____
5. _____
6. _____
7. _____
8. _____
9. _____
10. _____
11. _____
12. _____
13. _____
14. _____
15. _____
16. _____
17. _____
18. _____
19. _____
20. _____



Stelle fest, ob die schraffierte Fläche 'mehr', 'weniger' oder 'gleich' zur Hälfte ist.

Antworten

1. weniger
2. weniger
3. weniger
4. gleich
5. mehr
6. gleich
7. mehr
8. weniger
9. weniger
10. weniger
11. mehr
12. mehr
13. weniger
14. gleich
15. weniger
16. mehr
17. mehr
18. mehr
19. weniger
20. mehr