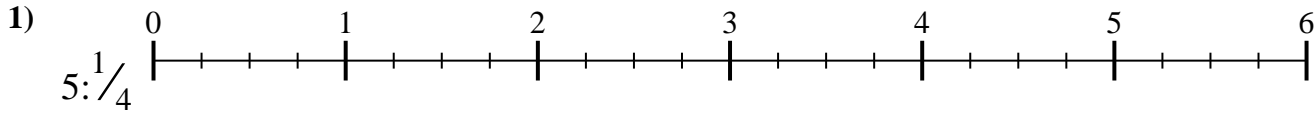


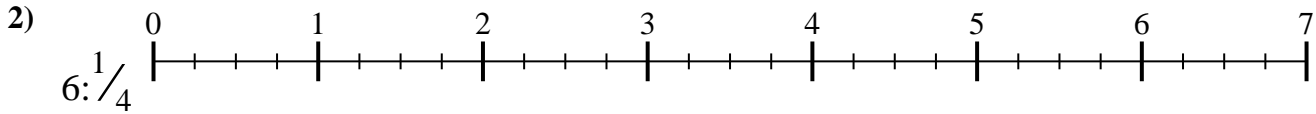


Benutze den Zahlenstrahl um jede Aufgabe zu lösen. Die erste Aufgabe ist bereits als Beispiel markiert.

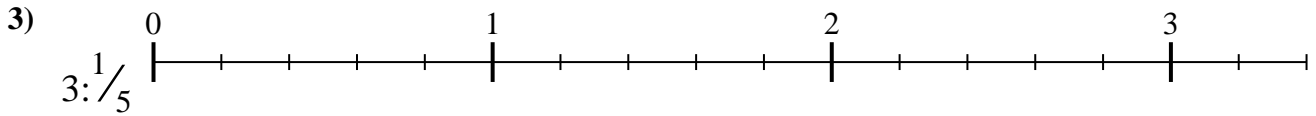
**Antworten**



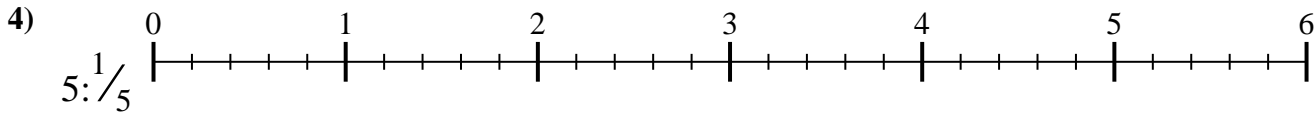
1. \_\_\_\_\_



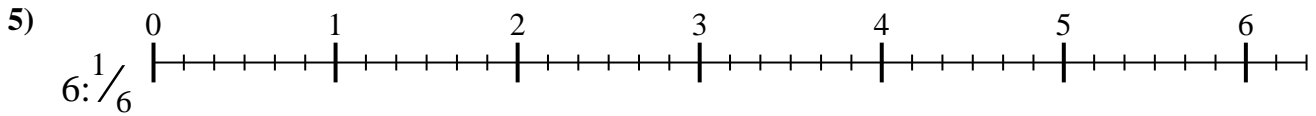
2. \_\_\_\_\_



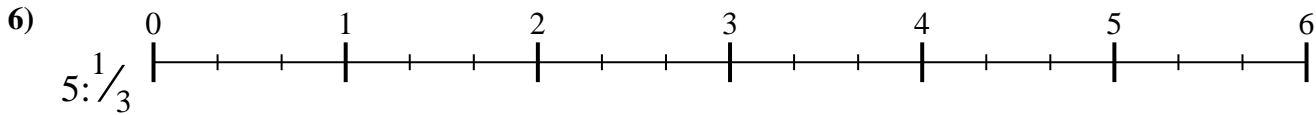
3. \_\_\_\_\_



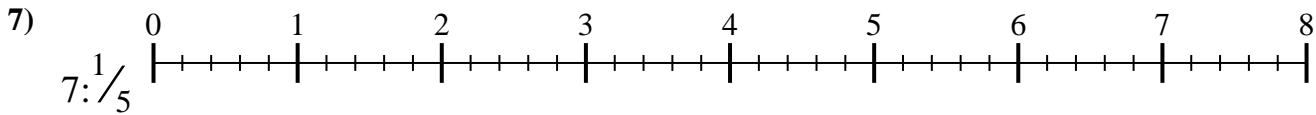
4. \_\_\_\_\_



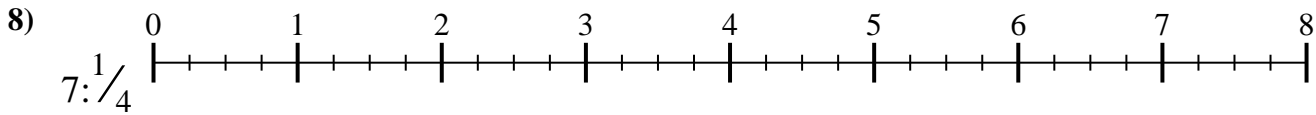
5. \_\_\_\_\_



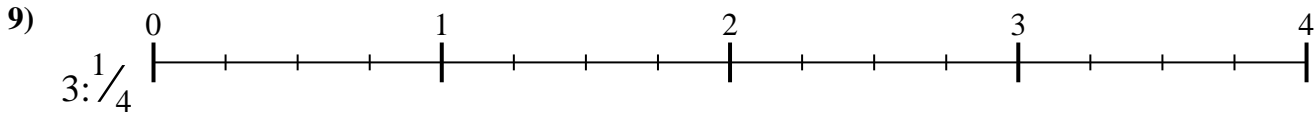
6. \_\_\_\_\_



7. \_\_\_\_\_



8. \_\_\_\_\_

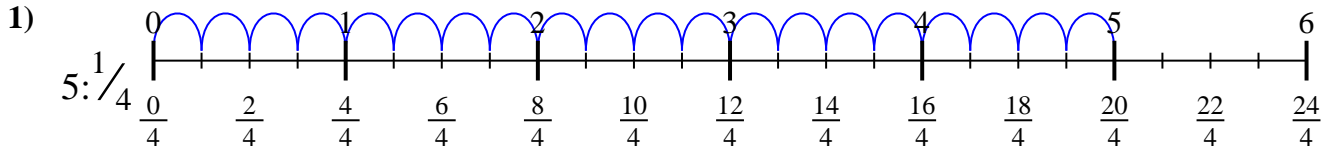


9. \_\_\_\_\_

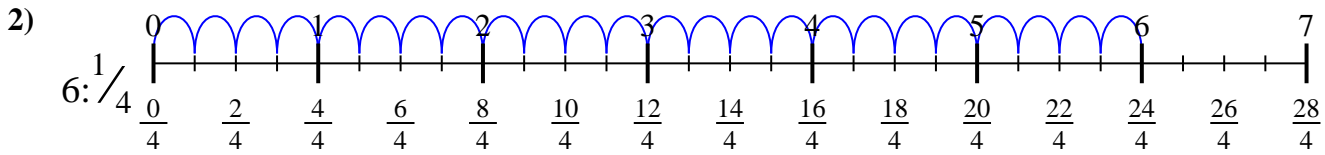


Benutze den Zahlenstrahl um jede Aufgabe zu lösen. Die erste Aufgabe ist bereits als Beispiel markiert.

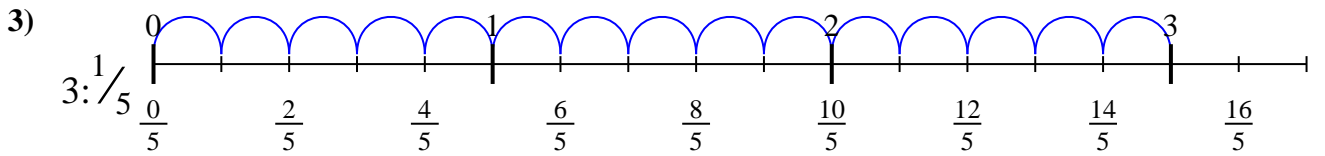
**Antworten**



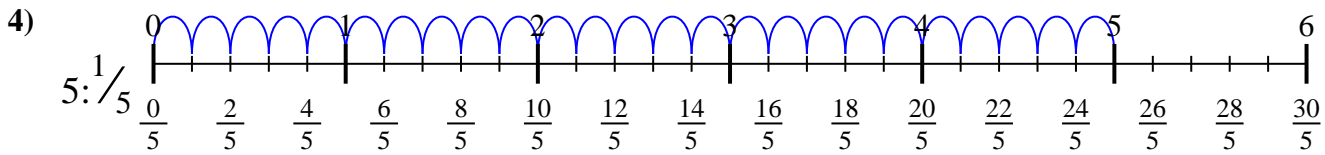
1.  $\frac{20}{1}$



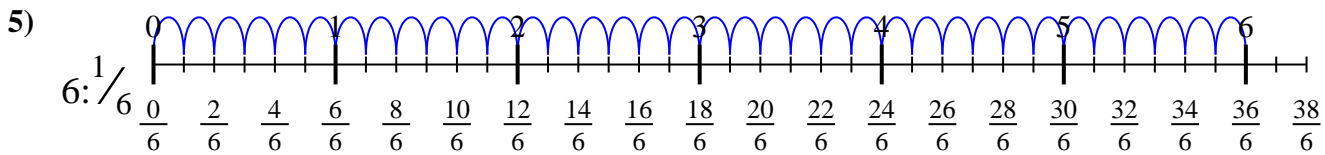
2.  $\frac{24}{1}$



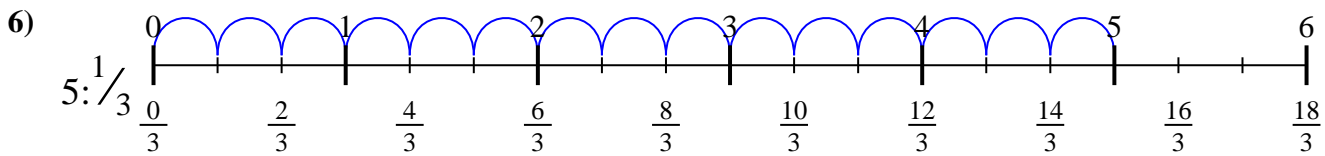
3.  $\frac{15}{1}$



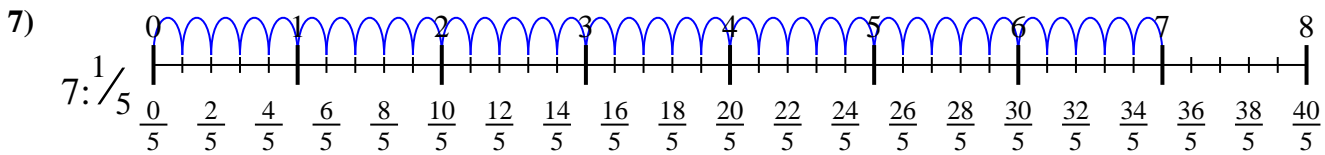
4.  $\frac{25}{1}$



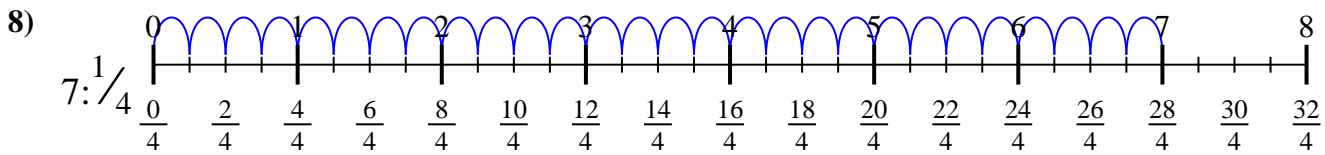
5.  $\frac{36}{1}$



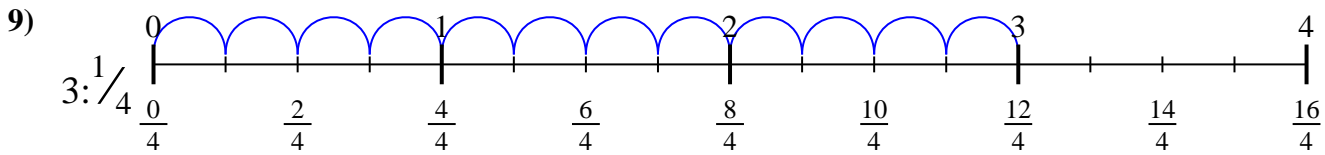
6.  $\frac{15}{1}$



7.  $\frac{35}{1}$



8.  $\frac{28}{1}$



9.  $\frac{12}{1}$



Benutze den Zahlenstrahl um jede Aufgabe zu lösen. Die erste Aufgabe ist bereits als Beispiel markiert.

**Antworten**

$$28 \div 1$$

$$35 \div 1$$

$$15 \div 1$$

$$24 \div 1$$

$$25 \div 1$$

$$20 \div 1$$

$$15 \div 1$$

$$36 \div 1$$

$$12 \div 1$$

1. \_\_\_\_\_

2. \_\_\_\_\_

3. \_\_\_\_\_

4. \_\_\_\_\_

5. \_\_\_\_\_

6. \_\_\_\_\_

7. \_\_\_\_\_

8. \_\_\_\_\_

9. \_\_\_\_\_

