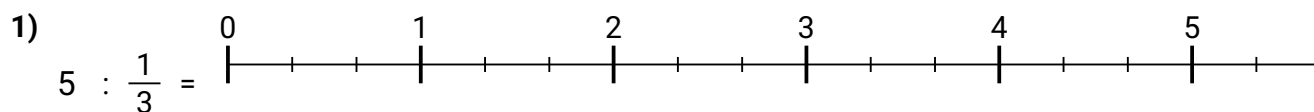


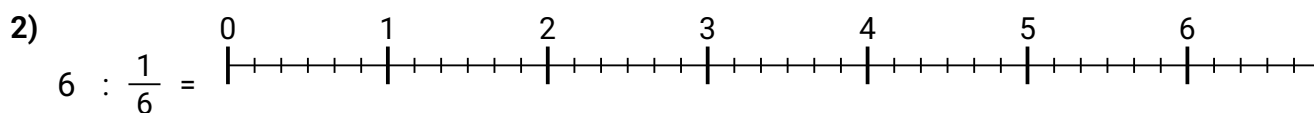


Benutze den Zahlenstrahl um jede Aufgabe zu lösen. Die erste Aufgabe ist bereits als Beispiel markiert.

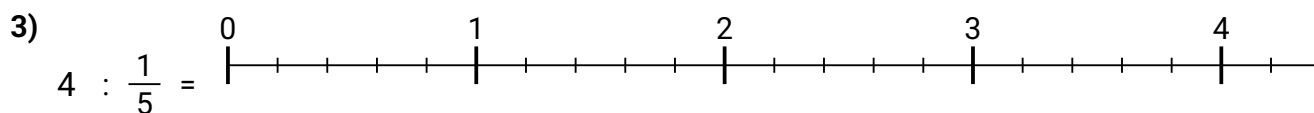
Antworten



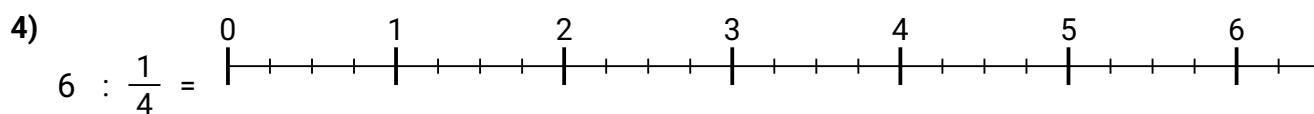
1. \_\_\_\_\_



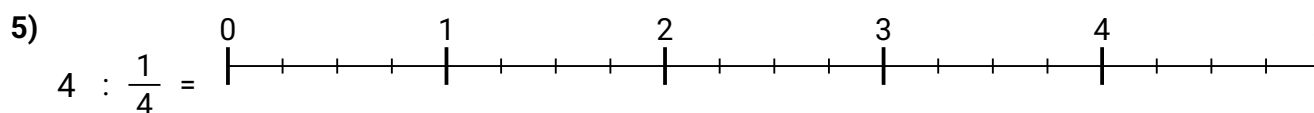
2. \_\_\_\_\_



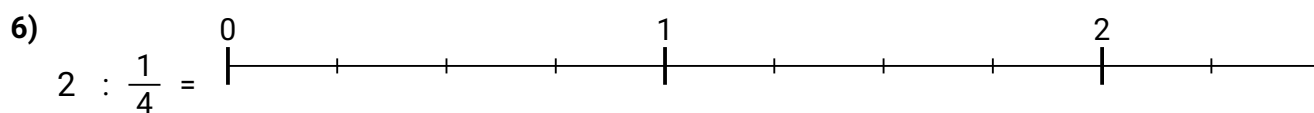
3. \_\_\_\_\_



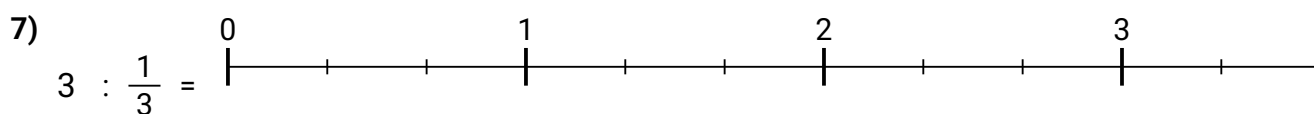
4. \_\_\_\_\_



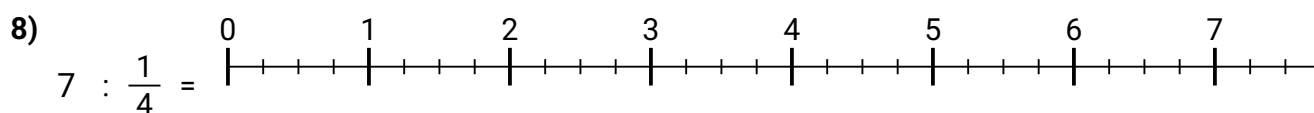
5. \_\_\_\_\_



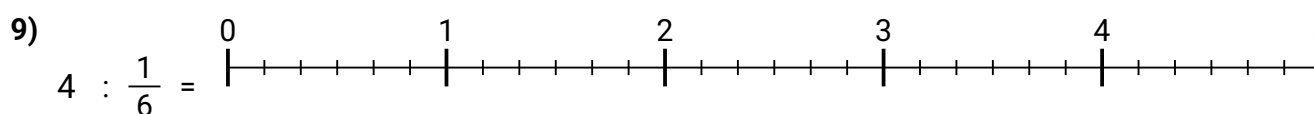
6. \_\_\_\_\_



7. \_\_\_\_\_



8. \_\_\_\_\_

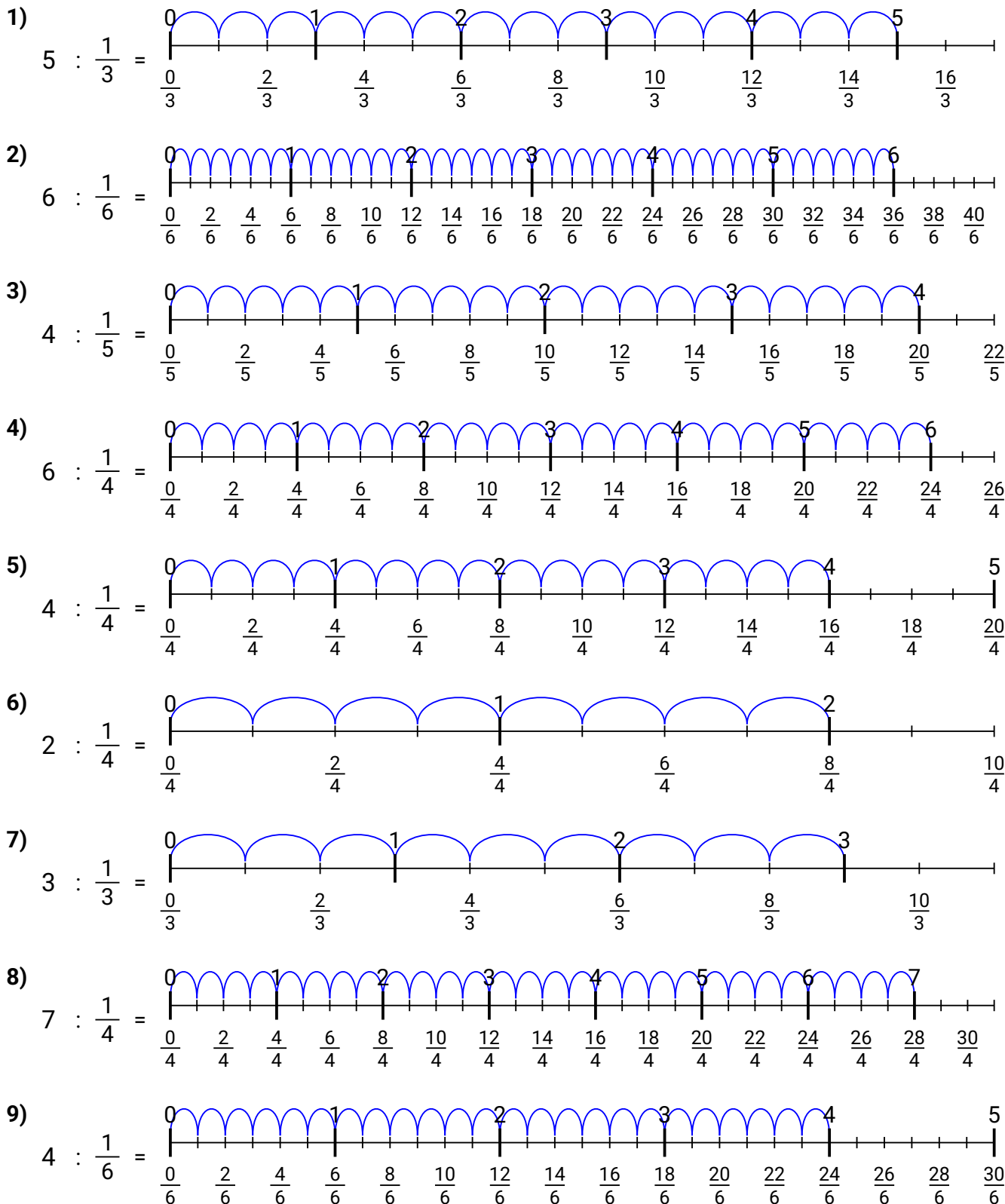


9. \_\_\_\_\_



Benutze den Zahlenstrahl um jede Aufgabe zu lösen. Die erste Aufgabe ist bereits als Beispiel markiert.

Antworten



1.  $\frac{15}{1}$
2.  $\frac{36}{1}$
3.  $\frac{20}{1}$
4.  $\frac{24}{1}$
5.  $\frac{16}{1}$
6.  $\frac{8}{1}$
7.  $\frac{9}{1}$
8.  $\frac{28}{1}$
9.  $\frac{24}{1}$



Benutze den Zahlenstrahl um jede Aufgabe zu lösen. Die erste Aufgabe ist bereits als Beispiel markiert.

Antworten

$$\frac{28}{1}$$

$$\frac{24}{1}$$

$$\frac{8}{1}$$

$$\frac{36}{1}$$

$$\frac{20}{1}$$

$$\frac{9}{1}$$

$$\frac{15}{1}$$

$$\frac{16}{1}$$

$$\frac{24}{1}$$

1. \_\_\_\_\_

2. \_\_\_\_\_

3. \_\_\_\_\_

4. \_\_\_\_\_

5. \_\_\_\_\_

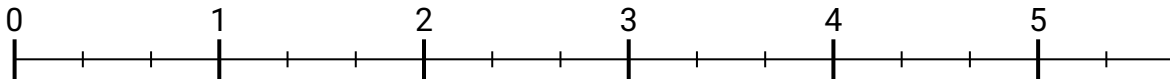
6. \_\_\_\_\_

7. \_\_\_\_\_

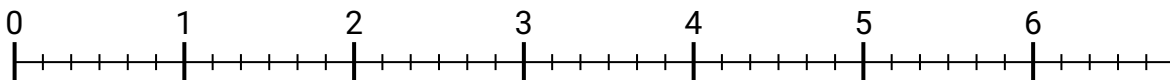
8. \_\_\_\_\_

9. \_\_\_\_\_

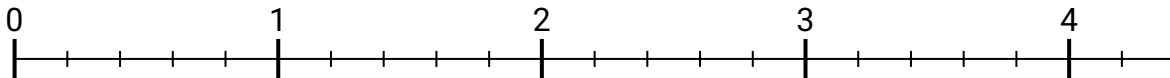
1)  $5 : \frac{1}{3} =$



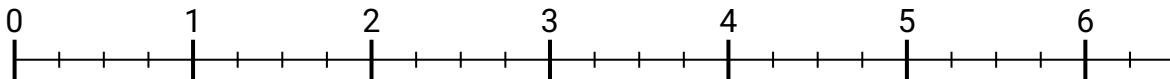
2)  $6 : \frac{1}{6} =$



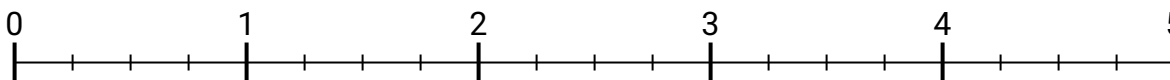
3)  $4 : \frac{1}{5} =$



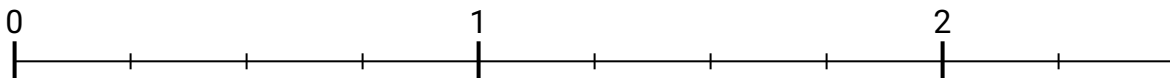
4)  $6 : \frac{1}{4} =$



5)  $4 : \frac{1}{4} =$



6)  $2 : \frac{1}{4} =$



7)  $1 : \frac{1}{4} =$