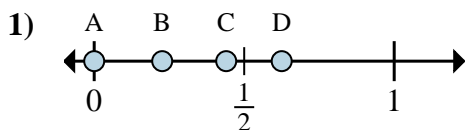


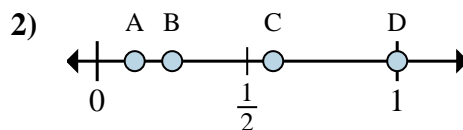


Stelle fest, welcher Buchstabe die richtige Lage auf dem Zahlenstrahl darstellt.

Antworten

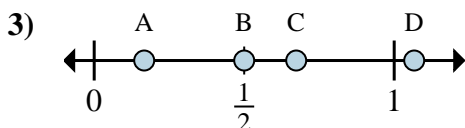
a. Welcher Buchstabe zeigt die richtige Lage von $\frac{0}{8}$

b. Welcher Buchstabe zeigt die richtige Lage von $\frac{5}{8}$



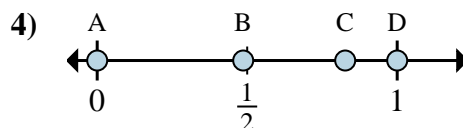
a. Welcher Buchstabe zeigt die richtige Lage von $\frac{1}{8}$

b. Welcher Buchstabe zeigt die richtige Lage von $\frac{2}{8}$



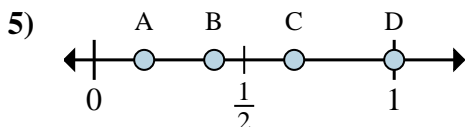
a. Welcher Buchstabe zeigt die richtige Lage von $\frac{1}{6}$

b. Welcher Buchstabe zeigt die richtige Lage von $\frac{3}{6}$



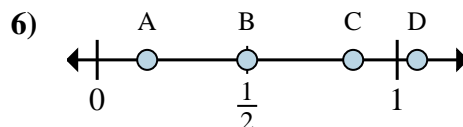
a. Welcher Buchstabe zeigt die richtige Lage von $\frac{0}{2}$

b. Welcher Buchstabe zeigt die richtige Lage von $\frac{2}{2}$



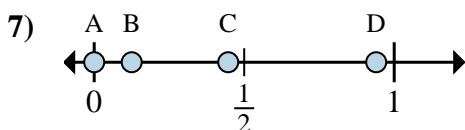
a. Welcher Buchstabe zeigt die richtige Lage von $\frac{3}{3}$

b. Welcher Buchstabe zeigt die richtige Lage von $\frac{2}{3}$



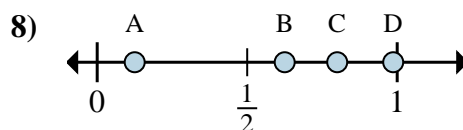
a. Welcher Buchstabe zeigt die richtige Lage von $\frac{3}{6}$

b. Welcher Buchstabe zeigt die richtige Lage von $\frac{1}{6}$



a. Welcher Buchstabe zeigt die richtige Lage von $\frac{0}{8}$

b. Welcher Buchstabe zeigt die richtige Lage von $\frac{1}{8}$



a. Welcher Buchstabe zeigt die richtige Lage von $\frac{5}{8}$

b. Welcher Buchstabe zeigt die richtige Lage von $\frac{1}{8}$

1. _____

2. _____

3. _____

4. _____

5. _____

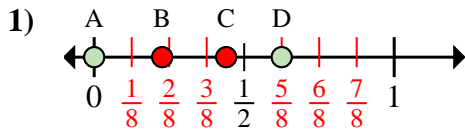
6. _____

7. _____

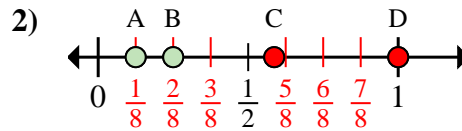
8. _____



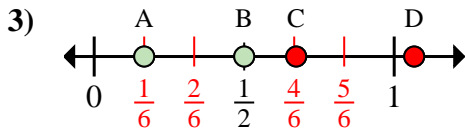
Stelle fest, welcher Buchstabe die richtige Lage auf dem Zahlenstrahl darstellt.

Antworten

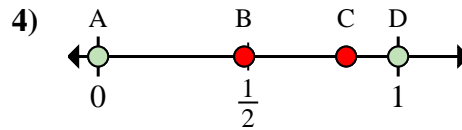
- a. Welcher Buchstabe zeigt die richtige Lage von $\frac{0}{8}$
- b. Welcher Buchstabe zeigt die richtige Lage von $\frac{5}{8}$



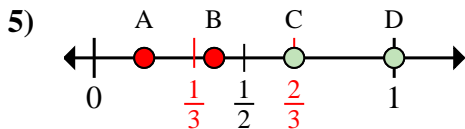
- a. Welcher Buchstabe zeigt die richtige Lage von $\frac{1}{8}$
- b. Welcher Buchstabe zeigt die richtige Lage von $\frac{2}{8}$



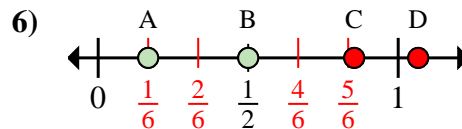
- a. Welcher Buchstabe zeigt die richtige Lage von $\frac{1}{6}$
- b. Welcher Buchstabe zeigt die richtige Lage von $\frac{3}{6}$



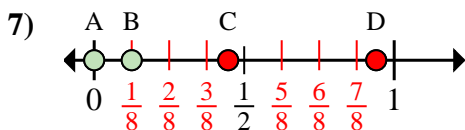
- a. Welcher Buchstabe zeigt die richtige Lage von $\frac{0}{2}$
- b. Welcher Buchstabe zeigt die richtige Lage von $\frac{2}{2}$



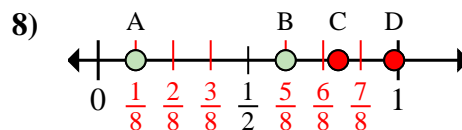
- a. Welcher Buchstabe zeigt die richtige Lage von $\frac{3}{3}$
- b. Welcher Buchstabe zeigt die richtige Lage von $\frac{2}{3}$



- a. Welcher Buchstabe zeigt die richtige Lage von $\frac{3}{6}$
- b. Welcher Buchstabe zeigt die richtige Lage von $\frac{1}{6}$



- a. Welcher Buchstabe zeigt die richtige Lage von $\frac{0}{8}$
- b. Welcher Buchstabe zeigt die richtige Lage von $\frac{1}{8}$



- a. Welcher Buchstabe zeigt die richtige Lage von $\frac{5}{8}$
- b. Welcher Buchstabe zeigt die richtige Lage von $\frac{1}{8}$

1. A D
2. A B
3. A B
4. A D
5. D C
6. B A
7. A B
8. B A